

# 解析学II

近藤弘一

最終更新日：平成21年12月2日

## 目次

<b>1</b>	<b>空間の図形</b>	<b>1</b>
1.1	$\mathbb{R}^n$ の直線	1
1.2	$\mathbb{R}^2$ の直線	2
1.3	$\mathbb{R}^3$ の直線と平面	4
1.4	平行四辺形の面積	7
1.5	$\mathbb{R}^3$ の直交する直線	8
1.6	演習問題 ~ 直線, 平面	10
<b>2</b>	<b>偏微分</b>	<b>12</b>
2.1	2変数関数	12
2.2	極限	13
2.3	連続性	15
2.4	演習問題 ~ 関数, 極限, 連続	18
2.5	多変数関数の微分	19
2.6	偏微分	20
2.7	多変数関数の偏微分	22
2.8	高階偏微分	22
2.9	演習問題 ~ 偏微分	25
2.10	ランダウの記号	26
2.11	1変数関数の微分可能性	29
2.12	全微分可能性	30
2.13	多変数関数の全微分	33
2.14	全微分可能性と偏微分可能性	33
2.15	全微分可能の十分条件	33
2.16	全微分可能性と連続性	35
2.17	演習問題 ~ ランダウの記号, 全微分	36

2.18	1 変数関数の合成関数の微分	37
2.19	2 変数関数 と 1 変数関数の合成関数の微分	37
2.20	2 変数関数 と 2 変数関数の合成関数の微分	41
2.21	$n$ 変数関数と 1 変数関数の合成関数の微分	42
2.22	$n$ 変数関数と $m$ 変数関数の合成関数の微分	43
2.23	方向微分	44
2.24	演習問題 ~ 合成関数の微分	45
2.25	偏微分作用素	46
2.26	ライプニッツ則	47
2.27	座標変換	48
2.28	ヤコビアン	49
2.29	斜交座標	49
2.30	2 次元空間の極座標	53
2.31	3 次元空間の極座標	57
2.32	調和関数	58
2.33	演習問題 ~ 偏微分作用素, 座標変換	59
2.34	テイラー展開	61
2.35	$n$ 変数関数のテイラー展開	65
2.36	平均値の定理	66
2.37	演習問題 ~ テイラー展開	67
2.38	1 変数の陰関数	68
2.39	接線	71
2.40	2 変数の陰関数	73
2.41	陰関数の高階導関数	76
2.42	接平面	77
2.43	演習問題 ~ 陰関数, 接線, 接平面	80
2.44	1 変数関数の極値	82
2.45	2 変数関数の極値	83
2.46	2 変数関数の極大値と極小値の判定	88
2.47	陰関数の極値問題	91
2.48	条件付き極値問題	91
2.49	ラグランジュの未定乗数法	95
2.50	演習問題 ~ 極値	102
<b>3</b>	<b>多重積分</b>	<b>104</b>
3.1	多重積分	104
3.2	累次積分	107
3.3	2 重積分の計算	107
3.4	3 重積分の計算	111
3.5	積分の順番の入れ替え	113
3.6	演習問題 ~ 多重積分, 累次積分, 積分の順序の交換	116
3.7	長方形領域における積分	119

3.8	多重積分の置換積分	120
3.9	斜交座標への置換積分	122
3.10	極座標への置換積分	124
3.11	3次元極座標への置換積分	127
3.12	演習問題 ~ 多重積分の積分変数の変換	130
3.13	体積の計算	131
3.14	曲面積	136
3.15	多重積分の広義積分への応用	137
3.16	演習問題 ~ 体積, 曲面積	140
3.17	有向曲線	142
3.18	線積分	143
3.19	経路の異なる積分路における線積分	144
3.20	周回積分	145
3.21	線積分と多重積分	146
3.22	経路に依存しない線積分	149
3.23	線積分による面積の計算	151
3.24	演習問題 ~ 線積分	153

# 1 空間の図形

## § 1.1 $\mathbb{R}^n$ の直線

**定義 1.1** 位置ベクトル  $\mathbb{R}^n$  の空間の点  $P(x_1, x_2, \dots, x_n)$  に対して, 列ベクトル

$$\overrightarrow{OP} = \begin{bmatrix} x_1 \\ x_2 \\ \vdots \\ x_n \end{bmatrix} = \mathbf{x}$$

を点  $P$  の位置ベクトル (position vector) という. 点  $P$  とベクトル  $\mathbf{x}$  を同一視する. □

**定義 1.2** 直線  $\mathbb{R}^n$  の点  $\mathbf{x}$  がパラメータ  $t \in \mathbb{R}$  を用いて

$$\mathbf{x} = \mathbf{x}(t) = \mathbf{x}_0 + t\mathbf{p}$$

と表されるとする. このとき点  $\mathbf{x}(t)$  の軌跡を直線 (line) という.  $\mathbf{p}$  を方向ベクトル (direction vector) という. □

**定理 1.3** 内分点  $\mathbb{R}^n$  の点  $\mathbf{a}, \mathbf{b}$  を通る直線をむすび, その直線上の点で点  $\mathbf{a}, \mathbf{b}$  からの距離の比が  $t : 1 - t$  となる点  $\mathbf{c}$  は

$$\mathbf{c} = \mathbf{a} + t(\mathbf{b} - \mathbf{a}) = (1 - t)\mathbf{a} + t\mathbf{b}$$

で与えられる.  $0 < t < 1$  のとき点  $\mathbf{c}$  を点  $\mathbf{a}, \mathbf{b}$  の内分点 (internally dividing point) といい,  $t < 0, 1 < t$  のとき外分点 (externally dividing point) という. □

**定義 1.4** 平面  $\mathbb{R}^n$  の点  $\mathbf{x}$  がパラメータ  $t, s \in \mathbb{R}$  を用いて

$$\mathbf{x} = \mathbf{x}(t) = \mathbf{x}_0 + t\mathbf{p} + s\mathbf{q}$$

と表されるとする. このとき点  $\mathbf{x}(t)$  の軌跡を平面 (plane) という. □

## § 1.2 $\mathbb{R}^2$ の直線

**注意 1.5** 鋸直線の方程式 鋸  $xy$  平面内の直線の方程式は

$$y = ax + b$$

と表される． $a$  は傾きを表し， $b$  は  $y$  切片である．また，式変形して

$$\frac{x}{a} + \frac{y}{b} = 1$$

と表すと， $a$  は  $x$  切片であり， $b$  は  $y$  切片を表す．式変形すると様々な意味をもつ．通常，直線の方程式の標準形は，非同次 1 次方程式

$$ax + by + c = 0$$

の形で表す． □

**注意 1.6** 鋸直線の方程式と方向ベクトル 鋸  $xy$  平面内の直線を

$$\frac{x - x_0}{a} = \frac{y - y_0}{b}$$

と表す．このとき，パラメータ  $t$  を用いてベクトルで表記すると

$$\mathbf{x} = \mathbf{x}_0 + t\mathbf{p}, \quad \mathbf{p} = \begin{bmatrix} a \\ b \end{bmatrix}, \quad \mathbf{x} = \begin{bmatrix} x \\ y \end{bmatrix}, \quad \mathbf{x}_0 = \begin{bmatrix} x_0 \\ y_0 \end{bmatrix}$$

とパラメータ表示される． $\mathbf{p}$  は直線の向きを表し，方向ベクトル (direction vector) という． □

**注意 1.7** 鋸直線の方程式と法線ベクトル 鋸  $xy$  平面内の直線を

$$a(x - x_0) + b(y - y_0) = 0$$

と表す．このとき，ベクトルで表記すると

$$\mathbf{n} \cdot (\mathbf{x} - \mathbf{x}_0) = 0, \quad \mathbf{n} = \begin{bmatrix} a \\ b \end{bmatrix}, \quad \mathbf{x} = \begin{bmatrix} x \\ y \end{bmatrix}, \quad \mathbf{x}_0 = \begin{bmatrix} x_0 \\ y_0 \end{bmatrix}$$

と表される． $\mathbf{n} \perp \mathbf{x} - \mathbf{x}_0$  であり， $\mathbf{n}$  は直線に直交するベクトルである． $\mathbf{n}$  を法線ベクトル (normal vector) という． □

**例 1.8** 鋸直線 鋸 2点  $A(2, -3)$ ,  $B(-1, 1)$  を通る直線を考える．この直線の方向ベクトルは

$$\mathbf{p} = \overrightarrow{AB} = \overrightarrow{OB} - \overrightarrow{OA} = \begin{bmatrix} -1 \\ 1 \end{bmatrix} - \begin{bmatrix} 2 \\ -3 \end{bmatrix} = \begin{bmatrix} -3 \\ 4 \end{bmatrix}$$

である．直線の方程式のパラメータ表示は

$$\mathbf{x}(t) = \begin{bmatrix} x(t) \\ y(t) \end{bmatrix} = \mathbf{x}_0 + t\mathbf{p} = \overrightarrow{OA} + t\overrightarrow{AB} = \begin{bmatrix} 2 \\ -3 \end{bmatrix} + t \begin{bmatrix} -3 \\ 4 \end{bmatrix} = \begin{bmatrix} 2 - 3t \\ -3 + 4t \end{bmatrix}$$

である． $x = 2 - 3t, y = -3 + 4t$  で  $t$  を消去すると

$$\frac{x - 2}{-3} = \frac{y + 3}{4}$$

となる．式変形して

$$4(x - 2) + 3(y + 3) = 0$$

とする．この式より，この直線は法線ベクトルが

$$\mathbf{n} = \begin{bmatrix} 4 \\ 3 \end{bmatrix}$$

で点  $(2, -3)$  を通る直線である．さらに式変形して一般形で表すと

$$4x + 3y + 1 = 0$$

である．また，式変形して

$$y = -\frac{4}{3}x - \frac{1}{3}, \quad \frac{x}{-\frac{1}{4}} + \frac{y}{-\frac{1}{3}} = 1$$

とする．直線の傾きは  $-\frac{4}{3}$  であり， $x$  切片は  $-\frac{1}{4}$  で  $y$  切片は  $-\frac{1}{3}$  である．

次にこの直線と直交し点  $A(2, -3)$  を通る直線を考える．法線ベクトル  $\mathbf{n}$  が方向ベクトルとなるので，法線の方程式は

$$\frac{x - 2}{4} = \frac{y + 3}{3}$$

である．式変形すれば

$$3(x - 2) - 4(y + 3) = 0, \quad 3x - 4y - 18 = 0, \quad y = \frac{3}{4}x + \frac{9}{2}, \quad \frac{x}{6} + \frac{y}{-\frac{9}{2}} = 1$$

と書ける．法線は傾きが  $\frac{3}{4}$  で， $x$  切片が  $6$  で， $y$  切片が  $-\frac{9}{2}$  で，法線ベクトルが  $\begin{bmatrix} 3 \\ -4 \end{bmatrix}$  である．

□

## § 1.3 $\mathbb{R}^3$ の直線と平面

### 定義 1.9

直線  $xyz$  空間における直線は、パラメータ  $t$  を用いてベクトルで表すと、

$$\mathbf{x}(t) = \mathbf{x}_0 + t\mathbf{p}, \quad \mathbf{x} = \begin{bmatrix} x \\ y \\ z \end{bmatrix}, \quad \mathbf{x}_0 = \begin{bmatrix} x_0 \\ y_0 \\ z_0 \end{bmatrix}, \quad \mathbf{p} = \begin{bmatrix} a \\ b \\ c \end{bmatrix}$$

と書ける。 $\mathbf{p}$  は方向ベクトルである。成分で表すと、 $\mathbb{R}^3$  の直線の方程式

$$\frac{x - x_0}{a} = \frac{y - y_0}{b} = \frac{z - z_0}{c}$$

が得られる。

□

### 定義 1.10

平面の方程式  $xyz$  空間内の平面の方程式は

$$a(x - x_0) + b(y - y_0) + c(z - z_0) = 0$$

と表される。ベクトルで表記すると

$$\mathbf{n} \cdot (\mathbf{x} - \mathbf{x}_0) = 0$$

となる。 $\mathbf{n}$  を法線ベクトルという。

□

### 注意 1.11

平面、直線  $x, y, z$  に関する非同次 1 次方程式の一般形は

$$ax + by + cz + d = 0$$

である。この方程式は  $xyz$  空間内の法線ベクトルが  $\begin{bmatrix} a & b & c \end{bmatrix}^T$  で点  $(0, 0, -d/c)$  を通る平面を表す。非同次 1 次方程式を 2 本の方程式で連立すると

$$a_1x + b_1y + c_1z + d_1 = 0, \quad a_2x + b_2y + c_2z + d_2 = 0$$

である。方程式のそれぞれは法線ベクトルが  $\begin{bmatrix} a_1 & b_1 & c_1 \end{bmatrix}^T$  と  $\begin{bmatrix} a_2 & b_2 & c_2 \end{bmatrix}^T$  の平面を表す。よって、この連立方程式の解集合は、2 つの平面の共有点の集合である直線となる。

□

### 例 1.12

直線 2 点  $A(1, 1, -2)$ ,  $B(3, 0, 1)$  を通る  $xyz$  空間内の直線を考える。この直線の方向ベクトルは

$$\mathbf{p} = \overrightarrow{AB} = \overrightarrow{OB} - \overrightarrow{OA} = \begin{bmatrix} 3 \\ 0 \\ 1 \end{bmatrix} - \begin{bmatrix} 1 \\ 1 \\ -2 \end{bmatrix} = \begin{bmatrix} 2 \\ -1 \\ 3 \end{bmatrix}$$

である．直線のパラメータ表示は

$$\mathbf{x}(t) = \begin{bmatrix} x(t) \\ y(t) \\ z(t) \end{bmatrix} = \mathbf{x}_0 + t\mathbf{p} = \overrightarrow{OA} + t\overrightarrow{AB} = \begin{bmatrix} 1 \\ 1 \\ -2 \end{bmatrix} + t \begin{bmatrix} 2 \\ -1 \\ 3 \end{bmatrix} = \begin{bmatrix} 1+2t \\ 1-t \\ -2+3t \end{bmatrix}$$

となる． $x = 1 + 2t, y = 1 - t, z = -2 + 3t$  で  $t$  を消去すると，直線の方程式

$$\frac{x-1}{2} = \frac{y-1}{-1} = \frac{z+2}{3}$$

を得る．

□

**例 1.13** 鋸平面鋸 3点  $A(1, 1, -2), B(3, 0, 1), C(2, 1, -1)$  を通る  $xyz$  空間内の平面を考える．法線ベクトルは

$$\mathbf{n} = \overrightarrow{AB} \times \overrightarrow{AC} = \begin{bmatrix} 2 \\ -1 \\ 3 \end{bmatrix} \times \begin{bmatrix} 1 \\ 0 \\ 1 \end{bmatrix} = \begin{vmatrix} -1 & 0 \\ 3 & 1 \end{vmatrix} \mathbf{e}_x + \begin{vmatrix} 3 & 1 \\ 2 & 1 \end{vmatrix} \mathbf{e}_y + \begin{vmatrix} 2 & 1 \\ -1 & 0 \end{vmatrix} \mathbf{e}_z = \begin{bmatrix} -1 \\ 1 \\ 1 \end{bmatrix}$$

であり，点  $A(1, 1, -2)$  を通るので， $\mathbf{n} \cdot (\mathbf{x} - \overrightarrow{OA}) = 0$  より平面の方程式

$$-(x-1) + (y-1) + (z+2) = 0$$

を得る．一般形で書けば

$$x - y - z - 2 = 0$$

となる．さらに変形して

$$\frac{x}{2} + \frac{x}{-2} + \frac{x}{-2} = 1$$

とする．平面と  $x$  軸， $y$  軸， $z$  軸の交点はそれぞれ  $x = 2, y = -2, z = -2$  である．

□

**例 1.14** 鋸平面鋸 3点  $A(1, 1, -2), B(3, 0, 1), C(2, 1, -1)$  を通る  $xyz$  空間内の平面を考える．平面の方程式の一般形は

$$ax + by + cz + 1 = 0$$

であるから，これに各点の座標を代入すると連立方程式

$$a + b - 2c + 1 = 0, \quad 3a + c + 1 = 0, \quad 2a + b - c + 1 = 0$$

を得る．この方程式の解は

$$(a, b, c) = \left( -\frac{1}{2}, \frac{1}{2}, \frac{1}{2} \right)$$

である．よって平面の方程式は  $x - y - z - 2 = 0$  となる．

□



**例 1.15** 鋸直線鋸 連立方程式

$$x - y - z - 2 = 0, \quad 2x + y - z - 5 = 0$$

で定まる直線を考える．この直線は2つの平面の共有点である．第2式から第1式を引いて  $z$  を消去すると

$$x + 2y - 3 = 0$$

であり，第1式と第2式を足して  $y$  を消去すると

$$3x - 2z - 7 = 0$$

となる．これらより

$$x = \frac{y - \frac{3}{2}}{-\frac{1}{2}} = \frac{z + \frac{7}{2}}{\frac{3}{2}} \Rightarrow \frac{x}{2} = \frac{y - \frac{3}{2}}{-1} = \frac{z + \frac{7}{2}}{3}$$

を得る．直線は点  $(0, \frac{3}{2}, -\frac{7}{2})$  を通り，方向ベクトル  $[2 \ -1 \ 3]^T$  の直線である．また，パラメータ表示すると

$$x = 2t, \quad y = -t + \frac{3}{2}, \quad z = 3t - \frac{7}{2}$$

である． $t$  は任意であるから， $t$  を  $t + \frac{1}{2}$  と置き換えると，

$$x = 2t + 1, \quad y = -t + 1, \quad z = 3t - 2$$

となり，式が簡単となる．このとき平面の方程式は

$$\frac{x - 1}{2} = \frac{y - 1}{-1} = \frac{z + 2}{3}$$

となる．直線は点  $(1, 1, -2)$  も通る．

□

**例 1.16** 鋸直線鋸 連立方程式

$$x - y - z - 2 = 0, \quad 2x + y - z - 5 = 0$$

で定まる直線を考える．この直線は2つの平面の解集合であるから，連立方程式

$$\begin{bmatrix} 1 & -1 & -1 \\ 2 & 1 & -1 \end{bmatrix} \begin{bmatrix} x \\ y \\ z \end{bmatrix} = \begin{bmatrix} 2 \\ 5 \end{bmatrix}$$

を解く．拡大係数行列を簡約化すると

$$\begin{bmatrix} 1 & -1 & -1 & 2 \\ 2 & 1 & -1 & 5 \end{bmatrix} \xrightarrow{\text{簡約化}} \begin{bmatrix} 1 & 0 & -2/3 & 7/3 \\ 0 & 1 & 1/3 & 1/3 \end{bmatrix}$$

となる．このとき方程式は

$$x - \frac{2}{3}z = \frac{7}{3}, \quad y + \frac{1}{3}z = \frac{1}{3}$$

と変形される．階数が 2 であるから，任意定数は 1 個であるので，任意定数  $t$  を  $z = t$  とおくと，

$$x = \frac{2}{3}t + \frac{7}{3}, \quad y = -\frac{1}{3}t + \frac{1}{3}, \quad z = t$$

を得る． $t$  は任意定数であるから， $t$  を  $3t - 2$  と置き換えると，

$$x = 2t + 1, \quad y = -t + 1, \quad z = 3t - 2$$

を得る． $t$  を消去すると平面の方程式

$$\frac{x-1}{2} = \frac{y-1}{-1} = \frac{z+2}{3}$$

を得る．

□

## § 1.4 平行四辺形の面積

**定理 1.17** 鋭角平行四辺形の面積は 点  $O, A(a_1, a_2), B(b_1, b_2), D(a_1 + b_1, a_2 + b_2)$  からなる平行四辺形  $OADB$  の面積は

$$S = \text{abs} \begin{pmatrix} a_1 & b_1 \\ a_2 & b_2 \end{pmatrix}$$

で与えられる．

(証明) まず，

$$\theta = \angle AOB, \quad \mathbf{a} = \begin{bmatrix} a_1 \\ a_2 \end{bmatrix}, \quad \mathbf{b} = \begin{bmatrix} b_1 \\ b_2 \end{bmatrix}$$

とおく．すると，

$$S = \|\mathbf{a}\| \|\mathbf{b}\| \sin \theta = \|\mathbf{a}\| \|\mathbf{b}\| \sqrt{1 - \cos^2 \theta} = \sqrt{\|\mathbf{a}\|^2 \|\mathbf{b}\|^2 - (\|\mathbf{a}\| \|\mathbf{b}\| \cos \theta)^2} \quad (1)$$

$$= \sqrt{(\mathbf{a} \cdot \mathbf{a})(\mathbf{b} \cdot \mathbf{b}) - (\mathbf{a} \cdot \mathbf{b})^2} = \sqrt{(a_1^2 + a_2^2)(b_1^2 + b_2^2) - (a_1 b_1 + a_2 b_2)^2} \quad (2)$$

$$= \sqrt{a_1^2 b_2^2 - 2a_1 a_2 b_1 b_2 + a_2^2 b_1^2} = \sqrt{(a_1 b_2 - a_2 b_1)^2} = |a_1 b_2 - a_2 b_1| \quad (3)$$

$$= \text{abs} \begin{pmatrix} a_1 & b_1 \\ a_2 & b_2 \end{pmatrix} \quad (4)$$

と得られる．

□

## § 1.5 $\mathbb{R}^3$ の直交する直線

**例 1.18**

錐直交する直線錐  $\mathbb{R}^3$  の直線  $l: \frac{x-1}{2} = \frac{y-3}{-1} = \frac{z-2}{3}$  と直交し点  $A(1, 2, 3)$  を通る直線の方程式を求める．求めたい直線を  $m$  とする． $m$  の方向ベクトルを  $\mathbf{q} = [\alpha \ \beta \ \gamma]^T$  とする．これは直線  $l$  の方向ベクトル  $\mathbf{p} = [2 \ -1 \ 3]^T$  と直交するので， $\mathbf{p} \cdot \mathbf{q} = 0$  より，

$$(\quad) \quad 2\alpha - \beta + 3\gamma = 0$$

が成り立つ． $m$  は点  $A(1, 2, 3)$  を通り方向ベクトル  $\mathbf{q}$  であるから， $m$  をパラメータ表示すると

$$(\quad) \quad x = \alpha s + 1, \quad y = \beta s + 2, \quad z = \gamma s + 3$$

となる． $l$  をパラメータ表示すると

$$(\quad) \quad x = 2t + 1, \quad y = -t + 3, \quad z = 3t + 2$$

となる． $m$  と  $l$  の交点  $C$  を求める． $(\quad)$ ， $(\quad)$  より，連立方程式

$$\begin{bmatrix} 2 & -\alpha \\ -1 & -\beta \\ 3 & -\gamma \end{bmatrix} \begin{bmatrix} t \\ s \end{bmatrix} = \begin{bmatrix} 0 \\ -1 \\ 1 \end{bmatrix}$$

を得る．拡大係数行列を簡約化すると，

$$\begin{bmatrix} 2 & \alpha & 0 \\ 1 & \beta & 1 \\ 3 & \gamma & 1 \end{bmatrix} \xrightarrow{\text{簡約化}} \begin{bmatrix} 1 & 0 & \alpha/(\alpha+2\beta) \\ 0 & 1 & 2/(\alpha+2\beta) \\ 0 & 0 & 2(\alpha-\beta-\gamma)/(\alpha+2\beta) \end{bmatrix}$$

となる．連立方程式が一意的な解をもつためには，第 2 式の第 (3, 3) 成分が 0 であれば良いので，

$$(\quad) \quad \alpha - \beta - \gamma = 0$$

を得る． $(\quad)$ ， $(\quad)$  より， $\alpha, \beta, \gamma$  の連立方程式をつくりそれを簡約化すると，

$$\alpha = -4\gamma, \quad \beta = -5\gamma$$

を得る． $\gamma$  は任意であるから適当に  $\gamma = 1$  とすると， $\alpha = -4$ ， $\beta = -5$  である．よって， $t = \frac{2}{7}$ ， $s = \frac{1}{7}$  である．交点  $C$  の座標は  $\left(\frac{11}{7}, \frac{19}{7}, \frac{20}{7}\right)$  と求まる．また， $m$  の方向ベクトルは  $\mathbf{q} = [-4 \ -5 \ 1]^T$  と求まる．よって， $m: \frac{x-1}{-4} = \frac{y-2}{-5} = \frac{z-3}{1}$  と得られる．  $\square$

**例 1.19**

錐直交する直線錐  $\mathbb{R}^3$  の直線  $l: \frac{x-1}{2} = \frac{y-3}{-1} = \frac{z-2}{3}$  と直交し点  $A(1, 2, 3)$  を通る直線の方程式を求める．求めたい直線を  $m$  とする．点  $A$  から直線  $l$  への正射影を  $C$  とする． $l$  上の適当な点  $B(1, 3, 2)$  をとると， $C$  は

$$\vec{OC} = \vec{OB} + \vec{BC} = \vec{OB} + \left( \frac{\vec{BA} \cdot \mathbf{p}}{\|\mathbf{p}\|} \right) \frac{\mathbf{p}}{\|\mathbf{p}\|} = \vec{OB} + \frac{\vec{BA} \cdot \mathbf{p}}{\|\mathbf{p}\|^2} \mathbf{p} = \frac{1}{7} \begin{pmatrix} 11 \\ 19 \\ 20 \end{pmatrix}$$

により求まる． $m$  は直線  $AC$  より求まる．  $\square$

**例 1.20** 錐直交する直線錐  $\mathbb{R}^3$  の直線  $l: \frac{x-1}{2} = \frac{y-3}{-1} = \frac{z-2}{3}$  と直交し点  $A(1, 2, 3)$  を通る直線の方程式を求める．求めたい直線を  $m$  とする．点  $A$  から直線  $l$  への正射影を  $C$  とする．直線  $l$  上の動点  $P$  の座標は

$$x = 2t + 1, \quad y = -t + 3, \quad z = 3t + 2$$

である．線分  $AP$  の長さが最短になるとき， $P = C$  である．

$$\begin{aligned} \|\overrightarrow{AP}\|^2 &= (2t + 1 - 1)^2 + (-t + 3 - 2)^2 + (3t + 2 - 3)^2 = 4t^2 + (t - 1)^2 + (3t - 1)^2 \\ &= 14t^2 - 8t + 2 = 14 \left( t - \frac{2}{7} \right)^2 + \frac{6}{7} \end{aligned}$$

より， $t = \frac{2}{7}$  のとき最小になる． $m$  は直線  $AC$  より求まる． □

**例 1.21** 錐直交する直線錐  $\mathbb{R}^3$  の直線  $l: \frac{x-1}{2} = \frac{y-3}{-1} = \frac{z-2}{3}$  と直交し点  $A(1, 2, 3)$  を通る直線の方程式を求める．求めたい直線を  $m$  とする．点  $A$  から直線  $l$  への正射影を  $C$  とする．直線  $l$  と直交し点  $A$  を通る平面  $\alpha$  を考える． $\alpha$  と  $l$  の交点が  $C$  となる． $\alpha$  の法線ベクトルは  $l$  の方向ベクトルであり， $\alpha$  は点  $A$  を通るので， $\alpha$  の方程式は

$$( ) \quad 2(x - 1) - (y - 2) + 3(z - 3) = 0$$

である．直線  $l$  のパラメータ表示は

$$( ) \quad x = 2t + 1, \quad y = -t + 3, \quad z = 3t + 2$$

である． $\alpha$  と  $l$  の交点を求める．( ) を ( ) へ代入すると  $t = \frac{2}{7}$  を得る． $m$  は直線  $AC$  より求まる． □

## § 1.6 演習問題 ~ 直線, 平面

**問 1.22** 錐  $\mathbb{R}^2$  の直線錐 次の  $\mathbb{R}^2$  の直線に関して, 傾き,  $y$  切片,  $x$  切片, 方向ベクトル, 法線ベクトルを求めよ. また, この直線に直交し原点を通る法線を求めよ.

- (1) 2点  $(2, -3), (-1, 1)$  を通る直線 (2)  $y = 3x - 2$  (3)  $3x - 2y + 5 = 0$  (4)  $\frac{x-1}{3} = \frac{y+2}{2}$   
 (5)  $\frac{x}{3} - \frac{y}{2} = 1$  □

**問 1.23** 錐  $\mathbb{R}^2$  の直線錐 次の  $\mathbb{R}^2$  の直線をパラメータ表示で表せ. また, 直線の方向ベクトル, 法線ベクトル,  $x$  切片,  $y$  切片, 傾きを求めよ. さらには, この直線に直交し点  $(1, 2)$  を通る法線を求めよ.

- (1) 点  $(1, -1), (2, 3)$  を通る直線 (2) 点  $(0, 2), (1, 0)$  を通る直線  
 (3) 点  $(-3, 1), (4, 2)$  を通る直線 (4) 点  $(2, 1), (5, -1)$  を通る直線  
 (5)  $\frac{x-2}{2} = \frac{y-1}{4}$  (6)  $\frac{x}{-1} = \frac{y+2}{-3}$  (7)  $\frac{x-5}{-3} = \frac{y-3}{5}$   
 (8)  $\frac{x+3}{2} = \frac{y-1}{-1}$  (9)  $y = 2x - 1$  (10)  $y = -2x + 3$  (11)  $y = 4x - 3$  (12)  $y = -3x - 5$   
 (13)  $3x + 2y + 5 = 0$  (14)  $-x + y + 1 = 0$  (15)  $2x - y - 2 = 0$  (16)  $-x - 3y + 1 = 0$   
 (17)  $\frac{x}{2} + \frac{y}{3} = 1$  (18)  $\frac{x}{-2} + \frac{y}{4} = 1$  (19)  $\frac{x}{-3} + \frac{y}{-5} = 1$  (20)  $\frac{x}{4} + \frac{y}{-3} = 1$  □

**問 1.24** 錐  $\mathbb{R}^3$  の平面錐 次の  $\mathbb{R}^3$  の平面の法線ベクトルを求めよ.

- (1)  $2x - y + 3z + 4 = 0$  (2) 3点  $(1, 2, -1), (0, 2, 1), (-1, 0, 1)$  を通る平面 □

**問 1.25** 錐  $\mathbb{R}^3$  の平面錐 次の 3点を通る  $\mathbb{R}^3$  の平面の方程式を求めよ.

- (1) 点  $(1, 1, -2), (3, 0, 1), (2, 1, -1)$  (2) 点  $(0, 1, 2), (3, -1, 0), (2, 4, 0)$   
 (3) 点  $(0, 1, 2), (-1, 2, -1), (2, 0, -3)$  (4) 点  $(4, 0, 2), (2, -1, 0), (2, 1, 1)$  □

**問 1.26** 錐  $\mathbb{R}^3$  の直線錐 次の  $\mathbb{R}^3$  の直線の方向ベクトルを求めよ.

- (1) 2点  $(1, 1, -2), (3, 0, 1)$  を通る直線  
 (2)  $2x + 3y = 1, 3y + 4z = 2$  (3)  $2x + 3y - z = 1, x - 2y + z = -1$  □

**問 1.27** 錐  $\mathbb{R}^3$  の直線錐 次の 2点を通る  $\mathbb{R}^3$  の直線をパラメータ表示と成分表示で表せ.

- (1) 点  $(1, 1, -2), (3, 0, 1)$  (2) 点  $(1, 2, -1), (0, 2, 1)$  (3) 点  $(0, 1, 2), (-1, 2, -1)$   
 (4) 点  $(4, 0, 2), (2, -1, 0)$  (5) 点  $(0, 1, 2), (3, -1, 0)$  □

**問 1.28** 錐  $\mathbb{R}^3$  の直線錐 次の  $\mathbb{R}^3$  の直線をパラメータ表示せよ.

- (1)  $x - y - z - 2 = 0, 2x + y - z - 5 = 0$  (2)  $x - y + 2z - 2 = 0, 3x + 2y - z + 5 = 0$  □

**問 1.29** 錐平面と直交する直線錐 次の  $\mathbb{R}^3$  の平面と直交し点  $(1, 2, 3)$  を通る直線の方程式を求めよ. また, その交点を求めよ.

- (1)  $2x + 3y + 1 = 0$  (2)  $-x + 2y - 2 = 0$  (3)  $3x - y + 2 = 0$  (4)  $-3x - 2y + 3 = 0$  □

**問 1.30** 2直線が直交する直線 2次 の  $\mathbb{R}^3$  の直線と直交し点  $(1, 2, 3)$  を通る直線の方程式を求めよ . また , その交点を求めよ .

(1)  $\frac{x-1}{2} = \frac{y-3}{-1} = \frac{z-2}{3}$     (2)  $\frac{x+2}{-1} = \frac{y-1}{2} = \frac{z}{-2}$

□

**問 1.31** 2直線が平行四辺形の面積 2次 の 4 点からなる平行四辺形の面積を求めよ .

(1)  $(0, 0), (1, 3), (3, 4), (2, 1)$     (2)  $(0, 0), (-3, 1), (-1, 3), (2, 2)$   
(3)  $(-2, 0), (0, 2), (3, 0), (1, -2)$

□

## 2 偏微分

### § 2.1 2変数関数

**定義 2.1** 2変数関数 変数  $x, y$  の値に対応して変数  $z$  の値が定まるとき,

$$z = f(x, y)$$

と表記し,  $f$  を 2 変数関数という. このとき  $x, y$  を独立変数 (independent variable),  $z$  を従属変数 (dependent variable) という. □

**例 2.2** 2変数関数の具体例 関数  $f(x, y)$  が

$$f(x, y) = x^2 + 5xy + 2y^2$$

と与えられるとき,  $f(2, -3)$  と表記するときは

$$f(2, -3) = (2)^2 + 5(2)(-3) + 2(-3)^2 = -8$$

を意味する. □

**定義 2.3** 定義域 関数  $z = f(x, y)$  の独立変数の組  $(x, y)$  がとりうる領域を定義域 (domain) という. 定義域  $D$  は  $xy$  平面上の集合である. 境界を含む場合を閉領域 (closed domain) と呼び, 境界を含まない場合を開領域 (open domain) と呼ぶ. □

**例 2.4** 定義域の具体例 境界を含む長方形領域

$$D = \{ (x, y) \mid a \leq x \leq b, c \leq y \leq d \}$$

は閉領域である. 境界を含まない長方形領域

$$D = \{ (x, y) \mid a < x < b, c < y < d \}$$

は開領域である. □

**例 2.5** 定義域の具体例 原点を中心とする半径  $a$  の円の境界とその内部の領域

$$D = \{ (x, y) \mid x^2 + y^2 \leq a^2 \}$$

は閉領域である. 原点を中心とする半径  $a$  の円の内部の領域

$$D = \{ (x, y) \mid x^2 + y^2 < a^2 \}$$

は開領域である. □

**例 2.6** 実平面 実 2 次元平面

$$\mathbb{R}^2 = \{ (x, y) \mid -\infty < x < \infty, -\infty < y < \infty \}$$

は開領域である .

□

**注意 2.7** 2 変数関数のグラフ 定義域  $D$  は  $\mathbb{R}^2$  平面内の集合である . 一方 ,  $z = f(x, y)$  をみたす点  $(x, y, z)$  の集合は 3 次元空間  $\mathbb{R}^3$  内の曲面を表す . この曲面を関数  $z = f(x, y)$  のグラフという .

□

## § 2.2 極限

**定義 2.8** 極限 関数  $f(x, y)$  において , 定義域内の点  $P(x, y)$  を点  $A(a, b)$  に近づけるとする . ただし  $(x, y) \neq (a, b)$  とする . このとき , 近づけ方に依らず  $f(x, y)$  が同じ 1 つの値  $c$  に近づけば ,  $f(x, y)$  は極限 (limit)  $c$  が存在する , または ,  $f(x, y)$  は  $c$  に収束する (convergent) といふ ,

$$\lim_{(x,y) \rightarrow (a,b)} f(x, y) = c,$$

$$\lim_{x \rightarrow a, y \rightarrow b} f(x, y) = c,$$

$$\lim_{P \rightarrow A} f(x, y) = c,$$

$$f(x, y) \rightarrow c \quad (x \rightarrow a, y \rightarrow b)$$

と表記する .

□

**注意 2.9** 極限  $A \in D$  とは限らない .

□

**注意 2.10** 極限 近づけ方によって ,  $f(x, y)$  の値が異なるときは , 極限が存在しない .

□

**例 2.11** 極限 関数

$$f(x, y) = \frac{x^2}{x^2 + y^2}, \quad D = \{ (x, y) \mid (x, y) \neq (0, 0) \}$$

の原点  $(0, 0)$  への極限を考える .  $(0, 0) \notin D$  であることに注意する .

(a)  $x$  軸 ( $y = 0$  の直線) に沿って近づける場合 .  $y = 0$  を代入した後に  $x \rightarrow 0$  の極限を考える . このとき ,

$$\lim_{y=0, x \rightarrow 0} f(x, y) = \lim_{x \rightarrow 0} f(x, 0) = \lim_{x \rightarrow 0} \frac{x^2}{x^2 + 0} = \lim_{x \rightarrow 0} 1 = 1$$

が成り立つ .



(b)  $y$  軸 ( $x = 0$  の直線) に沿って近づける場合 .  $x = 0$  を代入した後に  $y \rightarrow 0$  の極限を考える . このとき ,

$$\lim_{x=0, y \rightarrow 0} f(x, y) = \lim_{y \rightarrow 0} f(0, y) = \lim_{y \rightarrow 0} \frac{0}{0 + y^2} = \lim_{y \rightarrow 0} 0 = 0$$

が成り立つ .

(c) 直線  $y = mx$  に沿って近づける場合 . ただし ,  $m$  は任意の実数とする .  $y = mx$  を代入した後に  $x \rightarrow 0$  の極限を考える . このとき ,

$$\lim_{y=mx, x \rightarrow 0} f(x, y) = \lim_{x \rightarrow 0} f(x, mx) = \lim_{x \rightarrow 0} \frac{x^2}{x^2 + m^2 x^2} = \lim_{x \rightarrow 0} \frac{1}{1 + m^2} = \frac{1}{1 + m^2}$$

が成り立つ .

(a), (b), (c) より , 近づけ方が異なれば  $f(x, y)$  が近づく値も変わるので , 極限  $\lim_{(x, y) \rightarrow (0, 0)} \frac{x^2}{x^2 + y^2}$  は存在しない . □

**例 2.12** 鑿極限鑿 関数

$$f(x, y) = \frac{\sin(x + y)}{x + y}, \quad D = \{ (x, y) \mid x + y \neq 0 \}$$

の原点  $(0, 0)$  への極限を考える .  $x + y \neq 0$  であることに注意する . (a)  $y$  軸 ( $x = 0$  の直線) に沿って近づける場合 .  $x = 0$  を代入した後に  $y \rightarrow 0$  の極限を考える . このとき ,

$$\lim_{x=0, y \rightarrow 0} f(x, y) = \lim_{y \rightarrow 0} f(0, y) = \lim_{y \rightarrow 0} \frac{\sin y}{y} = 1$$

が成り立つ . (b) 直線  $y = mx$  に沿って近づける場合 . ただし ,  $m$  は  $m \neq -1$  の任意の実数とする .  $y = mx$  を代入した後に  $x \rightarrow 0$  の極限を考える . このとき ,

$$\lim_{y=mx, x \rightarrow 0} f(x, y) = \lim_{x \rightarrow 0} f(x, mx) = \lim_{x \rightarrow 0} \frac{\sin(x + mx)}{x + mx} = \lim_{\xi \rightarrow 0} \frac{\sin \xi}{\xi} = 1$$

が成り立つ . ここで ,  $\xi = (1 + m)x$  とおいた . (a), (b), より , 全方向から近づけたとき同じ値 1 に収束するので , 極限

$$\lim_{(x, y) \rightarrow (0, 0)} \frac{\sin(x + y)}{x + y} = 1$$

が存在する . □

**例 2.13** 鑿極限鑿 関数

$$f(x, y) = \frac{x^3 + y^3}{x^2 + y^2}, \quad D = \{ (x, y) \mid (x, y) \neq (0, 0) \}$$

の原点  $(0, 0)$  への極限を考える . 全方向から近づけるために ,

$$x = r \cos \theta, \quad y = r \sin \theta$$

とおき， $r \rightarrow 0$  の極限を考える．ただし， $\theta$  は  $0 \leq \theta < 2\pi$  の任意の実数とする．このとき，

$$\lim_{(x,y) \rightarrow (0,0)} f(x,y) = \lim_{r \rightarrow 0} f(r \cos \theta, r \sin \theta) = \lim_{r \rightarrow 0} \frac{r^3 \cos^3 \theta + r^3 \sin^3 \theta}{r^2 \cos^2 \theta + r^2 \sin^2 \theta} = \lim_{r \rightarrow 0} r(\cos^3 \theta + \sin^3 \theta) = 0$$

となり，極限

$$\lim_{(x,y) \rightarrow (0,0)} \frac{x^3 + y^3}{x^2 + y^2} = 0$$

が存在する．

□

**例 2.14** 鏹極限鏹 関数  $f(x,y) = \frac{xy^2}{x^2 + y^4}$  を考える．この関数の定義域は一見すると  $D = \{(x,y) \mid (x,y) \neq (0,0)\}$  と見える．しかし， $x = y^2$  のときを考えると，

$$f(y^2, y) = \frac{y^2 y^2}{(y^2)^2 + y^4} = \frac{y^4}{y^4 + y^4} = \frac{y^4}{2y^4} = \frac{1}{2}$$

となる．よって，この関数は正しくは，

$$f(x,y) = \begin{cases} \frac{xy^2}{x^2 + y^4} & (x,y) \notin \tilde{D} \\ \frac{1}{2} & (x,y) \in \tilde{D} \end{cases}$$

となる．ただし， $\tilde{D} = \{(x,y) \mid x = y^2\}$  である．定義域は  $xy$  平面全体となる．原点への極限は  $(x,y)$  が領域  $\tilde{D}$  の中に入らないときは，

$$\lim_{(x,y) \rightarrow (0,0)} \frac{xy^2}{x^2 + y^4} = \lim_{r \rightarrow 0} \frac{r^3 \cos \theta \sin^2 \theta}{r^2(\cos^2 \theta + r^2 \sin^4 \theta)} = \lim_{r \rightarrow 0} \frac{r \cos \theta \sin^2 \theta}{\cos^2 \theta + r^2 \sin^4 \theta} = 0$$

と極限が存在する．しかし， $(x,y) \in \tilde{D}$  に対して常に  $f(x,y) = \frac{1}{2}$  であり，原点の近傍でもこれが成り立つ．よって，原点への極限は存在しない．

□

## § 2.3 連続性

**定義 2.15** 鏹連続鏹 関数  $z = f(x,y)$  は次の条件 (i), (ii), (iii) をみたすとき点  $(a,b)$  で連続 (continuous) であるという．

- (i)  $f(a,b)$  が定義されている．
- (ii) 極限  $\lim_{(x,y) \rightarrow (a,b)} f(x,y)$  が存在する．
- (iii)  $\lim_{(x,y) \rightarrow (a,b)} f(x,y) = f(a,b)$  が成り立つ．

□

**例 2.16** 鋸連続の具体例 関数

$$f(x, y) = \begin{cases} \frac{x^3 + y^3}{x^2 + y^2} & ((x, y) \neq (0, 0)) \\ 0 & ((x, y) = (0, 0)) \end{cases}$$

は原点  $(0, 0)$  で連続であるか調べる . (i)  $f(0, 0) = 0$  と定義されている . (ii) 前述の例題により , 極限

$$\lim_{(x,y) \rightarrow (0,0)} \frac{x^3 + y^3}{x^2 + y^2} = 0$$

が存在する . (iii) (i), (ii) より

$$\lim_{(x,y) \rightarrow (0,0)} \frac{x^3 + y^3}{x^2 + y^2} = f(0, 0)$$

が成り立つ . 以上 , (i), (ii), (iii) より関数  $f(x, y)$  は原点  $(0, 0)$  で連続である . □

**例 2.17** 鋸不連続の具体例 関数

$$f(x, y) = \begin{cases} \frac{xy}{x^2 + y^2} & ((x, y) \neq (0, 0)) \\ 0 & ((x, y) = (0, 0)) \end{cases}$$

は原点  $(0, 0)$  で連続であるか調べる . まず , 極限が存在するか調べる . 直線  $y = mx$  に沿って近づけると ,

$$\lim_{y=mx, x \rightarrow 0} f(x, y) = \lim_{x \rightarrow 0} f(x, mx) = \lim_{x \rightarrow 0} \frac{mx^2}{x^2 + m^2x^2} = \lim_{x \rightarrow 0} \frac{m}{1 + m^2} = \frac{m}{1 + m^2}$$

となる . 直線の傾き  $m$  が異なれば , 収束する値  $\frac{m}{1 + m^2}$  も異なる . よって  $(x, y) \rightarrow (0, 0)$  における極限は存在しない . 極限が存在しないので , 原点  $(0, 0)$  で  $f(x, y)$  は連続ではない . □

**例 2.18** 鋸不連続の具体例 関数

$$f(x, y) = \frac{\sin(x + y)}{x + y} \quad D = \{ (x, y) \mid x + y \neq 0 \}$$

は原点  $(0, 0)$  で連続であるか考える . まず , 前述の例題により , 極限

$$\lim_{(x,y) \rightarrow (0,0)} \frac{\sin(x + y)}{x + y} = 1$$

が存在する . しかし , 原点で値  $f(0, 0)$  が定義されていない . よって関数  $f(x, y)$  は原点  $(0, 0)$  で不連続である . □

**注意 2.19** 鋸除きうる不連続点鋸 関数

$$f(x, y) = \frac{\sin(x + y)}{x + y}$$

は原点で不連続である．しかし，不連続点  $(0, 0)$  において

$$f(0, 0) = 1$$

と定義する．すると，関数  $f(x, y)$  は

$$\lim_{(x, y) \rightarrow (0, 0)} f(x, y) = f(0, 0) = 1$$

をみだし，原点  $(0, 0)$  で連続となる．このように定義を加えることで連続となる不連続点のことを除きうる不連続点 (**removable discontinuity**) という． □

## § 2.4 演習問題 ~ 関数, 極限, 連続

**問 2.20** 鑷2変数関数鑷 関数  $f(x, y) = x^3 - 2x^2y + 3y^2$  に対して次の値を求めよ.

(1)  $f(0, 1)$  (2)  $f(1, 1)$  (3)  $f(2, 0)$  (4)  $f(1, -1)$  □

**問 2.21** 鑷2変数関数鑷 次の関数  $f(x, y)$  のグラフ  $z = f(x, y)$  を描け.(ヒント: 平面  $x = 0, \pm 1, \pm 2, \dots, y = 0, \pm 1, \pm 2, \dots$  による切口の図形を考える.)

(1)  $f(x, y) = x^2 + y^2$  (2)  $f(x, y) = x^3 + y^2$  □

**問 2.22** 鑷2変数関数鑷 次の関数  $f(x, y)$  のグラフ  $z = f(x, y)$  の  $xz$  平面,  $yz$  平面による切口の図形を描け.

(1)  $f(x, y) = \frac{x^2 - y^2}{x^2 + y^2}$  (2)  $f(x, y) = \frac{x + y^3}{x^2 + y^2}$  □

**問 2.23** 鑷極限鑷 次の極限を求めよ.

(1)  $\lim_{(x,y) \rightarrow (0,0)} \frac{x^2}{x^2 + y^2}$  (2)  $\lim_{(x,y) \rightarrow (0,0)} \frac{\sin(x+y)}{x+y}$  (3)  $\lim_{(x,y) \rightarrow (0,0)} \frac{x^3 + y^3}{x^2 + y^2}$  (4)  $\lim_{(x,y) \rightarrow (0,0)} \frac{x^2 - y^2}{x^2 + y^2}$   
 (5)  $\lim_{(x,y) \rightarrow (0,0)} \frac{2x^3 - y^3 + x^2 + y^2}{x^2 + y^2}$  (6)  $\lim_{(x,y) \rightarrow (0,0)} \frac{x + y + 1}{x^2 + y^2 + 1}$  (7)  $\lim_{(x,y) \rightarrow (0,0)} \frac{x^2 + 2y^2}{2x^2 + y^2}$   
 (8)  $\lim_{(x,y) \rightarrow (0,0)} \frac{x^2 - 2y^2}{x^2 + y^2}$  (9)  $\lim_{(x,y) \rightarrow (0,0)} \frac{x^2 - y^2}{\sqrt{x^2 + y^2}}$  (10)  $\lim_{(x,y) \rightarrow (0,0)} \frac{x^2y}{x^2 + y^2}$  (11)  $\lim_{(x,y) \rightarrow (0,0)} \frac{x^3 + x^2y}{2x^2 + y^2}$   
 (12)  $\lim_{(x,y) \rightarrow (0,0)} \frac{xy^2}{x^2 + y^4}$  (13)  $\lim_{(x,y) \rightarrow (0,0)} \frac{x^3 - y^3}{x^2 + y^2}$  (14)  $\lim_{(x,y) \rightarrow (0,0)} \frac{x\sqrt{|y|}}{\sqrt{x^2 + y^2}}$  □

**問 2.24** 鑷連続鑷 次の関数  $f(x, y)$  が原点で連続となるか議論せよ. ただし  $f(0, 0)$  は適当に定義せよ.

(1)  $\frac{x^2}{x^2 + y^2}$  (2)  $\frac{x^3 + y^3}{x^2 + y^2}$  (3)  $\frac{xy}{x^2 + y^2}$  (4)  $\frac{\sin(x+y)}{x+y}$  (5)  $\frac{x^4 - 3x^2y^2}{2x^2 + y^2}$  (6)  $x^2 + y$   
 (7)  $\frac{x+y}{x^2 + y^2}$  (8)  $\frac{x^2 + y^2}{x^2 + 2y^2}$  (9)  $\frac{x^2 - y^2}{x^2 + y^2}$  (10)  $\frac{x^4 + x^2 + y^2 + y^3}{x^2 + y^2}$  (11)  $\frac{x^2y^2}{x^4 + y^4}$  (12)  $\frac{x}{\sqrt{x^2 + y^2}}$   
 (13)  $(x+y) \cos \frac{y}{x}$  (14)  $\frac{e^{x^2+y^2} - 1}{x^2 + y^2}$  (15)  $xy \log(x^2 + y^2)$  □

## § 2.5 多変数関数の微分

1 変数関数  $y = f(x)$  において,  $x = a$  から  $x = a + \Delta x$  への  $y$  の増分は

$$\Delta y = f(a + \Delta x) - f(a)$$

である. このとき,  $xy$  平面内の 2 点  $(a, f(a)), (a + \Delta x, f(a + \Delta x))$  を通る直線の傾きは  $\frac{\Delta y}{\Delta x}$  となる.  $x = a$  における  $y = f(x)$  の微係数は, 2 点を近づけたときの傾き  $\frac{\Delta y}{\Delta x}$  の極限

$$\frac{df(a)}{dx} = \lim_{\Delta x \rightarrow 0} \frac{\Delta y}{\Delta x} = \lim_{\Delta x \rightarrow 0} \frac{f(a + \Delta x) - f(a)}{\Delta x}$$

である. このとき  $\Delta x \rightarrow 0$  は, 右から近づける  $\Delta x \rightarrow +0$  と左から近づける  $\Delta x \rightarrow -0$  の両方を含むことに注意する.

一方, 2 変数関数  $z = f(x, y)$  においては, 定義域  $D$  内の点  $A(a, b)$  から点  $P(a + \Delta x, b + \Delta y)$  への  $z$  の増分

$$\Delta z = f(a + \Delta x, b + \Delta y) - f(a, b)$$

を考える. このとき  $xyz$  空間内の 2 点  $A'(a, b, c), P'(a + \Delta x, b + \Delta y, z + \Delta z)$  ( $c = f(a, b)$  とおく) を通る直線の傾きは

$$\frac{\Delta z}{\rho} = \frac{f(a + \Delta x, b + \Delta y) - f(a, b)}{\sqrt{\Delta x^2 + \Delta y^2}}$$

となる. ただし,  $\rho$  は点  $A, P$  間の距離  $\rho = \sqrt{\Delta x^2 + \Delta y^2}$  である. 点  $P$  を点  $A$  に近づけたときの傾き  $\frac{\Delta z}{\rho}$  の極限を考える. 点  $P$  を点  $A$  へ近づけると, 近づける方向は  $x$  軸や  $y$  軸に沿った方向だけでなく, 全方向から近づけなければならない.

(i) 全方向  $(\Delta x, \Delta y) \rightarrow (0, 0)$  から近づけたとき, 傾き  $\frac{\Delta z}{\rho}$  の極限が存在すれば,  $z$  は全微分可能であるという.

(ii)  $x$  軸に沿って  $\Delta y = 0, \Delta x \rightarrow 0$  ( $\rho = |\Delta x| \rightarrow 0$ ) と近づけたとき, 傾きの極限

$$\lim_{\rho \rightarrow 0} \frac{\Delta z}{\rho} = \lim_{|\Delta x| \rightarrow 0} \frac{\Delta z}{|\Delta x|} = \lim_{|\Delta x| \rightarrow 0} \frac{f(a + \Delta x, b) - f(a, b)}{|\Delta x|} = \pm \lim_{\Delta x \rightarrow \pm 0} \frac{f(a + \Delta x, b) - f(a, b)}{\Delta x}$$

が存在すれば,  $z$  は  $x$  に関して偏微分可能であるという.

(iii)  $y$  軸に沿って  $\Delta x = 0, \Delta y \rightarrow 0$  ( $\rho = |\Delta y| \rightarrow 0$ ) と近づけたとき, 傾きの極限

$$\lim_{\rho \rightarrow 0} \frac{\Delta z}{\rho} = \lim_{|\Delta y| \rightarrow 0} \frac{\Delta z}{|\Delta y|} = \lim_{|\Delta y| \rightarrow 0} \frac{f(a, b + \Delta y) - f(a, b)}{|\Delta y|} = \pm \lim_{\Delta y \rightarrow \pm 0} \frac{f(a, b + \Delta y) - f(a, b)}{\Delta y}$$

が存在すれば,  $z$  は  $y$  に関して偏微分可能であるという.

## § 2.6 偏微分

**定義 2.25** 偏微分, 偏微分係数 関数  $f(x, y)$  の点  $(a, b)$  において, 極限

$$\frac{\partial f(a, b)}{\partial x} = \lim_{\Delta x \rightarrow 0} \frac{f(a + \Delta x, b) - f(a, b)}{\Delta x}, \quad \frac{\partial f(a, b)}{\partial y} = \lim_{\Delta y \rightarrow 0} \frac{f(a, b + \Delta y) - f(a, b)}{\Delta y}$$

が存在するとき, 関数  $f(x, y)$  は点  $(a, b)$  において,  $x$  または  $y$  に関して偏微分可能 (**partial differentiable**) であるという. この極限を偏微分係数 (**partial differential coefficient**) という.

□

**定義 2.26** 偏導関数 定義  $D$  内の任意の点  $(x, y)$  に対して極限

$$\frac{\partial f}{\partial x} = \lim_{\Delta x \rightarrow 0} \frac{f(x + \Delta x, y) - f(x, y)}{\Delta x}, \quad \frac{\partial f}{\partial y} = \lim_{\Delta y \rightarrow 0} \frac{f(x, y + \Delta y) - f(x, y)}{\Delta y}$$

が存在するとき, これらを偏導関数 (**partial derivative**) という. 偏導関数を求める操作を偏微分するという.

□

**注意 2.27** 偏微分の記号 関数  $z = f(x, y)$  の偏導関数は

$$\begin{aligned} \frac{\partial f(x, y)}{\partial x}, \quad \frac{\partial f}{\partial x}, \quad \frac{\partial z}{\partial x}, \quad f_x(x, y), \quad f_x, \quad z_x, \\ \frac{\partial f(x, y)}{\partial y}, \quad \frac{\partial f}{\partial y}, \quad \frac{\partial z}{\partial y}, \quad f_y(x, y), \quad f_y, \quad z_y \end{aligned}$$

と表記する.

□

**注意 2.28** 偏微分 関数  $z = f(x, y)$  のグラフは  $xyz$  空間内の曲面となる. このグラフと平面  $y = b$  との共有点のグラフは  $z = f(x, b)$  で与えられる曲線となる. このとき関数  $f(x, b)$  は  $x$  についての 1 変数関数であるから,  $x$  について微分すれば曲線  $z = f(x, b)$  の傾き  $f_x(x, b)$  が得られる.

同様にしてグラフ  $z = f(x, y)$  と平面  $x = a$  との共有点の曲線  $z = f(a, y)$  は,  $y$  についての 1 変数関数であるから,  $y$  について微分すれば曲線  $z = f(a, y)$  の傾き  $f_y(a, y)$  が得られる. □

**注意 2.29** 偏微分  $x$  に関する偏微分の定義式において,  $y$  は定数と考えて  $x$  方向の極限のみを考えている. 同様にして,  $y$  に関する偏微分の定義式は,  $x$  は定数と考えて  $y$  方向の極限のみを考えている. このとき定義式は  $x$  と  $y$  についての 1 変数関数の微分とそれぞれ等価となる. よって, ひとつの独立変数を除いて他のすべての独立変数を定数と考えて 1 変数関数の微分をすればよい. □

**例 2.30** 鋸偏微分鋸 関数

$$f(x, y) = 2x^3 + 5xy + 2y^2$$

を  $x$  で偏微分すると,

$$\begin{aligned}\frac{\partial f}{\partial x} &= \frac{\partial}{\partial x}(2x^3 + 5xy + 2y^2) = \frac{\partial}{\partial x}(2x^3) + \frac{\partial}{\partial x}(5xy) + \frac{\partial}{\partial x}(2y^2) = 2\frac{\partial}{\partial x}x^3 + 5y\frac{\partial}{\partial x}x + 2y^2\frac{\partial}{\partial x}1 \\ &= 2 \times 3x^2 + 5y \times 1 + 2y^2 \times 0 = 6x^2 + 5y\end{aligned}$$

となり,  $x$  に関する偏導関数が得られる.  $y$  で偏微分すると,

$$\begin{aligned}\frac{\partial f}{\partial y} &= \frac{\partial}{\partial y}(2x^3 + 5xy + 2y^2) = \frac{\partial}{\partial y}(2x^3) + \frac{\partial}{\partial y}(5xy) + \frac{\partial}{\partial y}(2y^2) = 2x^3\frac{\partial}{\partial y}1 + 5x\frac{\partial}{\partial y}y + 2\frac{\partial}{\partial y}y^2 \\ &= 2x^3 \times 0 + 5x \times 1 + 2 \times 2y = 5x + 4y\end{aligned}$$

となり,  $y$  に関する偏導関数が得られる. □

**例 2.31** 鋸偏微分係数鋸 関数  $f(x, y) = 2x^3 + 5xy + 2y^2$  の点  $(1, -2)$  における偏微分係数は

$$\begin{aligned}f_x(1, -2) &= 6x^2 + 5y \Big|_{x=1, y=-2} = 6 \times 1^2 + 5 \times (-2) = -4, \\ f_y(1, -2) &= 5x + 4y \Big|_{x=1, y=-2} = 6 \times 1 + 4 \times (-2) = -3\end{aligned}$$

となる. □

**例 2.32** 鋸偏微分鋸 関数  $f(x, y) = e^{x-y} \sin(2x^2 - 3xy + 4y)$  の偏導関数は,

$$\begin{aligned}f_x &= (e^{x-y} \sin(2x^2 - 3xy + 4y))_x \\ &= (e^{x-y})_x \sin(2x^2 - 3xy + 4y) + e^{x-y}(\sin(2x^2 - 3xy + 4y))_x \\ &= e^{x-y}(x-y)_x \sin(2x^2 - 3xy + 4y) + e^{x-y}(2x^2 - 3xy + 4y)_x \cos(2x^2 - 3xy + 4y) \\ &= e^{x-y} \sin(2x^2 - 3xy + 4y) + e^{x-y}(4x - 3y) \cos(2x^2 - 3xy + 4y) \\ &= e^{x-y} (\sin(2x^2 - 3xy + 4y) + (4x - 3y) \cos(2x^2 - 3xy + 4y)), \\ f_y &= (e^{x-y} \sin(2x^2 - 3xy + 4y))_y \\ &= (e^{x-y})_y \sin(2x^2 - 3xy + 4y) + e^{x-y}(\sin(2x^2 - 3xy + 4y))_y \\ &= e^{x-y}(x-y)_y \sin(2x^2 - 3xy + 4y) + e^{x-y}(2x^2 - 3xy + 4y)_y \cos(2x^2 - 3xy + 4y) \\ &= -e^{x-y} \sin(2x^2 - 3xy + 4y) + e^{x-y}(-3x + 4) \cos(2x^2 - 3xy + 4y) \\ &= -e^{x-y} (\sin(2x^2 - 3xy + 4y) + (3x - 4) \cos(2x^2 - 3xy + 4y))\end{aligned}$$

となる. □



## § 2.7 多変数関数の偏微分

**定義 2.33** 鋸多変換数の導関数鋸  $n$  変数関数  $f(x_1, x_2, \dots, x_n) = f(\mathbf{x})$  の偏導関数は

$$\begin{aligned}\frac{\partial f}{\partial x_j} &= \lim_{h \rightarrow 0} \frac{f(x_1, \dots, x_j + h, \dots, x_n) - f(x_1, \dots, x_j, \dots, x_n)}{h} \\ &= \lim_{h \rightarrow 0} \frac{f(\mathbf{x} + h\mathbf{e}_j) - f(\mathbf{x})}{h}\end{aligned}$$

と定義する。ただし、

$$\mathbf{x} = \begin{bmatrix} x_1 \\ x_2 \\ \vdots \\ x_n \end{bmatrix}, \quad \mathbf{e}_1 = \begin{bmatrix} 1 \\ 0 \\ \vdots \\ 0 \end{bmatrix}, \quad \mathbf{e}_2 = \begin{bmatrix} 0 \\ 1 \\ \vdots \\ 0 \end{bmatrix}, \quad \dots, \quad \mathbf{e}_n = \begin{bmatrix} 0 \\ 0 \\ \vdots \\ 1 \end{bmatrix}$$

とおく。

□

**例 2.34** 鋸多変換数の導関数鋸 関数  $w = f(x, y, z) = \sin(2x - y) \cos(y + 3z)$  の偏導関数は、

$$\begin{aligned}w_x &= \frac{\partial f}{\partial x} = 2 \cos(2x - y) \cos(y + 3z), \\ w_y &= \frac{\partial f}{\partial y} = -\cos(2x - y) \cos(y + 3z) - \sin(2x - y) \sin(y + 3z) = -\cos(2x - 2y - 3z), \\ w_z &= \frac{\partial f}{\partial z} = -3 \sin(2x - y) \sin(y + 3z)\end{aligned}$$

となる。

□

**例 2.35** 鋸多変換数の導関数鋸 関数  $r = r(x, y, z) = \sqrt{x^2 + y^2 + z^2}$  の偏導関数は、

$$\begin{aligned}r_x &= (\sqrt{x^2 + y^2 + z^2})_x = \frac{1}{2}(x^2 + y^2 + z^2)^{-\frac{1}{2}}(x^2 + y^2 + z^2)_x = \frac{x}{\sqrt{x^2 + y^2 + z^2}} = \frac{x}{r}, \\ r_y &= (\sqrt{x^2 + y^2 + z^2})_y = \frac{1}{2}(x^2 + y^2 + z^2)^{-\frac{1}{2}}(x^2 + y^2 + z^2)_y = \frac{y}{\sqrt{x^2 + y^2 + z^2}} = \frac{y}{r}, \\ r_z &= (\sqrt{x^2 + y^2 + z^2})_z = \frac{1}{2}(x^2 + y^2 + z^2)^{-\frac{1}{2}}(x^2 + y^2 + z^2)_z = \frac{z}{\sqrt{x^2 + y^2 + z^2}} = \frac{z}{r}\end{aligned}$$

となる。

□

## § 2.8 高階偏微分

関数  $z = f(x, y)$  の 1 階偏導関数  $f_x(x, y), f_y(x, y)$  は  $x, y$  に関する 2 変数関数であるから, さらに  $x$  または  $y$  に関して偏微分することができる. このとき

$$\begin{aligned} \frac{\partial f}{\partial x} = f_x & \xrightarrow{\frac{\partial}{\partial x}} \frac{\partial}{\partial x} \left( \frac{\partial f}{\partial x} \right) = \frac{\partial}{\partial x} \frac{\partial f}{\partial x} = \frac{\partial^2 f}{\partial x^2} = (f_x)_x = f_{xx}, \\ \frac{\partial f}{\partial x} = f_x & \xrightarrow{\frac{\partial}{\partial y}} \frac{\partial}{\partial y} \left( \frac{\partial f}{\partial x} \right) = \frac{\partial}{\partial y} \frac{\partial f}{\partial x} = \frac{\partial^2 f}{\partial y \partial x} = (f_x)_y = f_{xy}, \\ \frac{\partial f}{\partial y} = f_y & \xrightarrow{\frac{\partial}{\partial x}} \frac{\partial}{\partial x} \left( \frac{\partial f}{\partial y} \right) = \frac{\partial}{\partial x} \frac{\partial f}{\partial y} = \frac{\partial^2 f}{\partial x \partial y} = (f_y)_x = f_{yx}, \\ \frac{\partial f}{\partial y} = f_y & \xrightarrow{\frac{\partial}{\partial y}} \frac{\partial}{\partial y} \left( \frac{\partial f}{\partial y} \right) = \frac{\partial}{\partial y} \frac{\partial f}{\partial y} = \frac{\partial^2 f}{\partial y^2} = (f_y)_y = f_{yy} \end{aligned}$$

と表記する. これを 2 階偏導関数という. さらに偏微分すると

$$\begin{aligned} \frac{\partial^2 f}{\partial x^2} = f_{xx} & \xrightarrow{\frac{\partial}{\partial x}} \frac{\partial}{\partial x} \left( \frac{\partial^2 f}{\partial x^2} \right) = \frac{\partial}{\partial x} \frac{\partial^2 f}{\partial x^2} = \frac{\partial^3 f}{\partial x^3} = (f_{xx})_x = f_{xxx}, \\ \frac{\partial^2 f}{\partial x^2} = f_{xx} & \xrightarrow{\frac{\partial}{\partial y}} \frac{\partial}{\partial y} \left( \frac{\partial^2 f}{\partial x^2} \right) = \frac{\partial}{\partial y} \frac{\partial^2 f}{\partial x^2} = \frac{\partial^3 f}{\partial y \partial x^2} = (f_{xx})_y = f_{xxy}, \\ \frac{\partial^2 f}{\partial y \partial x} = f_{xy} & \xrightarrow{\frac{\partial}{\partial x}} \frac{\partial}{\partial x} \left( \frac{\partial^2 f}{\partial y \partial x} \right) = \frac{\partial}{\partial x} \frac{\partial^2 f}{\partial y \partial x} = \frac{\partial^3 f}{\partial x \partial y \partial x} = (f_{xy})_x = f_{xyx}, \\ \frac{\partial^2 f}{\partial y \partial x} = f_{xy} & \xrightarrow{\frac{\partial}{\partial y}} \frac{\partial}{\partial y} \left( \frac{\partial^2 f}{\partial y \partial x} \right) = \frac{\partial}{\partial y} \frac{\partial^2 f}{\partial y \partial x} = \frac{\partial^3 f}{\partial y^2 \partial x} = (f_{xy})_y = f_{xyy}, \\ \frac{\partial^2 f}{\partial x \partial y} = f_{yx} & \xrightarrow{\frac{\partial}{\partial x}} \frac{\partial}{\partial x} \left( \frac{\partial^2 f}{\partial x \partial y} \right) = \frac{\partial}{\partial x} \frac{\partial^2 f}{\partial x \partial y} = \frac{\partial^3 f}{\partial x^2 \partial y} = (f_{yx})_x = f_{yxx}, \\ \frac{\partial^2 f}{\partial x \partial y} = f_{yx} & \xrightarrow{\frac{\partial}{\partial y}} \frac{\partial}{\partial y} \left( \frac{\partial^2 f}{\partial x \partial y} \right) = \frac{\partial}{\partial y} \frac{\partial^2 f}{\partial x \partial y} = \frac{\partial^3 f}{\partial y \partial x \partial y} = (f_{yx})_y = f_{yxy}, \\ \frac{\partial^2 f}{\partial y^2} = f_{yy} & \xrightarrow{\frac{\partial}{\partial x}} \frac{\partial}{\partial x} \left( \frac{\partial^2 f}{\partial y^2} \right) = \frac{\partial}{\partial x} \frac{\partial^2 f}{\partial y^2} = \frac{\partial^3 f}{\partial x \partial y^2} = (f_{yy})_x = f_{yyx}, \\ \frac{\partial^2 f}{\partial y^2} = f_{yy} & \xrightarrow{\frac{\partial}{\partial y}} \frac{\partial}{\partial y} \left( \frac{\partial^2 f}{\partial y^2} \right) = \frac{\partial}{\partial y} \frac{\partial^2 f}{\partial y^2} = \frac{\partial^3 f}{\partial y^3} = (f_{yy})_y = f_{yyy} \end{aligned}$$

と表記し 3 階偏導関数という. さらに偏微分を繰り返して  $x, y$  についてあわせて  $n$  回偏微分してできた導関数を

$$\frac{\partial^n f}{\partial x^k \cdots \partial y^j \partial x^i} = f_{\underbrace{x \cdots x}_i \underbrace{y \cdots y}_j \underbrace{x \cdots x}_k}, \quad i + j + \cdots + k = n$$

と表記し,  $n$  階偏導関数という.

**例 2.36** 鋭高階導関数鋭 関数  $f(x, y) = 2x^3 + 5xy + 2y^2$  の高階偏導関数は,

$$f_x = \frac{\partial f}{\partial x} = 6x^2 + 5y,$$

$$f_y = \frac{\partial f}{\partial y} = 5x + 4y,$$

$$\begin{aligned}
f_{xx} &= \frac{\partial^2 f}{\partial x^2} = \frac{\partial}{\partial x}(6x^2 + 5y) = (6x^2 + 5y)_x = 12x, & f_{xy} &= \frac{\partial^2 f}{\partial y \partial x} = \frac{\partial}{\partial y}(6x^2 + 5y) = (6x^2 + 5y)_y = 5, \\
f_{yx} &= \frac{\partial^2 f}{\partial x \partial y} = \frac{\partial}{\partial x}(5x + 4y) = (5x + 4y)_x = 5, & f_{yy} &= \frac{\partial^2 f}{\partial y^2} = \frac{\partial}{\partial y}(5x + 4y) = (5x + 4y)_y = 4, \\
f_{xxx} &= \frac{\partial^3 f}{\partial x^3} = \frac{\partial}{\partial x}(12x) = (12x)_x = 12, & f_{xxy} &= \frac{\partial^3 f}{\partial y \partial x^2} = \frac{\partial}{\partial y}(12x) = (12x)_y = 0, \\
f_{xyx} &= \frac{\partial^3 f}{\partial x \partial y \partial x} = \frac{\partial}{\partial x}(5) = (5)_x = 0, & f_{xyy} &= \frac{\partial^3 f}{\partial y^2 \partial x} = \frac{\partial}{\partial y}(5) = (5)_x = 0, \\
f_{yxx} &= \frac{\partial^3 f}{\partial x^2 \partial y} = \frac{\partial}{\partial x}(5) = (5)_x = 0, & f_{yyx} &= \frac{\partial^3 f}{\partial y \partial x \partial y} = \frac{\partial}{\partial y}(5) = (5)_y = 0, \\
f_{yyx} &= \frac{\partial^3 f}{\partial x \partial y^2} = \frac{\partial}{\partial x}(4) = (4)_x = 0, & f_{yyy} &= \frac{\partial^3 f}{\partial y^3} = \frac{\partial}{\partial y}(4) = (4)_y = 0
\end{aligned}$$

となり，さらに4階以上の偏導関数はすべて0となる．ここで，この関数の場合は

$$f_{xy} = f_{yx}, \quad f_{xxy} = f_{xyx} = f_{yxx}, \quad f_{yyx} = f_{yxy} = f_{xyy}$$

となることに注意する．

**注意 2.37**

鏹偏微分の可換性鏹 一般には偏微分は交換可能ではない：

$$\frac{\partial^2}{\partial x \partial y} \neq \frac{\partial^2}{\partial y \partial x}, \quad f_{xy} \neq f_{yx}$$

**定理 2.38**

鏹偏微分の可換性鏹 関数  $f(x, y)$  において， $f_{xy}$ ,  $f_{yx}$  が存在し，かつこれらが連続関数であるとき， $f_{xy} = f_{yx}$  が成り立つ．

**注意 2.39**

鏹偏微分の可換性鏹 逆は成り立たない．

**注意 2.40**

鏹偏微分の可換性鏹 偏微分が可換となる十分条件は他にも色々あるが，実用上は上の定理が一番有用である．ほとんどの普通の関数はこの定理の十分条件をみたし，偏微分が  $x, y$  について可換となる．

## § 2.9 演習問題 ~ 偏微分

**問 2.41** 鋸偏導関数録 関数  $f(x, y)$  の偏導関数  $f_x(x, y), f_y(x, y)$  の定義を述べよ。 □

**問 2.42** 鋸偏微係数録 関数  $f(x, y)$  の偏導関数と点  $(1, -2)$  における偏微係数を求めよ。

- (1)  $f(x, y) = 2x^3 + 5xy + 2y^2$  (2)  $f(x, y) = x^4 - 3x^2y^2 + 3y^4$   
 (3)  $f(x, y) = x^5 + 3x^4y^2 + 4xy^3 + y^4$  (4)  $f(x, y) = e^{xy^2}$  (5)  $f(x, y) = \sin(2x + 3y)$  □

**問 2.43** 鋸1階偏導関数録 次の関数の1階偏導関数を全て求めよ。

- (1)  $z = e^{x-y} \sin(2x^2 - 3xy + 4y)$  (2)  $w = \sin(2x - y) \cos(y + 3z)$  (3)  $r = \sqrt{x^2 + y^2 + z^2}$   
 (4)  $z = x^3 + y^2 + 2$  (5)  $z = x^3 - x^2y + xy^2 - y - 3$  (6)  $z = 2x^3 + 5xy + 2y^2$   
 (7)  $z = x^4 - 3x^2y^2 + 3y^4$  (8)  $z = x^5 + 3x^4y^2 + 4xy^3 + y^4$  (9)  $z = x^2y^5 - 2x^3y^2 + y$   
 (10)  $w = x^2y^3z^2$  (11)  $z = \frac{x+y}{x-y}$  (12)  $z = \frac{x}{x^2+y^2}$  (13)  $z = \sqrt{x^2+y^4}$   
 (14)  $z = \log(x^2 + xy + y^2)$  (15)  $z = \log \sqrt{x^2 + y^2}$  (16)  $z = \log \frac{1}{x^2 + y^2}$  (17)  $z = e^{xy^2}$   
 (18)  $z = e^{xy}(x \cos y - y \sin y)$  (19)  $z = \sin(2x + 3y)$  (20)  $z = x^2 \cos y - y^2 \cos x$   
 (21)  $z = \cos(x^2 + xy)$  (22)  $z = \sin(x^2y)$  (23)  $w = \text{Sin}^{-1}(x + yz)$  (24)  $z = \text{Tan}^{-1} \frac{y}{x}$   
 (25)  $z = \text{Tan}^{-1} \frac{x^2}{y}$  (26)  $z = \text{Tan}^{-1} x^2y$  □

**問 2.44** 鋸偏導関数録 次の関係式が成り立つことを示せ。

- (1)  $z = x^3y^3, xz_x + yz_y = 6z$  (2)  $w = (x - y)(y - z)(z - x), w_x + w_y + w_z = 0$  □

**問 2.45** 鋸偏導関数録 関数  $f(x, y)$  の高階偏導関数を計算し,  $f_{xy} = f_{yx}, f_{xxy} = f_{xyx} = f_{yxx}, f_{yyy} = f_{yyx} = f_{xyy}$  となることを確認せよ。

- (1)  $f(x, y) = 2x^3 + 5xy + 2y^2$  (2)  $f(x, y) = x^5y^2$  (3)  $f(x, y) = x^3 - x^2y + xy^2 - y^3 + 1$   
 (4)  $f(x, y) = x^4 - 3x^2y^2 + 3y^4$  (5)  $f(x, y) = x^5 + 3x^4y^2 + 4xy^3 + y^4$  (6)  $f(x, y) = e^{xy^2}$   
 (7)  $f(x, y) = \sin(2x + 3y)$  (8)  $f(x, y) = x^2 \cos y - y^2 \cos x$  (9)  $f(x, y) = \text{Tan}^{-1} x^2y$  □

**問 2.46** 鋸2階偏導関数録 次の関数の1階, 2階偏導関数を全て求めよ。

- (1)  $4x^3 - 2x^2y + 5xy^2 - y^3$  (2)  $\log \sqrt{x^2 + y^2}$  (3)  $x \sin xy^2$  (4)  $\cos(ax + by)$   
 (5)  $\sin(ax + by)$  (6)  $e^{xy^2}$   
 (7)  $\alpha p^4 + \beta q^3 + \gamma r^2 - 2pq - 2qr - 2rp + 3pqr$  ( $p, q, r$  について) □

**問 2.47** 鋸3階偏導関数録 次の関数の1階, 2階, 3階偏導関数を全て求めよ。

- (1)  $2x^3 + 5xy + 2y^2$  (2)  $e^{x^2+xy}$  □

**問 2.48** 鋸偏微分録  $w = \frac{a^2\varphi}{\xi a^2 + b^2\varphi}$  であるとき  $\frac{\partial w}{\partial a}, \frac{\partial w}{\partial \varphi}, \frac{\partial w}{\partial \xi}, \frac{\partial^2 w}{\partial a \partial \varphi}, \frac{\partial^2 w}{\partial \varphi \partial \xi}$  を求めよ。 □

## § 2.10 ランダウの記号

**定義 2.49** 鏹ランダウの記号鏹 関数  $f(x), g(x)$  に対して

$$\lim_{x \rightarrow a} \left| \frac{f(x)}{g(x)} \right| = 0$$

が成り立つとき,

$$f(x) = o(g(x)) \quad (x \rightarrow a)$$

と表記する.  $o(\cdot)$  はランダウ (Landau) の記号である. またこのとき,  $f$  は  $g$  に比べ無視できるという. □

**定義 2.50** 鏹ランダウの記号鏹 関数  $f(x), g(x)$  に対して

$$\lim_{x \rightarrow a} \left| \frac{f(x)}{g(x)} \right| = b < \infty$$

が成り立つとき,

$$f(x) = O(g(x)) \quad (x \rightarrow a)$$

と表記する.  $O(\cdot)$  はランダウ (Landau) の記号である. またこのとき  $f$  は  $g$  で押さえられるという. □

**注意 2.51** 鏹二つのランダウの記号の関係鏹 関数  $f(x), g(x)$  に対して

$$f(x) = O(g(x)) \quad (x \rightarrow a)$$

が成り立つとき,  $b \neq 0$  であれば  $\lim_{x \rightarrow a} \left( \frac{f(x)}{g(x)} - b \right) = 0$  となるので

$$f(x) = b g(x) + o(g(x)) \quad (x \rightarrow a)$$

が成り立つ. □

**定義 2.52** 鏹無限大, 無限小鏹 関数  $f(x), g(x)$  が  $x \rightarrow a$  において無限小または無限大になるとき, 次の呼び方を定義する.

- $f \rightarrow 0, g \rightarrow 0, f = o(g) (x \rightarrow a)$  のとき,  $f$  は  $g$  より高次の無限小と呼ぶ. または  $g$  は  $f$  より低次の無限小と呼ぶ.
- $f \rightarrow \pm\infty, g \rightarrow \pm\infty, f = o(g) (x \rightarrow a)$  のとき,  $f$  は  $g$  より低次の無限大と呼ぶ. または  $g$  は  $f$  より高次の無限大と呼ぶ.

- $f \rightarrow 0, g \rightarrow 0, f = O(g) (x \rightarrow a)$  のとき,  $f$  と  $g$  とは同次の無限小と呼ぶ.
- $f \rightarrow \pm\infty, g \rightarrow \pm\infty, f = O(g) (x \rightarrow a)$  のとき,  $f$  と  $g$  とは同次の無限大と呼ぶ.

□

**例 2.53** 鏢ランダウの記号の使用例鏢  $\sin x$  の極限  $x \rightarrow 0$  において,

$$\lim_{x \rightarrow 0} \frac{\sin x}{x} = 1$$

より

$$\sin x = O(x) \quad (x \rightarrow 0)$$

が成り立つ. よって,  $x \rightarrow 0$  において  $\sin x$  と  $x$  とは同次の無限小である. また,

$$\begin{aligned} \frac{\sin x - \left(x - \frac{x^3}{3!}\right)}{x^5} &= \frac{R_5(x)}{x^5} = \frac{\frac{\cos(\theta x)}{5!}x^5}{x^5} = \frac{\cos(\theta x)}{5!} \rightarrow \frac{1}{5!} \quad (x \rightarrow 0) \\ \frac{\sin x - \left(x - \frac{x^3}{3!}\right)}{x^4} &= \frac{R_5(x)}{x^4} = \frac{\frac{\cos(\theta x)}{5!}x^5}{x^4} = \frac{\cos(\theta x)}{5!}x \rightarrow 0 \quad (x \rightarrow 0) \\ \frac{\sin x - \left(x - \frac{x^3}{3!}\right)}{x^3} &= \frac{R_5(x)}{x^3} = \frac{\frac{\cos(\theta x)}{5!}x^5}{x^3} = \frac{\cos(\theta x)}{5!}x^2 \rightarrow 0 \quad (x \rightarrow 0) \end{aligned}$$

より,

$$\begin{aligned} \sin x &= x - \frac{x^3}{3!} + O(x^5) \quad (x \rightarrow 0) \\ \sin x &= x - \frac{x^3}{3!} + o(x^4) \quad (x \rightarrow 0) \\ \sin x &= x - \frac{x^3}{3!} + o(x^3) \quad (x \rightarrow 0) \end{aligned}$$

が成り立つ. よって,  $x \rightarrow 0$  において  $R_5(x)$  と  $x^5$  とは同次の無限小であり,  $R_5(x)$  は  $x^4$  および  $x^3$  より高次の無限小である. □

**例 2.54** 鏢ランダウの記号の使用例鏢  $\sqrt{x+x^2}$  の極限  $x \rightarrow \infty$  において,

$$\lim_{x \rightarrow \infty} \frac{\sqrt{x+x^2}}{x} = \lim_{x \rightarrow \infty} \sqrt{\frac{1}{x} + 1} = 1$$

より

$$\sqrt{x+x^2} = O(x) \quad (x \rightarrow \infty)$$

が成り立つ. よって,  $x \rightarrow \infty$  において  $\sqrt{x+x^2}$  と  $x$  とは同次の無限大である. また,

$$\lim_{x \rightarrow \infty} \frac{\sqrt{x+x^2}}{x^2} = \lim_{x \rightarrow \infty} \sqrt{\frac{1}{x^3} + \frac{1}{x^2}} = 0$$

より

$$\sqrt{x+x^2} = o(x^2) \quad (x \rightarrow \infty)$$

が成り立つ．よって， $x \rightarrow \infty$  において  $\sqrt{x+x^2}$  は  $x^2$  より低次の無限大である．

□

**注意 2.55** 鏹テイラー展開とランダウの記号鏹 テイラー展開により

$$f(x) = f(a) + f'(a)(x-a) + \frac{f''(a)}{2}(x-a)^2 + \cdots + \frac{f^{(n)}(a)}{n!}(x-a)^n + O((x-a)^{n+1}),$$

$$f(x) = f(a) + f'(a)(x-a) + \frac{f''(a)}{2}(x-a)^2 + \cdots + \frac{f^{(n)}(a)}{n!}(x-a)^n + o((x-a)^n)$$

が成り立つ．なぜなら

$$\lim_{x \rightarrow a} \left| \frac{R_{n+1}(x)}{(x-a)^{n+1}} \right| = \lim_{x \rightarrow a} \left| \frac{f^{(n+1)}(x + \theta(x-a))}{(n+1)!} \right| = \left| \frac{f^{(n+1)}(a)}{(n+1)!} \right| < \infty$$

となるからである．同様に

$$\lim_{x \rightarrow a} \left| \frac{R_{n+1}(x)}{(x-a)^n} \right| = \lim_{x \rightarrow a} \left| \frac{f^{(n+1)}(x + \theta(x-a))}{(n+1)!} (x-a) \right| = \left| \frac{f^{(n+1)}(a)}{(n+1)!} \right| \times 0 = 0$$

となることより得られる．

□

**例 2.56** 鏹ランダウの記号の使用例鏹

$$\begin{aligned} e^x &= 1 + x + O(x^2) \quad (x \rightarrow 0) \\ &= 1 + x + o(x) \quad (x \rightarrow 0) \\ &= 1 + x + \frac{x^2}{2} + O(x^3) \quad (x \rightarrow 0) \\ &= 1 + x + \frac{x^2}{2} + o(x^2) \quad (x \rightarrow 0) \end{aligned}$$

□

**例 2.57** 鏹ランダウの記号の使用例鏹

$$\begin{aligned} \log(1+x) &= x - \frac{x^2}{2} + O(x^3) \quad (x \rightarrow 0) \\ &= x - \frac{x^2}{2} + o(x^2) \quad (x \rightarrow 0) \\ &= x - \frac{x^2}{2} + \frac{x^3}{6} + O(x^4) \quad (x \rightarrow 0) \\ &= x - \frac{x^2}{2} + \frac{x^3}{6} + o(x^3) \quad (x \rightarrow 0) \end{aligned}$$

□

## § 2.11 1 変数関数の微分可能性

### 定義 2.58

微分可能関数 関数  $y = f(x)$  において, 点  $x$  から点  $x + \Delta x$  への増分

$$\Delta y = f(x + \Delta x) - f(x)$$

に対して

$$\Delta y = \alpha \Delta x + o(\rho), \quad \rho = |\Delta x|, \quad (\rho \rightarrow 0)$$

をみたす  $\alpha$  が存在するとき, 関数  $y = f(x)$  は微分可能であるという. このとき

$$dy = \alpha dx$$

と表記し,  $dy$  を  $y = f(x)$  の微分という. □

### 定理 2.59

微分可能関数 関数  $y = f(x)$  が微分可能であることの必要十分条件は, 極限

$$f'(x) = \lim_{\Delta x \rightarrow 0} \frac{f(x + \Delta x) - f(x)}{\Delta x}$$

が存在することである. このとき

$$dy = f'(x)dx$$

が成り立つ.

(証明)  $\Delta y = \alpha \Delta x + \varepsilon(\rho)$  とおく. ただし,  $\rho = |\Delta x|$  であり,  $\varepsilon(\rho)$  は  $\rho$  についてのある関数とする.  $\varepsilon(\rho)$  について式変形すると

$$\frac{\varepsilon(\rho)}{\Delta x} = \frac{\Delta y - \alpha \Delta x}{\Delta x} = \frac{\Delta y}{\Delta x} - \alpha = \frac{f(x + \Delta x) - f(x)}{\Delta x} - \alpha$$

となる. このとき,

$$\varepsilon(\rho) = o(\rho) \quad (\rho \rightarrow 0)$$

$$\Leftrightarrow 0 = \lim_{\rho \rightarrow 0} \frac{\varepsilon(\rho)}{\rho} = \pm \lim_{\Delta x \rightarrow 0} \frac{\varepsilon(\rho)}{\Delta x} = \pm \lim_{\Delta x \rightarrow 0} \left( \frac{f(x + \Delta x) - f(x)}{\Delta x} - \alpha \right)$$

$$\Leftrightarrow \alpha = \lim_{\Delta x \rightarrow 0} \frac{f(x + \Delta x) - f(x)}{\Delta x} = f'(x)$$

が成り立つ. よって  $f$  が微分可能であることと極限  $f'(x)$  が存在することとは必要十分条件であり,  $\alpha = f'(x)$  となる. □



**例 2.60** 錐微分可能錐 関数  $y = f(x) = x^2$  に関して

$$\Delta y = \alpha \Delta x + \epsilon(\rho)$$

とおく . このとき

$$\begin{aligned} \lim_{\rho \rightarrow 0} \frac{\epsilon(\rho)}{\rho} &= \lim_{\rho \rightarrow 0} \frac{(2x - \alpha)\Delta x + \Delta x^2}{\rho} = \pm \lim_{\rho \rightarrow 0} \frac{(2x - \alpha)\Delta x + \Delta x^2}{\Delta x} = \pm \lim_{\rho \rightarrow 0} ((2x - \alpha) + \Delta x) \\ &= \pm(2x - \alpha) \end{aligned}$$

が成り立つ .  $\alpha = 2x$  のとき 0 となるから ,

$$\Delta y = 2x \Delta x + o(\rho) \quad (\rho \rightarrow 0)$$

が成り立つ .  $y = x^2$  は微分可能であり ,  $y$  の微分は

$$dy = 2x dx$$

である .

□

## § 2.12 全微分可能性

**定義 2.61** 錐全微分可能錐 関数  $z = f(x, y)$  において , 点  $(x, y)$  から点  $(x + \Delta x, y + \Delta y)$  への増分

$$\Delta z = f(x + \Delta x, y + \Delta y) - f(x, y)$$

に対して

$$\Delta z = \alpha \Delta x + \beta \Delta y + o(\rho), \quad \rho = \sqrt{\Delta x^2 + \Delta y^2} \quad (\rho \rightarrow 0)$$

をみたく  $\alpha, \beta$  が存在するとき , 関数  $z = f(x, y)$  は全微分可能 (total differentiable) であるという . このとき ,

$$dz = \alpha dx + \beta dy$$

と表記し ,  $dz$  を  $z = f(x, y)$  の全微分または単に微分という .

□

**例 2.62** 錐微分可能錐 関数  $z = f(x, y) = xy$  は全微分可能であるか考える . まず , 増分は

$$\Delta z = f(x + \Delta x, y + \Delta y) - f(x, y) = (x + \Delta x)(y + \Delta y) - xy = y\Delta x + x\Delta y + \Delta x\Delta y$$

である . この増分が

$$\Delta z = \alpha \Delta x + \beta \Delta y + \epsilon(\rho), \quad \rho = \sqrt{\Delta x^2 + \Delta y^2}$$

の形をみたすと仮定する．このとき式変形すると

$$\frac{\epsilon(\rho)}{\rho} = \frac{(y - \alpha)\Delta x + (x - \beta)\Delta y + \Delta x\Delta y}{\sqrt{\Delta x^2 + \Delta y^2}}$$

となる．ここで  $\Delta x = \rho \cos \theta$ ,  $\Delta y = \rho \sin \theta$  とおき,  $\rho \rightarrow 0$  の極限をとると,

$$\begin{aligned} \lim_{\rho \rightarrow 0} \frac{\epsilon(\rho)}{\rho} &= \lim_{\rho \rightarrow 0} \frac{(y - \alpha)\rho \cos \theta + (x - \beta)\rho \sin \theta + \rho^2 \sin \theta \cos \theta}{\rho} \\ &= \lim_{\rho \rightarrow 0} (y - \alpha) \cos \theta + (x - \beta) \sin \theta + \rho \sin \theta \cos \theta \\ &= (y - \alpha) \cos \theta + (x - \beta) \sin \theta \end{aligned}$$

を得る． $\lim_{\rho \rightarrow 0} \frac{\epsilon}{\rho} = 0$  となるためには

$$\alpha = y, \quad \beta = x$$

とおく．よって,

$$\Delta z = y \Delta x + x \Delta y + o(\rho) \quad (\rho \rightarrow 0)$$

が成り立つ．関数  $z = xy$  は全微分可能である．また,  $z = xy$  の全微分は

$$dz = y dx + x dy$$

となる．

□

**例 2.63** 錐微分可能錐 関数  $z = f(x, y) = \frac{x^2}{y}$  は全微分可能であるか考える．まず, 増分は

$$\begin{aligned} \Delta z &= f(x + \Delta x, y + \Delta y) - f(x, y) = \frac{(x + \Delta x)^2}{y + \Delta y} - \frac{x^2}{y} = \frac{2xy\Delta x + y\Delta x^2 - x^2\Delta y}{y(y + \Delta y)} \\ &= \frac{2x + \Delta x}{y + \Delta y} \Delta x - \frac{x^2}{y(y + \Delta y)} \Delta y \end{aligned}$$

である．この増分が

$$\Delta z = \alpha \Delta x + \beta \Delta y + \epsilon(\rho), \quad \rho = \sqrt{\Delta x^2 + \Delta y^2}$$

の形をみたすと仮定する．このとき式変形すると

$$\frac{\epsilon(\rho)}{\rho} = \left( \frac{2x + \Delta x}{y + \Delta y} - \alpha \right) \frac{\Delta x}{\sqrt{\Delta x^2 + \Delta y^2}} + \left( \frac{-x^2}{y(y + \Delta y)} - \beta \right) \frac{\Delta y}{\sqrt{\Delta x^2 + \Delta y^2}}$$

となる．ここで  $\Delta x = \rho \cos \theta$ ,  $\Delta y = \rho \sin \theta$  とおき,  $\rho \rightarrow 0$  の極限をとると,

$$\begin{aligned} \lim_{\rho \rightarrow 0} \frac{\epsilon(\rho)}{\rho} &= \lim_{\rho \rightarrow 0} \left( \left( \frac{2x + \rho \cos \theta}{y + \rho \sin \theta} - \alpha \right) \frac{\rho \cos \theta}{\rho} + \left( \frac{-x^2}{y(y + \rho \sin \theta)} - \beta \right) \frac{\rho \sin \theta}{\rho} \right) \\ &= \left( \frac{2x}{y} - \alpha \right) \cos \theta + \left( -\frac{x^2}{y^2} - \beta \right) \sin \theta \end{aligned}$$

を得る． $\lim_{\rho \rightarrow 0} \frac{\epsilon}{\rho} = 0$  となるためには

$$\alpha = \frac{2x}{y}, \quad \beta = -\frac{x^2}{y^2}$$

とおく．よって， $y \neq 0$  のとき

$$\Delta z = \frac{2x}{y} \Delta x - \frac{x^2}{y^2} \Delta y + o(\rho) \quad (\rho \rightarrow 0)$$

が成り立つ．関数  $z = \frac{x^2}{y}$  は  $y \neq 0$  のとき全微分可能である．また， $z = \frac{x^2}{y}$  の全微分は

$$dz = \frac{2x}{y} dx - \frac{x^2}{y^2} dy$$

となる．

□

**例 2.64** 総微分可能関数  $z = f(x, y) = |x + y|$  が原点で全微分可能であるか考える．まず，原点における増分は

$$\Delta z = f(0 + \Delta x, 0 + \Delta y) - f(0, 0) = |0 + \Delta x + 0 + \Delta y| - |0 + 0| = |\Delta x + \Delta y|$$

である．この増分が

$$\Delta z = \alpha \Delta x + \beta \Delta y + \epsilon(\rho), \quad \rho = \sqrt{\Delta x^2 + \Delta y^2}$$

の形をみたと仮定する．このとき式変形すると

$$\frac{\epsilon(\rho)}{\rho} = \frac{|\Delta x + \Delta y| - \alpha \Delta x - \beta \Delta y}{\rho}$$

となる．ここで  $\Delta x = \rho \cos \theta$ ,  $\Delta y = \rho \sin \theta$  とおくと，

$$\begin{aligned} \frac{\epsilon(\rho)}{\rho} &= \frac{|\rho \cos \theta + \rho \sin \theta| - \alpha \rho \cos \theta - \beta \rho \sin \theta}{\rho} = |\cos \theta + \sin \theta| - (\alpha \cos \theta + \beta \sin \theta) \\ &= \left| \sqrt{2} \sin \left( \theta + \frac{\pi}{2} \right) \right| - \sqrt{\alpha^2 + \beta^2} \sin(\theta + \phi), \quad \phi = \text{Tan}^{-1} \frac{\alpha}{\beta} \end{aligned}$$

となる．極限をとると

$$\lim_{\rho \rightarrow 0} \frac{\epsilon(\rho)}{\rho} = \begin{cases} \sqrt{2} \sin \left( \theta + \frac{\pi}{2} \right) - \sqrt{\alpha^2 + \beta^2} \sin(\theta + \phi) & \left( 0 \leq \theta + \frac{\pi}{2} \leq \pi \right) \\ -\sqrt{2} \sin \left( \theta + \frac{\pi}{2} \right) - \sqrt{\alpha^2 + \beta^2} \sin(\theta + \phi) & \left( \pi \leq \theta + \frac{\pi}{2} \leq 2\pi \right) \end{cases}$$

となる．これが 0 となる  $\alpha, \beta$  は  $0 \leq \theta + \frac{\pi}{2} \leq \pi$  のとき  $\alpha = 1, \beta = 1$  であり， $\pi \leq \theta + \frac{\pi}{2} \leq 2\pi$  のとき  $\alpha = \pm 1, \beta = \mp 1$  (復号同順) である．よって，極限の取り方によらず  $\alpha, \beta$  は一意に定まらないので， $z = f(x, y)$  は原点で全微分不可能である．

□

## § 2.13 多変数関数の全微分

**定義 2.65** 全微分 全微分 全微分  $n$  変数関数  $z = f(x_1, x_2, \dots, x_n)$  において,

$$\Delta z = \alpha_1 \Delta x_1 + \alpha_2 \Delta x_2 + \dots + \alpha_n \Delta x_n + o(\rho), \quad \rho = \sqrt{\Delta x_1^2 + \Delta x_2^2 + \dots + \Delta x_n^2} \quad (\rho \rightarrow 0)$$

をみたす  $\alpha_1, \alpha_2, \dots, \alpha_n$  が存在するとき,  $f$  は全微分可能であるといい,

$$dz = \alpha_1 dx_1 + \alpha_2 dx_2 + \dots + \alpha_n dx_n$$

と表記する.  $dz$  を  $z$  の全微分または微分という. □

## § 2.14 全微分可能性と偏微分可能性

**定理 2.66** 全微分可能の必要条件 関数  $z = f(x, y)$  が全微分可能であれば,  $f$  は偏微分可能であり,

$$dz = \frac{\partial f}{\partial x} dx + \frac{\partial f}{\partial y} dy$$

が成り立つ.

(証明) 関数  $z = f(x, y)$  が全微分可能であれば,

$$\Delta z = \alpha \Delta x + \beta \Delta y + o(\rho) \quad (\rho \rightarrow 0), \quad \rho = \sqrt{\Delta x^2 + \Delta y^2}$$

が成り立つ.  $x$  軸に沿って極限をとる.  $\Delta y = 0, \Delta x \rightarrow 0$  とする. このとき,  $\rho = |\Delta x|$  であるから,

$$\Delta z = \alpha \Delta x + o(|\Delta x|) \quad (|\Delta x| \rightarrow 0)$$

が成り立つ. これは

$$\begin{aligned} \frac{\Delta z}{\Delta x} - \alpha &= \frac{o(\Delta x)}{\Delta x} \quad (\Delta x \rightarrow 0) \Leftrightarrow \lim_{\Delta x \rightarrow 0} \left( \frac{\Delta z}{\Delta x} - \alpha \right) = 0 \\ \Leftrightarrow \alpha &= \lim_{\Delta x \rightarrow 0} \frac{\Delta z}{\Delta x} = \lim_{\Delta x \rightarrow 0} \frac{f(x + \Delta x, y) - f(x, y)}{\Delta x} = \frac{\partial f}{\partial x} \end{aligned}$$

と等価である. また,  $y$  軸に沿って極限をとる.  $\Delta x = 0, \Delta y \rightarrow 0$  とすると, 同様にして  $\beta = \frac{\partial f}{\partial y}$  を得る. □

## § 2.15 全微分可能の十分条件

**定理 2.67** 全微分可能の十分条件 関数  $z = f(x, y)$  において, 偏導関数  $f_x(x, y), f_y(x, y)$  が存在し, かつこれらが連続関数であれば,  $z = f(x, y)$  は全微分可能である (注) 逆は成り立たない. □

**注意 2.68** 全微分可能の十分条件 全微分可能となる十分条件は他にもあるが、上の定理が一番実用的である。 □

**注意 2.69** 偏微分の可換性  $f_x, f_y$  が存在し、かつ連続関数であれば、 $f_{xy} = f_{yx}$  が成立する（定理 2.38 参照）。 □

**例 2.70** 全微分 関数  $z = f(x, y) = x^2 e^{xy}$  は偏導関数

$$f_x(x, y) = (x^2 e^{xy})_x = 2x e^{xy} + x^2 y e^{xy} = (2x + x^2 y) e^{xy},$$

$$f_y(x, y) = (x^2 e^{xy})_y = x^3 e^{xy}$$

が存在し、これらは連続関数である。よって  $f(x, y)$  は全微分可能である。また、 $z$  の全微分は

$$dz = f_x(x, y) dx + f_y(x, y) dy = (2x + x^2 y) e^{xy} dx + x^3 e^{xy} dy = e^{xy} ((2x + x^2 y) dx + x^3 dy)$$

となる（注意）微分  $dx, dy$  と関数  $e^{xy}, 2x + x^2 y, x^3$  の書く順を入れ替えてはならない。つまり、 $dz = ((2x + x^2 y) dx + x^3 dy) e^{xy}$  や  $dz = e^{xy} (dx (2x + x^2 y) + dy x^3)$  は誤った表記である。 □

**例 2.71** 全微分 関数  $z = x^4 y + x^2 y^3 + xy^4$  は偏導関数

$$z_x = 4x^3 y + 2xy^3 + y^4, \quad z_y = x^4 + 3x^2 y^2 + 4xy^3$$

が存在し、かつこれらは連続関数である。よって  $z$  は全微分可能であり、 $z$  の全微分は

$$dz = z_x dx + z_y dy = (4x^3 y + 2xy^3 + y^4) dx + (x^4 + 3x^2 y^2 + 4xy^3) dy$$

となる。 □

**例 2.72** 全微分 関数  $\theta = \text{Tan}^{-1} \left( \frac{y}{x} \right)$  は偏導関数

$$\theta_x = \frac{-y}{x^2 + y^2}, \quad \theta_y = \frac{x}{x^2 + y^2},$$

が存在し、かつこれらは原点を除き連続関数である。よって  $z$  は原点を除き全微分可能であり、 $z$  の全微分は

$$d\theta = \theta_x dx + \theta_y dy = \frac{-y}{x^2 + y^2} dx + \frac{x}{x^2 + y^2} dy = \frac{-y dx + x dy}{x^2 + y^2}$$

となる（注意）微分  $dx, dy$  と関数  $-y, x$  の書く順を入れ替えてはならない。また、分母  $x^2 + y^2$  の部分は微分  $dx, dy$  の前から  $(x^2 + y^2)^{-1}$  が掛けられているという意味であることに注意する。つまり、以下の表記はすべて誤った表記である：

$$d\theta = \frac{-dx y + dy x}{x^2 + y^2} = (-y dx + x dy) \frac{1}{x^2 + y^2} = (-dx y + dy dx) \frac{1}{x^2 + y^2}.$$

□

**例 2.73** 鑿全微分鑿 関数  $u = xy + yz + zx$  は偏導関数

$$u_x = u + z, \quad u_y = x + z, \quad u_z = y + x$$

が存在し, かつこれらは連続関数である. よって  $u$  は全微分可能であり,  $u$  の全微分は

$$du = u_x dx + u_y dy + u_z dz = (u + z) dx + (x + z) dy + (x + y) dz$$

となる.

□

## § 2.16 全微分可能性と連続性

**定理 2.74** 鑿全微分可能と連続鑿 関数  $z = f(x, y)$  が全微分可能であれば,  $z = f(x, y)$  は連続関数である.

(証明) 関数  $z = f(x, y)$  が全微分可能であれば,

$$\Delta z = \alpha \Delta x + \beta \Delta y + o(\rho) \quad (\rho \rightarrow 0), \quad \rho = \sqrt{\Delta x^2 + \Delta y^2}$$

が成り立つ. このとき  $(\Delta x, \Delta y) \rightarrow (0, 0)$  の極限をとる. 右辺は

$$\lim_{(\Delta x, \Delta y) \rightarrow (0, 0)} (\alpha \Delta x + \beta \Delta y + o(\rho)) = 0$$

となる. よって左辺も 0 となるので,

$$\begin{aligned} \lim_{(\Delta x, \Delta y) \rightarrow (0, 0)} \Delta z = 0 &\Leftrightarrow \lim_{(\Delta x, \Delta y) \rightarrow (0, 0)} f(x + \Delta x, y + \Delta y) - f(x, y) = 0 \\ \Leftrightarrow f(x, y) &= \lim_{(\Delta x, \Delta y) \rightarrow (0, 0)} f(x + \Delta x, y + \Delta y) \Leftrightarrow f(x, y) = \lim_{(\tilde{x}, \tilde{y}) \rightarrow (x, y)} f(\tilde{x}, \tilde{y}) \end{aligned}$$

を得る. 点  $(x, y)$  への極限  $\lim_{(\tilde{x}, \tilde{y}) \rightarrow (x, y)} f(\tilde{x}, \tilde{y})$  が存在し, かつ点  $(x, y)$  における値  $f(x, y)$  と等しいので, 関数  $f(x, y)$  は任意の点  $(x, y)$  について連続である.

□

## § 2.17 演習問題 ~ ランダウの記号, 全微分

**問 2.75** 鏢ランダウの記号鏢 次の式をみたま  $g(x), h(x)$  を書け .

- (1)  $\sin x - x = o(g(x)) = O(h(x)) \quad (x \rightarrow 0)$     (2)  $\cos x = 1 + o(g(x)) = 1 + O(h(x)) \quad (x \rightarrow 0)$   
 (3)  $\log(1+x) = x - \frac{x^2}{2} + o(g(x)) = x - \frac{x^2}{2} + O(h(x)) \quad (x \rightarrow 0)$   
 (4)  $\sqrt{x^2+x} = o(g(x)) = O(h(x)) \quad (x \rightarrow \infty)$  □

**問 2.76** 鏢ランダウの記号鏢 次の評価式の □ をうめて評価式を完成せよ .

- (1)  $e^x = \square + \square x + \square x^2 + O(x^\square) \quad (x \rightarrow 0)$     (2)  $e^x = \square + \square x + \square x^2 + o(x^\square) \quad (x \rightarrow 0)$   
 (3)  $\sin x = \square + \square x + \square x^2 + O(x^\square) \quad (x \rightarrow 0)$     (4)  $\sin x = \square + \square x + \square x^2 + o(x^\square) \quad (x \rightarrow 0)$   
 (5)  $\log(1+x) = \square + \square x + \square x^2 + O(x^\square) \quad (x \rightarrow 0)$   
 (6)  $\log(1+x) = \square + \square x + \square x^2 + o(x^\square) \quad (x \rightarrow 0)$   
 (7)  $\log(1+x) - \sin x = \square + \square x + \square x^2 + O(x^\square) \quad (x \rightarrow 0)$   
 (8)  $\frac{\sinh x}{x} = \square + \square x + \square x^2 + o(x^\square) \quad (x \rightarrow 0)$   
 (9)  $\sinh x = \frac{1}{2}(e^x - e^{-x}) = \square + \square x + \square x^2 + \square x^3 + O(x^\square) \quad (x \rightarrow 0)$  □

**問 2.77** 鏢全微分鏢 次の関数が全微分可能であるか議論せよ .

- (1)  $z = xy$     (2)  $z = x + y$     (3)  $z = \frac{x^2}{y}$     (4)  $z = |x + y|$

(ヒント) 次の手順 (i)–(v) で議論する . (i) 点  $(x, y)$  から点  $(x + \Delta x, y + \Delta y)$  への増分  $\Delta z$  を求める . (ii)  $\Delta z = \alpha \Delta x + \beta \Delta y + \epsilon, \rho = \sqrt{(\Delta x)^2 + (\Delta y)^2}$  とおき,  $\epsilon/\rho$  を求める . (iii)  $\Delta x = \rho \cos \theta, \Delta y = \rho \sin \theta$  とおき, 極限  $\lim_{\rho \rightarrow 0} \epsilon/\rho$  を求める . (iv)  $\lim_{\rho \rightarrow 0} \epsilon/\rho = 0$  をみたま有限な  $\alpha, \beta$  を決定する . (v)  $\Delta z = \alpha \Delta x + \beta \Delta y + o(\rho) \quad (\rho \rightarrow 0)$  をみたま有限な  $\alpha, \beta$  が一意に存在することを示す . □

**問 2.78** 鏢全微分鏢 次の関数の全微分を求めよ .

- (1)  $z = x^2 e^{xy}$     (2)  $z = x^4 y + x^2 y^3 + xy^4$     (3)  $z = \text{Tan}^{-1} \frac{y}{x}$     (4)  $u = xy + yz + zx$   
 (5)  $z = x^4 + 3x^2 y + y^5$     (6)  $z = 3x^4 y - 5x^2 y^3 + 2xy^4$     (7)  $z = x \cos y - y \cos x$   
 (8)  $z = \frac{e^{xy}}{e^x + e^y}$     (9)  $z = \text{Sin}^{-1} x^2 y$     (10)  $z = \text{Sin}^{-1} \frac{x}{y}$  □

**問 2.79** 鏢全部分可能性と連続性鏢 次の示せ .

- (1) 関数  $f(x, y)$  が全微分可能なとき,  $f(x, y)$  は偏微分可能である .  
 (2) 関数  $f(x, y)$  が全微分可能なとき,  $f(x, y)$  は連続である . □

**問 2.80** 鏢2変数関数の微分鏢 関数  $f(x, y) = \frac{1}{\sin x + \cos y}$  に対して, 次の問に答えよ .

- (1) 偏導関数  $f_x, f_y$  を求めよ .    (2) 偏微係数  $f_x(0, 0), f_y(0, 0)$  を求めよ .  
 (3) 全微分  $df$  を求めよ .    (4) 原点において関数  $f(x, y)$  は連続であるか示せ .  
 (5) 関数  $F(x, y) = f_{xx}(x, y) + f_{yy}(x, y)$  を求めよ . □

## § 2.18 1 変数関数の合成関数の微分

**定理 2.81** 総合成関数の微分 関数  $y = f(x)$ ,  $x = \phi(t)$  の合成関数  $y = f(\phi(t))$  は  $t$  についての 1 変数関数であり, この合成関数の導関数は

$$\frac{dy}{dt} = \frac{dy}{dx} \frac{dx}{dt}$$

となる. または, 代入も含めて正確に書くと

$$\frac{d}{dt} f(\phi(t)) = f'(\phi(t)) \phi'(t)$$

となる.

(証明) 関数  $y = f(x)$ ,  $x = \phi(t)$  を微分可能とすると

$$dy = f'(x)dx, \quad dx = \phi'(t)dt$$

であり,

$$( ) \quad \Delta y = f(x + \Delta x) - f(x) = f'(x)\Delta x + \varepsilon_1(\Delta x),$$

$$( ) \quad \lim_{\Delta x \rightarrow 0} \frac{\varepsilon_1(\Delta x)}{\Delta x} = 0,$$

$$( ) \quad \Delta x = \phi(t + \Delta t) - \phi(t) = \phi'(t)\Delta t + \varepsilon_2(\Delta t),$$

$$( ) \quad \lim_{\Delta t \rightarrow 0} \frac{\varepsilon_2(\Delta t)}{\Delta t} = 0$$

と表される. このとき,

$$\begin{aligned} \frac{\Delta y}{\Delta t} &= \frac{f(\phi(t + \Delta t)) - f(\phi(t))}{\Delta t} = \frac{f(x + \Delta x) - f(x)}{\Delta x} \frac{\Delta x}{\Delta t} = \frac{\Delta y}{\Delta x} \frac{\Delta x}{\Delta t} \\ &= \frac{f'(x)\Delta x + \varepsilon_1}{\Delta x} \frac{\phi'(t)\Delta t + \varepsilon_2}{\Delta t} = \left( f'(x) + \frac{\varepsilon_1}{\Delta x} \right) \left( \phi'(t) + \frac{\varepsilon_2}{\Delta t} \right) \\ &= f'(x)\phi'(t) + \phi'(t)\frac{\varepsilon_1}{\Delta x} + f'(x)\frac{\varepsilon_2}{\Delta t} + \frac{\varepsilon_1}{\Delta x} \frac{\varepsilon_2}{\Delta t} \end{aligned}$$

となる. ここで  $\Delta t \rightarrow 0$  の極限をとると ( ) が成り立つ. このとき,  $\Delta t \rightarrow 0, \varepsilon_2 \rightarrow 0$  より, ( ) は  $\Delta x \rightarrow 0$  となる.  $\Delta x \rightarrow 0$  のとき ( ) が成り立つ. よって, ( ), ( ) より,

$$\lim_{\Delta t \rightarrow 0} \frac{\Delta y}{\Delta t} = f'(x)\phi'(t) = f'(\phi(t))\phi'(t)$$

を得る. □



## § 2.19 2変数関数と1変数関数の合成関数の微分

**定理 2.82** 総合成関数の微分 全微分可能な2変数関数  $z = f(x, y)$  と1変数関数  $x = \phi(t)$ ,  $y = \psi(t)$  との合成関数  $z = f(\phi(t), \psi(t))$  の導関数は

$$\frac{dz}{dt} = \frac{\partial z}{\partial x} \frac{dx}{dt} + \frac{\partial z}{\partial y} \frac{dy}{dt}$$

となる。また、代入も含めて正確に書くと

$$\frac{d}{dt} f(\phi(t), \psi(t)) = f_x(\phi(t), \psi(t))\phi'(t) + f_y(\phi(t), \psi(t))\psi'(t)$$

となる。

(証明) 関数  $z = f(x, y)$  は全微分可能であり、関数  $x = \phi(t)$ ,  $y = \psi(t)$  は微分可能とする。このとき

$$dz = f_x(x, y)dx + f_y(x, y)dy, \quad dx = \phi'(t)dt, \quad dy = \psi'(t)dt$$

が成り立つ。または、

$$\Delta z = f(x + \Delta x, y + \Delta y) - f(x, y) = f_x(x, y)\Delta x + f_y(x, y)\Delta y + \varepsilon_1, \quad \varepsilon_1(\rho) = o(\rho) \quad (\rho \rightarrow 0),$$

$$\Delta x = \phi(t + \Delta t) - \phi(t) = \phi'(t)\Delta t + \varepsilon_2, \quad \varepsilon_2(\Delta t) = o(\Delta t) \quad (\Delta t \rightarrow 0),$$

$$\Delta y = \psi(t + \Delta t) - \psi(t) = \psi'(t)\Delta t + \varepsilon_3, \quad \varepsilon_3(\Delta t) = o(\Delta t) \quad (\Delta t \rightarrow 0)$$

と表される。ただし、 $\rho = \sqrt{\Delta x^2 + \Delta y^2}$  とおく。このとき、

$$\begin{aligned} \frac{\Delta z}{\Delta t} &= \frac{f(\phi(t + \Delta t), \psi(t + \Delta t)) - f(\phi(t), \psi(t))}{\Delta t} = \frac{f(x + \Delta x, y + \Delta y) - f(x, y)}{\Delta t} \\ &= \frac{f_x(x, y)\Delta x + f_y(x, y)\Delta y + \varepsilon_1}{\Delta t} = f_x(x, y)\frac{\Delta x}{\Delta t} + f_y(x, y)\frac{\Delta y}{\Delta t} + \frac{\varepsilon_1}{\Delta t} \\ &= f_x(x, y)\frac{\phi'(t)\Delta t + \varepsilon_2}{\Delta t} + f_y(x, y)\frac{\psi'(t)\Delta t + \varepsilon_3}{\Delta t} + \frac{\varepsilon_1}{\Delta t} \\ &= f_x(x, y)\phi'(t) + f_y(x, y)\psi'(t) + \frac{\varepsilon_1}{\Delta t} + f_x(x, y)\frac{\varepsilon_2}{\Delta t} + f_y(x, y)\frac{\varepsilon_3}{\Delta t} \end{aligned}$$

が成り立つ。 $\Delta t \rightarrow 0$  の極限をとると、 $\varepsilon_2(\Delta t) = o(\Delta t)$ ,  $\varepsilon_3(\Delta t) = o(\Delta t)$ ,  $\varepsilon_1(\rho) = o(\rho)$  より、

$$\lim_{\Delta t \rightarrow 0} \frac{\varepsilon_2(\Delta t)}{\Delta t} = 0, \quad \lim_{\Delta t \rightarrow 0} \frac{\varepsilon_3(\Delta t)}{\Delta t} = 0 \text{ であり,}$$

$$\begin{aligned} \lim_{\Delta t \rightarrow 0} \frac{\varepsilon_1}{\Delta t} &= \lim_{\Delta t \rightarrow 0} \frac{\varepsilon_1}{\rho} \frac{\rho}{\Delta t} = \left( \lim_{\Delta t \rightarrow 0} \frac{\varepsilon_1}{\rho} \right) \left( \lim_{\Delta t \rightarrow 0} \sqrt{\left(\frac{\Delta x}{\Delta t}\right)^2 + \left(\frac{\Delta y}{\Delta t}\right)^2} \right) \\ &= \left( \lim_{\Delta t \rightarrow 0} \frac{\varepsilon_1}{\rho} \right) \left( \lim_{\Delta t \rightarrow 0} \sqrt{\left(\phi'(t) + \frac{\varepsilon_2}{\Delta t}\right)^2 + \left(\psi'(t) + \frac{\varepsilon_3}{\Delta t}\right)^2} \right) = 0 \times \sqrt{\phi'(t)^2 + \psi'(t)^2} = 0 \end{aligned}$$

となるので,

$$\lim_{\Delta t \rightarrow 0} \frac{\Delta z}{\Delta t} = f_x(x, y)\phi'(t) + f_y(x, y)\psi'(t) = f_x(\phi(t), \psi(t))\phi'(t) + f_y(\phi(t), \psi(t))\psi'(t)$$

を得る.

□

**例 2.83** 鋸合成関数の微分 関数  $z = f(x, y)$ ,  $x = 2t - 3$ ,  $y = -t + 1$  の合成関数  $z = f(2t - 3, -t + 1)$  の導関数は,

$$\frac{dx}{dt} = 2, \quad \frac{dy}{dt} = -1$$

より

$$\frac{dz}{dt} = \frac{\partial f}{\partial x} \frac{dx}{dt} + \frac{\partial f}{\partial y} \frac{dy}{dt} = 2f_x(2t - 3, -t + 1) - f_y(2t - 3, -t + 1)$$

となる.

□

**例 2.84** 鋸合成関数の微分 関数  $z = xy^2 - x^2y$ ,  $x = t^2$ ,  $y = e^t$  の合成関数の導関数は,

$$\frac{\partial z}{\partial x} = y^2 - 2xy = e^{2t} - 2t^2e^t, \quad \frac{\partial z}{\partial y} = 2xy - x^2 = 2t^2e^t - t^4, \quad \frac{dx}{dt} = 2t, \quad \frac{dy}{dt} = e^t$$

より

$$\frac{dz}{dt} = \frac{\partial z}{\partial x} \frac{dx}{dt} + \frac{\partial z}{\partial y} \frac{dy}{dt} = (e^{2t} - 2t^2e^t)2t + (2t^2e^t - t^4)e^t = 2(t^2 + t)e^{2t} - (t^4 + 4t^3)e^t$$

となる.

□

**例 2.85** 鋸合成関数の微分 関数  $z = x^3y^2$ ,  $x = t^2$ ,  $y = t^4$  の合成関数の微分は,

$$z_x = 3x^2y^2 = 3t^4t^8 = 3t^{12}, \quad z_y = 2x^3y = 2t^6t^4 = 2t^{10}, \quad x' = 2t, \quad y' = 4t^3$$

より

$$\frac{dz}{dt} = z_x x' + z_y y' = (3t^{12})(2t) + (2t^{10})(4t^3) = 14t^{13}$$

となる.

□

**例 2.86** 鋸合成関数の微分 関数  $z = f(x, y)$  において, 合成関数  $z = f(g(t), t)$  の  $\frac{dz}{dt}$  を

求める.  $\frac{dx}{dt} = g'(t)$ ,  $\frac{dy}{dt} = 1$  より

$$\frac{dz}{dt} = \frac{d}{dt}f(g(t), t) = \frac{\partial f}{\partial x} \frac{dx}{dt} + \frac{\partial f}{\partial y} \frac{dy}{dt} = f_x(g(t), t)g'(t) + f_y(t, g(t))$$

となる．さらにこの式の両辺を  $t$  で微分して  $\frac{d^2z}{dt^2}$  も求める．上式の結果と第 1 項目の積の微分に注意して計算すると，

$$\begin{aligned}\frac{d^2z}{dt^2} &= \frac{d}{dt}(f_x(g(t), t)g'(t) + f_y(t, g(t))) = \frac{d}{dt}f_x(g(t), t) \times g'(t) + f_x(g(t), t) \times \frac{d}{dt}g'(t) + \frac{d}{dt}f_y(t, g(t)) \\ &= (f_{xx}(g(t), t)g'(t) + f_{xy}(g(t), t))g'(t) + f_x(g(t), t)g''(t) + f_{yx}(g(t), t)g'(t) + f_{yy}(g(t), t) \\ &= f_x(g(t), t)g''(t) + f_{xx}(g(t), t)(g'(t))^2 + 2f_{xy}(g(t), t)g'(t) + f_{yy}(g(t), t)\end{aligned}$$

を得る．

□

**例 2.87** 総合成関数の微分 関数  $z = f(x, y)$ ,  $y = g(x)$  の合成関数  $z = f(x, g(x))$  の  $x$  微分を考える．まず,  $x = t, y = g(t)$  と置き換えて,  $z = f(t, g(t))$  を  $t$  で微分する． $\frac{dx}{dt} = 1$ ,  $\frac{dy}{dt} = g'(t)$  より

$$\frac{dz}{dt} = \frac{d}{dt}f(t, g(t)) = \frac{\partial f}{\partial x} \frac{dx}{dt} + \frac{\partial f}{\partial y} \frac{dy}{dt} = f_x(t, g(t)) + f_y(t, g(t))g'(t)$$

となる． $t$  を  $x$  に置き換えると

$$\frac{dz}{dx} = \frac{d}{dx}f(x, g(x)) = f_x(x, g(x)) + f_y(x, g(x))g'(x)$$

を得る．同様にして，

$$\frac{d^2z}{dx^2} = f_{yy}(x, g(x))g''(x) + f_{xx}(x, g(x)) + 2f_{xy}(x, g(x))g'(x) + f_{yy}(x, g(x))(g'(x))^2$$

を得る．

□

**例 2.88** 総合成関数の微分 関数  $z = f(x, y)$  を用いて関数  $F(t) = f(at, bt)$  を考える．このとき  $t$  で微分すると

$$\frac{dF}{dt} = af_x(at, bt) + bf_y(at, bt)$$

となる．さらに微分して

$$\begin{aligned}\frac{d^2F}{dt^2} &= \frac{d}{dt} \frac{dF}{dt} = a \frac{d}{dt}f_x(at, bt) + b \frac{d}{dt}f_y(at, bt) \\ &= a(a f_{xx}(at, bt) + b f_{xy}(at, bt)) + b(a f_{yx}(at, bt) + b f_{yy}(at, bt)) \\ &= a^2 f_{xx}(at, bt) + 2ab f_{xy}(at, bt) + b^2 f_{yy}(at, bt)\end{aligned}$$

となる．

□

**例 2.89** 総合成関数の微分 関数  $F(t) = f(at, bt)$  の 3 階導関数は

$$\frac{d^3F}{dt^3} = a^3 f_{xxx}(at, bt) + 3a^2b f_{xxy}(at, bt) + 3ab^2 f_{xyy}(at, bt) + b^3 f_{yyy}(at, bt)$$

となる．

□

**例 2.90** 鋸合成関数の微分 鋸  $z = xg(y) + yf(x)$ ,  $x = t^3$ ,  $y = t^2$  のとき,

$$\begin{aligned} \frac{dz}{dt} &= (xg(y) + yf(x))_x \frac{dx}{dt} + (xg(y) + yf(x))_y \frac{dy}{dt} \\ &= (g(y) + yf'(x)) \frac{dx}{dt} + (xg'(y) + f(x)) \frac{dy}{dt} = (g(t^2) + t^2 f'(t^3))3t^2 + (t^3 g'(t^2) + f(t^3))2t \\ &= 2tf(t^3) + 3t^2g(t^2) + 3t^4 f'(t^3) + 2t^4 g'(t^2) \end{aligned}$$

となる.

□

## § 2.20 2変数関数と2変数関数の合成関数の微分

**定理 2.91** 鋸合成関数の微分 鋸 2変数関数  $z = f(x, y)$  と2変数関数  $x = \phi(u, v)$ ,  $y = \psi(u, v)$  の合成関数  $z = f(\phi(u, v), \psi(u, v))$  の偏微分は

$$\frac{\partial z}{\partial u} = \frac{\partial z}{\partial x} \frac{\partial x}{\partial u} + \frac{\partial z}{\partial y} \frac{\partial y}{\partial u}, \quad \frac{\partial z}{\partial v} = \frac{\partial z}{\partial x} \frac{\partial x}{\partial v} + \frac{\partial z}{\partial y} \frac{\partial y}{\partial v}$$

で与えられる. 代入も含めて書くと

$$\begin{aligned} \frac{\partial}{\partial u} f(\phi(u, v), \psi(u, v)) &= f_x(\phi(u, v), \psi(u, v))\phi_u(u, v) + f_y(\phi(u, v), \psi(u, v))\psi_u(u, v), \\ \frac{\partial}{\partial v} f(\phi(u, v), \psi(u, v)) &= f_x(\phi(u, v), \psi(u, v))\phi_v(u, v) + f_y(\phi(u, v), \psi(u, v))\psi_v(u, v) \end{aligned}$$

と表される.

□

**例 2.92** 鋸合成関数の微分の具体例 鋸 関数  $z = xy^2 + x^2y$  と関数  $x = u + v$ ,  $y = u - v$  の合成関数の偏導関数を求める. まず,

$$\begin{aligned} z_x &= y^2 + 2xy = (u - v)^2 + 2(u + v)(u - v) = 3u^2 - v^2 - 2uv, \\ z_y &= 2xy + x^2 = 2(u + v)(u - v) + (u + v)^2 = 3u^2 - v^2 + v^2 + 2uv, \\ x_u &= 1, \quad y_u = 1, \quad x_v = 1, \quad y_v = -1 \end{aligned}$$

より,

$$\begin{aligned} z_u &= z_x x_u + z_y y_u = (3u^2 - v^2 - 2uv) + (3u^2 - v^2 + v^2 + 2uv) = 6u^2 - 2v^2, \\ z_v &= z_x x_v + z_y y_v = (3u^2 - v^2 - 2uv) - (3u^2 - v^2 + v^2 + 2uv) = -4uv \end{aligned}$$

を得る.

□

**例 2.93** 鋸合成関数の微分の具体例 鋸 関数  $z = xy^2 + x^2y$  と関数  $x = r \cos \theta$ ,  $y = r \sin \theta$  の合成関数の偏導関数を求める. まず,

$$\begin{aligned} z_x &= y^2 + 2xy = r^2(\sin^2 \theta + 2 \cos \theta \sin \theta), & z_y &= 2xy + x^2 = r^2(2 \cos \theta \sin \theta + \cos^2 \theta), \\ x_r &= \cos \theta, & y_r &= \sin \theta, & x_\theta &= -r \sin \theta, & y_\theta &= r \cos \theta \end{aligned}$$

より,

$$\begin{aligned}z_r &= z_x x_r + z_y y_r = 3r^2 \sin \theta \cos \theta (\sin \theta + \cos \theta) \\z_\theta &= z_x x_\theta + z_y y_\theta = r^3 (1 + 3 \sin \theta \cos \theta) (\cos \theta - \sin \theta)\end{aligned}$$

を得る.

□

## § 2.21 $n$ 変数関数と 1 変数関数の合成関数の微分

**定理 2.94** 総多変数関数の合成関数の微分 総  $n$  変数関数  $z = f(x_1, x_2, \dots, x_n) = f(\mathbf{x})$  と 1 変数関数

$$x_1 = \phi_1(t), \quad x_2 = \phi_2(t), \quad \dots, \quad x_n = \phi_n(t)$$

の合成関数  $z = f(\mathbf{x}(t))$  の微分は

$$\frac{dz}{dt} = \frac{\partial f}{\partial x_1} \frac{dx_1}{dt} + \frac{\partial f}{\partial x_2} \frac{dx_2}{dt} + \dots + \frac{\partial f}{\partial x_n} \frac{dx_n}{dt} = \sum_{k=1}^n \frac{\partial f}{\partial x_k} \frac{dx_k}{dt} = \begin{bmatrix} \frac{\partial f}{\partial x_1} & \frac{\partial f}{\partial x_2} & \dots & \frac{\partial f}{\partial x_n} \end{bmatrix} \begin{bmatrix} \frac{dx_1}{dt} \\ \frac{dx_2}{dt} \\ \vdots \\ \frac{dx_n}{dt} \end{bmatrix}$$

で与えられる. ここで

$$\mathbf{x} = \mathbf{x}(t) = \begin{bmatrix} x_1 \\ x_2 \\ \vdots \\ x_n \end{bmatrix} = \begin{bmatrix} \phi_1(t) \\ \phi_2(t) \\ \vdots \\ \phi_n(t) \end{bmatrix}, \quad \mathbf{x}' = \mathbf{x}'(t) = \frac{d\mathbf{x}}{dt} = \begin{bmatrix} \phi_1'(t) \\ \phi_2'(t) \\ \vdots \\ \phi_n'(t) \end{bmatrix},$$

$$\nabla f = \nabla f(\mathbf{x}) = \text{grad } f = \text{grad } f(\mathbf{x}) = \begin{bmatrix} \frac{\partial f}{\partial x_1} & \frac{\partial f}{\partial x_2} & \dots & \frac{\partial f}{\partial x_n} \end{bmatrix} = \begin{bmatrix} f_{x_1}(\mathbf{x}) & f_{x_2}(\mathbf{x}) & \dots & f_{x_n}(\mathbf{x}) \end{bmatrix}$$

とおくと,

$$\frac{dz}{dt} = \nabla f \mathbf{x}' = \nabla f \cdot \mathbf{x}' = \text{grad } f \frac{d\mathbf{x}}{dt} = \text{grad } f \cdot \frac{d\mathbf{x}}{dt}$$

と書ける. また, 代入も含めて書くと

$$\begin{aligned}\frac{d}{dt} f(\phi_1(t), \phi_2(t), \dots, \phi_n(t)) &= f_{x_1}(\phi_1(t), \phi_2(t), \dots, \phi_n(t)) \phi_1'(t) \\ &\quad + f_{x_2}(\phi_1(t), \phi_2(t), \dots, \phi_n(t)) \phi_2'(t) + \\ &\quad \dots + f_{x_n}(\phi_1(t), \phi_2(t), \dots, \phi_n(t)) \phi_n'(t)\end{aligned}$$

となる.

□

**注意 2.95** 総多変数関数の合成関数の微分 曲面  $z = f(\mathbf{x})$  の点  $\mathbf{x}$  における法線ベクトルは  $\nabla f(\mathbf{x}(t))$  である (接平面の節を参照).  $\mathbf{x}(t)$  の軌跡は  $(x_1, \dots, x_n)$  空間内の曲線である. この曲線の接ベクトルは  $\mathbf{x}'(t)$  である.

□

## § 2.22 $n$ 変数関数と $m$ 変数関数の合成関数の微分

### 定理 2.96

鑷合成関数の微分鑷  $n$  変数関数  $z = f(x_1, x_2, \dots, x_n) = f(\mathbf{x})$  と  $m$  変数関数

$$\begin{aligned} x_1 &= \phi_1(u_1, u_2, \dots, u_m) = \phi_1(\mathbf{u}), \\ x_2 &= \phi_2(u_1, u_2, \dots, u_m) = \phi_2(\mathbf{u}), \\ &\vdots \\ x_n &= \phi_n(u_1, u_2, \dots, u_m) = \phi_n(\mathbf{u}) \end{aligned}$$

の合成関数  $z = f(\mathbf{x}(\mathbf{u}))$  の偏微分は

$$\begin{aligned} \frac{\partial z}{\partial u_1} &= \frac{\partial z}{\partial x_1} \frac{\partial x_1}{\partial u_1} + \frac{\partial z}{\partial x_2} \frac{\partial x_2}{\partial u_1} + \dots + \frac{\partial z}{\partial x_n} \frac{\partial x_n}{\partial u_1} = \sum_{k=1}^n \frac{\partial z}{\partial x_k} \frac{\partial x_k}{\partial u_1}, \\ \frac{\partial z}{\partial u_2} &= \frac{\partial z}{\partial x_1} \frac{\partial x_1}{\partial u_2} + \frac{\partial z}{\partial x_2} \frac{\partial x_2}{\partial u_2} + \dots + \frac{\partial z}{\partial x_n} \frac{\partial x_n}{\partial u_2} = \sum_{k=1}^n \frac{\partial z}{\partial x_k} \frac{\partial x_k}{\partial u_2}, \\ &\vdots \\ \frac{\partial z}{\partial u_m} &= \frac{\partial z}{\partial x_1} \frac{\partial x_1}{\partial u_m} + \frac{\partial z}{\partial x_2} \frac{\partial x_2}{\partial u_m} + \dots + \frac{\partial z}{\partial x_n} \frac{\partial x_n}{\partial u_m} = \sum_{k=1}^n \frac{\partial z}{\partial x_k} \frac{\partial x_k}{\partial u_m} \end{aligned}$$

で与えられる．行列表記すると

$$\begin{bmatrix} \frac{\partial z}{\partial u_1} & \frac{\partial z}{\partial u_2} & \dots & \frac{\partial z}{\partial u_m} \end{bmatrix} = \begin{bmatrix} \frac{\partial z}{\partial x_1} & \frac{\partial z}{\partial x_2} & \dots & \frac{\partial z}{\partial x_n} \end{bmatrix} \begin{bmatrix} \frac{\partial x_1}{\partial u_1} & \frac{\partial x_1}{\partial u_2} & \dots & \frac{\partial x_1}{\partial u_m} \\ \frac{\partial x_2}{\partial u_1} & \frac{\partial x_2}{\partial u_2} & \dots & \frac{\partial x_2}{\partial u_m} \\ \vdots & \vdots & \ddots & \vdots \\ \frac{\partial x_n}{\partial u_1} & \frac{\partial x_n}{\partial u_2} & \dots & \frac{\partial x_n}{\partial u_m} \end{bmatrix} \Leftrightarrow \nabla_{\mathbf{u}} z = \nabla_{\mathbf{x}} z J$$

となる．ただし，

$$\nabla_{\mathbf{u}} = \left[ \frac{\partial}{\partial u_1} \quad \frac{\partial}{\partial u_2} \quad \dots \quad \frac{\partial}{\partial u_m} \right], \quad \nabla_{\mathbf{x}} = \left[ \frac{\partial}{\partial x_1} \quad \frac{\partial}{\partial x_2} \quad \dots \quad \frac{\partial}{\partial x_n} \right], \quad J = \nabla_{\mathbf{u}} \mathbf{x} = \begin{bmatrix} \nabla_{\mathbf{u}} x_1 \\ \nabla_{\mathbf{u}} x_2 \\ \vdots \\ \nabla_{\mathbf{u}} x_n \end{bmatrix} = \left[ \frac{\partial x_i}{\partial u_j} \right]_{m \times n}$$

とおいた，行列  $J$  をヤコビ行列 (Jacobi matrix) という．転置をとると

$$\begin{bmatrix} \frac{\partial z}{\partial u_1} \\ \frac{\partial z}{\partial u_2} \\ \vdots \\ \frac{\partial z}{\partial u_m} \end{bmatrix} = \begin{bmatrix} \frac{\partial x_1}{\partial u_1} & \frac{\partial x_2}{\partial u_1} & \dots & \frac{\partial x_n}{\partial u_1} \\ \frac{\partial x_1}{\partial u_2} & \frac{\partial x_2}{\partial u_2} & \dots & \frac{\partial x_n}{\partial u_2} \\ \vdots & \vdots & \ddots & \vdots \\ \frac{\partial x_1}{\partial u_m} & \frac{\partial x_2}{\partial u_m} & \dots & \frac{\partial x_n}{\partial u_m} \end{bmatrix} \begin{bmatrix} \frac{\partial z}{\partial x_1} \\ \frac{\partial z}{\partial x_2} \\ \vdots \\ \frac{\partial z}{\partial x_n} \end{bmatrix} \Leftrightarrow (\nabla_{\mathbf{u}} z)^T = J^T (\nabla_{\mathbf{x}} z)^T$$

となる．代入も含めて書くと  $u_j$  ( $j = 1, 2, \dots, n$ ) に関して

$$\begin{aligned} \frac{\partial}{\partial u_j} f(\phi_1(u_1, \dots, u_m), \phi_2(u_1, \dots, u_m), \dots, \phi_n(u_1, \dots, u_m)) \\ = \sum_{k=1}^n f_{x_k}(\phi_1(u_1, \dots, u_m), \phi_2(u_1, \dots, u_m), \dots, \phi_n(u_1, \dots, u_m)) \phi_{u_j}(u_1, \dots, u_m) \end{aligned}$$

と表される．

□

## § 2.23 方向微分

**定義 2.97** 鋸方向微分 関数  $f(x)$  の点  $\mathbf{a}$  における方向  $\mathbf{e}$  の方向微分は

$$\frac{\partial f(\mathbf{a})}{\partial \mathbf{e}} = \frac{1}{\|\mathbf{e}\|} \lim_{t \rightarrow 0} \frac{d}{dt} f(\mathbf{a} + t\mathbf{e}) = \nabla f(\mathbf{a}) \cdot \frac{\mathbf{e}}{\|\mathbf{e}\|} = \sum_{k=1}^n \frac{\partial f(\mathbf{a})}{\partial x_k} \frac{e_k}{\|\mathbf{e}\|}$$

により定義される．

□

**例 2.98** 鋸方向微分 関数  $z = f(x, y) = x^2 + y^2$  の点  $(a, b)$  における方向  $\mathbf{p} = \begin{bmatrix} 1 \\ 1 \end{bmatrix}$  の方向

微分を求める． $\mathbf{p}$  を規格化し単位方向ベクトルを求めると，

$$\mathbf{e} = \frac{\mathbf{p}}{\|\mathbf{p}\|} = \frac{1}{\sqrt{2}} \begin{bmatrix} 1 \\ 1 \end{bmatrix} = \begin{bmatrix} \alpha \\ \beta \end{bmatrix}$$

である．

$$f_x = 2x, \quad f_y = 2y$$

を用いて，

$$\frac{\partial f(a, b)}{\partial \mathbf{e}} = f_x(a, b)\alpha + f_y(a, b)\beta = \frac{2a}{\sqrt{2}} + \frac{2b}{\sqrt{2}} = \sqrt{2}(a + b)$$

となる．

□

## § 2.24 演習問題 ~ 合成関数の微分

**問 2.99** 鑷合成関数の微分鑷 次の合成関数の導関数  $\frac{dz}{dt}$  を求めよ .

- (1)  $z = f(x, y)$ ,  $x = \alpha t + \beta$ ,  $y = \gamma t + \delta$  (2)  $z = f(x, y)$ ,  $x = \cos t$ ,  $y = \sin t$   
 (3)  $z = xg(y) + yf(x)$ ,  $x = t^3$ ,  $y = t^2$  (4)  $z = xy$ ,  $x = 3t^2 + 3$ ,  $y = t^3 + 1$   
 (5)  $z = x^3y^2$ ,  $x = t^2$ ,  $y = t^4$  (6)  $z = 2xy - 3x^2y^3$ ,  $x = t^2$ ,  $y = t^3$   
 (7)  $z = xy^2 - x^2y$ ,  $x = t^2$ ,  $y = e^t$  (8)  $z = 4x^3y^2 + 5x^2y$ ,  $x = t^2$ ,  $y = t^3$   
 (9)  $z = y^2 + 2xy + 3x^2$ ,  $x = \log t$ ,  $y = t$  (10)  $z = x \cos y - y \cos x$ ,  $x = \cos 2t$ ,  $y = \sin 2t$   
 (11)  $z = \text{Tan}^{-1}xy$ ,  $x = t^2$ ,  $y = 1/(t+1)$  (12)  $z = \text{Tan}^{-1}xy$ ,  $x = e^t + e^{-t}$ ,  $y = e^{2t}$   
 (13)  $z = e^{x^2y}$ ,  $x = t$ ,  $y = 1/t$  (14)  $z = e^{x^2y}$ ,  $x = \cos t$ ,  $y = t^2$   
 (15)  $z = t^2 + 2tx + 3x^2$ ,  $x = \log t$  (16)  $z = 2yt + 3t^2$ ,  $y = e^{t^2}$  □

**問 2.100** 鑷合成関数の微分鑷  $z = f(x, y)$  に対して, 次の高階導関数を求めよ .

- (1)  $z = f(at, bt)$  のとき,  $\frac{dz}{dt}$ ,  $\frac{d^2z}{dt^2}$ ,  $\frac{d^3z}{dt^3}$ ,  $\frac{d^4z}{dt^4}$  を求めよ .  
 (2)  $z = f(g(t), t)$  のとき,  $\frac{dz}{dt}$ ,  $\frac{d^2z}{dt^2}$  を求めよ .  
 (3)  $z = f(x, g(x))$  のとき,  $\frac{dz}{dx}$ ,  $\frac{d^2z}{dx^2}$  を求めよ . □

**問 2.101** 鑷合成関数の微分鑷 次の合成関数の偏導関数  $\frac{\partial z}{\partial u}$ ,  $\frac{\partial z}{\partial v}$  を求めよ .

- (1)  $z = f(x, y)$ ,  $x = 2u - 3v$ ,  $y = u - 5v$  (2)  $z = f(x, y)$ ,  $x = u \cos v$ ,  $y = u \sin v$   
 (3)  $z = f(x, y)$ ,  $x = \cos(u+v)$ ,  $y = \sin(u-v)$  (4)  $z = f(x+3y)$ ,  $x = u-2v$ ,  $y = 3u-4v$   
 (5)  $z = xy$ ,  $x = \alpha u + \beta v$ ,  $y = \gamma u + \delta v$  (6)  $z = (x+y)^2$ ,  $x = \sin \frac{v}{u}$ ,  $y = \cos \frac{u}{v}$   
 (7)  $z = x^2 - y^2$ ,  $x = \cosh(2u+3v)$ ,  $y = \sinh(3u-2v)$   
 (8)  $z = xy^2 + x^2y$ ,  $x = u+v$ ,  $y = u-v$  (9)  $z = \mu x^2 - \nu y^2$ ,  $x = u^2 + v^2$ ,  $y = u^2 - v^2$   
 (10)  $z = \frac{xy}{\sqrt{x^2 + y^2}}$ ,  $x = u \cos v$ ,  $y = u \sin v$  (11)  $z = \sin(x-y)$ ,  $x = u^2 + v^2$ ,  $y = 2uv$   
 (12)  $z = \text{Tan}^{-1} \frac{y}{x}$ ,  $x = u^2 - v^2$ ,  $y = 2uv$  (13)  $z = \log \sqrt{x^2 + y^2}$ ,  $x = u^2 - v^2$ ,  $y = 2uv$  □

**問 2.102** 鑷合成関数の微分鑷  $z = f(x, y)$ ,  $x = 2u + 3v$ ,  $y = u - 2v$  のとき, 次を示せ .

- (1)  $z_u = 2z_x + z_y$ ,  $z_v = 3z_x - 2z_y$  (2)  $(z_u)^2 + (z_v)^2 = 13(z_x)^2 + 5(z_y)^2 - 8z_x z_y$  □

**問 2.103** 鑷合成関数の微分鑷  $z = f(x, y)$ ,  $x = r \cos \theta$ ,  $y = r \sin \theta$  のとき, 次を示せ .

- (1)  $z_r = z_x \cos \theta + z_y \sin \theta$ ,  $z_\theta = -z_x r \sin \theta + z_y r \cos \theta$  (2)  $(z_x)^2 + (z_y)^2 = (z_r)^2 + \left(\frac{z_\theta}{r}\right)^2$  □

**問 2.104** 鑷合成関数の微分鑷 次の関数  $f(x, y)$  の点  $A$  における方向  $\mathbf{p}$  の方向微分を求めよ .

- (1)  $f(x, y) = x^2 + y^2$ ,  $A(1, 1)$ ,  $\mathbf{p} = \begin{bmatrix} 1 \\ 1 \end{bmatrix}$  (2)  $f(x, y) = xy$ ,  $A(1, -1)$ ,  $\mathbf{p} = \begin{bmatrix} \cos \theta \\ \sin \theta \end{bmatrix}$  □



## § 2.25 偏微分作用素

**例 2.105** 偏微分作用素 関数  $f(x)$  の 1 階偏導関数は

$$f_x = \frac{\partial f}{\partial x} = \frac{\partial}{\partial x} f$$

と表される．微分するという操作

$$\frac{\partial}{\partial x}$$

を偏微分作用素（演算子）（**partial differential operator**）という．

□

**例 2.106** 高階微分 関数  $f(x)$  の 2 階偏導関数は

$$f_{xx} = \frac{\partial^2 f}{\partial x^2} = \frac{\partial}{\partial x} \frac{\partial}{\partial x} f = \left( \frac{\partial}{\partial x} \right)^2 f = \frac{\partial^2}{\partial x^2} f$$

と表される．関数  $f$  は任意であるから偏微分作用素のみを抜き出すと

$$\frac{\partial}{\partial x} \frac{\partial}{\partial x} = \left( \frac{\partial}{\partial x} \right)^2 = \frac{\partial^2}{\partial x^2}$$

と表される．同様にして  $n$  階偏導関数は

$$\frac{\partial^n f}{\partial x^n} = \underbrace{\frac{\partial}{\partial x} \cdots \frac{\partial}{\partial x} \frac{\partial}{\partial x}}_n f = \left( \frac{\partial}{\partial x} \right)^n f = \frac{\partial^n}{\partial x^n} f$$

と表される．関数  $f$  は任意であるから

$$\underbrace{\frac{\partial}{\partial x} \cdots \frac{\partial}{\partial x} \frac{\partial}{\partial x}}_n = \left( \frac{\partial}{\partial x} \right)^n = \frac{\partial^n}{\partial x^n}$$

が成り立つ．

□

**例 2.107** 線形結合の微分 関数  $f(x, y)$  の  $x$  と  $y$  に関する 1 階偏導関数の線形結合は

$$\alpha f_x + \beta f_y = \alpha \frac{\partial f}{\partial x} + \beta \frac{\partial f}{\partial y} = \alpha \frac{\partial}{\partial x} f + \beta \frac{\partial}{\partial y} f = \left( \alpha \frac{\partial}{\partial x} + \beta \frac{\partial}{\partial y} \right) f$$

と表される．関数  $f$  は任意であるから  $\alpha f_x + \beta f_y$  の作用素は

$$\alpha \frac{\partial}{\partial x} + \beta \frac{\partial}{\partial y}$$

である．

□

**例 2.108** 鏢 2 項展開鏢  $\alpha \frac{\partial}{\partial x} + \beta \frac{\partial}{\partial y}$  を 2 回繰り返す作用素は

$$\begin{aligned} \left(\alpha \frac{\partial}{\partial x} + \beta \frac{\partial}{\partial y}\right)^2 &= \left(\alpha \frac{\partial}{\partial x} + \beta \frac{\partial}{\partial y}\right) \left(\alpha \frac{\partial}{\partial x} + \beta \frac{\partial}{\partial y}\right) \\ &= \alpha^2 \left(\frac{\partial}{\partial x}\right)^2 + 2\alpha\beta \left(\frac{\partial}{\partial x}\right) \left(\frac{\partial}{\partial y}\right) + \beta^2 \left(\frac{\partial}{\partial y}\right)^2 \\ &= \alpha^2 \frac{\partial^2}{\partial x^2} + 2\alpha\beta \frac{\partial^2}{\partial x \partial y} + \beta^2 \frac{\partial^2}{\partial y^2} \end{aligned}$$

と表される .  $\alpha \frac{\partial}{\partial x} + \beta \frac{\partial}{\partial y}$  を  $n$  回繰り返す作用素は

$$\left(\alpha \frac{\partial}{\partial x} + \beta \frac{\partial}{\partial y}\right)^n = \sum_{k=0}^n \binom{n}{k-n} \left(\alpha \frac{\partial}{\partial x}\right)^{n-k} \left(\beta \frac{\partial}{\partial y}\right)^k = \sum_{k=0}^n \binom{n}{k-n} \alpha^{n-k} \beta^k \frac{\partial^n}{\partial x^{n-k} \partial y^k}$$

と表される .

□

**例 2.109** 鏢積の微分鏢 関数  $f(x), g(x)$  に対して

$$\frac{\partial}{\partial x} \left(g \frac{\partial f}{\partial x}\right) = \frac{\partial}{\partial x} g \frac{\partial}{\partial x} f = \frac{\partial g}{\partial x} \frac{\partial f}{\partial x} + g \frac{\partial^2 f}{\partial x^2} = g_x \frac{\partial}{\partial x} f + g \frac{\partial^2}{\partial x^2} f = \left(g_x \frac{\partial}{\partial x} + g \frac{\partial^2}{\partial x^2}\right) f$$

が成り立つ .  $f$  は任意であるから ,

$$\frac{\partial}{\partial x} g \frac{\partial}{\partial x} = \frac{\partial g}{\partial x} \frac{\partial}{\partial x} + g \frac{\partial^2}{\partial x^2} = g_x \frac{\partial}{\partial x} + g \frac{\partial^2}{\partial x^2}$$

と書ける .

□

**例 2.110** 鏢関数係数の 2 項展開鏢 偏微分作用素

$$L = a(x, y) \frac{\partial}{\partial x} + b(x, y) \frac{\partial}{\partial y}$$

を 2 回繰り返すと

$$\begin{aligned} L^2 &= \left(a(x, y) \frac{\partial}{\partial x} + b(x, y) \frac{\partial}{\partial y}\right)^2 \\ &= a^2 \frac{\partial^2}{\partial x^2} + b^2 \frac{\partial^2}{\partial y^2} + 2ab \frac{\partial^2}{\partial x \partial y} + (aa_x + a_y b) \frac{\partial}{\partial x} + (ab_x + bb_y) \frac{\partial}{\partial y} \end{aligned}$$

となる .

□

## § 2.26 ライブニッツ則

**定理 2.111** 総ライブニッツ則 1 変数関数  $f(x), g(x)$  の積の  $n$  回微分は

$$\frac{d^n}{dx^n} (f(x)g(x)) = \sum_{k=1}^n \binom{n}{k} \frac{d^{n-k} f}{dx^{n-k}} \frac{d^k g}{dx^k}$$

で与えられる．これをライブニッツ則 (**Leibnitz rule**) という．

(証明) 積  $f(x)g(x)$  を微分すると

$$\begin{aligned} \frac{d}{dx} f(x)g(x) &= f'(x)g(x) + f(x)g'(x) = \frac{df(x)}{dx} g(x) + f(x) \frac{dg(x)}{dx} \\ &= \lim_{y \rightarrow x} \frac{df(x)}{dx} g(y) + f(x) \frac{dg(y)}{dy} = \lim_{y \rightarrow x} \left( \frac{\partial}{\partial x} + \frac{\partial}{\partial y} \right) f(x)g(y) \end{aligned}$$

と表される．よって  $n$  回微分は

$$\begin{aligned} \frac{d^n}{dx^n} f(x)g(x) &= \lim_{y \rightarrow x} \left( \frac{\partial}{\partial x} + \frac{\partial}{\partial y} \right)^n f(x)g(y) = \lim_{y \rightarrow x} \sum_{k=0}^n \binom{n}{k} \frac{\partial^{n-k}}{\partial x^{n-k}} \frac{\partial^k}{\partial y^k} f(x)g(y) \\ &= \lim_{y \rightarrow x} \sum_{k=0}^n \binom{n}{k} \frac{\partial^{n-k} f(x)}{\partial x^{n-k}} \frac{\partial^k g(y)}{\partial y^k} = \sum_{k=0}^n \binom{n}{k} \frac{\partial^{n-k} f(x)}{\partial x^{n-k}} \frac{\partial^k g(x)}{\partial x^k} \end{aligned}$$

となる． □

**例 2.112** 総積の微分総

$$\begin{aligned} \frac{d}{dx} f(x)g(x) &= f'g + gf', \\ \frac{d^2}{dx^2} f(x)g(x) &= f''g + 2f'g' + fg'', \\ \frac{d^3}{dx^3} f(x)g(x) &= f'''g + 3f''g' + 3f'g'' + g''', \\ \frac{d^4}{dx^4} f(x)g(x) &= f^{(4)}g + 4f'''g' + 6f''g'' + 4f'g''' + g^{(4)} \end{aligned}$$

□

**問 2.113** 総積の微分総  $\frac{d^{10}}{dx^{10}} f(x)g(x)$  を求めよ． □

## § 2.27 座標変換

**定義 2.114** 鋸座標変換鋸 座標  $(x_1, x_2, \dots, x_n)$  が変数  $u_1, u_2, \dots, u_n$  を独立変数とする関数

$$(*) \quad \begin{cases} x_1 = \varphi_1(u_1, u_2, \dots, u_n), \\ x_2 = \varphi_2(u_1, u_2, \dots, u_n), \\ \vdots \\ x_n = \varphi_n(u_1, u_2, \dots, u_n) \end{cases}$$

により定まるとする。このとき,  $(u_1, \dots, u_n)$  をあらたに座標と呼び,  $(*)$  を座標  $(x_1, \dots, x_n)$  から座標  $(u_1, \dots, u_n)$  への座標変換 (coordinate transform) と呼ぶ。□

## § 2.28 ヤコビアン

**定義 2.115** 鋸ヤコビアン鋸 座標変換  $(x_1, \dots, x_n) \mapsto (u_1, \dots, u_n)$  に対して, 行列式

$$\frac{\partial(x_1, x_2, \dots, x_n)}{\partial(u_1, u_2, \dots, u_n)} = \det(J) = \det \begin{bmatrix} \frac{\partial x_1}{\partial u_1} & \frac{\partial x_1}{\partial u_2} & \dots & \frac{\partial x_1}{\partial u_n} \\ \frac{\partial x_2}{\partial u_1} & \frac{\partial x_2}{\partial u_2} & \dots & \frac{\partial x_2}{\partial u_n} \\ \vdots & \vdots & \ddots & \vdots \\ \frac{\partial x_n}{\partial u_1} & \frac{\partial x_n}{\partial u_2} & \dots & \frac{\partial x_n}{\partial u_n} \end{bmatrix}$$

をこの座標変換のヤコビアン (Jacobian) またはヤコビの行列式 (Jacobi determinant) という。□

**注意 2.116** 鋸座標変換鋸 ヤコビアンが非零となるときのみ, 座標  $(x_1, \dots, x_n)$  と座標  $(u_1, \dots, u_n)$  とが 1 対 1 に対応する。□

## § 2.29 斜交座標

2次元ユークリッド空間に普通に導入する座標  $xy$  は, 標準基底

$$\mathbf{e}_x = \begin{bmatrix} 1 \\ 0 \end{bmatrix}, \quad \mathbf{e}_y = \begin{bmatrix} 0 \\ 1 \end{bmatrix}$$

における座標である。座標を  $(x, y)$  とすると任意のベクトルは

$$(\quad) \quad \mathbf{p} = x\mathbf{e}_x + y\mathbf{e}_y = \begin{bmatrix} \mathbf{e}_x & \mathbf{e}_y \end{bmatrix} \begin{bmatrix} x \\ y \end{bmatrix} = \begin{bmatrix} 1 & 0 \\ 0 & 1 \end{bmatrix} \begin{bmatrix} x \\ y \end{bmatrix} = \begin{bmatrix} x \\ y \end{bmatrix}$$

と表される。一方, 基底

$$\mathbf{e}_u = \begin{bmatrix} \alpha \\ \beta \end{bmatrix}, \quad \mathbf{e}_v = \begin{bmatrix} \gamma \\ \delta \end{bmatrix}$$

における座標を  $(u, v)$  とおくと、任意のベクトルは

$$( ) \quad p = ue_u + ve_v = \begin{bmatrix} e_u & e_v \end{bmatrix} \begin{bmatrix} u \\ v \end{bmatrix} = \begin{bmatrix} \alpha & \gamma \\ \beta & \delta \end{bmatrix} \begin{bmatrix} u \\ v \end{bmatrix} = A \begin{bmatrix} u \\ v \end{bmatrix}$$

と表される。ベクトル  $p$  は同じものであるから、( ), ( ) より

$$( ) \quad \begin{bmatrix} x \\ y \end{bmatrix} = \begin{bmatrix} \alpha & \gamma \\ \beta & \delta \end{bmatrix} \begin{bmatrix} u \\ v \end{bmatrix} = A \begin{bmatrix} u \\ v \end{bmatrix}$$

が成り立つ。  $A = (e_u \ e_v)$  は基底  $\{e_x, e_y\}$  から基底  $\{e_u, e_v\}$  への基底の変換行列である。  $e_u, e_v$  は基底であるから、  $e_u, e_v$  は必ず 1 次独立であり、  $A$  は正則で逆行列  $A^{-1}$  が存在する。このとき、

$$( ) \quad \begin{bmatrix} u \\ v \end{bmatrix} = A^{-1} \begin{bmatrix} x \\ y \end{bmatrix} = \begin{bmatrix} \alpha & \gamma \\ \beta & \delta \end{bmatrix}^{-1} \begin{bmatrix} x \\ y \end{bmatrix} = \frac{1}{\alpha\delta - \beta\gamma} \begin{bmatrix} \delta & -\gamma \\ -\beta & \alpha \end{bmatrix} \begin{bmatrix} x \\ y \end{bmatrix}$$

が成り立つ。( ) を座標  $(x, y)$  から座標  $(u, v)$  への座標変換という。また、( ) を座標  $(u, v)$  から座標  $(x, y)$  への座標変換という。標準基底  $e_x, e_y$  は  $e_x \cdot e_y = 0$  をみたし直交するから、座標  $xy$  は直交座標である。基底  $e_u, e_v$  の方向余弦

$$\cos \theta = \frac{e_u \cdot e_v}{\|e_u\| \|e_v\|} = \frac{\alpha\gamma + \beta\delta}{\sqrt{(\alpha^2 + \beta^2)(\gamma^2 + \delta^2)}}$$

は一般には 0 とはならないので、座標  $uv$  は斜交座標である。

### 例 2.117

斜交座標における偏導関数 直交座標  $xy$  から斜交座標  $uv$  への座標変換 ( ) を考える。関数  $z = f(x, y)$  における  $u, v$  に関する偏導関数を求める。( ) より

$$x = \alpha u + \gamma v, \quad y = \beta u + \delta v$$

であるから、

$$\frac{\partial x}{\partial u} = \alpha, \quad \frac{\partial x}{\partial v} = \gamma, \quad \frac{\partial y}{\partial u} = \beta, \quad \frac{\partial y}{\partial v} = \delta$$

となり、導関数の微分則を用いると

$$( ) \quad z_u = \frac{\partial z}{\partial u} = \frac{\partial z}{\partial x} \frac{\partial x}{\partial u} + \frac{\partial z}{\partial y} \frac{\partial y}{\partial u} = \alpha z_x + \beta z_y, \quad z_v = \frac{\partial z}{\partial v} = \frac{\partial z}{\partial x} \frac{\partial x}{\partial v} + \frac{\partial z}{\partial y} \frac{\partial y}{\partial v} = \gamma z_x + \delta z_y$$

を得る。この関係式は

$$( ) \quad \begin{bmatrix} z_u & z_v \end{bmatrix} = \begin{bmatrix} z_x & z_y \end{bmatrix} \begin{bmatrix} x_u & x_v \\ y_u & y_v \end{bmatrix} = \begin{bmatrix} z_x & z_y \end{bmatrix} \begin{bmatrix} \alpha & \gamma \\ \beta & \delta \end{bmatrix} = \begin{bmatrix} z_x & z_y \end{bmatrix} A$$

とも表される。また、ナブラ作用素

$$\nabla_{(u,v)} = \left[ \frac{\partial}{\partial u} \quad \frac{\partial}{\partial v} \right], \quad \nabla_{(x,y)} = \left[ \frac{\partial}{\partial x} \quad \frac{\partial}{\partial y} \right]$$

を導入すれば

$$\nabla_{(u,v)} z = \nabla_{(x,y)} z A$$

と簡潔に表される。

□

**例 2.118** 錐直交座標から斜交座標へのヤコビアン 錐 直交座標  $xy$  から斜交座標  $uv$  への座標変換 ( ) のヤコビアンを求める。( ) よりヤコビアンは

$$\frac{\partial(x, y)}{\partial(u, v)} = \begin{vmatrix} x_u & x_v \\ y_u & y_v \end{vmatrix} = \begin{vmatrix} \alpha & \gamma \\ \beta & \delta \end{vmatrix} = \det(A) = \alpha\delta - \beta\gamma$$

と得られる。 □

**例 2.119** 錐斜交座標における偏微分作用素 錐 斜交座標  $uv$  から直交座標  $xy$  への座標変換 ( ) の偏微分作用素の変換式を求める。座標変換 ( ) より導出された ( ) を書き直すと

$$( ) \quad \frac{\partial z}{\partial u} = \alpha \frac{\partial z}{\partial x} + \beta \frac{\partial z}{\partial y} = \left( \alpha \frac{\partial}{\partial x} + \beta \frac{\partial}{\partial y} \right) z, \quad \frac{\partial z}{\partial v} = \gamma \frac{\partial z}{\partial x} + \delta \frac{\partial z}{\partial y} = \left( \gamma \frac{\partial}{\partial x} + \delta \frac{\partial}{\partial y} \right) z$$

と書ける。関数  $z$  は任意でもよいので関数を省略すると、偏微分演算子の関係式

$$\frac{\partial}{\partial u} = \frac{\partial x}{\partial u} \frac{\partial}{\partial x} + \frac{\partial y}{\partial u} \frac{\partial}{\partial y} = \alpha \frac{\partial}{\partial x} + \beta \frac{\partial}{\partial y}, \quad \frac{\partial}{\partial v} = \frac{\partial x}{\partial v} \frac{\partial}{\partial x} + \frac{\partial y}{\partial v} \frac{\partial}{\partial y} = \gamma \frac{\partial}{\partial x} + \delta \frac{\partial}{\partial y}$$

を得る。この関係式は偏微分作用素に関する  $uv$  座標から  $xy$  座標への変換を表す。点に関する座標変換 ( ) の逆向きの変換であることに注意する。 □

**例 2.120** 錐斜交座標における偏微分作用素 錐 直交座標  $xy$  から斜交座標  $uv$  への座標変換 ( ) を考える。関数  $z = f(u, v)$  における  $x, y$  に関する偏導関数を求める。( ) より座標変換は

$$u = \frac{1}{\alpha\delta - \beta\gamma}(\delta x - \gamma y), \quad v = \frac{1}{\alpha\delta - \beta\gamma}(-\beta x + \alpha y)$$

であるか、導関数の微分則を用いると

$$( ) \quad \begin{aligned} z_x &= \frac{\partial z}{\partial x} = \frac{\partial z}{\partial u} \frac{\partial u}{\partial x} + \frac{\partial z}{\partial v} \frac{\partial v}{\partial x} = \frac{1}{\alpha\delta - \beta\gamma} (\delta z_u - \beta z_v), \\ z_y &= \frac{\partial z}{\partial y} = \frac{\partial z}{\partial u} \frac{\partial u}{\partial y} + \frac{\partial z}{\partial v} \frac{\partial v}{\partial y} = \frac{1}{\alpha\delta - \beta\gamma} (-\gamma z_u + \alpha z_v) \end{aligned}$$

を得る。この関係式は

$$\begin{bmatrix} z_x & z_y \end{bmatrix} = \frac{1}{\alpha\delta - \beta\gamma} \begin{bmatrix} z_u & z_v \end{bmatrix} \begin{bmatrix} \delta & -\gamma \\ -\beta & \alpha \end{bmatrix} = \begin{bmatrix} z_u & z_v \end{bmatrix} A^{-1}$$

とも表される。この結果は ( ) の両辺に  $A^{-1}$  を右から掛けることでも得られる。また、ナブラ作用素を導入すると

$$\nabla_{(x,y)} z = \nabla_{(u,v)} z A^{-1}$$

と簡潔に表される．次に ( ) において関数  $z$  は任意で成り立つので省略すると，偏微分作用素の関係式

$$\begin{aligned} ( ) \quad \frac{\partial}{\partial x} &= \frac{\partial u}{\partial x} \frac{\partial}{\partial u} + \frac{\partial v}{\partial x} \frac{\partial}{\partial v} = \frac{1}{\alpha\delta - \beta\gamma} \left( \delta \frac{\partial}{\partial u} - \beta \frac{\partial}{\partial v} \right), \\ \frac{\partial}{\partial y} &= \frac{\partial u}{\partial y} \frac{\partial}{\partial u} + \frac{\partial v}{\partial y} \frac{\partial}{\partial v} = \frac{1}{\alpha\delta - \beta\gamma} \left( -\gamma \frac{\partial}{\partial u} + \alpha \frac{\partial}{\partial v} \right) \end{aligned}$$

を得る．この関係式は偏微分作用素に関する  $xy$  座標から  $uv$  座標への変換を表す．点に関する座標変換 ( ) の逆向きの変換であることに注意する． □

**例 2.121** 錐斜交座標への座標変換 錐 関数  $z = f(x, y)$  に対して関数

$$F(x, y) = \left( \frac{\partial z}{\partial x} \right)^2 + \left( \frac{\partial z}{\partial y} \right)^2 = (z_x)^2 + (z_y)^2$$

を考える．この関数を斜交座標  $uv$  で表す．( ) を代入すると

$$\begin{aligned} F &= \left( \frac{1}{\alpha\delta - \beta\gamma} (\delta z_u - \beta z_v) \right)^2 + \left( \frac{1}{\alpha\delta - \beta\gamma} (-\gamma z_u + \alpha z_v) \right)^2 \\ &= \frac{(\delta^2 + \gamma^2)(z_u)^2 + (\alpha^2 + \beta^2)(z_v)^2 - 2(\beta\delta + \alpha\gamma)z_u z_v}{(\alpha\delta - \beta\gamma)^2} \\ &= \frac{\gamma^2 + \delta^2}{(\alpha\delta - \beta\gamma)^2} \left( \frac{\partial z}{\partial u} \right)^2 - 2 \frac{\beta\delta + \alpha\gamma}{(\alpha\delta - \beta\gamma)^2} \frac{\partial z}{\partial u} \frac{\partial z}{\partial v} + \frac{\alpha^2 + \beta^2}{(\alpha\delta - \beta\gamma)^2} \left( \frac{\partial z}{\partial v} \right)^2 \end{aligned}$$

を得る． □

**例 2.122** 錐斜交座標におけるラプラシアン 錐 関数  $z = f(x, y)$  に対して関数

$$F(x, y) = \frac{\partial^2 z}{\partial x^2} + \frac{\partial^2 z}{\partial y^2} = z_{xx} + z_{yy}$$

を考える．この関数を斜交座標  $uv$  で表す．( ) より

$$\begin{aligned} z_{xx} &= \frac{\partial^2 z}{\partial x^2} = \frac{\partial}{\partial x} \frac{\partial}{\partial x} z = \frac{1}{(\alpha\delta - \beta\gamma)^2} \left( \delta \frac{\partial}{\partial u} - \beta \frac{\partial}{\partial v} \right) \left( \delta \frac{\partial}{\partial u} - \beta \frac{\partial}{\partial v} \right) z \\ &= \frac{1}{(\alpha\delta - \beta\gamma)^2} \left( \delta \frac{\partial}{\partial u} - \beta \frac{\partial}{\partial v} \right) (\delta z_u - \beta z_v) = \frac{\delta^2 z_{uu} - 2\beta\delta z_{uv} + \beta^2 z_{vv}}{(\alpha\delta - \beta\gamma)^2}, \\ z_{yy} &= \frac{\partial^2 z}{\partial y^2} = \frac{\partial}{\partial y} \frac{\partial}{\partial y} z = \frac{1}{(\alpha\delta - \beta\gamma)^2} \left( -\gamma \frac{\partial}{\partial u} + \alpha \frac{\partial}{\partial v} \right) \left( -\gamma \frac{\partial}{\partial u} + \alpha \frac{\partial}{\partial v} \right) z \\ &= \frac{1}{(\alpha\delta - \beta\gamma)^2} \left( -\gamma \frac{\partial}{\partial u} + \alpha \frac{\partial}{\partial v} \right) (-\gamma z_u + \alpha z_v) = \frac{\gamma^2 z_{uu} - 2\alpha\gamma z_{uv} + \alpha^2 z_{vv}}{(\alpha\delta - \beta\gamma)^2} \end{aligned}$$

となるから，

$$\begin{aligned} F &= z_{xx} + z_{yy} = \frac{(\delta^2 + \gamma^2)z_{uu} - 2(\alpha\gamma + \beta\delta)z_{uv} + (\alpha^2 + \beta^2)z_{vv}}{(\alpha\delta - \beta\gamma)^2} \\ &= \frac{\gamma^2 + \delta^2}{(\alpha\delta - \beta\gamma)^2} \frac{\partial^2 z}{\partial u^2} - 2 \frac{\alpha\gamma + \beta\delta}{(\alpha\delta - \beta\gamma)^2} \frac{\partial^2 z}{\partial u \partial v} + \frac{\alpha^2 + \beta^2}{(\alpha\delta - \beta\gamma)^2} \frac{\partial^2 z}{\partial v^2} \end{aligned}$$

を得る． □

**例 2.123**

鋸斜交座標におけるラプラシアン 直交座標  $xy$  から斜交座標  $uv$  への座標変換 ( ) を考える . このときラプラシアン ( **Laplacian** ) またはラプラス作用素 ( **Laplace operator** ) と呼ばれる偏微分作用素

$$\Delta = \frac{\partial^2}{\partial x^2} + \frac{\partial^2}{\partial y^2}$$

の  $uv$  座標への変換を行う . 前例題において関数  $z$  は任意であるから ,

$$\Delta = \frac{\partial^2}{\partial x^2} + \frac{\partial^2}{\partial y^2} = \frac{\gamma^2 + \delta^2}{(\alpha\delta - \beta\gamma)^2} \frac{\partial^2}{\partial u^2} - 2 \frac{\alpha\gamma + \beta\delta}{(\alpha\delta - \beta\gamma)^2} \frac{\partial^2}{\partial u \partial v} + \frac{\alpha^2 + \beta^2}{(\alpha\delta - \beta\gamma)^2} \frac{\partial^2}{\partial v^2}$$

を得る .

□

## § 2.30 2次元空間の極座標

**定義 2.124**

鋸極座標 2次元空間において , 直交座標  $(x, y)$  から極座標 ( **polar coordinates** )  $(r, \theta)$  への座標変換は

$$( ) \quad x = r \cos \theta, \quad y = r \sin \theta$$

で与えられる .

□

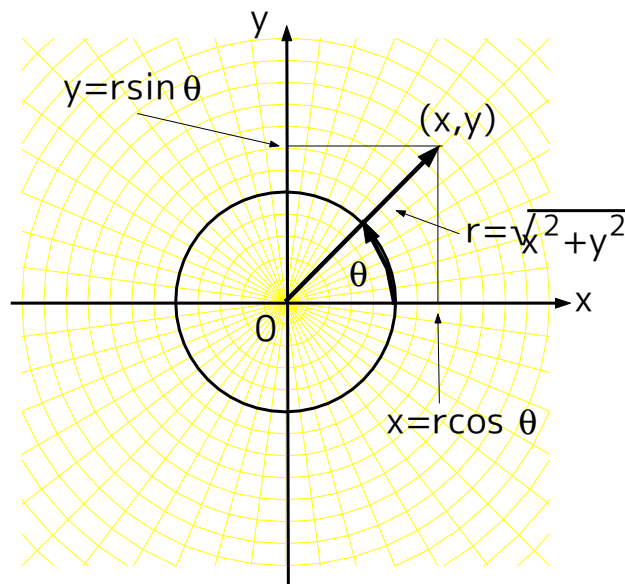
**注意 2.125**

鋸極座標 極座標  $(r, \theta)$  から直交座標  $(x, y)$  への座標変換は

$$( ) \quad r = \sqrt{x^2 + y^2}, \quad \theta = \text{Tan}^{-1} \frac{y}{x}$$

と表される .

□





**例 2.126** 錐極座標における偏導関数の変換 座標  $(x, y)$  から極座標  $(r, \theta)$  への変換 ( ) を考える . 関数  $z = f(x, y)$  を  $r, \theta$  に関して偏微分は ,

$$\frac{\partial x}{\partial r} = \cos \theta, \quad \frac{\partial y}{\partial r} = \sin \theta, \quad \frac{\partial x}{\partial \theta} = -r \sin \theta, \quad \frac{\partial y}{\partial \theta} = r \cos \theta$$

と合成関数の微分則より

$$\begin{aligned} ( ) \quad z_r &= \frac{\partial z}{\partial r} = \frac{\partial z}{\partial x} \frac{\partial x}{\partial r} + \frac{\partial z}{\partial y} \frac{\partial y}{\partial r} = \cos \theta \frac{\partial z}{\partial x} + \sin \theta \frac{\partial z}{\partial y} = z_x \cos \theta + z_y \sin \theta, \\ z_\theta &= \frac{\partial z}{\partial \theta} = \frac{\partial z}{\partial x} \frac{\partial x}{\partial \theta} + \frac{\partial z}{\partial y} \frac{\partial y}{\partial \theta} = -r \sin \theta \frac{\partial z}{\partial x} + r \cos \theta \frac{\partial z}{\partial y} = -z_x r \sin \theta + z_y r \cos \theta \end{aligned}$$

と求まる . これは

$$( ) \quad \begin{bmatrix} z_r & z_\theta \end{bmatrix} = \begin{bmatrix} z_x & z_y \end{bmatrix} \begin{bmatrix} \cos \theta & -r \sin \theta \\ \sin \theta & r \cos \theta \end{bmatrix} = \begin{bmatrix} z_x & z_y \end{bmatrix} J$$

とも表される .  $J$  が ( ) のヤコビ行列である . ナブラ演算子

$$\nabla_{(x,y)} = \left[ \frac{\partial}{\partial x} \quad \frac{\partial}{\partial y} \right], \quad \nabla_{(r,\theta)} = \left[ \frac{\partial}{\partial r} \quad \frac{\partial}{\partial \theta} \right]$$

を導入すると ,

$$\nabla_{(r,\theta)} z = \nabla_{(x,y)} z J$$

とも表される . □

**例 2.127** 錐極座標のヤコビアン 座標変換 ( ) のヤコビアンを求める . ( ) の  $J$  の行列式がヤコビアンであり ,

$$\frac{\partial(x, y)}{\partial(r, \theta)} = \det(J) = \begin{vmatrix} x_r & x_\theta \\ y_r & y_\theta \end{vmatrix} = \begin{vmatrix} \cos \theta & -r \sin \theta \\ \sin \theta & r \cos \theta \end{vmatrix} = r \cos^2 \theta + r \sin^2 \theta = r$$

と得られる . □

**例 2.128** 錐極座標における偏微分作用素の変換 極座標  $(r, \theta)$  から座標  $(x, y)$  への変換 ( ) を考える . ( ) より導出された ( ) は ,

$$\frac{\partial}{\partial r} z = \left( \cos \theta \frac{\partial}{\partial x} + \sin \theta \frac{\partial}{\partial y} \right) z, \quad \frac{\partial}{\partial \theta} z = \left( -r \sin \theta \frac{\partial}{\partial x} + r \cos \theta \frac{\partial}{\partial y} \right) z$$

と書ける . 関数  $z$  は任意であり省略すると

$$\frac{\partial}{\partial r} = \cos \theta \frac{\partial}{\partial x} + \sin \theta \frac{\partial}{\partial y}, \quad \frac{\partial}{\partial \theta} = -r \sin \theta \frac{\partial}{\partial x} + r \cos \theta \frac{\partial}{\partial y}$$

となる . ( ) を用いて右辺の  $r, \theta$  を  $x, y$  で表すと

$$\frac{\partial}{\partial r} = \frac{x}{\sqrt{x^2 + y^2}} \frac{\partial}{\partial x} + \frac{y}{\sqrt{x^2 + y^2}} \frac{\partial}{\partial y}, \quad \frac{\partial}{\partial \theta} = -y \frac{\partial}{\partial x} + x \frac{\partial}{\partial y}$$

となる . これは偏微分作用素における極座標  $r\theta$  から座標  $xy$  への座標変換である . 点に関する座標変換 ( ) とは変換の向きが異なることに注意する . □

**例 2.129** 鋸極座標における偏微分作用素の変換 座標  $(x, y)$  から極座標  $(r, \theta)$  への変換 ( ) を考える . 関数  $z = f(r, \theta)$  を  $x, y$  に関して偏微分すると , ( ) と合成関数の微分則より

$$z_x = \frac{\partial z}{\partial x} = \frac{\partial z}{\partial r} \frac{\partial r}{\partial x} + \frac{\partial z}{\partial \theta} \frac{\partial \theta}{\partial x} = \frac{x}{\sqrt{x^2 + y^2}} \frac{\partial z}{\partial r} + \frac{-y}{x^2 + y^2} \frac{\partial z}{\partial \theta} = \frac{xz_r}{\sqrt{x^2 + y^2}} - \frac{yz_\theta}{x^2 + y^2},$$

$$z_y = \frac{\partial z}{\partial y} = \frac{\partial z}{\partial r} \frac{\partial r}{\partial y} + \frac{\partial z}{\partial \theta} \frac{\partial \theta}{\partial y} = \frac{y}{\sqrt{x^2 + y^2}} \frac{\partial z}{\partial r} + \frac{x}{x^2 + y^2} \frac{\partial z}{\partial \theta} = \frac{yz_r}{\sqrt{x^2 + y^2}} + \frac{xz_\theta}{x^2 + y^2}$$

が成り立つ . さらに ( ) を用いて右边を  $r, \theta$  で表すと

$$( ) \quad z_x = z_r \cos \theta - \frac{z_\theta}{r} \sin \theta, \quad z_y = z_r \sin \theta + \frac{z_\theta}{r} \cos \theta$$

となる . これは

$$\begin{bmatrix} z_x & z_y \end{bmatrix} = \begin{bmatrix} z_r & z_\theta \end{bmatrix} \begin{bmatrix} \cos \theta & \sin \theta \\ -\frac{1}{r} \sin \theta & \frac{1}{r} \cos \theta \end{bmatrix} = \begin{bmatrix} z_r & z_\theta \end{bmatrix} \tilde{J}$$

とも表される . この式は ( ) の両辺に  $J^{-1}$  を右から掛けることでも得られる . すなわち ,  $\tilde{J} = J^{-1}$  となる . ここで ,

$$\frac{\partial}{\partial x} z = \left( \cos \theta \frac{\partial}{\partial r} - \frac{1}{r} \sin \theta \frac{\partial}{\partial \theta} \right) z, \quad \frac{\partial}{\partial y} z = \left( \sin \theta \frac{\partial}{\partial r} + \frac{1}{r} \cos \theta \frac{\partial}{\partial \theta} \right) z$$

と書くと , 関数  $z$  は任意であり省略すると

$$( ) \quad \frac{\partial}{\partial x} = \cos \theta \frac{\partial}{\partial r} - \frac{1}{r} \sin \theta \frac{\partial}{\partial \theta}, \quad \frac{\partial}{\partial y} = \sin \theta \frac{\partial}{\partial r} + \frac{1}{r} \cos \theta \frac{\partial}{\partial \theta}$$

を得る . これは偏微分作用素における座標  $xy$  から極座標  $r\theta$  への座標変換である . 点に関する座標変換 ( ) とは変換の向きが異なることに注意する . □

**例 2.130** 鋸極座標への座標変換 関数  $z = f(x, y)$  に対して関数

$$F(x, y) = \left( \frac{\partial z}{\partial x} \right)^2 + \left( \frac{\partial z}{\partial y} \right)^2 = (z_x)^2 + (z_y)^2$$

を考える . この関数を極座標  $r\theta$  で表す . ( ) を代入すると

$$\begin{aligned} F &= \left( z_r \cos \theta - \frac{z_\theta}{r} \sin \theta \right)^2 + \left( z_r \sin \theta + \frac{z_\theta}{r} \cos \theta \right)^2 \\ &= (\cos^2 \theta + \sin^2 \theta) (z_r)^2 - \frac{2 \sin \theta \cos \theta}{r} z_r z_\theta + \frac{2 \sin \theta \cos \theta}{r} z_r z_\theta + \frac{\sin^2 \theta + \cos^2 \theta}{r^2} (z_\theta)^2 \\ &= (z_r)^2 + \frac{(z_\theta)^2}{r^2} = \left( \frac{\partial z}{\partial r} \right)^2 + \frac{1}{r^2} \left( \frac{\partial z}{\partial \theta} \right)^2 \end{aligned}$$

を得る . □

**例 2.131** 鋸極座標におけるラプラシアン鋸 関数  $z = f(x, y)$  に対して関数

$$F(x, y) = \frac{\partial^2 z}{\partial x^2} + \frac{\partial^2 z}{\partial y^2} = z_{xx} + z_{yy}$$

を考える．この関数を極座標  $r\theta$  で表す．( ) より，

$$\begin{aligned} z_{xx} &= \frac{\partial^2 z}{\partial x^2} = \frac{\partial}{\partial x} \frac{\partial}{\partial x} z = \left( \cos \theta \frac{\partial}{\partial r} - \frac{1}{r} \sin \theta \frac{\partial}{\partial \theta} \right) \left( \cos \theta \frac{\partial}{\partial r} - \frac{1}{r} \sin \theta \frac{\partial}{\partial \theta} \right) z \\ &= \left( \cos \theta \frac{\partial}{\partial r} - \frac{1}{r} \sin \theta \frac{\partial}{\partial \theta} \right) \left( \cos \theta z_r - \frac{1}{r} \sin \theta z_\theta \right) \\ &= \cos \theta \frac{\partial}{\partial r} \left( \cos \theta z_r - \frac{1}{r} \sin \theta z_\theta \right) - \frac{1}{r} \sin \theta \frac{\partial}{\partial \theta} \left( \cos \theta z_r - \frac{1}{r} \sin \theta z_\theta \right) \\ &= \cos \theta \left( \cos \theta z_{rr} - \sin \theta \left( -\frac{1}{r^2} z_\theta + \frac{1}{r} z_{r\theta} \right) \right) - \frac{1}{r} \sin \theta \left( -\sin \theta z_r + \cos \theta z_{r\theta} - \frac{1}{r} (\cos \theta z_\theta + \sin \theta z_{\theta\theta}) \right) \\ &= \cos^2 \theta z_{rr} + \frac{1}{r^2} \sin^2 \theta z_{\theta\theta} - \frac{2}{r} \sin \theta \cos \theta z_{r\theta} + \frac{1}{r} \sin^2 \theta z_r + \frac{2}{r^2} \sin \theta \cos \theta z_\theta, \\ z_{yy} &= \frac{\partial^2 z}{\partial y^2} = \frac{\partial}{\partial y} \frac{\partial}{\partial y} z = \left( \sin \theta \frac{\partial}{\partial r} + \frac{1}{r} \cos \theta \frac{\partial}{\partial \theta} \right) \left( \sin \theta \frac{\partial}{\partial r} + \frac{1}{r} \cos \theta \frac{\partial}{\partial \theta} \right) z \\ &= \left( \sin \theta \frac{\partial}{\partial r} + \frac{1}{r} \cos \theta \frac{\partial}{\partial \theta} \right) \left( \sin \theta z_r + \frac{1}{r} \cos \theta z_\theta \right) \\ &= \sin \theta \frac{\partial}{\partial r} \left( \sin \theta z_r + \frac{1}{r} \cos \theta z_\theta \right) + \frac{1}{r} \cos \theta \frac{\partial}{\partial \theta} \left( \sin \theta z_r + \frac{1}{r} \cos \theta z_\theta \right) \\ &= \sin \theta \left( \sin \theta z_{rr} + \cos \theta \left( -\frac{1}{r^2} z_\theta + \frac{1}{r} z_{r\theta} \right) \right) + \frac{1}{r} \cos \theta \left( \cos \theta z_r + \sin \theta z_{r\theta} + \frac{1}{r} (-\sin \theta z_\theta + \cos \theta z_{\theta\theta}) \right) \\ &= \sin^2 \theta z_{rr} + \frac{1}{r^2} \cos^2 \theta z_{\theta\theta} + \frac{2}{r} \sin \theta \cos \theta z_{r\theta} + \frac{1}{r} \cos^2 \theta z_r - \frac{2}{r^2} \sin \theta \cos \theta z_\theta \end{aligned}$$

となる．よって

$$\begin{aligned} F &= z_{xx} + z_{yy} = \frac{\partial^2}{\partial x^2} f + \frac{\partial^2}{\partial y^2} f = (\cos^2 \theta + \sin^2 \theta) z_{rr} + \frac{1}{r^2} (\cos^2 \theta + \sin^2 \theta) z_{\theta\theta} + \frac{1}{r} (\cos^2 \theta + \sin^2 \theta) z_r \\ &= z_{rr} + \frac{1}{r^2} z_{\theta\theta} + \frac{1}{r} z_r = \frac{\partial^2 z}{\partial r^2} + \frac{1}{r^2} \frac{\partial^2 z}{\partial \theta^2} + \frac{1}{r} \frac{\partial z}{\partial r} \end{aligned}$$

を得る． □

**例 2.132** 鋸極座標におけるラプラシアン鋸 ラプラス演算子

$$\Delta = \frac{\partial^2}{\partial x^2} + \frac{\partial^2}{\partial y^2}$$

を座標  $r\theta$  で表す．前例題より

$$F = \frac{\partial^2 z}{\partial x^2} + \frac{\partial^2 z}{\partial y^2} = \left( \frac{\partial^2}{\partial x^2} + \frac{\partial^2}{\partial y^2} \right) z = \Delta z = \left( \frac{\partial^2}{\partial r^2} + \frac{1}{r^2} \frac{\partial^2}{\partial \theta^2} + \frac{1}{r} \frac{\partial}{\partial r} \right) z$$

が成り立つ．関数  $z$  は任意であるから，

$$\Delta = \frac{\partial^2}{\partial r^2} + \frac{1}{r^2} \frac{\partial^2}{\partial \theta^2} + \frac{1}{r} \frac{\partial}{\partial r}$$

を得る．

□

## § 2.31 3次元空間の極座標

**定義 2.133** 錐極座標 錐 3次元空間において，直交座標  $(x, y, z)$  から極座標 (polar coordinates)  $(r, \theta, \varphi)$  への座標変換は

$$x = r \sin \theta \cos \varphi, \quad y = r \sin \theta \sin \varphi, \quad z = r \cos \theta$$

で与えられる．

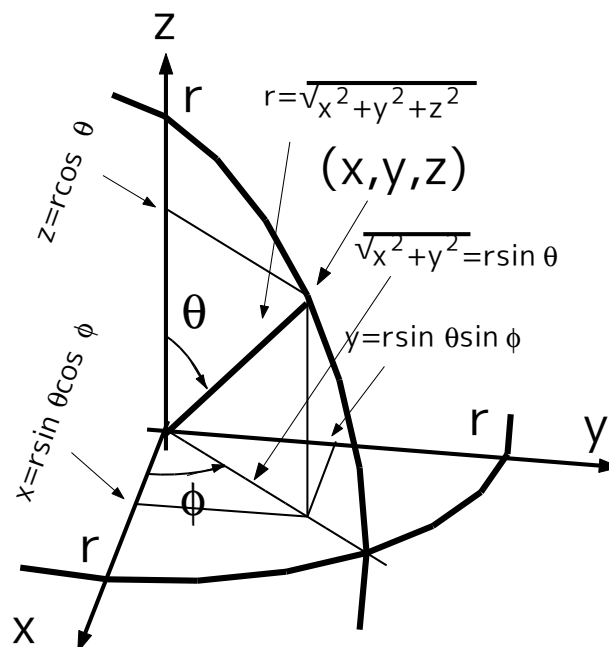
□

**注意 2.134** 錐極座標 錐 極座標  $(r, \theta, \varphi)$  から直交座標  $(x, y, z)$  への座標変換は

$$r = \sqrt{x^2 + y^2 + z^2}, \quad \theta = \text{Tan}^{-1} \frac{z}{\sqrt{x^2 + y^2}}, \quad \varphi = \text{Tan}^{-1} \frac{y}{x}$$

と表される．

□



**例 2.135** 錐極座標のヤコビアン

$$\begin{aligned}
 \frac{\partial(x, y, z)}{\partial(r, \theta, \varphi)} &= \begin{vmatrix} x_r & x_\theta & x_\varphi \\ y_r & y_\theta & y_\varphi \\ z_r & z_\theta & z_\varphi \end{vmatrix} = \begin{vmatrix} \sin \theta \cos \varphi & r \cos \theta \cos \varphi & -r \sin \theta \sin \varphi \\ \sin \theta \sin \varphi & r \cos \theta \sin \varphi & r \sin \theta \cos \varphi \\ \cos \theta & -r \sin \theta & 0 \end{vmatrix} \\
 &= \cos \theta \begin{vmatrix} r \cos \theta \cos \varphi & -r \sin \theta \sin \varphi \\ r \cos \theta \sin \varphi & r \sin \theta \cos \varphi \end{vmatrix} + r \sin \theta \begin{vmatrix} \sin \theta \cos \varphi & -r \sin \theta \sin \varphi \\ \sin \theta \sin \varphi & r \sin \theta \cos \varphi \end{vmatrix} \\
 &= r^2 \cos^2 \theta \sin \theta \begin{vmatrix} \cos \varphi & -\sin \varphi \\ \sin \varphi & \cos \varphi \end{vmatrix} + r^2 \sin^3 \theta \begin{vmatrix} \cos \varphi & -\sin \varphi \\ \sin \varphi & \cos \varphi \end{vmatrix} \\
 &= r^2 \sin \theta (\cos^2 \theta + \sin^2 \theta) (\cos^2 \varphi + \sin^2 \varphi) \\
 &= r^2 \sin \theta
 \end{aligned}$$

□

## § 2.32 調和関数

**定義 2.136** 錐ラプラス演算子 錐  $n$  次元座標  $(x_1, x_2, \dots, x_n)$  の空間のラプラス演算子 (**Laplace operator**) またはラプラシアン (**Laplacian**) は

$$\Delta = \frac{\partial^2}{\partial x_1^2} + \frac{\partial^2}{\partial x_2^2} + \dots + \frac{\partial^2}{\partial x_n^2}$$

により定義される .

□

**定義 2.137** 錐調和関数 錐  $n$  変数関数  $f(x_1, x_2, \dots, x_n)$  が

$$\Delta f(x_1, x_2, \dots, x_n) = 0$$

をみたすとき,  $f$  を調和関数 (**harmonic function**) という .

□

**例 2.138** 錐調和関数 錐 次の関数は調和関数である .

$$\begin{aligned}
 f(x, y) &= \frac{x}{x^2 + y^2} \\
 f(x, y) &= \text{Tan}^{-1} \frac{y}{x} \\
 f(x, y, z) &= \log(x^2 + y^2 + z^2 - xy - yz - zx)
 \end{aligned}$$

□

## § 2.33 演習問題 ~ 偏微分作用素, 座標変換

**例 2.139** 総偏微分作用素 偏微分作用素  $L = a\frac{\partial}{\partial x} + b\frac{\partial}{\partial y}$  に対して, 次が成り立つことを示せ. ただし,  $a, b$  は定数とする.

$$(1) L^2 = a^2\frac{\partial^2}{\partial x^2} + 2ab\frac{\partial^2}{\partial x\partial y} + b^2\frac{\partial^2}{\partial y^2} \quad (2) L^3 = a^3\frac{\partial^3}{\partial x^3} + 3a^2b\frac{\partial^3}{\partial x^2\partial y} + 3ab^2\frac{\partial^3}{\partial x\partial y^2} + b^3\frac{\partial^3}{\partial y^3}$$

□

**例 2.140** 総偏微分作用素 偏微分作用素  $L = a(x, y)\frac{\partial}{\partial x} + b(x, y)\frac{\partial}{\partial y}$  に対して, 次が成り立つことを示せ. ただし,  $a(x, y), b(x, y)$  は関数とする.

$$(1) L^2 = a^2\frac{\partial^2}{\partial x^2} + 2ab\frac{\partial^2}{\partial x\partial y} + b^2\frac{\partial^2}{\partial y^2} + (aa_x + a_yb)\frac{\partial}{\partial x} + (ab_x + bb_y)\frac{\partial}{\partial y} \quad \square$$

**例 2.141** 総ライプニッツ則 1 変数関数  $f(x), g(x)$  の積  $f(x)g(x)$  の微分が

$$\frac{d}{dx}f(x)g(x) = \frac{df(x)}{dx}g(x) + f(x)\frac{dg(x)}{dx} = \lim_{y \rightarrow x} \left( \frac{\partial}{\partial x} + \frac{\partial}{\partial y} \right) f(x)g(y)$$

と書けることを用いて, 次を求めよ.

$$(1) \frac{d}{dx}f(x)g(x) \quad (2) \frac{d^2}{dx^2}f(x)g(x) \quad (3) \frac{d^3}{dx^3}f(x)g(x) \quad (4) \frac{d^4}{dx^4}f(x)g(x) \quad (5) \frac{d^{10}}{dx^{10}}f(x)g(x)$$

□

**問 2.142** 総座標変換 座標変換

$$(i) x = 2u + 3v, y = u - 2v \quad (ii) x = 2u - v, y = u + 2v \quad (iii) x = 2u - 3v, y = 4u + 5v$$

$$(iv) x = \sqrt{3}u - \sqrt{3}v, y = u + v \quad (v) x = u - v, y = u + \sqrt{3}v$$

それぞれにおいて, 次を座標変換をせよ.

(1)  $u = 0, \pm 1, \pm 2, \dots, v = 0, \pm 1, \pm 2, \dots$  をみたく  $(x, y)$  の軌跡をそれぞれ書け. (2)  $u$  軸 ( $v = 0$  の直線) と  $v$  軸 ( $u = 0$  の直線) の方向ベクトルを求めよ. (3)  $u$  軸と  $v$  軸のなす角度を求めよ. (4)  $uv$  座標で  $(u, v) = (0, 1), (-3, 4), (1, 0)$  となる点の  $xy$  座標における座標  $(x, y)$  を求めよ. (5)  $xy$  座標で  $(x, y) = (1, 0), (-8, 6), (2, 3)$  となる点の  $uv$  座標における座標  $(u, v)$  を求めよ. (6) 直線  $x + 2y = 1$  を座標  $(u, v)$  で表せ. (7) 曲線  $x^2 + y^2 = 1$  を座標  $(u, v)$  で表せ.

$$(8) \text{ヤコビアン } \frac{\partial(x, y)}{\partial(u, v)} \text{ を求めよ. } (9) z_u, z_v \quad (10) z_x, z_y \quad (11) \frac{\partial}{\partial u}, \frac{\partial}{\partial v} \quad (12) \frac{\partial}{\partial x}, \frac{\partial}{\partial y}$$

$$(13) F = (z_x)^2 + (z_y)^2 \quad (14) G = z_{xx} + z_{yy} \quad (15) \Delta = \frac{\partial^2}{\partial x^2} + \frac{\partial^2}{\partial y^2} \quad (16) z_{uu}, z_{uv}, z_{vv} \quad \square$$

**問 2.143** 総直交座標と斜交座標 標準基底  $e_x, e_y$  から基底  $e_u = \begin{bmatrix} \alpha \\ \beta \end{bmatrix}, e_v = \begin{bmatrix} \gamma \\ \delta \end{bmatrix}$  への座標

変換  $x = \alpha u + \gamma v, y = \beta u + \delta v$  に関して次の問に答えよ.

(1)  $e_u$  と  $e_v$  とが直交する  $\alpha, \beta, \gamma, \delta$  の条件を求めよ. (2)  $e_u, e_v$  が単位ベクトルとなる  $\alpha, \beta, \gamma, \delta$  の条件を求めよ. (3)  $e_u, e_v$  が正規直交基底となる  $\alpha, \beta, \gamma, \delta$  の条件を求めよ. (4)  $e_u,$

$e_v$  が正規直交基底となるとき, 基底の変換行列  $A = \begin{bmatrix} e_u & e_v \end{bmatrix}$  は直交行列となることを示せ (ヒント:  $A^T A = E$  を示す.) (5) 基底  $e_u, e_v$  が正規直交基底であるとき, 関数  $F = (z_x)^2 + (z_y)^2$  は斜交座標  $uv$  において,  $F = (z_u)^2 + (z_v)^2$  と表されることを示せ. (6) 基底  $e_u, e_v$  が正規直交基底であるとき, ラプラシアン  $\Delta = \frac{\partial^2}{\partial x^2} + \frac{\partial^2}{\partial y^2}$  は斜交座標  $uv$  において,  $\Delta = \frac{\partial^2}{\partial u^2} + \frac{\partial^2}{\partial v^2}$  となることを示せ. □

**問 2.144** 錐座標変換 座標変換  $x = r \cos \theta, y = r \sin \theta$  により, 次を座標変換せよ.

- (1)  $r\theta$  座標で  $(r, \theta) = (0, 1), (-3, 4), (1, \pi)$  となる点の  $xy$  座標における座標  $(x, y)$  を求めよ.  
 (2)  $xy$  座標で  $(x, y) = (1, 0), (-8, 6), (2, 3)$  となる点の  $r\theta$  座標における座標  $(r, \theta)$  を求めよ.  
 (3) ヤコビアン  $\frac{\partial(x, y)}{\partial(r, \theta)}$  を求めよ. (4)  $z_r, z_\theta$  (5)  $z_x, z_y$  (6)  $F = (z_x)^2 + (z_y)^2$   
 (7)  $\frac{\partial}{\partial r}, \frac{\partial}{\partial \theta}$  (8)  $\frac{\partial}{\partial x}, \frac{\partial}{\partial y}$  (9)  $G = z_{xx} + z_{yy}$  (10)  $\Delta = \frac{\partial^2}{\partial x^2} + \frac{\partial^2}{\partial y^2}$  (11)  $z_{rr}, z_{r\theta}, z_{\theta\theta}$  □

**問 2.145** 錐 3 次元の極座標 3 次元の極座標変換  $x = r \sin \theta \cos \varphi, y = r \sin \theta \sin \varphi, z = r \cos \theta$  において次が成り立つことを示せ.

- (1)  $\frac{\partial(x, y, z)}{\partial(r, \theta, \varphi)} = r^2 \sin \theta$  (2)  $\begin{bmatrix} f_r & f_\theta & f_\varphi \end{bmatrix} = \begin{bmatrix} f_x & f_y & f_z \end{bmatrix} \begin{bmatrix} \sin \theta \cos \varphi & r \cos \theta \cos \varphi & -r \sin \theta \sin \varphi \\ \sin \theta \sin \varphi & r \cos \theta \sin \varphi & r \sin \theta \cos \varphi \\ \cos \theta & -r \sin \theta & 0 \end{bmatrix}$   
 (3)  $\begin{bmatrix} f_x & f_y & f_z \end{bmatrix} = \begin{bmatrix} f_r & f_\theta & f_\varphi \end{bmatrix} \begin{bmatrix} \sin \theta \cos \varphi & \sin \theta \sin \varphi & \cos \theta \\ \frac{1}{r} \cos \theta \cos \varphi & \frac{1}{r} \cos \theta \sin \varphi & -\frac{1}{r} \sin \theta \\ -\frac{1}{r} \frac{\sin \varphi}{\cos \theta} & \frac{1}{r} \frac{\cos \varphi}{\sin \theta} & 0 \end{bmatrix}$   
 (4)  $\Delta = \frac{\partial^2}{\partial x^2} + \frac{\partial^2}{\partial y^2} + \frac{\partial^2}{\partial z^2} = \frac{\partial^2}{\partial r^2} + \frac{1}{r^2} \frac{\partial^2}{\partial \theta^2} + \frac{1}{r^2 \sin^2 \theta} \frac{\partial^2}{\partial \varphi^2} + \frac{2}{r} \frac{\partial}{\partial r} + \frac{1}{r^2 \tan \theta} \frac{\partial}{\partial \theta}$  □

**問 2.146** 錐調和関数と極座標 次の関数にラプラシアン  $\Delta$  を作用させた関数  $\Delta f$  を極座標に変換してから求めよ.

- (1)  $f(x, y) = \frac{x}{x^2 + y^2}$  (2)  $f(x, y) = \tan^{-1} \frac{y}{x}$  (3)  $f(x, y, z) = \log(x^2 + y^2 + z^2 - xy - yz - zx)$

□

**問 2.147** 錐座標変換 次の座標変換のヤコビアンを求めよ.

- (1)  $(x, y) \leftrightarrow (r, \theta): x = 3r \cos \theta, y = 2r \sin \theta$  (2)  $(x, y) \leftrightarrow (r, t): x = r \cosh t, y = r \sinh t$   
 (3)  $(x, y) \leftrightarrow (u, v): x = u, y = u^2 + v$  (4)  $(x, y) \leftrightarrow (u, v): x = u + v, y = uv$   
 (5)  $(x, y) \leftrightarrow (u, v): x = uv, y = u^2 - v^2$   
 (6)  $(x, y, z) \leftrightarrow (u, v, w): x = u - 2w, y = v - w + 1, z = u - w + 2$  □

## § 2.34 テイラー展開

1 変数関数  $f(x)$  のテイラー展開は, 点  $a$  のまわりで  $x$  について展開すると

$$f(x) = f(a) + f'(a)(x-a) + \frac{1}{2}f''(a)(x-a)^2 + \cdots + \frac{1}{n!}f^{(n)}(a)(x-a)^n + R_{n+1}(x),$$

$$R_{n+1}(x) = \frac{1}{(n+1)!}f^{(n+1)}(\xi)(x-a)^{n+1}, \quad \xi = a + (x-a)\theta \quad (0 < \theta < 1)$$

である.  $x = a + h$  とおいて, 点  $a$  のまわりで  $a + h$  についての展開に書き直すと

$$f(a+h) = f(a) + hf'(a) + \frac{h^2}{2}f''(a) + \cdots + \frac{h^n}{n!}f^{(n)}(a) + R_{n+1}, \quad R_{n+1} = \frac{h^{n+1}}{(n+1)!}f^{(n+1)}(a+\theta h)$$

となる.

2 変数関数  $f(x, y)$  のテイラー展開では, 点  $(a, b)$  のまわりで点  $(x, y) = (a+h, b+k)$  についての展開を考える. まず, 関数

$$F(t) = f(a+ht, b+kt)$$

を導入する. これを  $t = 0$  のまわりでテイラー展開すると

$$F(t) = \sum_{n=0}^N \frac{F^{(n)}(0)}{n!}t^n + R_{N+1}, \quad R_{N+1} = \frac{F^{(N+1)}(\theta t)}{(N+1)!}t^{N+1}$$

となる. 微係数を求める.  $F(t)$  の導関数は

$$F'(t) = af_x(a+ht, b+kt) + bf_y(a+ht, b+kt)$$

$$= \left( a \frac{\partial}{\partial x} + b \frac{\partial}{\partial y} \right) f(a+ht, b+kt),$$

$$F''(t) = a^2 f_{xx}(a+ht, b+kt) + 2ab f_{xy}(a+ht, b+kt) + b^2 f_{yy}(a+ht, b+kt)$$

$$= \left( a^2 \frac{\partial^2}{\partial x^2} + 2ab \frac{\partial^2}{\partial x \partial y} + b^2 \frac{\partial^2}{\partial y^2} \right) f(a+ht, b+kt) = \left( a \frac{\partial}{\partial x} + b \frac{\partial}{\partial y} \right)^2 f(a+ht, b+kt),$$

...

$$F^{(n)}(t) = \left( a \frac{\partial}{\partial x} + b \frac{\partial}{\partial y} \right)^n f(a+ht, b+kt)$$

であるから,

$$F^{(n)}(0) = \left( a \frac{\partial}{\partial x} + b \frac{\partial}{\partial y} \right)^n f(a, b) = \sum_{j=0}^n \binom{n}{j} \left( a \frac{\partial}{\partial x} \right)^{n-j} \left( b \frac{\partial}{\partial y} \right)^j f(a, b) = \sum_{j=0}^n \frac{n! a^{n-j} b^j}{(n-j)! j!} \frac{\partial^n f(a, b)}{\partial x^{n-j} \partial y^j}$$

$$= n! \sum_{i+j=n} \frac{a^i b^j}{i! j!} \frac{\partial^n f(a, b)}{\partial x^i \partial y^j}$$



を得る．これを用いると，

$$F(1) = f(a+t, b+t) = \sum_{n=0}^N \frac{F^{(n)}(0)}{n!} + R_{N+1} = \sum_{n=0}^N \sum_{i+j=n} \frac{a^i b^j}{i!j!} \frac{\partial^n f(a, b)}{\partial x^i \partial y^j} + R_{N+1},$$

$$R_{N+1} = \sum_{i+j=N+1} \frac{a^i b^j}{i!j!} \frac{\partial^{N+1} f(a+\theta h, b+\theta k)}{\partial x^i \partial y^j}$$

を得る．

**定理 2.148** 二重テイラー展開 関数  $f(x, y)$  が  $n+1$  回微分可能なとき，点  $(a, b)$  のまわりで点  $(x, y) = (a+h, b+k)$  についてのテイラー展開 (Taylor expansion) は，

$$f(a+h, b+k) = \sum_{i=0}^n \frac{1}{i!} \left( h \frac{\partial}{\partial x} + k \frac{\partial}{\partial y} \right)^i f(a, b) + R_{n+1} = \sum_{i=0}^n \sum_{\substack{l+m=i \\ 0 \leq l, m \leq i}} \frac{h^l k^m}{l!m!} \frac{\partial^i f(a, b)}{\partial x^l \partial y^m} + R_{n+1},$$

$$f(x, y) = \sum_{i=0}^n \sum_{\substack{l+m=i \\ 0 \leq l, m \leq i}} \frac{1}{l!m!} \frac{\partial^i f(a, b)}{\partial x^l \partial y^m} (x-a)^l (y-b)^m + R_{n+1}$$

であるとえられる．ただし， $R_{n+1}$  は剰余項 (remainder) であり，

$$R_{n+1} = \frac{1}{(n+1)!} \left( h \frac{\partial}{\partial x} + k \frac{\partial}{\partial y} \right)^{n+1} f(a+\theta h, b+\theta k) = \sum_{\substack{l+m=n+1 \\ 0 \leq l, m \leq i}} \frac{h^l k^m}{l!m!} \frac{\partial^{n+1} f(a+\theta h, b+\theta k)}{\partial x^l \partial y^m}$$

と与えられる．ただし， $0 < \theta < 1$  である． □

**注意 2.149** 二重テイラー展開 テイラー展開をベクトル表記すると

$$f(\mathbf{a} + \mathbf{h}) = f(\mathbf{a}) + \nabla f(\mathbf{a}) \mathbf{h} + \frac{1}{2} \mathbf{h}^T \nabla^2 f(\mathbf{a}) \mathbf{h} + R_3$$

と書ける．ただし，

$$\mathbf{a} = \begin{bmatrix} a \\ b \end{bmatrix}, \quad \mathbf{h} = \begin{bmatrix} h \\ k \end{bmatrix}, \quad \nabla f = \begin{bmatrix} \frac{\partial f}{\partial x} & \frac{\partial f}{\partial y} \end{bmatrix}, \quad H = \nabla^2 f = \begin{bmatrix} \frac{\partial^2 f}{\partial x^2} & \frac{\partial^2 f}{\partial x \partial y} \\ \frac{\partial^2 f}{\partial y \partial x} & \frac{\partial^2 f}{\partial y^2} \end{bmatrix}$$

であり， $H$  は  $f$  のヘッセ行列 (Hesse matrix) という． □

**例 2.150** 二重テイラー展開 関数  $f(x, y)$  を点  $(a, b)$  のまわりで点  $(a+h, b+k)$  について 3 次まで展開し，4 次以降を剰余項で表すと

$$f(a+h, b+k) = f(a, b) + hf_x(a, b) + kf_y(a, b) + \frac{h^2}{2} f_{xx}(a, b) + hk f_{xy}(a, b) + \frac{k^2}{2} f_{yy}(a, b)$$

$$+ \frac{h^3}{3!} f_{xxx}(a, b) + \frac{h^2 k}{2} f_{xxy}(a, b) + \frac{h k^2}{2} f_{xyy}(a, b) + \frac{k^3}{3!} f_{yyy}(a, b) + R_4,$$

$$R_4 = \frac{h^4}{4!} f_{xxxx}(a+\theta h, b+\theta k) + \frac{h^3 k}{3!} f_{xxxxy}(a+\theta h, b+\theta k) + \frac{h^2 k^2}{2!2!} f_{xxxyy}(a+\theta h, b+\theta k)$$

$$+ \frac{h k^2}{3!} f_{xyyyy}(a+\theta h, b+\theta k) + \frac{k^4}{4!} f_{yyyyy}(a+\theta h, b+\theta k)$$

となる． □

**例 2.151**

総テイラー展開関数  $f(x, y) = x^2y + 4y - 5$  を点  $(1, -1)$  のまわりで点  $(x, y)$  についてテイラー展開する。まず、偏導関数は

$$f_x = 2xy, \quad f_y = x^2 + 4, \quad f_{xx} = 2y, \quad f_{xy} = 2x, \quad f_{yy} = 0, \\ f_{xxx} = 0, \quad f_{xxy} = 2, \quad f_{xyy} = 0, \quad f_{yyy} = 0, \quad f_{xxxx} = 0, \quad \dots$$

である。4 階以降の偏導関数はすべて 0 となる。また、点  $(1, -1)$  における偏微係数は

$$f(1, -1) = -10, \quad f_x(1, -1) = -2, \quad f_y(1, -1) = 5, \\ f_{xx}(1, -1) = -2, \quad f_{xy}(1, -1) = 2, \quad f_{yy}(1, -1) = 0, \\ f_{xxx}(1, -1) = 0, \quad f_{xxy}(1, -1) = 2, \quad f_{xyy}(1, -1) = 0, \quad f_{yyy}(1, -1) = 0, \\ f_{xxxx}(1, -1) = 0, \quad \dots$$

である。これを用いるとテイラー展開は

$$f(x, y) = f(1, -1) + f_x(1, -1)(x - 1) + f_y(1, -1)(y + 1) \\ + \frac{1}{2}f_{xx}(1, -1)(x - 1)^2 + f_{xy}(1, -1)(x - 1)(y + 1) + \frac{1}{2}f_{yy}(1, -1)(y + 1)^2 \\ + \frac{1}{3!}f_{xxx}(1, -1)(x - 1)^3 + \frac{1}{2}f_{xxy}(1, -1)(x - 1)^2(y + 1) + \frac{1}{2}f_{xyy}(1, -1)(x - 1)(y + 1)^2 \\ + \frac{1}{3!}f_{yyy}(1, -1)(y + 1)^3 + \frac{1}{4!}f_{xxxx}(1, -1)(x - 1)^4 + 0 + 0 + \dots$$

より、

$$f(x, y) = -10 - 2(x - 1) + 5(y + 1) - (x - 1)^2 + 2(x - 1)(y + 1) + (x - 1)^2(y + 1)$$

となる。多項式のテイラー展開は、多項式を単に変形した形となる。 □

**例 2.152**

総テイラー展開関数  $f(x, y) = e^{x+2y}$  を点  $(0, 0)$  まわりで点  $(h, k)$  についてテイラー展開する。まず、偏導関数は

$$f_x = e^{x+2y}, \quad f_y = 2e^{x+2y}, \quad f_{xx} = e^{x+2y}, \quad f_{xy} = 2e^{x+2y}, \quad f_{yy} = 4e^{x+2y}, \\ f_{xxx} = e^{x+2y}, \quad f_{xxy} = 2e^{x+2y}, \quad f_{xyy} = 4e^{x+2y}, \quad f_{yyy} = 8e^{x+2y}$$

である。

$$f(0, 0) = 1, \quad f_x(0, 0) = 1, \quad f_y(0, 0) = 2, \\ f_{xx}(\theta h, \theta k) = e^{\theta h + 2\theta k}, \quad f_{xy}(\theta h, \theta k) = 2e^{\theta h + 2\theta k}, \quad f_{yy}(\theta h, \theta k) = 4e^{\theta h + 2\theta k}$$

となるから、1 次項までのテイラー展開は

$$f(h, k) = f(0, 0) + hf_x(0, 0) + kf_y(0, 0) + \frac{h^2}{2}f_{xx}(\theta h, \theta k) + hkf_{xy}(\theta h, \theta k) + \frac{k^2}{2}f_{yy}(\theta h, \theta k) \\ = 1 + h + 2k + \left( \frac{h^2}{2} + 2hk + 2k^2 \right) e^{\theta h + 2\theta k} \quad (0 < \theta < 1)$$

となる．同様にして，

$$f(0,0) = 1, \quad f_x(0,0) = 1, \quad f_y(0,0) = 2, \quad f_{xx}(0,0) = 1, \quad f_{xy}(0,0) = 2, \quad f_{yy}(0,0) = 4, \\ f_{xxx}(\theta h, \theta k) = e^{\theta h + 2\theta k}, \quad f_{xxy}(\theta h, \theta k) = 2e^{\theta h + 2\theta k}, \quad f_{xyy}(\theta h, \theta k) = 4e^{\theta h + 2\theta k}, \quad f_{yyy}(\theta h, \theta k) = 8e^{\theta h + 2\theta k}$$

となるから，2次項までのテイラー展開は

$$f(h, k) = f(0,0) + hf_x(0,0) + kf_y(0,0) + \frac{h^2}{2}f_{xx}(0,0) + hkf_{xy}(0,0) + \frac{k^2}{2}f_{yy}(0,0) \\ + \frac{h^3}{6}f_{xxx}(\theta h, \theta k) + \frac{h^2k}{2}f_{xxy}(\theta h, \theta k) + \frac{hk^2}{2}f_{xyy}(\theta h, \theta k) + \frac{k^3}{6}f_{yyy}(\theta h, \theta k) \\ = 1 + h + 2k + \frac{h^2}{2} + 2hk + 2k^2 + \left( \frac{h^3}{6} + h^2k + 2hk^2 + \frac{4k^3}{3} \right) e^{\theta h + 2\theta k} \quad (0 < \theta < 1)$$

となる．

□

**例 2.153** 総テイラー展開 関数  $f(x, y) = \sin(xy)$  を点  $(\frac{\pi}{2}, 1)$  のまわりで点  $(x, y)$  についてテイラー展開する．まず，

$$f_x = y \cos(xy), \quad f_y = x \cos(xy), \\ f_{xx} = -y^2 \sin(xy), \quad f_{xy} = \cos(xy) - xy \sin(xy), \quad f_{yy} = -x^2 \sin(xy)$$

より，

$$f\left(\frac{\pi}{2}, 1\right) = 1, \quad f_x\left(\frac{\pi}{2}, 1\right) = 0, \quad f_y\left(\frac{\pi}{2}, 1\right) = 0, \\ f_{xx}\left(\frac{\pi}{2}, 1\right) = -1, \quad f_{xy}\left(\frac{\pi}{2}, 1\right) = -\frac{\pi}{2}, \quad f_{yy}\left(\frac{\pi}{2}, 1\right) = -\frac{\pi^2}{4}$$

となるので，テイラー展開は

$$f(x, y) = f\left(\frac{\pi}{2}, 1\right) + f_x\left(\frac{\pi}{2}, 1\right)\left(x - \frac{\pi}{2}\right) + f_y\left(\frac{\pi}{2}, 1\right)(y - 1) \\ + \frac{1}{2}f_{xx}\left(\frac{\pi}{2}, 1\right)\left(x - \frac{\pi}{2}\right)^2 + f_{xy}\left(\frac{\pi}{2}, 1\right)\left(x - \frac{\pi}{2}\right)(y - 1) + \frac{1}{2}f_{yy}\left(\frac{\pi}{2}, 1\right)(y - 1)^2 + \dots \\ = 1 - \frac{1}{2}\left(x - \frac{\pi}{2}\right)^2 - \frac{\pi}{2}\left(x - \frac{\pi}{2}\right)(y - 1) - \frac{\pi^2}{8}(y - 1)^2 + \dots$$

である．展開を途中で打ち切ると  $f(x, y)$  の2次の近似式  $f_2(x, y)$  が

$$f(x, y) \simeq f_2(x, y) = 1 - \frac{1}{2}\left(x - \frac{\pi}{2}\right)^2 - \frac{\pi}{2}\left(x - \frac{\pi}{2}\right)(y - 1) - \frac{\pi^2}{8}(y - 1)^2$$

と得られる．

□

**例 2.154** 二変数テイラー展開 関数  $f(x, y) = \log(1 + x + y)$  のマクローリン展開を求めます。

$$\begin{aligned} f_x &= \frac{1}{1+x+y}, & f_y &= \frac{1}{1+x+y}, \\ f_{xx} &= \frac{-1}{(1+x+y)^2}, & f_{xy} &= \frac{-1}{(1+x+y)^2}, & f_{yy} &= \frac{-1}{(1+x+y)^2}, \\ f_{xxx} &= \frac{2}{(1+x+y)^3}, & f_{xxy} &= \frac{2}{(1+x+y)^3}, & f_{xyy} &= \frac{2}{(1+x+y)^3}, & f_{yyy} &= \frac{2}{(1+x+y)^3}, \\ \dots, & \frac{\partial^n f}{\partial x^n} = \frac{\partial^n f}{\partial x^{n-1}\partial y} = \dots = \frac{\partial^n f}{\partial x\partial y^{n-1}} = \frac{\partial^n f}{\partial y^n} = \frac{(-1)^{n-1}(n-1)!}{(1+x+y)^n} \end{aligned}$$

より,

$$\begin{aligned} f(0, 0) &= 0, & f_x(0, 0) &= 1, & f_y(0, 0) &= 1, & f_{xx}(0, 0) &= -1, & f_{xy}(0, 0) &= -1, & f_{yy}(0, 0) &= -1, \\ \dots, & \frac{\partial^n f(0, 0)}{\partial x^n} = \frac{\partial^n f(0, 0)}{\partial x^{n-1}\partial y} = \dots = \frac{\partial^n f(0, 0)}{\partial x\partial y^{n-1}} = \frac{\partial^n f(0, 0)}{\partial y^n} = (-1)^{n-1}(n-1)! \end{aligned}$$

となるので、マクローリン展開は

$$\begin{aligned} f(x, y) &= f(0, 0) + f_x(0, 0)x + f_y(0, 0)y + \dots + \sum_{l=0}^n \frac{1}{(n-l)!l!} \frac{\partial^n f(0, 0)}{\partial x^{n-l}\partial y^l} x^{n-l}y^l + \dots \\ &= x + y - \frac{x^2}{2} - xy - \frac{y^2}{2} + \frac{1}{3}x^3 + x^2y + xy^2 + \frac{1}{3}y^3 + \dots + \sum_{l=0}^n \frac{(-1)^{n-1}(n-1)!}{(n-l)!l!} x^{n-l}y^l + \dots \end{aligned}$$

と得られる。

□

## § 2.35 $n$ 変数関数のテイラー展開

**定理 2.155** 多変数テイラー展開 関数  $f(x_1, x_2, \dots, x_n)$  の点  $(a_1, a_2, \dots, a_n)$  まわりでの点  $(x_1, x_2, \dots, x_n) = (a_1 + h_1, a_2 + h_2, \dots, a_n + h_n)$  についてテイラー展開は

$$\begin{aligned} f(\mathbf{a} + \mathbf{h}) &= \sum_{i=1}^{\nu} \frac{1}{i!} \left( h_1 \frac{\partial}{\partial x_1} + h_2 \frac{\partial}{\partial x_2} + \dots + h_n \frac{\partial}{\partial x_n} \right)^i f(\mathbf{a}) + R_{\nu+1}, \\ &= \sum_{i=1}^{\nu} \sum_{\substack{l_1+l_2+\dots+l_n=i \\ 0 \leq l_j \leq i}} \frac{h_1^{l_1} h_2^{l_2} \dots h_n^{l_n}}{l_1! l_2! \dots l_n!} \frac{\partial^i f(\mathbf{a})}{\partial x_1^{l_1} \partial x_2^{l_2} \dots \partial x_n^{l_n}} + R_{\nu+1}, \\ f(\mathbf{x}) &= \sum_{i=1}^{\nu} \sum_{\substack{l_1+l_2+\dots+l_n=i \\ 0 \leq l_j \leq i}} \frac{1}{l_1! l_2! \dots l_n!} \frac{\partial^i f(\mathbf{a})}{\partial x_1^{l_1} \partial x_2^{l_2} \dots \partial x_n^{l_n}} (x_1 - a_1)^{l_1} (x_2 - a_2)^{l_2} \dots (x_n - a_n)^{l_n} + R_{\nu+1} \end{aligned}$$

となる。

□

## § 2.36 平均値の定理

**定理 2.156** 鏢平均値の定理鏢 関数  $f(x)$  が連続かつ微分可能であるとき,

$$\frac{f(a_2) - f(a_1)}{a_2 - a_1} = f'(\xi), \quad a_1 < \xi < a_2$$

をみたす  $\xi$  が存在する .

□

**定理 2.157** 鏢平均値の定理鏢 関数  $f(x, y)$  が連続かつ全微分可能であるとき,

$$f(a_2, b_2) - f(a_1, b_1) = f_x(\xi, \eta)(a_2 - a_1) + f_y(\xi, \eta)(b_2 - b_1), \quad a_1 < \xi < a_2, \quad b_1 < \eta < b_2$$

をみたす  $\xi, \eta$  が存在する .

□

**問 2.158** 鏢平均値の定理鏢 次の等式が成り立つことを示せ .

$$\log \frac{x+y}{2} = \frac{x+y-2}{x+y-\theta(x+y-2)}, \quad 0 < \theta < 1, \quad x > 0, \quad y > 0$$

□

## § 2.37 演習問題 ~ テイラー展開

**問 2.159** 鏹テイラー展開鏹 関数  $f(x, y)$  を点  $(a, b)$  のまわりで点  $(a + h, b + k)$  について3次項までテイラー展開せよ．ただし，剰余項も具体的に書き下して表せ． □

**問 2.160** 鏹テイラー展開鏹 次の関数  $f(x, y)$  を点  $A$  のまわりで点  $(x, y)$  についてテイラー展開せよ．

(1)  $f(x, y) = x^2y + 4y - 5, \quad A(1, -1)$

(2)  $f(x, y) = x - 3x^2y^2 + 2xy - 4y^2, \quad A(2, 1)$

(3)  $f(x, y) = x^3 - 2xy - y^2 + 3x + 4y, \quad A(1, -1)$

(4)  $f(x, y) = x^3 - 2y^3 + x^2y + 4xy^2 - 3x^2 + 2y^2 + 2xy + x + y + 2, \quad A(1, -1)$  □

**問 2.161** 鏹テイラー展開鏹 次の関数  $f(x, y)$  を原点  $(0, 0)$  のまわりで点  $(h, k)$  について2次項までテイラー展開せよ．ただし，剰余項も具体的に書き下して表せ．

(1)  $f(x, y) = e^{x+2y}$    (2)  $f(x, y) = e^{x-y}$    (3)  $f(x, y) = \cos(x + 2y)$  □

**問 2.162** 鏹テイラー展開鏹 次の関数  $f(x, y)$  を点  $A$  のまわりで点  $P$  について2次項までテイラー展開せよ．

(1)  $f(x, y) = \sin(xy), \quad A(\pi/2, 1), \quad P(x, y)$

(2)  $f(x, y) = \cos(xy), \quad A(\pi, 1), \quad P(\pi + h, 1 + k)$

(3)  $f(x, y) = \sin x \cos y, \quad A(-\pi/2, \pi/2), \quad P(-\pi/2 + h, \pi/2 + k)$  □

**問 2.163** 鏹テイラー展開鏹 次の関数  $f(x, y)$  を1次項までマクローリン展開せよ．ただし，剰余項も具体的に書き下して表せ．

(1)  $f(x, y) = \log(1 + x + y)$    (2)  $f(x, y) = \sin(x + y^2)$    (3)  $f(x, y) = \frac{1 + y}{x^2 + (1 + y)^2}$  □

## § 2.38 1 変数の陰関数

**定義 2.164** 鋸陰関数鋸 変数  $x, y$  が条件  $F(x, y) = 0$  をみたすとき,  $y$  は  $x$  の関数  $y = f(x)$  であり, または  $x$  は  $y$  の関数  $x = g(y)$  であるとみなせる. すなわち,

$$F(x, f(x)) = 0, \quad F(g(y), y) = 0$$

により定義される関数  $f(x), g(y)$  を,  $F(x, y) = 0$  で定義される陰関数 (implicit function) という. □

**注意 2.165** 鋸陽関数鋸 関数  $y = f(x) = ax + b$  や  $y = f(x) = x^2$  などの関数は陽に (explicit) 表されているという. □

**定理 2.166** 鋸陰関数の微分鋸 条件  $F(x, y) = 0$  で定義される陰関数  $y = f(x)$  の導関数は,  $F_y(x, y) \neq 0$  のとき

$$\frac{dy}{dx} = f'(x) = -\frac{F_x(x, y)}{F_y(x, y)}$$

で与えられる.

(証明) 関数  $y = f(x)$  を  $F(x, y) = 0$  に代入すると

$$F(x, f(x)) = 0$$

である. 両辺を  $x$  で偏微分すると

$$0 = \frac{d}{dx} F(x, y) = F_x(x, y) \frac{\partial x}{\partial x} + F_y(x, y) \frac{\partial y}{\partial x} = F_x(x, y) + F_y(x, y) \frac{dy}{dx}$$

となるので,  $\frac{dy}{dx} = -\frac{F_x}{F_y}$  を得る. □

**例 2.167** 鋸陰関数鋸 条件  $xe^{-y} = y \sin x$  で定義される陰関数  $y = f(x)$  の導関数を求める. 条件  $xe^{-y} = y \sin x$  の両辺を  $x$  で微分すると

$$\begin{aligned} \frac{d}{dx} (xe^{-y}) &= \frac{d}{dx} (y \sin x) \Rightarrow x'(e^{-y}) + x(e^{-y})' = y'(\sin x) + y(\sin x)' \\ \Rightarrow e^{-y} - xy'e^{-y} &= y' \sin x + y \cos x \Rightarrow e^{-y} - y \cos x = (\sin x + xe^{-y})y' \end{aligned}$$

となるので,

$$y' = \frac{e^{-y} - y \cos x}{\sin x + xe^{-y}}$$

を得る. □

**例 2.168**

錐陰関数録  $xy$  平面内の円  $F(x, y) = x^2 + y^2 - 1 = 0$  を考える．このとき， $y$  は  $x$  の関数  $y = f(x)$  とみなされる．これを陽に書くと

$$y = f(x) = \pm\sqrt{1-x^2}$$

となる．これは 2 価関数である．多価関数のままでは取り扱いに面倒が多い． $y = f(x)$  を陰関数として取り扱い導関数を求める．条件  $F(x, y) = 0$  に  $y = f(x)$  を代入すると

$$x^2 + f(x)^2 - 1 = 0$$

である．両辺を  $x$  で微分すると

$$2x + 2f(x)f'(x) = 0$$

となり，

$$y' = f'(x) = \frac{dy}{dx} = -\frac{x}{y}$$

を得る．さらに微分すると 2 階導関数と 3 階導関数は

$$y'' = f''(x) = \frac{d^2y}{dx^2} = \frac{d}{dx} \left( -\frac{x}{y} \right) = -\frac{1}{y} + \frac{xy'}{y^2} = -\frac{1}{y} - \frac{x^2}{y^3} = -\frac{(x^2 + y^2)}{y^3} = -\frac{1}{y^3},$$

$$y''' = f'''(x) = \frac{d^3y}{dx^3} = \frac{d}{dx} \left( -\frac{1}{y^3} \right) = \frac{3y'}{y^4} = -\frac{3x}{y^5}$$

となる． $y$  は 2 価関数であるから  $y', y'', y'''$  も 2 価関数である．

次に，円  $F = 0$  上の点  $(\frac{1}{2}, \frac{\sqrt{3}}{2})$  において，関数  $y = f(x)$  を点  $x = \frac{1}{2}$  まわりでテイラー展開する． $x = \frac{1}{2}, y = \frac{\sqrt{3}}{2}$  であることに注意すると

$$f\left(\frac{1}{2}\right) = \frac{\sqrt{3}}{2}, \quad f'\left(\frac{1}{2}\right) = -\frac{1}{\left(\frac{\sqrt{3}}{2}\right)^3} = -\frac{8}{3\sqrt{3}}, \quad f''\left(\frac{1}{2}\right) = -\frac{3\left(\frac{1}{2}\right)}{\left(\frac{\sqrt{3}}{2}\right)^5} = -\frac{16}{3\sqrt{3}}$$

となるので，テイラー展開は

$$y = f\left(\frac{1}{2}\right) + f'\left(\frac{1}{2}\right)\left(x - \frac{1}{2}\right) + \frac{1}{2}f''\left(\frac{1}{2}\right)\left(x - \frac{1}{2}\right)^2 + \cdots$$

$$= \frac{\sqrt{3}}{2} - \frac{8}{3\sqrt{3}}\left(x - \frac{1}{2}\right) - \frac{8}{3\sqrt{3}}\left(x - \frac{1}{2}\right)^2 + \cdots$$

と得られる．

□

**例 2.169**

錐陰関数録 条件

$$F(x, y) = x^3 + 3xy + 4xy^2 + y^2 + y - 2 = 0$$



により定義される陰関数  $y = f(x)$  を考える .  $y$  は陽に書くと , 2 次方程式

$$(4x + 1)y^2 + (3x + 1)y + (x^3 - 2) = 0$$

を解いて ,

$$y = f(x) = \frac{3x + 1 \pm \sqrt{(3x + 1)^2 - 4(4x + 1)(x^3 - 2)}}{8x + 2}$$

と表される . しかし , この形では取り扱いが面倒であるから , 陰関数として取り扱う . 導関数  $y' = f'(x)$  は

$$F_x = 3x^2 + 3y + 4y^2, \quad F_y = 3x + 8xy + 2y + 1$$

を用いて ,

$$y' = f'(x) = -\frac{F_x(x, y)}{F_y(x, y)} = -\frac{3x^2 + 3y + 4y^2}{3x + 8xy + 2y + 1}$$

と求まる .

□

**例 2.170** 隠陰関数隠 条件  $F(x, y) = x^3 + xy^2 - 2 = 0$  で定義される陰関数  $y = f(x)$  を考える . 条件  $x^3 + xy^2 - 2 = 0$  の両辺を  $x$  で微分すると

$$( ) \quad 0 = (x^3 + xy^2 - 2)' = (x^3)' + x'y^2 + x(y^2)' + 0 = 3x^2 + y^2 + 2xyy'$$

となる . よって

$$y' = -\frac{3x^2 + y^2}{2xy}$$

を得る . ( ) をさらに  $x$  で微分すると

$$\begin{aligned} 0 &= (3x^2 + y^2 + 2xyy')' = 3(x^2)' + (y^2)' + 2(x)'yy' + 2x(y)'y' + 2xy(y')' \\ &= 6x + 2yy' + 2yy' + 2xy'^2 + 2xyy'' = 6x + 4yy' + 2xy'^2 + 2xyy'' \\ &= 6x + 4y \left( -\frac{3x^2 + y^2}{2xy} \right) + 2x \left( -\frac{3x^2 + y^2}{2xy} \right)^2 + 2xyy'' \end{aligned}$$

となる . 両辺に  $(2xy)^2$  を掛けてまとめると

$$\begin{aligned} 0 &= 6x(2xy)^2 - 4y(3x^2 + y^2)(2xy) + 2x(3x^2 + y^2) + 2xyy''(2xy)^2 \\ &= 9x^4 - 3y^4 + 6x^2y^2 + 4x^2y^3y'' = 3(3x^2 - y^2)(x^2 + y^2) + 4x^2y^3y'' \end{aligned}$$

となる . また条件より  $x^2 + y^2 = 2/x$  であることを用いると

$$y'' = -\frac{3(3x^2 - y^2)(x^2 + y^2)}{4x^2y^3} = -\frac{3(3x^2 - y^2)}{2x^3y^3}$$

を得る .

曲線  $F = 0$  上の点  $(1, 1)$  において, 関数  $y = f(x)$  を  $x = 1$  のまわりでテイラー展開する.  
 $(x, y) = (1, 1)$  であることを用いて

$$f(1) = 1, \quad f'(1) = -2, \quad f''(1) = -3$$

であるから,

$$f(x) = f(1) + f'(1)(x - 1) + \frac{1}{2}f''(1)(x - 1)^2 + \cdots = 1 - 2(x - 1) - \frac{3}{2}(x - 1)^2 + \cdots$$

と得られる. □

## § 2.39 接線

**注意 2.171** 鋸曲線の法線ベクトル 鋸  $xy$  平面内の曲線  $F(x, y) = 0$  上の点をパラメータ表示し,  $(x(t), y(t))$  とおく. このとき, 曲線上の 2 点  $P(x(t), y(t)), Q(x(t + \Delta t), y(t + \Delta t))$  は  $\Delta t$  が十分小さいときテイラー展開して

$$\overrightarrow{PQ} = \mathbf{x}(t + \Delta t) - \mathbf{x}(t) = \mathbf{x}'(t)\Delta t + O(\Delta t^2)$$

と表される.  $\Delta t \rightarrow 0$  のとき, ベクトル  $\overrightarrow{PQ}$  の向きと接線方向ベクトル  $\mathbf{p}$  の向きは等しくなる. よって, 接線方向ベクトルは  $\mathbf{p} = \mathbf{x}'(t)$  である. 一方,  $F(x(t), y(t)) = 0$  の両辺を  $t$  で微分すると

$$F_x(x, y)x'(t) + F_y(x, y)y'(t) = 0$$

となる. ベクトルで表すと

$$\nabla F(x, y) \cdot \mathbf{x}'(t) = 0$$

となる.  $\nabla F$  は  $\mathbf{x}'(t)$  と直交する. よって, 接線の法線ベクトルは  $\mathbf{n} = \nabla F(x, y)$  である. □

**定理 2.172** 鋸接線 鋸 曲線  $F(x, y) = 0$  の点  $(a, b)$  における接線の方程式は

$$F_x(a, b)(x - a) + F_y(a, b)(y - b) = 0$$

で与えられる. ベクトルで表記すると

$$\nabla F(\mathbf{a}) \cdot (\mathbf{x} - \mathbf{a}) = 0$$

となる.

(証明) 接線は点  $(a, b)$  を通り, 法線ベクトルが  $\nabla F(a, b)$  の直線であるので,  $\nabla F(\mathbf{a}) \cdot (\mathbf{x} - \mathbf{a}) = 0$  を得る. または, 次のようにも示される. 条件  $F(x, y) = 0$  により定義される陰関数  $y = f(x)$  を考える. このとき  $y$  の導関数は

$$y' = f'(x) = -\frac{F_x(x, y)}{F_y(x, y)}$$

である .  $y = f(x)$  の  $x = a$  における接線の方程式は

$$y = f(a) + f'(a)(x - a) = f(a) - \frac{F_x(a, b)}{F_y(a, a)}(x - a) \Rightarrow F_x(a, b)(x - a) + F_y(a, b)(y - b) = 0$$

と表される . ただし ,  $b = f(a)$  とおく . □

**例 2.173** 錕接線の方程式錕 円  $F = x^2 + y^2 - 1 = 0$  の点  $(x_0, y_0)$  における接線の方程式を  
求める . 接線の法線ベクトルは

$$F_x = 2x, \quad F_y = 2y$$

を用いて  $\nabla F$  であり , 点  $(x_0, y_0)$  を通る直線であるから ,

$$2x_0(x - x_0) + 2y_0(y - y_0) = 0 \Rightarrow x_0x + y_0y - (x_0^2 + y_0^2) = 0 \Rightarrow x_0x + y_0y = 1$$

を得る . □

**例 2.174** 錕接線の方程式錕 曲線  $x^3 + xy^2 = 2$  の点  $(1, 1)$  における接線の方程式を求める .  
まず , 曲線の方程式を書き直して  $F(x, y) = x^3 + xy^2 - 2 = 0$  とおく . このとき ,

$$F_x(x, y) = 3x^2 + y^2, \quad F_y(x, y) = 2xy$$

であり , 点  $(x, y) = (1, 1)$  を代入して

$$F_x(1, 1) = 4, \quad F_y(1, 1) = 2$$

となる . 接線の方程式は

$$F_x(1, 1)(x - 1) + F_y(1, 1)(y - 1) = 0$$

であり , 書き直すと

$$2x + y = 3$$

を得る . 法線ベクトルが  $\begin{bmatrix} 2 & 1 \end{bmatrix}^T$  の直線である . □

**例 2.175** 錕接線の方程式錕 曲線  $F = x^3 + 3xy + 4xy^2 + y^2 + y - 2 = 0$  の点  $(1, -1)$  にお  
ける接線の方程式を求める .

$$F_x = 3x^2 + 3y + 4y^2, \quad F_y = 3x + 8xy + 2y + 1, \quad F_x(1, -1) = 4, \quad F_y(1, -1) = -6$$

より , 接線は

$$F_x(1, -1)(x - 1) + F_y(1, -1)(y + 1) = 0 \Rightarrow 2x - 3y - 5 = 0$$

と得られる．法線ベクトルが  $\begin{bmatrix} 2 & -3 \end{bmatrix}^T$  の直線である．方程式を書き直して

$$y = \frac{2}{3}x - \frac{5}{3}$$

とする．接線の傾きは  $\frac{2}{3}$  で  $y$  切片は  $-\frac{5}{3}$  である．

$$\frac{x}{\frac{5}{2}} + \frac{y}{-\frac{5}{3}} = 1$$

と書き直す．接線の  $x$  切片は  $\frac{5}{2}$  で  $y$  切片は  $-\frac{5}{3}$  である． □

## § 2.40 2変数の陰関数

**定義 2.176** 錫陰関数錫 変数  $x, y, z$  が条件  $F(x, y, z) = 0$  をみたすとき， $z$  は  $x, y$  の関数  $z = f(x, y)$  であるとみなせる．すなわち，

$$F(x, y, f(x, y)) = 0$$

により定義される関数  $f(x, y)$  を， $F(x, y, z) = 0$  で定義される陰関数 (**implicit function**) という． □

**例 2.177** 錫陰関数錫 条件

$$F(x, y, z) = x^2 + 3xy - 2yz + xz + z^2 - 15 = 0$$

により定まる陰関数  $z = f(x, y)$  の偏導関数を求める． $z = f(x, y)$  を代入すると

$$x^2 + 3xy - 2yf(x, y) + xf(x, y) + f(x, y)^2 - 15 = 0$$

となる．両辺を  $x$  で偏微分すると

$$\begin{aligned} (x^2 + 3xy - 2yf(x, y) + xf(x, y) + f(x, y)^2 - 15)_x &= 0, \\ (x^2)_x + (3xy)_x - (2yf(x, y))_x + (xf(x, y))_x + (f(x, y)^2)_x - (15)_x &= 0, \\ (x^2)_x + 3y(x)_x - 2y(f(x, y))_x + (xf(x, y))_x + (f(x, y)^2)_x - 15(1)_x &= 0, \\ 2x + 3y - 2yf_x(x, y) + f(x, y) + xf_x(x, y) + 2f(x, y)f_x(x, y) &= 0, \\ (-2y + x + 2f(x, y))f_x(x, y) + (2x + 3y + f(x, y)) &= 0, \\ (-2y + x + 2z)f_x(x, y) + (2x + 3y + z) &= 0 \end{aligned}$$

となので，

$$f_x(x, y) = z_x = \frac{\partial z}{\partial x} = -\frac{2x + 3y + z}{-2y + x + 2z}$$

を得る．同様にして  $y$  で偏微分すると

$$\begin{aligned}(x^2 + 3xy - 2yf(x, y) + xf(x, y) + f(x, y)^2 - 15)_y &= 0, \\(x^2)_y + (3xy)_y - (2yf(x, y))_y + (xf(x, y))_y + (f(x, y)^2)_y - (15)_y &= 0, \\x^2(1)_y + 3x(y)_y - 2(yf(x, y))_y + x(f(x, y))_y + (f(x, y)^2)_y - 15(1)_y &= 0, \\3x - 2f(x, y) - 2yf_y(x, y) + xf_y(x, y) + 2f(x, y)f_y(x, y) &= 0, \\(-2y + x + 2f(x, y))f_y(x, y) + (3x - 2f(x, y)) &= 0, \\(-2y + x + 2z)f_y(x, y) + (3x - 2z) &= 0\end{aligned}$$

となるので，

$$f_y(x, y) = z_y = \frac{\partial z}{\partial y} = -\frac{3x - 2z}{-2y + x + 2z}$$

を得る．

□

**定理 2.178** 錐陰関数の微分錐 条件  $F(x, y, z) = 0$  で定義される陰関数  $z = f(x, y)$  の偏導関数は， $F_z(x, y, z) \neq 0$  のとき

$$f_x(x, y) = \frac{\partial z}{\partial x} = -\frac{F_x(x, y, z)}{F_z(x, y, z)}, \quad f_y(x, y) = \frac{\partial z}{\partial y} = -\frac{F_y(x, y, z)}{F_z(x, y, z)}$$

で与えられる．

(証明) 条件  $0 = F(x, y, z)$  に  $z = f(x, y)$  を代入して，両辺を  $x$  で偏微分すると

$$\begin{aligned}0 &= \frac{\partial}{\partial x} F(x, y, f(x, y)) = \frac{\partial F}{\partial x} \frac{\partial x}{\partial x} + \frac{\partial F}{\partial y} \frac{\partial y}{\partial x} + \frac{\partial F}{\partial z} \frac{\partial z}{\partial x} \\&= \frac{\partial F}{\partial x} \times 1 + \frac{\partial F}{\partial y} \times 0 + \frac{\partial F}{\partial z} f_x(x, y) = F_x(x, y, z) + F_z(x, y, z) f_x(x, y)\end{aligned}$$

となるので， $f_x = -F_x/F_z$  を得る．同様にして  $y$  で偏微分すると

$$\begin{aligned}0 &= \frac{\partial}{\partial y} F(x, y, f(x, y)) = \frac{\partial F}{\partial x} \frac{\partial x}{\partial y} + \frac{\partial F}{\partial y} \frac{\partial y}{\partial y} + \frac{\partial F}{\partial z} \frac{\partial z}{\partial y} \\&= \frac{\partial F}{\partial x} \times 0 + \frac{\partial F}{\partial y} \times 1 + \frac{\partial F}{\partial z} f_y(x, y) = F_y(x, y, z) + F_z(x, y, z) f_y(x, y)\end{aligned}$$

となるので， $f_y = -F_y/F_z$  を得る．

□

**例 2.179** 錐陰関数錐 条件

$$F(x, y, z) = x^2 + 3xy - 2yz + xz + z^2 - 15 = 0$$

により定まる陰関数  $z = f(x, y)$  の偏導関数を求める．まず，

$$F_x = 2x + 3y + z, \quad F_y = 3x - 2z, \quad F_z = -2y + x + 2z$$

より，偏導関数は

$$z_x = -\frac{F_x}{F_z} = -\frac{2x+3y+z}{-2y+x+2z}, \quad z_y = -\frac{F_y}{F_z} = -\frac{3x-2z}{-2y+x+2z}$$

と得られる．

□

**例 2.180** 錐陰関数錐 条件

$$F(x, y, z) = x^2 + 3xy - 2yz + xz + z^2 - 15 = 0$$

により定まる陰関数  $z = f(x, y)$  の 2 階偏導関数  $z_{xx}, z_{xy}, z_{yy}$  を求める．条件  $F = 0$  の両辺を  $x$  で偏微分すると

$$( ) \quad (-2y + x + 2z)z_x + (2x + 3y + z) = 0$$

である．さらに  $x$  で偏微分すると

$$\begin{aligned} 0 &= ((-2y + x + 2z)z_x + (2x + 3y + z))_x \\ &= (-2y + x + 2z)_x z_x + (-2y + x + 2z)z_{xx} + (2x + 3y + z)_x \\ &= (1 + 2z_x)z_x + (-2y + x + 2z)z_{xx} + (2 + z_x) \\ &= (2 + 2z_x + 2z_x^2) + (-2y + x + 2z)z_{xx} \end{aligned}$$

となるから，

$$z_{xx} = -\frac{2 + 2z_x + 2z_x^2}{-2y + x + 2z} = \dots = -\frac{2(19y^2 + 9xy - 6yz + 3x^2 + 3xz + 3z^2)}{(-2y + x + 2z)^3}$$

を得る．( ) の両辺を  $y$  で偏微分すると

$$\begin{aligned} 0 &= ((-2y + x + 2z)z_x + (2x + 3y + z))_y \\ &= (-2y + x + 2z)_y z_x + (-2y + x + 2z)z_{xy} + (2x + 3y + z)_y \\ &= (-2 + 2z_y)z_x + (-2y + x + 2z)z_{xy} + (3 + z_y) \\ &= (3 - 2z_x + z_y + 2z_x z_y) + (-2y + x + 2z)z_{xy} \end{aligned}$$

となるから，

$$z_{xy} = -\frac{3 - 2z_x + z_y + 2z_x z_y}{-2y + x + 2z} = \dots = -\frac{2(5xy - 16yz + 8x^2 + 8xz + 8z^2)}{(-2y + x + 2z)^3}$$

を得る．条件  $F = 0$  の両辺を  $y$  で偏微分すると

$$(-2y + x + 2z)z_y + (3x - 2z) = 0$$

である．さらに  $y$  で偏微分すると

$$\begin{aligned} 0 &= ((-2y + x + 2z)z_y + (3x - 2z))_y \\ &= (-2y + x + 2z)_y z_y + (-2y + x + 2z)z_{yy} + (3x - 2z)_y \\ &= (-2 + 2z_y)z_y + (-2y + x + 2z)z_{yy} - 2z_y \\ &= (-4z_y + 2z_y^2) + (-2y + x + 2z)z_{yy} \end{aligned}$$

となるから，

$$z_{yy} = \frac{-4z_y + 2z_y^2}{-2y + x + 2z} = \dots = -\frac{2(3x - 2z)(5x - 4y + 2z)}{(-2y + x + 2z)^3}$$

を得る．

□

## § 2.41 陰関数の高階導関数

**例 2.181** 錐陰関数の高階偏導関数 錐 条件  $F(x, y) = 0$  で定まる陰関数  $y = f(x)$  の高階導関数を求める．条件  $F(x, y) = 0$  の両辺を  $x$  で微分すると

$$0 = \frac{d}{dx}F(x, y) = F_x + F_y y'$$

となる．さらに微分すると

$$\begin{aligned} 0 &= \frac{d^2}{dx^2}F(x, y) = \frac{d}{dx}(F_x + F_y y') = \frac{d}{dx}F_x + \frac{d}{dx}(F_y y') = \frac{d}{dx}F_x + \left(\frac{d}{dx}F_y\right) y' + F_y \frac{d}{dx}y' \\ &= F_{xx} + F_{xy}y' + (F_{xy} + F_{yy}y')y' + F_y y'' = F_{xx} + 2F_{xy}y' + F_{yy}y'^2 + F_y y'' \end{aligned}$$

となるので，

$$\begin{aligned} y'' &= -\frac{F_{xx} + 2F_{xy}y' + F_{yy}y'^2}{F_y} = -\frac{F_{xx} + 2F_{xy}\left(-\frac{F_x}{F_y}\right) + F_{yy}\left(-\frac{F_x}{F_y}\right)^2}{F_y} \\ &= -\frac{F_{xx}F_y^2 - 2F_{xy}F_xF_y + F_{yy}F_x^2}{F_y^3} \end{aligned}$$

を得る．同様にして  $y'''$ ,  $\dots$  を求める．

□

**例 2.182** 錐陰関数の高階偏導関数 錐 条件  $F(x, y, z) = 0$  で定まる陰関数  $z = f(x, y)$  の高階偏導関数を求める．条件  $F(x, y, z) = 0$  の両辺を  $x$  と  $y$  で偏微分するとそれぞれ

$$0 = \frac{\partial}{\partial x}F(x, y, z) = F_x + F_z z_x, \quad 0 = \frac{\partial}{\partial y}F(x, y, z) = F_y + F_z z_y$$

となる．第 1 式をさらに  $x$  で偏微分すると

$$\begin{aligned} 0 &= \frac{\partial^2}{\partial x^2}F(x, y, z) = \frac{\partial}{\partial x}(F_x + F_z z_x) = \frac{\partial}{\partial x}F_x + \left(\frac{\partial}{\partial x}F_z\right) z_x + F_z \frac{\partial}{\partial x}z_x \\ &= F_{xx} + F_{xz}z_x + (F_{zx} + F_{zz}z_x)z_x + F_z z_{xx} = F_{xx} + 2F_{xz}z_x + F_{zz}z_x^2 + F_z z_{xx} \end{aligned}$$

となるので，

$$z_{xx} = -\frac{F_{xx} + 2F_{xz}z_x + F_{zz}z_x^2}{F_z} = -\frac{F_{xx}F_z^2 - 2F_{xz}F_xF_z + F_{zz}F_x^2}{F_z^3}$$

を得る．第 1 式をさらに  $y$  で偏微分すると

$$\begin{aligned} 0 &= \frac{\partial^2}{\partial y \partial x} F(x, y, z) = \frac{\partial}{\partial y} (F_x + F_z z_x) = \frac{\partial}{\partial y} F_x + \left( \frac{\partial}{\partial y} F_z \right) z_x + F_z \frac{\partial}{\partial y} z_x \\ &= F_{xy} + F_{xz} z_y + (F_{zy} + F_{zz} z_y) z_x + F_z z_{xy} = F_{xy} + F_{yz} z_x + F_{xz} z_y + F_{zz} z_x z_y + F_z z_{xy} \end{aligned}$$

となるので，

$$z_{xy} = -\frac{F_{xy} + F_{yz} z_x + F_{xz} z_y + F_{zz} z_x z_y}{F_z} = -\frac{F_{xy} F_z^2 - F_{yz} F_x F_z - F_{xz} F_y F_z + F_{zz} F_x F_y}{F_z^3}$$

を得る．第 2 式をさらに  $y$  で偏微分すると

$$\begin{aligned} 0 &= \frac{\partial^2}{\partial y^2} F(x, y, z) = \frac{\partial}{\partial y} (F_y + F_z z_y) = \frac{\partial}{\partial y} F_y + \left( \frac{\partial}{\partial y} F_z \right) z_y + F_z \frac{\partial}{\partial y} z_y \\ &= F_{yy} + F_{yz} z_y + (F_{zy} + F_{zz} z_y) z_y + F_z z_{yy} = F_{yy} + 2F_{yz} z_y + F_{zz} z_y^2 + F_z z_{yy} \end{aligned}$$

となるので，

$$z_{yy} = -\frac{F_{yy} + 2F_{yz} z_y + F_{zz} z_y^2}{F_z} = -\frac{F_{yy} F_z^2 - 2F_{yz} F_y F_z + F_{zz} F_y^2}{F_z^3}$$

を得る．同様にして  $z_{xxx}, \dots$  を求める．

□

## § 2.42 接平面

**注意 2.183** 錐曲面の法線ベクトル 錐 曲面  $F(x, y, z) = 0$  上の曲線をパラメータ表示して  $(x(t), y(t), z(t))$  とおく．このとき，

$$F(x(t), y(t), z(t)) = 0$$

が成り立つ．両辺を  $t$  で微分すると

$$\begin{aligned} 0 &= \frac{d}{dt} F(x(t), y(t), z(t)) = \frac{\partial F}{\partial x} \frac{dx}{dt} + \frac{\partial F}{\partial y} \frac{dy}{dt} + \frac{\partial F}{\partial z} \frac{dz}{dt} \\ &= F_x(x, y, z) x'(t) + F_y(x, y, z) y'(t) + F_z(x, y, z) z'(t) \end{aligned}$$

となる．ベクトル表記すると

$$\nabla F(\mathbf{x}) \cdot \mathbf{x}'(t) = 0$$

である． $\nabla F(\mathbf{x})$  は曲線  $\mathbf{x}(t)$  の接ベクトルと常に直交する．

曲面  $F = 0$  上の点  $(a, b, c)$  において，この点を通るあらゆる曲線  $(x(t), y(t), z(t))$  を考える．便宜上  $x(0) = a, y(0) = b, z(0) = c$  とおく．あるベクトル  $\mathbf{n}$  がこの曲線の接ベクトル  $\mathbf{x}'(0)$  と常に直交するとする．このとき， $\mathbf{n}$  を曲面  $F = 0$  の法線ベクトルという．曲線の接ベクトル  $\mathbf{x}'(0)$  に直交するベクトルは  $\nabla F$  であるから，法線ベクトルは  $\mathbf{n} = \nabla F(\mathbf{a})$  である．

□



**定理 2.184** 錐接平面 曲面  $F(x, y, z) = 0$  の点  $(a, b, c)$  における接平面 (tangent plane) は

$$F_x(a, b, c)(x - a) + F_y(a, b, c)(y - b) + F_z(a, b, c)(z - c) = 0$$

で与えられる . ベクトルで表記すると

$$\nabla F(\mathbf{a}) \cdot (\mathbf{x} - \mathbf{a}) = 0$$

となる . □

**注意 2.185** 錐接平面 グラフ  $z = f(x, y)$  の点  $(a, b)$  における接平面は ,  $F(x, y, z) = f(x, y) - z = 0$  とおき接平面を求めればよい .  $F_x = f_x, F_y = f_y, F_z = -1$  であるか ,

$$f_x(a, b)(x - a) + f_y(a, b)(y - b) - (z - f(a, b)) = 0$$

となり , 接平面は

$$z = f(a, b) + f_x(a, b)(x - a) + f_y(a, b)(y - b)$$

と表される . この右辺は関数  $f(x, y)$  の点  $(a, b)$  まわりのテイラー展開の 1 次近似と等しい . □

**例 2.186** 錐接平面 球  $F(x, y, z) = x^2 + y^2 + z^2 - 1 = 0$  の点  $(x_0, y_0, z_0)$  における接平面を求める .

$$F_x = 2x, \quad F_y = 2y, \quad F_z = 2z, \quad F_x(x_0, y_0, z_0) = 2x_0, \quad F_y(x_0, y_0, z_0) = 2y_0, \quad F_z(x_0, y_0, z_0) = 2z_0$$

より , 接平面は

$$\begin{aligned} F_x(x_0, y_0, z_0)(x - x_0) + F_y(x_0, y_0, z_0)(y - y_0) + F_z(x_0, y_0, z_0)(z - z_0) &= 0 \\ \Rightarrow 2x_0(x - x_0) + 2y_0(y - y_0) + 2z_0(z - z_0) &= 0 \\ \Rightarrow x_0x + y_0y + z_0z - (x_0^2 + y_0^2 + z_0^2) &= 0 \quad \Rightarrow \quad x_0x + y_0y + z_0z = 1 \end{aligned}$$

と求まる . 法線ベクトルが  $\begin{bmatrix} x_0 & y_0 & z_0 \end{bmatrix}^T$  の平面である . □

**例 2.187** 錐接平面 曲面  $x^2 + 3xy - 2yz + xz + z^2 = 11$  の点  $(2, 1, -1)$  における接平面の方程式を求める . まず , 曲面の方程式を書き直して

$$F(x, y, z) = x^2 + 3xy - 2yz + xz + z^2 - 11 = 0$$

とする .

$$\begin{aligned} F_x &= 2x + 3y + z, & F_y &= 3x - 2z, & F_z &= -2y + x + 2z, \\ F_x(2, 1, -1) &= 6, & F_y(2, 1, -1) &= 8, & F_z(2, 1, -1) &= -2, \end{aligned}$$

より、接平面は

$$6(x-2) + 8(y-1) - 2(z+1) = 0 \Rightarrow 3x + 4y - z = 11$$

である。法線ベクトルが  $\begin{bmatrix} 3 & 4 & -1 \end{bmatrix}^T$  の平面である。書き直して

$$\frac{x}{\frac{11}{3}} + \frac{y}{\frac{11}{4}} + \frac{z}{-11} = 1$$

とする。平面と  $x$  軸,  $y$  軸,  $z$  軸との交点はそれぞれ  $x = 11/3, y = 11/4, z = -11$  である。□

**例 2.188** 錐接平面錐 曲面

$$F(x, y, z) = x^2 + 3xy - 2yz + xz + z^2 - 3 = 0$$

の点  $(2, 0, -1)$  における接平面を求める。まず、

$$\begin{aligned} F_x &= 2x + 3y + z, & F_y &= 3x - 2z, & F_z &= -2y + x + 2z, \\ F_x(2, 0, -1) &= 3, & F_y(2, 0, -1) &= 8, & F_z(2, 0, -1) &= 0, \end{aligned}$$

より、接平面は

$$3(x-2) + 8(y-0) + 0(z+1) = 0 \Rightarrow 3x + 8y - 6 = 0$$

である。法線ベクトルが  $\begin{bmatrix} 3 & 8 & 0 \end{bmatrix}^T$  の平面である。書き直して

$$\frac{x}{2} + \frac{y}{\frac{3}{8}} = 1$$

とする。平面と  $x$  軸,  $y$  軸との交点はそれぞれ  $x = 2, y = \frac{3}{8}$  である。 $z$  軸とは交点をもたず,  $z$  軸と平行な平面である。□

**例 2.189** 錐接平面錐 関数  $z = f(x, y) = 4x^2y + xy^3$  の点  $(-1, 1)$  における接平面は、

$$f_x = 8xy + y^3, \quad f_y = 4x^2 + 3xy^2, \quad f(-1, 1) = 3, \quad f_x(-1, 1) = -7, \quad f_y(-1, 1) = 1$$

より、

$$z = f(-1, 1) + f_x(-1, 1)(x+1) + f_y(-1, 1)(y-1) = 3 - 7(x+1) + (y-1) = -7x + y - 5$$

と得られる。接平面を標準形で書くと

$$7x - y + z + 5 = 0$$

である。この平面の法線ベクトルは  $\begin{bmatrix} 7 & -1 & 1 \end{bmatrix}^T$  である。また、

$$\frac{x}{-\frac{5}{7}} + \frac{y}{5} + \frac{z}{-5} = 1$$

と書き直す。平面と  $x$  軸,  $y$  軸,  $z$  軸の交点は  $x = -\frac{5}{7}, y = 5, z = -5$  である。□

## § 2.43 演習問題 ~ 陰関数, 接線, 接平面

**問 2.190** 隠陰関数録 次の条件から定まる陰関数  $y = f(x)$  について  $\frac{dy}{dx}$  を求めよ.

- (1)  $x^2 + y^2 = 1$  (2)  $xe^{-y} = y \sin x$  (3)  $x^3 + 3xy + 4xy^2 + y^2 + y = 2$   
 (4)  $x^3 + 3xy + y^3 = 0$  (5)  $x^3 + 4xy^2 - 3y^4 = 0$  (6)  $x^3 + 3x^2y + 2xy^2 + 3y^3 = 4$   
 (7)  $x + y = e^{xy}$  (8)  $\log(x^2 + y^2) = 2 \tan^{-1} \frac{y}{x}$  (9)  $\log \sqrt{x^2 + y^2} = \tan^{-1} \frac{y}{x}$   
 (10)  $\left(\frac{x}{a}\right)^{\frac{2}{3}} + \left(\frac{y}{b}\right)^{\frac{2}{3}} = 1$  ( $a, b > 0$ ) (11)  $y = x^y$  □

**問 2.191** 隠陰関数録 次の条件から定まる陰関数  $y = f(x)$  について  $\frac{dy}{dx}, \frac{d^2y}{dx^2}$  を求めよ.

- (1)  $x^2 + y^2 = 1$  (2)  $x^3 + xy^2 = 2$  (3)  $x^2 + 2xy + 2y^2 = 1$  (4)  $y^3 - xy^2 - x + 1 = 0$   
 (5)  $x^2 + 2xy - y^2 = 1$  □

**問 2.192** 隠陰関数の高階導関数録 条件  $F(x, y) = 0$  で定まる陰関数  $y = f(x)$  の導関数を求めよ.

- (1)  $\frac{dy}{dx}$  (2)  $\frac{d^2y}{dx^2}$  □

**問 2.193** 隠陰関数の接線とテイラー展開録 次の曲線  $F(x, y) = 0$  とその曲線上の点  $P(a, b)$  を考える. 条件  $F(x, y) = 0$  から定まる陰関数  $y = f(x)$  を  $x = a$  のまわりで  $x$  についてテイラー展開せよ.

- (1)  $F = x^2 + y^2 - 1 = 0, P(1/2, \sqrt{3}/2)$  (2)  $F = x^3 + xy^2 - 2 = 0, P(1, 1)$   
 (3)  $F = x^3 - xy - y^3 + y = 0, P(1, 1)$  (4)  $F = x^2 - 4xy + 2y^5 + y = 0, P(1, 1)$   
 (5)  $F = 3x^2 - xy^3 + 2xy + y - x = 0, P(1, 2)$  (6)  $F = x^2 - 2xy^3 + 2y^2 = 0, P(1, 1)$   
 (7)  $F = x^3 - 3y^3 + 2x^2y = 0, P(1, 1)$  □

**問 2.194** 隠接線録 次の曲線の点  $P$  における接線の方程式を求めよ.

- (1)  $x^2 + y^2 = 1, P(x_0, y_0)$  (2)  $x^3 + xy^2 = 2, P(1, 1)$   
 (3)  $x^3 + 3xy + 4xy^2 + y^2 + y = 2, P(1, -1)$  (4)  $x^2 - 3xy^2 + 5x + y = 0, P(-1, 1)$   
 (5)  $x^3 + 3xy + y^5 - x + 1 = 0, P(2, -1)$  (6)  $2x^2 - xy - 3 + 2xy + y - x = 0, P(1, 2)$   
 (7)  $e^{x-2y} - x + y = 0, P(2, 1)$  (8)  $xe^{2y} - e^{xy} + \sin \pi xy + y = 0, P(0, 1)$   
 (9)  $xy \cos(xy) = 0, P(\pi/2, 1)$  (10)  $\cos x + 2y \cos xy + 2x \cos y = \pi, P(\pi/2, 0)$  □

**問 2.195** 隠陰関数録 次の条件から定まる陰関数  $z = f(x, y)$  について  $\frac{\partial z}{\partial x}, \frac{\partial z}{\partial y}$  を求めよ.

- (1)  $x^2 + 3xy - 2yz + xz + z^2 = 15$  (2)  $x^2 + y^2 + z^2 + 2x + 2y + 2z = 0$   
 (3)  $3xy - 2x^2yz^2 - 5yz^3 - z = 0$  (4)  $3x^2 + 4y^2 - 5z^2 = 20$   
 (5)  $3x^3 + 4y^2z = z^4 + 10$  (6)  $z = x^2 + 4xy + y^3$  (7)  $y = \frac{x}{z^2} - \frac{z}{x^2}$  (8)  $(x + y + z)e^{xyz} = 1$   
 (9)  $x^2 + 2y + 3z + 5 = \log z$  (10)  $z = e^x \sin(y + z) + 1$  (11)  $z = \sin(2x + 1) \cos(y^2 + 4)$   
 (12)  $\sin xy + \sin yz + \sin xz = 1$  (13)  $z^x = y^z$  □

**問 2.196** 隠関数 次の条件から定まる陰関数  $z = f(x, y)$  について  $\frac{\partial z}{\partial x}, \frac{\partial z}{\partial y}, \frac{\partial^2 z}{\partial x^2}, \frac{\partial^2 z}{\partial x \partial y},$

$\frac{\partial^2 z}{\partial y^2}$  を求めよ .

(1)  $x^2 + 3xy - 2yz + xz + z^2 = 15$    (2)  $x^2 + z^2 + 4xy - 2yz = 0$    (3)  $z^x = xy$    □

**問 2.197** 隠関数の高階導関数 条件  $F(x, y, z) = 0$  で定まる陰関数  $z = f(x, y)$  の偏導関数を求めよ .

(1)  $\frac{\partial z}{\partial x}$    (2)  $\frac{\partial z}{\partial y}$    (3)  $\frac{\partial^2 z}{\partial x^2}$    (4)  $\frac{\partial^2 z}{\partial x \partial y}$    (5)  $\frac{\partial^2 z}{\partial y^2}$    □

**問 2.198** 隠関数の接平面とテイラー展開 次の曲面  $F(x, y, z) = 0$  とその曲面上の点  $P(a, b, c)$  を考える . 条件  $F(x, y, z) = 0$  で定まる陰関数  $z = f(x, y)$  を点  $(a, b)$  のまわりで点  $(x, y)$  についてテイラー展開せよ .

(1)  $F = xz + yz - z^2 - 4 = 0, \quad P(9, -4, 1)$    (2)  $F = xy^2 + yz^2 + x^2 - z - 8 = 0, \quad P(-3, 1, 2)$

□

**問 2.199** 接平面 次の曲面の点  $P$  における接平面の方程式を求めよ .

(1)  $x^2 + y^2 + z^2 = 1, \quad P(x_0, y_0, z_0)$    (2)  $x^2 + 3xy - 2yz + xz + z^2 = 3, \quad P(2, 0, -1)$

(3)  $z = 4x^2y + xy^3, \quad P(-1, 1, 3)$    (4)  $x^2 + y^2 + z^2 = 2, \quad P(2/3, -2\sqrt{2}/3, -\sqrt{2}/3)$

(5)  $\frac{x^2}{a^2} + \frac{y^2}{b^2} + \frac{z^2}{c^2} = 1, \quad P(x_0, y_0, z_0)$    (6)  $\sin(x + \pi y) + \cos(\pi y - 2z) = 0, \quad P(0, 1, \pi/4)$

(7)  $x^2 - 2xy + y^2 - yz + z^2 - 3zx = x + y + z, \quad P(2, -1, 2)$    □

## § 2.44 1 変数関数の極値

### 定義 2.200

鋸極値鋸 関数  $f(x)$  が, 点  $x = a$  とその任意の近傍の点  $x = a + h$  に対して

$$f(a) > f(a + h)$$

をみたすとき,  $f(x)$  は点  $x = a$  で極大値  $f(a)$  をとるといふ. また,

$$f(a) < f(a + h)$$

をみたすとき,  $f(x)$  は点  $x = a$  で極小値  $f(a)$  をとるといふ. 極大値, 極小値を総称して極値といふ. □

### 定理 2.201

鋸極値の必要条件鋸 関数  $f(x)$  が点  $x = a$  で極値をとるとき,  $f'(a) = 0$  が成り立つ (注意) 逆は成り立たない.

(証明) 関数  $f(x)$  を点  $x = a$  のまわりで  $x = a + h$  についてテイラー展開すると,

$$f(a + h) = f(a) + f'(a)h + \frac{1}{2}f''(a)h^2 + O(h^3)$$

となる. これより,

$$f(a + h) - f(a) = f'(a)h + \frac{1}{2}f''(a)h^2 + O(h^3)$$

が成り立つ. 右辺の第 1 項目は  $h > 0$  のとき  $h < 0$  のときで符号が反転し, 右辺全体の符号も反転する. 任意の近傍の点において  $f(a + h) - f(a) > 0$  または  $f(a + h) - f(a) < 0$  をみたすときのみ極値をとるので, 第 1 項目が 0 となる必要があり,  $f'(a) = 0$  が極値をもつ必要条件となる. □

### 定理 2.202

鋸極大, 極小鋸 関数  $f(x)$  が点  $x = a$  において,  $f'(a) = 0, f''(a) > 0$  をみたすとき  $f(a)$  は極小値となる.  $f'(a) = 0, f''(a) < 0$  をみたすとき  $f(a)$  は極大値となる (注意)  $f''(a) = 0$  のときは別途調べる.

(証明) 前述の定理より明らか. □

### 例 2.203

鋸極値鋸 関数  $f(x) = \frac{x^3}{3} - \frac{3x^2}{2} + 2x$  の極値を考える.  $f'(x) = x^2 - 3x + 2 = (x - 1)(x - 2) = 0$  より  $x = 1, x = 2$  が極値をもつ候補の点となる.  $x = 1$  と  $x = 2$  のまわりでテイラー展開すると,

$$f(1 + h) = f(1) + f'(1)h + \frac{f''(1)}{2}h^2 + O(h^3) = f(1) - \frac{1}{2}h^2 + O(h^3)$$

$$f(2 + h) = f(2) + f'(2)h + \frac{f''(2)}{2}h^2 + O(h^3) = f(2) + \frac{1}{2}h^2 + O(h^3)$$

となる．これより，それぞれ

$$f(1+h) - f(1) = -\frac{1}{2}h^2 + O(h^3) < 0 \quad \Rightarrow \quad f(1+h) < f(1)$$

$$f(2+h) - f(2) = \frac{1}{2}h^2 + O(h^3) > 0 \quad \Rightarrow \quad f(2+h) > f(2)$$

を得る．よって， $f(1) = 5/6$  は極大値， $f(2) = 2/3$  は極小値となる． □

**例 2.204** 総極値総 関数  $f(x) = x^3$  を考える． $f'(x) = 3x^2 = 0$  より， $x = 0$  が極値の候補となる． $x = 0$  のまわりでテイラー展開すると，

$$f(h) = f(0) + f'(0)h + \frac{f''(0)}{2}h^2 + \frac{f'''(0)}{3!}h^3 + O(h^4) = f(0) + h^3 + O(h^4)$$

となる．これより，

$$f(h) - f(0) = h^3 + O(h^4)$$

が成り立つ． $h > 0$  のとき右辺は正， $h < 0$  のとき右辺は負となるので， $x = 0$  は極値とはならない． □

**例 2.205** 総極値総 関数  $f(x) = x^4$  を考える． $f'(x) = 4x^3 = 0$  より， $x = 0$  が極値の候補となる． $x = 0$  のまわりでテイラー展開すると，

$$f(h) = f(0) + f'(0)h + \frac{f''(0)}{2}h^2 + \frac{f'''(0)}{3!}h^3 + \frac{f^{(4)}(0)}{4!}h^4 + O(h^5) = f(0) + h^4 + O(h^5)$$

となる．これより，

$$f(h) - f(0) = h^4 + O(h^5) > 0 \quad \Rightarrow \quad f(h) > f(0)$$

が成り立つ．よって， $f(0) = 0$  は極小値となる． □

## § 2.45 2 変数関数の極値

**定義 2.206** 総極値総 関数  $f(x, y)$  が，点  $(a, b)$  とその任意の近傍の点  $(a+h, b+k)$  に対して

$$f(a, b) > f(a+h, b+k)$$

をみたすとき， $f(x, y)$  は点  $(a, b)$  で極大値  $f(a, b)$  をとるといふ．また，

$$f(a, b) < f(a+h, b+k)$$

をみたすとき， $f(x, y)$  は点  $(a, b)$  で極小値  $f(a, b)$  をとるといふ．極大値，極小値を総称して極値といふ． □

**定理 2.207** 鋸極値の必用条件 関数  $f(x, y)$  が点  $(a, b)$  で極値をとるとき,

$$f_x(a, b) = 0, \quad f_y(a, b) = 0$$

が成り立つ (注意) 逆は成り立たない.

(証明) 平面  $y = b$  と曲面  $z = f(x, y)$  との共有点からなる曲線  $z = f(x, b)$  は  $x$  についての 1 変数関数であり,  $f(x, y)$  が極値をとるとき  $f(x, b)$  も極値をとる. よって,  $f_x(a, b) = 0$  となる. 同様にして, 平面  $x = a$  を考えると  $f_y(a, b) = 0$  を得る.  $\square$

**注意 2.208** 鋸極値と接平面 関数  $f(x, y)$  は点  $(a, b)$  で極値をとるとする. このとき  $f_x(a, b) = 0, f_y(a, b) = 0$  であるから,  $f(x, y)$  を点  $(a, b)$  のまわりでテイラー展開すると

$$f(x, y) = f(a, b) + \frac{1}{2}f_{xx}(a, b)(x - a)^2 + f_{xy}(a, b)(x - a)(y - b) + \frac{1}{2}f_{yy}(a, b)(y - b)^2 + \dots$$

となり, 1 次の項は存在しない. また, 曲面  $z = f(x, y)$  の点  $(a, b)$  における接平面の方程式は

$$z = f(a, b)$$

となり, 法線ベクトルは

$$\mathbf{n} = \begin{bmatrix} f_x(a, b) \\ f_y(a, b) \\ -1 \end{bmatrix} = \begin{bmatrix} 0 \\ 0 \\ -1 \end{bmatrix}$$

である. 接平面は  $xy$  平面に平行である.  $\square$

**例 2.209** 鋸極値の計算例 関数  $f(x, y) = x^2 + y^2$  の極値を考える. 連立方程式

$$f_x(x, y) = 2x = 0, \quad f_y(x, y) = 2y = 0$$

を解くと候補の点  $(x, y) = (0, 0)$  を得る. このとき点  $(0, 0)$  とその任意の近傍の点  $(h, k)$  に対して,

$$f(h, k) - f(0, 0) = h^2 + k^2 > 0 \quad \Rightarrow \quad f(h, k) > f(0, 0)$$

が成り立つ. よって関数  $f(x, y)$  は極小値  $f(0, 0) = 0$  をとる.  $\square$

**例 2.210** 鋸極値の計算例 関数  $f(x, y) = x^4 + y^4$  の極値を考える. 連立方程式

$$f_x(x, y) = 4x^3 = 0, \quad f_y(x, y) = 4y^3 = 0$$

を解くと候補の点  $(x, y) = (0, 0)$  を得る. このとき点  $(0, 0)$  とその任意の近傍の点  $(h, k)$  に対して,

$$f(h, k) - f(0, 0) = h^4 + k^4 > 0 \quad \Rightarrow \quad f(h, k) > f(0, 0)$$

が成り立つ. よって関数  $f(x, y)$  は極小値  $f(0, 0) = 0$  をとる.  $\square$

**例 2.211** 総鞍点総 関数  $f(x, y) = x^2 - y^2$  の極値を考える．連立方程式

$$f_x(x, y) = 2x = 0, \quad f_y(x, y) = -2y = 0$$

を解くと候補の点  $(x, y) = (0, 0)$  を得る．このとき，

$$f(h, k) - f(0, 0) = h^2 - k^2$$

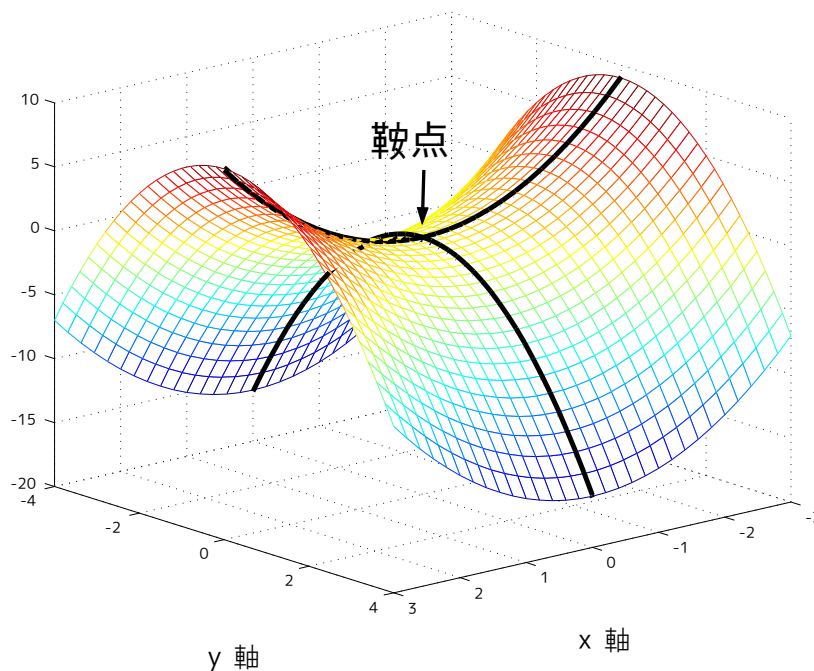
が成り立つ．点  $(0, 0)$  と  $x$  軸方向にずれた近傍の点  $(h, 0)$  に対しては，

$$f(h, 0) - f(0, 0) = h^2 > 0 \Rightarrow f(h, 0) > f(0, 0)$$

となり， $f(0, 0)$  は極小となる．一方，点  $(0, 0)$  と  $y$  軸方向にずれた近傍の点  $(0, k)$  に対しては，

$$f(0, k) - f(0, 0) = -k^2 < 0 \Rightarrow f(0, k) < f(0, 0)$$

となり， $f(0, 0)$  は極大となる．よって， $f(0, 0) = 0$  は極値とはならない．このようにある方向では極小であり，また別の方向では極大となる点のことを鞍点 (saddle point) という．



□

**例 2.212** 総極値の計算例総 関数  $f(x, y) = x^2 + y^3$  の極値を求める．連立方程式

$$f_x = 2x = 0, \quad f_y = 3y^2 = 0$$

を解くと極値の候補として  $(x, y) = (0, 0)$  を得る．このとき，

$$f(h, k) - f(0, 0) = h^2 + k^3$$

が成り立つ． $h^2$  は常に正であるが， $k^3$  は  $k > 0$  のとき正， $k < 0$  のとき負となる．右辺全体では正，負が決定しない．よって， $f(0, 0) = 0$  は極値ではない．

□



**例 2.213** 錐極値の計算例 錐関数  $f(x, y) = x^2 + y^2 - 2x + 4y + 10$  の極値を求める．連立方程式

$$f_x = 2x - 2 = 0, \quad f_y = 2y + 4 = 0$$

を解くと極値の候補として  $(x, y) = (1, -2)$  を得る． $(x, y) = (1, -2)$  のまわりでテイラー展開すると，

$$f(1+h, -2+k) = f(1, -2) + h^2 + k^2 + o(\rho^2)$$

となる．よって，

$$f(1+h, -2+k) - f(1, -2) = h^2 + k^2 + o(\rho^2) > 0 \quad \Rightarrow \quad f(1+h, -2+k) > f(1, -2)$$

が成り立つ． $f(1, -2) = 5$  は極小値となる． □

**例 2.214** 錐極値の計算例 錐関数  $f(x, y) = x^3 + y^3 + 3xy + 2$  の極値を求める．連立方程式

$$f_x = 3x^2 + 3y = 0, \quad f_y = 3y^2 + 3x = 0$$

を解く．第 1 式を  $y = -x^2$  と変形して第 2 式に代入すると

$$x(x^3 + 1) = 0$$

となる．これを解くと，極値の候補として

$$(x, y) = (0, 0), (-1, -1)$$

を得る． $(x, y) = (0, 0)$  のまわりでテイラー展開すると，

$$f(h, k) = f(0, 0) + 3hk + o(\rho^2)$$

となる．よって，

$$f(h, k) - f(0, 0) = 3hk + o(\rho^2)$$

の右辺は  $h > 0, k > 0$  のときは正， $h < 0, k > 0$  のときは負となり，符号が定まらない． $f(0, 0) = 0$  は極値ではない． $(x, y) = (-1, -1)$  のまわりでテイラー展開すると，

$$f(-1+h, -1+k) = f(-1, -1) - 3h^2 + 3hk - 3k^2 + o(\rho^2)$$

となる．これより，

$$f(-1+h, -1+k) - f(-1, -1) = -3 \left( \left( h - \frac{k}{2} \right)^2 + \frac{3}{4}k^2 \right) + o(\rho^2) < 0$$

$$\Rightarrow f(-1+h, -1+k) < f(-1, -1)$$

が成り立つ． $f(-1, -1) = 3$  は極大値となる． □

**例 2.215** 鋸極値の計算例 関数  $f(x, y) = x^2 - 2xy + y^2 - x^4 - y^4$  の極値を求める．連立方程式

$$f_x = 2x - 2y - 4x^3 = 0, \quad f_y = -2x + 2y - 4y^3 = 0$$

を解く．第 1 式と第 2 式を足し合わせると  $-4(x^3 + y^3) = -4(x + y)(x^2 - xy + y^2) = 0$  であるから， $y = -x$  である．これを第 1 式に代入すると， $4x(1 - x^3) = 0$  であるから， $x = 0, 1, -1$  となる．よって，極値の候補は

$$(x, y) = (0, 0), (1, -1), (-1, 1)$$

である．それぞれの点のまわりで 2 次までテイラー展開する．

$$f_{xx} = 2 - 12x^2, \quad f_{xy} = -2, \quad f_{yy} = 2 - 12y^2$$

より， $(x, y) = (0, 0)$  のときは，

$$\begin{aligned} f(h, k) - f(0, 0) &= \frac{1}{2}f_{xx}(0, 0)h^2 + f_{xy}(0, 0)hk + \frac{1}{2}f_{yy}(0, 0)k^2 + \dots \\ &= h^2 - 2hk + k^2 + \dots = (h - k)^2 + \dots \end{aligned}$$

となる．よって  $h \neq k$  のときは  $f(h, k) - f(0, 0) > 0$  が成立する． $h = k$  のときは 2 次の項が消えるので，さらに高次の項まで展開する必要がある．

$$\begin{aligned} f_{xxx} &= -24x, & f_{xxy} &= 0, & f_{xyy} &= 0, & f_{yyy} &= -24y, \\ f_{xxxx} &= -24, & f_{xxxxy} &= 0, & f_{xxyy} &= 0, & f_{xyyy} &= 0, & f_{yyyy} &= -24 \end{aligned}$$

より，4 次の項まで展開すると，

$$f(h, k) - f(0, 0) = h^2 - 2hk + k^2 + \frac{-24}{4!}h^4 + \frac{-24}{4!}k^4 + \dots = (h - k)^2 - (h^4 + k^4) + \dots$$

となる． $h = k$  のとき， $f(h, k) - f(0, 0) < 0$  が成立する． $h \neq k$  と  $h = k$  のときでは符号が異なるので， $f(0, 0)$  は極値ではない．次に， $(x, y) = (\pm 1, \mp 1)$  (復号同順) のときは，

$$\begin{aligned} f(h, k) - f(\pm 1, \mp 1) &= \frac{1}{2}f_{xx}(\pm 1, \mp 1)h^2 + f_{xy}(\pm 1, \mp 1)hk + \frac{1}{2}f_{yy}(\pm 1, \mp 1)k^2 + \dots \\ &= -5h^2 - 2hk - 5k^2 + \dots = -5 \left( \left( h + \frac{k}{5} \right)^2 + \frac{24}{25}k^2 \right) + \dots > 0 \end{aligned}$$

となる．よって， $f(h, k) > f(\pm 1, \mp 1)$  が成立し， $f(\pm 1, \mp 1) = 2$  は極大値となる． □

**例 2.216** 鋸極値の計算例 関数  $f(x, y) = \sinh(xy)$  の極値を求める．連立方程式

$$f_x = y \cosh(xy) = 0, \quad f_y = x \cosh(xy) = 0$$

を解く． $(x, y) = (0, 0)$  が極値の候補となる． $(x, y) = (0, 0)$  のまわりでテイラー展開すると，

$$f(h, k) = f(0, 0) + hk + o(\rho^2)$$

となる．よって，

$$f(h, k) - f(0, 0) = hk + o(\rho^2)$$

の右辺の符号は定まらない． $f(0, 0) = 0$  は極値ではない．

□

## § 2.46 2 変数関数の極大値と極小値の判定

**定理 2.217** 鋸極値鋸 関数  $f(x, y)$  において点  $(a, b)$  が  $f_x(a, b) = 0, f_y(a, b) = 0$  をみたすとき， $f(a, b)$  が極値となるための判定条件は次の通りである．ただし，

$$D(a, b) = f_{xy}(a, b)^2 - f_{xx}(a, b)f_{yy}(a, b)$$

とおく．

- (i)  $D(a, b) < 0, f_{xx}(a, b) > 0$  のとき， $f(x, y)$  は点  $(a, b)$  で極小値をとる．
- (ii)  $D(a, b) < 0, f_{xx}(a, b) < 0$  のとき， $f(x, y)$  は点  $(a, b)$  で極大値をとる．
- (iii)  $D(a, b) > 0$  のとき， $f(x, y)$  は点  $(a, b)$  で極値をとらない．
- (iv)  $D(a, b) = 0$  のとき，個別に判定する．

(証明) 点  $(a, b)$  から点  $(a + h, b + k)$  への増分を  $\Delta f(a, b)$  とする． $f(a + h, b + k)$  をテイラー展開し， $f_x(a, b) = 0, f_y(a, b) = 0$  であることを用いると，

$$\begin{aligned} \Delta f(a, b) &= f(a + h, b + k) - f(a, b) = f_{xx}(a, b)h^2 + 2f_{xy}(a, b)hk + f_{yy}(a, b)k^2 + o(\rho^2) \\ &= \frac{1}{2} (\alpha h^2 + 2\beta hk + \gamma k^2) + o(\rho^2) \end{aligned}$$

と表される．ただし，簡単のために

$$\alpha = f_{xx}(a, b), \quad \beta = f_{xy}(a, b), \quad \gamma = f_{yy}(a, b)$$

とおいた． $\Delta f(a, b)$  を  $h$  の 2 次多項式

$$2\Delta f(a, b) = \alpha h^2 + 2(\beta k)h + (\gamma k^2) + o(\rho^2)$$

であるとみると，この判別式は

$$\tilde{D} = (\beta k)^2 - \alpha(\gamma k^2) = k^2(\beta^2 - \alpha\gamma) = k^2 D$$

である．よって，

$$\begin{aligned} D < 0, \quad \alpha > 0 &\Rightarrow \Delta f(a, b) > 0 \Rightarrow f(a + h, b + k) > f(a, b) \Rightarrow f(a, b) \text{ は極小値} \\ D < 0, \quad \alpha < 0 &\Rightarrow \Delta f(a, b) < 0 \Rightarrow f(a + h, b + k) < f(a, b) \Rightarrow f(a, b) \text{ は極大値} \end{aligned}$$

が成り立つ． $D$  が正のとき  $h$  に応じて  $\Delta f(a, b)$  は正と負と両方の値をとりうる．よって， $f(a, b)$  は極値とはならない．また， $k$  の 2 次多項式と考えたときも同様の結果を得る．

□

**例 2.218** 総極値の計算例 関数  $f(x, y) = x^2 + y^2$  の極値を求める．連立方程式

$$f_x = 2x = 0, \quad f_y = 2y = 0$$

を解くと極値の候補として  $(x, y) = (0, 0)$  を得る．このとき，

$$f_{xx} = 2 > 0, \quad f_{xy} = 0, \quad f_{yy} = 2, \quad D = f_{xy}^2 - f_{xx}f_{yy} = -4 < 0$$

となる．よって， $f(0, 0) = 0$  は極小値である．

□

**例 2.219** 総極値の計算例 関数  $f(x, y) = x^2 + y^3$  の極値を求める．連立方程式

$$f_x = 2x = 0, \quad f_y = 3y^2 = 0$$

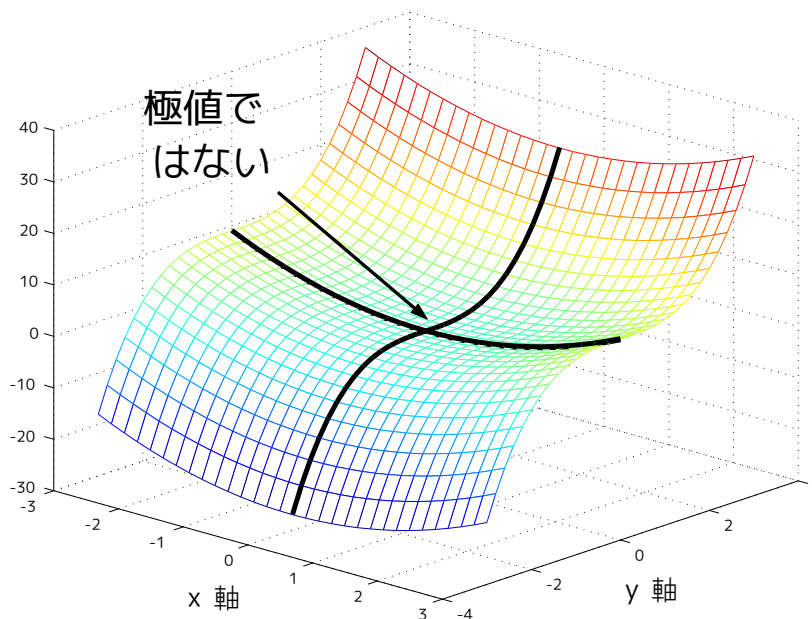
を解くと極値の候補として  $(x, y) = (0, 0)$  を得る．このとき，

$$f_{xx}(x, y) = 2, \quad f_{xy}(x, y) = 0, \quad f_{yy}(x, y) = 6y, \quad D(x, y) = f_{xy}^2 - f_{xx}f_{yy} = -12y$$

となる． $D(0, 0) = 0$  であるから判別式  $D$  を用いて極値となるかは判定できない．そこで，点  $(0, 0)$  とその近傍の点  $(0, k)$ ,  $(0, -k)$  を考える．ただし， $k > 0$  とする．このとき，

$$\begin{aligned} f(0, k) - f(0, 0) &= k^3 > 0 \quad \Rightarrow \quad f(0, k) > f(0, 0) \\ f(0, -k) - f(0, 0) &= -k^3 < 0 \quad \Rightarrow \quad f(0, -k) < f(0, 0) \end{aligned}$$

が成り立つ．点  $(0, 0)$  から  $y$  軸正の方向には増加傾向であり， $y$  軸負の方向には減少傾向となるので， $f(0, 0) = 0$  は極値ではない．



□

**例 2.220** 総極値の計算例 関数  $f(x, y) = x^2 + y^2 - 2x + 4y + 10$  の極値を求める．連立方程式

$$f_x = 2x - 2 = 0, \quad f_y = 2y + 4 = 0$$

を解くと極値の候補として  $(x, y) = (1, -2)$  を得る．このとき，

$$f_{xx} = 2 > 0, \quad f_{xy} = 0, \quad f_{yy} = 2, \quad D = f_{xy}^2 - f_{xx}f_{yy} = -4 < 0$$

となる．よって， $f(1, -2) = 5$  は極小値である． □

**例 2.221** 総極値の計算例 関数  $f(x, y) = x^3 + y^3 + 3xy + 2$  の極値を求める．連立方程式

$$f_x = 3x^2 + 3y = 0, \quad f_y = 3y^2 + 3x = 0$$

を解く．第 1 式を  $y = -x^2$  と変形して第 2 式に代入すると

$$x(x^3 + 1) = 0$$

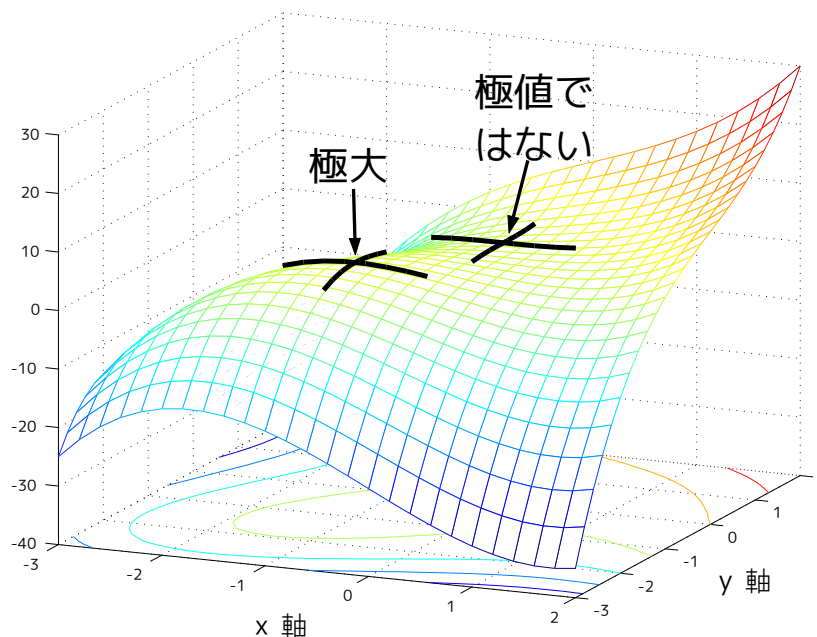
となる．これを解くと，極値の候補として

$$(x, y) = (0, 0), (-1, -1)$$

を得る．このとき，

$$f_{xx}(x, y) = 6x, \quad f_{xy}(x, y) = 3, \quad f_{yy}(x, y) = 6y, \quad D(x, y) = f_{xy}^2 - f_{xx}f_{yy} = 9 - 36xy$$

を用いて極値であるか判定する．まず， $(x, y) = (0, 0)$  の場合． $D(0, 0) = 9 > 0$  より  $f(0, 0) = 2$  は極値ではない．次に， $(x, y) = (-1, -1)$  の場合． $D(-1, -1) = -27 < 0$ ， $f_{xx}(-1, -1) = -6 < 0$  より， $f(-1, -1) = 3$  は極大値である．



□

## § 2.47 陰関数の極値問題

**例 2.222** 錐陰関数の極値 条件  $F(x, y) = x^2 + xy + 2y^2 - 1 = 0$  で定まる陰関数  $y = f(x)$  の極値を求める .  $y = f(x)$  の導関数は

$$y' = -\frac{F_x}{F_y} = -\frac{2x + y}{x + 2y}$$

である . ただし , 導関数が存在するのは  $x + 2y \neq 0$  のときである .  $y' = 0$  をみたく  $(x, y)$  を求める .  $y' = 0$  より ,  $2x + y = 0$  である . これを変形して  $y = -2x$  を  $F = 0$  へ代入すると ,

$$F(x, -2x) = x^2 + x(-2x) + 2(-2x)^2 - 1 = 7x^2 - 1 = 0$$

である .  $x = \pm 1/\sqrt{7}$  より , 極値の候補は

$$(x, y) = \left( \frac{1}{\sqrt{7}}, \frac{-2}{\sqrt{7}} \right), \left( \frac{-1}{\sqrt{7}}, \frac{2}{\sqrt{7}} \right)$$

である .  $y''$  を求める .

$$(x + 2y)y' + (2x + y) = 0$$

の両辺を微分すると ,

$$(1 + 2y')y' + (x + 2y)y'' + (2 + y') = 0$$

より ,

$$y'' = -\frac{(1 + 2y')y' + y' + 2}{x + 2y}$$

となる .  $(x, y) = (\pm 1/\sqrt{7}, \mp 2/\sqrt{7})$  ( 復号同順 ) のときの  $y''$  の値を求める .

$$y'' = -\frac{0 + 0 + 2}{\pm 1/\sqrt{7} \mp 2/\sqrt{7}} = \pm 2\sqrt{7}$$

となるので ,  $f(1/\sqrt{7}) = -2/\sqrt{7}$  は極小値 ,  $f(-1/\sqrt{7}) = 2/\sqrt{7}$  は極大値である . □

## § 2.48 条件付き極値問題

**例 2.223** 錐条件付き極値 条件  $g(x, y) = \frac{x^2}{9} + \frac{y^2}{4} - 1 = 0$  のもとでの関数  $f(x, y) = x^2 - y^2$  の極値を求める . 条件  $g(x, y) = 0$  は楕円の方程式であるから ,  $x, y$  は

$$x = \phi(t) = 3 \cos t, \quad y = \psi(t) = 2 \sin t, \quad 0 \leq t \leq 2\pi$$

とパラメータ表示で表される．このとき当然  $g(\phi(t), \psi(t)) = 0$  が成立する． $x, y$  は  $t$  の関数であるから， $f(x, y)$  も  $t$  の関数となり，

$$p(t) = f(\phi(t), \psi(t)) = 9 \cos^2 t - 4 \sin^2 t$$

と書ける．求めるべき極値は  $p(t)$  の極値を求めればよい． $p(t)$  を式変形すると，

$$p(t) = 9(1 - \sin^2 t) - 4 \sin^2 t = 9 - 13 \sin^2 t$$

であり，この導関数は

$$p'(t) = -26 \sin t \cos t = -13 \sin 2t$$

となる． $p'(t) = 0$  のとき極値の候補となる． $0 \leq t \leq 2\pi$  に注意すると， $t = 0, \frac{\pi}{2}, \pi, \frac{3\pi}{2}$  のときが極値に候補となる． $p(t)$  の 2 階の導関数は

$$p''(t) = -26 \cos 2t$$

であるから， $t = 0, \pi$  のとき  $p'' = -26 < 0$  となるので， $p = 9$  は極大値となる． $t = \frac{\pi}{2}, \frac{3\pi}{2}$  のとき  $p'' = 26 > 0$  となるので， $p = -4$  は極小値となる．よって， $(x, y) = (\pm 3, 0)$  のとき極大値  $f(\pm 3, 0) = 9$  をとり， $(x, y) = (0, \pm 2)$  のとき極大値  $f(0, \pm 2) = -4$  をとる．  $\square$

**例 2.224** 錮条件付き極値 錮条件  $g(x, y) = \frac{x^2}{9} + \frac{y^2}{4} - 1 = 0$  のもとでの関数  $f(x, y) = x^2 - y^2$  の極値を求める．条件  $g(x, y) = 0$  により定まる 2 つの陰関数をそれぞれ  $y = \varphi(x)$ ,  $x = \psi(y)$  とおく．これらの導関数は

$$\begin{aligned} \frac{dy}{dx} = \varphi'(x) &= -\frac{g_x}{g_y} = -\frac{4x}{9y} \quad (\text{ただし } y \neq 0 \text{ のとき}), \\ \frac{dx}{dy} = \psi'(y) &= -\frac{g_y}{g_x} = -\frac{9y}{4x} \quad (\text{ただし } x \neq 0 \text{ のとき}) \end{aligned}$$

となる．また，合成関数  $p(x) = f(x, \varphi(x))$ ,  $q(y) = f(\psi(y), y)$  の導関数はそれぞれ

$$\begin{aligned} p'(x) &= \frac{d}{dx} f(x, \varphi(x)) = f_x(x, y) \frac{dx}{dx} + f_y(x, y) \frac{dy}{dx} = f_x(x, y) + f_y(x, y) \varphi'(x) \\ &= 2x - 2y \left( -\frac{4x}{9y} \right) = \frac{26}{9} x \quad (\text{ただし } y \neq 0 \text{ のとき}), \\ q'(y) &= \frac{d}{dy} f(\psi(y), y) = f_x(x, y) \frac{dx}{dy} + f_y(x, y) \frac{dy}{dy} = f_x(x, y) \psi'(y) + f_y(x, y) \\ &= 2x \left( -\frac{9y}{4x} \right) - 2y = -\frac{13}{2} y \quad (\text{ただし } x \neq 0 \text{ のとき}) \end{aligned}$$

となる．極値の候補となる点は  $p'(x) = 0$ ,  $q'(y) = 0$  をみたす点である．これらよりそれぞれ  $x = 0$ ,  $y = 0$  を得る．このとき  $g(x, y) = 0$  を代入するとそれぞれ， $y = \pm 2$ ,  $x = \pm 3$  を得る．よって，極値の候補は

$$(x, y) = (0, \pm 2), (\pm 3, 0)$$

である．これらの点が極値であるか確認する．さらに微分すると

$$p''(x) = \frac{d^2}{dx^2} f(x, \varphi(x)) = \frac{d}{dx} \left( \frac{26}{9} x \right) = \frac{26}{9} > 0 \quad (\text{ただし } y \neq 0 \text{ のとき}),$$

$$q''(y) = \frac{d^2}{dy^2} f(\psi(y), y) = \frac{d}{dy} \left( -\frac{13}{2} y \right) = -\frac{13}{2} < 0 \quad (\text{ただし } x \neq 0 \text{ のとき})$$

となる．よって， $(x, y) = (0, \pm 2)$  のとき， $x = 0$  となるから  $p(x)$  を用いて

$$p'(0) = 0, \quad p''(0) = \frac{26}{9} > 0$$

となるので， $f(0, \pm 2) = -4$  は極小値である．また， $(x, y) = (\pm 3, 0)$  のとき， $y = 0$  となるから  $q(x)$  を用いて

$$q'(0) = 0, \quad q''(0) = -\frac{13}{2} < 0$$

となるので， $f(\pm 3, 0) = 9$  は極大値である．

□

**例 2.225** 錐条件付き極値 条件  $g(x, y) = x^2 - \frac{y^2}{4} - 1 = 0$  のもとでの関数  $f(x, y) = x^3 + y$  の極値を求める．条件  $g(x, y) = 0$  により定まる陰関数を  $y = \varphi(x)$  とおく．この導関数は

$$\frac{dy}{dx} = \varphi'(x) = -\frac{g_x}{g_y} = \frac{4x}{y} \quad (\text{ただし } y \neq 0 \text{ のとき})$$

となる．また，合成関数  $p(x) = f(x, \varphi(x))$  の導関数は  $y \neq 0$  のとき

$$p'(x) = \frac{d}{dx} f(x, \varphi(x)) = f_x(x, y) \frac{dx}{dx} + f_y(x, y) \frac{dy}{dx} = f_x(x, y) + f_y(x, y) \varphi'(x) = 3x^2 + \frac{4x}{y}$$

となる．極値の候補は  $p'(x) = 0$  となる点である．これより，

$$3x^2 y + 4x = 0 \quad \Rightarrow \quad y = -\frac{4x}{3x^2} = -\frac{4}{3x}$$

を得る．これを  $g(x, y) = 0$  へ代入すると，

$$9x^4 - 9x^2 + 4 = 0$$

となる． $x^2 = X$  とおけば

$$(3X - 4)(3X + 1) = 0$$

となるので， $x = \pm \frac{2}{\sqrt{3}}$  を得る．よって，極値の候補となる点は

$$(x, y) = \left( \frac{2}{\sqrt{3}}, -\frac{2}{\sqrt{3}} \right), \left( -\frac{2}{\sqrt{3}}, \frac{2}{\sqrt{3}} \right)$$



である．これらの点が極値であるか確認する． $p(x)$  をさらに微分すると

$$\begin{aligned} p''(x) &= \frac{d^2}{dx^2} f(x, \varphi(x)) = \frac{d}{dx} \left( 3x^2 + \frac{4x}{y} \right) = 6x + \frac{4}{y} - \frac{4x\varphi'}{y^2} = 6x + \frac{4}{y} - \frac{16x^2}{y^3} \\ &= 6x - \frac{16}{y^3} \left( x^2 - \frac{y^2}{4} \right) = 6x - \frac{16}{y^3} \end{aligned}$$

となる．よって， $(x, y) = \left( \frac{2}{\sqrt{3}}, -\frac{2}{\sqrt{3}} \right)$  のとき，

$$p' \left( \frac{2}{\sqrt{3}} \right) = 0, \quad p'' \left( \frac{2}{\sqrt{3}} \right) = 10\sqrt{3} > 0$$

となるので， $f \left( \frac{2}{\sqrt{3}}, -\frac{2}{\sqrt{3}} \right) = \frac{2}{3\sqrt{3}}$  は極小値であり， $(x, y) = \left( -\frac{2}{\sqrt{3}}, \frac{2}{\sqrt{3}} \right)$  のとき，

$$p' \left( -\frac{2}{\sqrt{3}} \right) = 0, \quad p'' \left( -\frac{2}{\sqrt{3}} \right) = -10\sqrt{3} < 0$$

となるので， $f \left( -\frac{2}{\sqrt{3}}, \frac{2}{\sqrt{3}} \right) = -\frac{2}{3\sqrt{3}}$  は極大値である． □

**例 2.226** 錐条件付き極値 錐条件  $g(x, y) = x^2 + y^2 - a^2 = 0$  ( $a > 0$ ) のもとでの関数  $f(x, y) = 2xy$  の極値を求める．条件  $g(x, y) = 0$  により定まる陰関数を  $y = \varphi(x)$  とおく．この導関数は

$$\frac{dy}{dx} = \varphi'(x) = -\frac{g_x}{g_y} = -\frac{x}{y} \quad (\text{ただし } y \neq 0 \text{ のとき})$$

となる．また，合成関数  $p(x) = f(x, \varphi(x))$  の導関数は  $y \neq 0$  のとき

$$p'(x) = \frac{d}{dx} f(x, \varphi(x)) = f_x(x, y) \frac{dx}{dx} + f_y(x, y) \frac{dy}{dx} = f_x(x, y) + f_y(x, y) \varphi'(x) = 2y - \frac{2x^2}{y}$$

となる． $p'(x) = 0$  をみたく点が極値の候補である．これより  $x^2 = y^2$  を得る． $y = \pm x$  を  $g(x, y) = 0$  へ代入すると， $2x^2 = a^2$  となり， $x = \pm \frac{a}{\sqrt{2}}$  であるから，極値の候補となる点は

$$(x, y) = \left( \frac{a}{\sqrt{2}}, \frac{a}{\sqrt{2}} \right), \left( -\frac{a}{\sqrt{2}}, -\frac{a}{\sqrt{2}} \right), \left( \frac{a}{\sqrt{2}}, -\frac{a}{\sqrt{2}} \right), \left( -\frac{a}{\sqrt{2}}, \frac{a}{\sqrt{2}} \right)$$

である．これらの点が極値であるか確認する． $p(x)$  をさらに微分すると

$$p''(x) = \frac{d^2}{dx^2} f(x, \varphi(x)) = \frac{d}{dx} \left( 2y - \frac{2x^2}{y} \right) = 2\varphi' - \frac{4x}{y} + \frac{2x^2\varphi'}{y^2} = -\frac{6x}{y} - \frac{2x^3}{y^3}$$

となる．よって， $(x, y) = \left( \pm \frac{a}{\sqrt{2}}, \pm \frac{a}{\sqrt{2}} \right)$  のとき，

$$p' \left( \pm \frac{a}{\sqrt{2}} \right) = 0, \quad p'' \left( \pm \frac{a}{\sqrt{2}} \right) = -8 < 0$$

となるので,  $f\left(\pm\frac{a}{\sqrt{2}}, \pm\frac{a}{\sqrt{2}}\right) = a^2$  は極大値である.  $(x, y) = \left(\pm\frac{a}{\sqrt{2}}, \mp\frac{a}{\sqrt{2}}\right)$  のとき,

$$p'\left(\pm\frac{a}{\sqrt{2}}\right) = 0, \quad p''\left(\pm\frac{a}{\sqrt{2}}\right) = 8 > 0$$

となるので,  $f\left(\pm\frac{a}{\sqrt{2}}, \mp\frac{a}{\sqrt{2}}\right) = -a^2$  は極小値である. □

## § 2.49 ラグランジュの未定乗数法

**定理 2.227** 鑷ラグランジュの未定乗数法鑷 条件  $g(x, y) = 0$  のもとでの関数  $f(x, y)$  の極値の候補は,  $F(x, y, \lambda) = f(x, y) - \lambda g(x, y)$  とおき,  $(x, y, \lambda)$  についての連立方程式

$$F_x(x, y, \lambda) = 0, \quad F_y(x, y, \lambda) = 0, \quad F_\lambda(x, y, \lambda) = 0$$

を解くことで得られる. これをラグランジュの未定乗数法 (**Lagrange multiplier method**) という.

(証明) 条件  $g(x, y) = 0$  より  $x$  と  $y$  は独立ではないから, 陰関数  $y = \varphi(x)$ ,  $x = \psi(y)$  が存在する. この陰関数の導関数はそれぞれ

$$\begin{aligned} \frac{dy}{dx} = \varphi'(x) &= -\frac{g_x(x, y)}{g_y(x, y)} \quad (\text{ただし, } g_y \neq 0), \\ \frac{dx}{dy} = \psi'(y) &= -\frac{g_y(x, y)}{g_x(x, y)} \quad (\text{ただし, } g_x \neq 0) \end{aligned}$$

となる.  $x$  または  $y$  のどちらかが従属変数であるとき, 関数  $f(x, y)$  は 1 変数関数

$$p(x) = f(x, \varphi(x)), \quad q(y) = f(\psi(y), y)$$

とみなされる. ここで, 関数  $f(x, y)$  が点  $(a, b)$  で極値をもつとする. このとき  $p'(a) = 0$ ,  $q'(b) = 0$  が成り立つ.  $p'(a) = 0$  より,

$$\begin{aligned} 0 = p'(a) &= f_x(a, b) + f_y(a, b)\varphi'(a) = f_x(a, b) - f_y(a, b)\frac{g_x(a, b)}{g_y(a, b)} \\ &= \frac{f_x(a, b)g_y(a, b) - f_y(a, b)g_x(a, b)}{g_y(a, b)} = f_x(a, b) - \frac{f_y(a, b)}{g_y(a, b)}g_x(a, b) \end{aligned}$$

となり,  $q'(b) = 0$  より

$$\begin{aligned} 0 = q'(b) &= f_x(a, b)\psi'(y) + f_y(a, b) = -f_x(a, b)\frac{g_y(a, b)}{g_x(a, b)} + f_y(a, b) \\ &= \frac{f_x(a, b)g_y(a, b) - f_y(a, b)g_x(a, b)}{-g_x(a, b)} = f_y(a, b) - \frac{f_x(a, b)}{g_x(a, b)}g_y(a, b) \end{aligned}$$

が成り立つ. よって, この 2 つの式は同じ 1 つの式

$$( ) \quad f_x(a, b)g_y(a, b) - f_y(a, b)g_x(a, b) = 0$$

となる．この方程式を解くことで極値の候補  $(a, b)$  が定まる．しかし，この方程式のままでは解くのが難しい．次のように式変形する．( ) を変形して

$$\lambda = \frac{f_x(a, b)}{g_x(a, b)} = \frac{f_y(a, b)}{g_y(a, b)}$$

とおく．これをもとの2つの式へそれぞれ代入して

$$f_x(a, b) - \lambda g_x(a, b) = 0, \quad f_y(a, b) - \lambda g_y(a, b) = 0$$

を得る．ここで  $\lambda$  も未知変数であると考えて，条件  $g(x, y) = 0$  とあわせて， $(a, b, \lambda)$  についての連立方程式とみなす． $F(x, y, \lambda) = f(x, y) - \lambda g(x, y)$  とおけば，この3つの方程式は  $F_x = 0$ ,  $F_y = 0$ ,  $F_\lambda = 0$  と表される．  $\square$

**例 2.228** 総条件付き極値 条件  $g(x, y) = \frac{x^2}{9} + \frac{y^2}{4} - 1 = 0$  のもとでの関数  $f(x, y) = x^2 - y^2$  の極値を求める．まず，

$$F(x, y, \lambda) = f(x, y) - \lambda g(x, y) = x^2 - y^2 - \lambda \left( \frac{x^2}{9} + \frac{y^2}{4} - 1 \right)$$

とおく．このとき連立方程式

$$F_x = 2x - \frac{2\lambda}{9}x = 0, \quad F_y = -2y - \frac{2\lambda}{4}y = 0, \quad F_\lambda = -g = -\left( \frac{x^2}{9} + \frac{y^2}{4} - 1 \right) = 0$$

を考える．これをまとめると

$$x(\lambda - 9) = 0, \quad y(\lambda + 4) = 0, \quad \frac{x^2}{9} + \frac{y^2}{4} = 1$$

となる． $x = 0$  のとき第3式より  $y = \pm 2$  であり，第2式より  $\lambda = -4$  となる． $y = 0$  のとき第3式より  $x = \pm 3$  であり，第1式より  $\lambda = 9$  となる． $\lambda = 9$  のとき第2式より  $y = 0$  であり，第3式より  $x = \pm 3$  となる． $\lambda = -4$  のとき第1式より  $x = 0$  であり，第3式より  $y = \pm 2$  となる．よって連立方程式の解は

$$(x, y, \lambda) = (0, \pm 2, -4), (\pm 3, 0, 9)$$

となる．極値の候補となる点は

$$(x, y) = (0, \pm 2), (\pm 3, 0)$$

である．これらの点が極値であるか確認する．条件  $g(x, y) = 0$  により定まる2つの陰関数をそれぞれ  $y = \varphi(x)$ ,  $x = \psi(y)$  とおく．これらの導関数は

$$\begin{aligned} \frac{dy}{dx} = \varphi'(x) &= -\frac{g_x}{g_y} = -\frac{4x}{9y} \quad (\text{ただし } y \neq 0 \text{ のとき}), \\ \frac{dx}{dy} = \psi'(y) &= -\frac{g_y}{g_x} = -\frac{9y}{4x} \quad (\text{ただし } x \neq 0 \text{ のとき}) \end{aligned}$$

となる．また，合成関数  $p(x) = f(x, \varphi(x))$ ,  $q(x) = f(\psi(y), y)$  の導関数はそれぞれ

$$\begin{aligned} p'(x) &= \frac{d}{dx} f(x, \varphi(x)) = f_x(x, y) \frac{dx}{dx} + f_y(x, y) \frac{dy}{dx} = f_x(x, y) + f_y(x, y) \varphi'(x) \\ &= 2x - 2y \left( -\frac{4x}{9y} \right) = \frac{26}{9}x \quad (\text{ただし } y \neq 0 \text{ のとき}), \\ q'(y) &= \frac{d}{dy} f(\psi(y), y) = f_x(x, y) \frac{dx}{dy} + f_y(x, y) \frac{dy}{dy} = f_x(x, y) \psi'(y) + f_y(x, y) \\ &= 2x \left( -\frac{9y}{4x} \right) - 2y = -\frac{13}{2}y \quad (\text{ただし } x \neq 0 \text{ のとき}) \end{aligned}$$

となる．さらに微分すると

$$\begin{aligned} p''(x) &= \frac{d^2}{dx^2} f(x, \varphi(x)) = \frac{d}{dx} \left( \frac{26}{9}x \right) = \frac{26}{9} > 0 \quad (\text{ただし } y \neq 0 \text{ のとき}), \\ q''(y) &= \frac{d^2}{dy^2} f(\psi(y), y) = \frac{d}{dy} \left( -\frac{13}{2}y \right) = -\frac{13}{2} < 0 \quad (\text{ただし } x \neq 0 \text{ のとき}) \end{aligned}$$

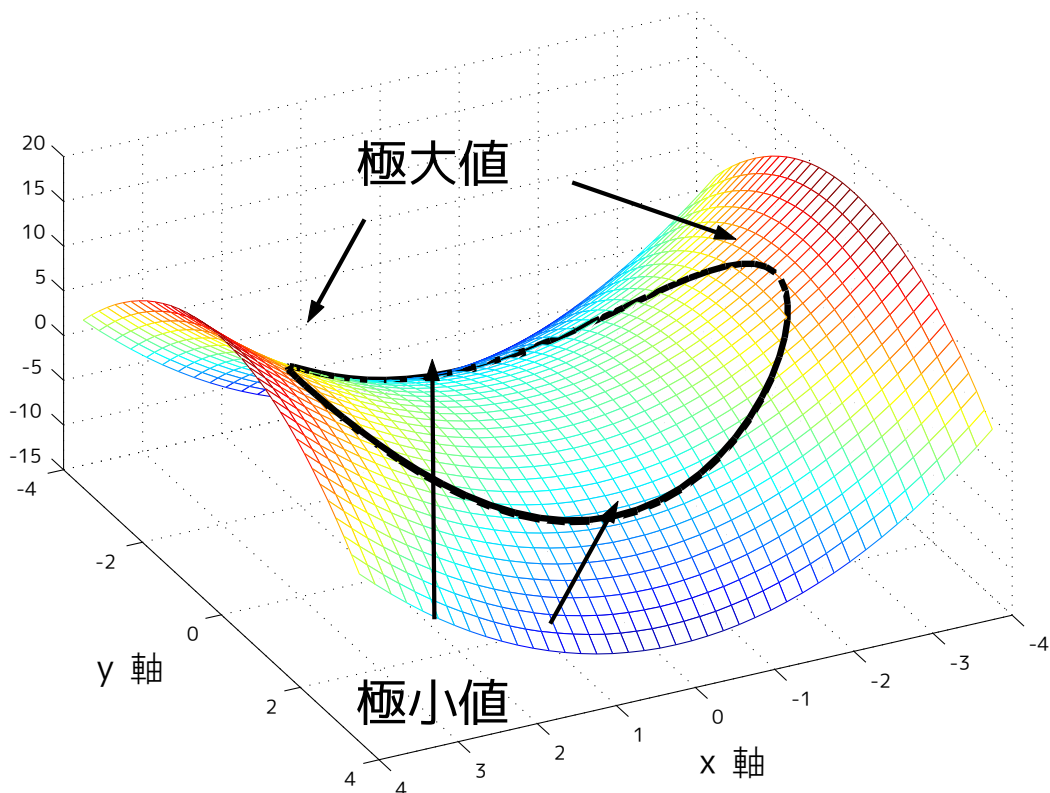
となる．よって， $(x, y) = (0, \pm 2)$  のとき， $x = 0$  となるから  $p(x)$  を用いて

$$p'(0) = 0, \quad p''(0) = \frac{26}{9} > 0$$

となるので， $f(0, \pm 2) = -4$  は極小値である．また， $(x, y) = (\pm 3, 0)$  のとき， $y = 0$  となるから  $q(x)$  を用いて

$$q'(0) = 0, \quad q''(0) = -\frac{13}{2} < 0$$

となるので， $f(\pm 3, 0) = 9$  は極大値である．



□

**例 2.229** 錐条件付き極値 錐条件  $g(x, y) = x^2 - \frac{y^2}{4} - 1 = 0$ のもとでの関数  $f(x, y) = x^3 + y$  の極値を求める。まず,

$$F(x, y, \lambda) = f(x, y) - \lambda g(x, y) = x^3 + y - \lambda \left( x^2 - \frac{y^2}{4} - 1 \right)$$

とおく。このとき連立方程式

$$F_x = 3x^2 - 2\lambda x = 0, \quad F_y = 1 + \frac{2\lambda}{4}y = 0, \quad F_\lambda = -g = -\left( x^2 - \frac{y^2}{4} - 1 \right) = 0$$

を考える。これをまとめると

$$x(3x - 2\lambda) = 0, \quad \lambda y + 2 = 0, \quad x^2 - \frac{y^2}{4} = 1$$

となる。第1式より  $x = 0$  とする。このとき第3式より  $y = \pm\sqrt{-4}$  となり実数解をもたないので不適である。第1式より  $x = \frac{2\lambda}{3}$  とする。このとき、 $\lambda \neq 0$  である。なぜなら、 $\lambda = 0$  とすると  $x = 0$  となるからである。よって第2式より  $y = -\frac{2}{\lambda}$  である。

$$x = \frac{2\lambda}{3}, \quad y = -\frac{2}{\lambda}$$

を第3式に代入すると

$$(4\lambda^2 + 3)(\lambda^2 - 3) = 0$$

となる．実数の範囲内の解は

$$\lambda = \pm\sqrt{3}$$

である．以上より，連立方程式の解は

$$(x, y, \lambda) = \left( \pm\frac{2}{\sqrt{3}}, \mp\frac{2}{\sqrt{3}}, \pm\sqrt{3} \right) \quad (\text{複合同順})$$

となる．極値の候補となる点は

$$(x, y) = \left( \frac{2}{\sqrt{3}}, -\frac{2}{\sqrt{3}} \right), \left( -\frac{2}{\sqrt{3}}, \frac{2}{\sqrt{3}} \right)$$

である．これらの点が極値であるか確認する．条件  $g(x, y) = 0$  により定まる陰関数を  $y = \varphi(x)$  とおく．この導関数は

$$\frac{dy}{dx} = \varphi'(x) = -\frac{g_x}{g_y} = \frac{4x}{y} \quad (\text{ただし } y \neq 0 \text{ のとき})$$

となる．また，合成関数  $p(x) = f(x, \varphi(x))$  の導関数は  $y \neq 0$  のとき

$$p'(x) = \frac{d}{dx} f(x, \varphi(x)) = f_x(x, y) \frac{dx}{dx} + f_y(x, y) \frac{dy}{dx} = f_x(x, y) + f_y(x, y) \varphi'(x) = 3x^2 + \frac{4x}{y}$$

となる．さらに微分すると

$$\begin{aligned} p''(x) &= \frac{d^2}{dx^2} f(x, \varphi(x)) = \frac{d}{dx} \left( 3x^2 + \frac{4x}{y} \right) = 6x + \frac{4}{y} - \frac{4x\varphi'}{y^2} = 6x + \frac{4}{y} - \frac{16x^2}{y^3} \\ &= 6x - \frac{16}{y^3} \left( x^2 - \frac{y^2}{4} \right) = 6x - \frac{16}{y^3} \end{aligned}$$

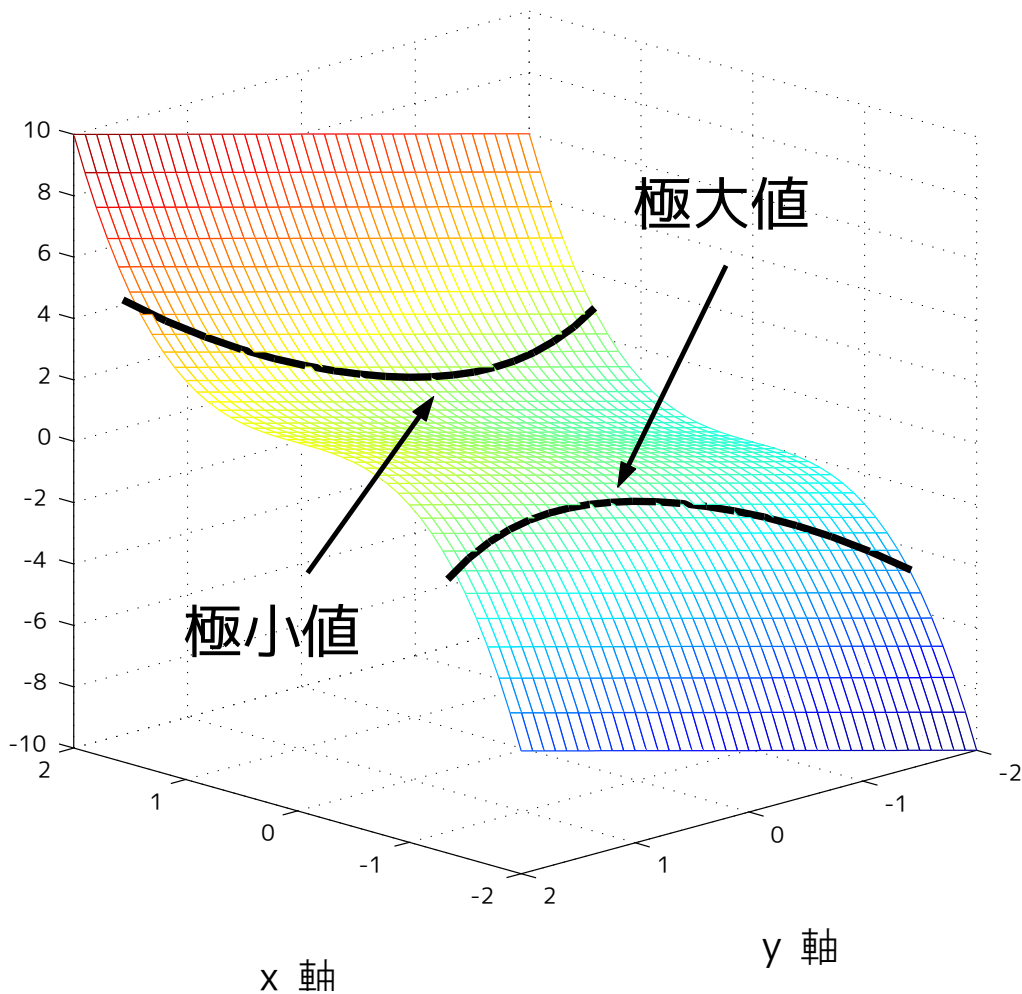
となる．よって， $(x, y) = \left( \frac{2}{\sqrt{3}}, -\frac{2}{\sqrt{3}} \right)$  のとき，

$$p' \left( \frac{2}{\sqrt{3}} \right) = 0, \quad p'' \left( \frac{2}{\sqrt{3}} \right) = 10\sqrt{3} > 0$$

となるので， $f \left( \frac{2}{\sqrt{3}}, -\frac{2}{\sqrt{3}} \right) = \frac{2}{3\sqrt{3}}$  は極小値であり， $(x, y) = \left( -\frac{2}{\sqrt{3}}, \frac{2}{\sqrt{3}} \right)$  のとき，

$$p' \left( -\frac{2}{\sqrt{3}} \right) = 0, \quad p'' \left( -\frac{2}{\sqrt{3}} \right) = -10\sqrt{3} < 0$$

となるので， $f \left( -\frac{2}{\sqrt{3}}, \frac{2}{\sqrt{3}} \right) = -\frac{2}{3\sqrt{3}}$  は極大値である．



□

**例 2.230** 錮条件付き極値 錮条件  $g(x, y) = x^2 + y^2 - a^2 = 0 (a > 0)$  のもとでの関数  $f(x, y) = 2xy$  の極値を求めよ。まず,

$$F(x, y, \lambda) = f(x, y) - \lambda g(x, y) = 2xy - \lambda(x^2 + y^2 - a^2)$$

とおく。このとき連立方程式

$$F_x = 2y - 2\lambda x = 0, \quad F_y = 2x - 2\lambda y = 0, \quad F_\lambda = -g = -(x^2 + y^2 - a^2) = 0$$

を考える。これをまとめると

$$y - \lambda x = 0, \quad x - \lambda y = 0, \quad x^2 + y^2 = a^2$$

となる。第 1 式より  $y = \lambda x$  を第 2 式に代入して

$$(1 - \lambda^2)x = 0$$

となる． $x = 0$  のとき，第 1 式では  $y = 0$  となり，第 3 式では  $y = \pm a$  となる．これは矛盾するので不適である． $\lambda = 1$  のとき， $y = x$  であり第 3 式から  $x = \pm \frac{a}{\sqrt{2}}$  となる． $\lambda = -1$  のとき， $y = -x$  であり第 3 式から  $x = \pm \frac{a}{\sqrt{2}}$  となる．以上より，連立方程式の解は

$$(x, y, \lambda) = \left( \pm \frac{a}{\sqrt{2}}, \pm \frac{a}{\sqrt{2}}, 1 \right), \left( \pm \frac{a}{\sqrt{2}}, \mp \frac{a}{\sqrt{2}}, -1 \right) \quad (\text{複合同順})$$

となる．極値の候補となる点は

$$(x, y) = \left( \frac{a}{\sqrt{2}}, \frac{a}{\sqrt{2}} \right), \left( -\frac{a}{\sqrt{2}}, -\frac{a}{\sqrt{2}} \right), \left( \frac{a}{\sqrt{2}}, -\frac{a}{\sqrt{2}} \right), \left( -\frac{a}{\sqrt{2}}, \frac{a}{\sqrt{2}} \right)$$

である．これらの点が極値であるか確認する．条件  $g(x, y) = 0$  により定まる陰関数を  $y = \varphi(x)$  とおく．この導関数は

$$\frac{dy}{dx} = \varphi'(x) = -\frac{g_x}{g_y} = -\frac{x}{y} \quad (\text{ただし } y \neq 0 \text{ のとき})$$

となる．また，合成関数  $p(x) = f(x, \varphi(x))$  の導関数は  $y \neq 0$  のとき

$$p'(x) = \frac{d}{dx} f(x, \varphi(x)) = f_x(x, y) \frac{dx}{dx} + f_y(x, y) \frac{dy}{dx} = f_x(x, y) + f_y(x, y) \varphi'(x) = 2y - \frac{2x^2}{y}$$

となる．さらに微分すると

$$p''(x) = \frac{d^2}{dx^2} f(x, \varphi(x)) = \frac{d}{dx} \left( 2y - \frac{2x^2}{y} \right) = 2\varphi' - \frac{4x}{y} + \frac{2x^2 \varphi'}{y^2} = -\frac{6x}{y} - \frac{2x^3}{y^3}$$

となる．よって， $(x, y) = \left( \pm \frac{a}{\sqrt{2}}, \pm \frac{a}{\sqrt{2}} \right)$  のとき，

$$p' \left( \pm \frac{a}{\sqrt{2}} \right) = 0, \quad p'' \left( \pm \frac{a}{\sqrt{2}} \right) = -8 < 0$$

となるので， $f \left( \pm \frac{a}{\sqrt{2}}, \pm \frac{a}{\sqrt{2}} \right) = a^2$  は極大値である． $(x, y) = \left( \pm \frac{a}{\sqrt{2}}, \mp \frac{a}{\sqrt{2}} \right)$  のとき，

$$p' \left( \pm \frac{a}{\sqrt{2}} \right) = 0, \quad p'' \left( \pm \frac{a}{\sqrt{2}} \right) = 8 > 0$$

となるので， $f \left( \pm \frac{a}{\sqrt{2}}, \mp \frac{a}{\sqrt{2}} \right) = -a^2$  は極小値である．

□



## § 2.50 演習問題 ~ 極値

**問 2.231** 錕極値録 次の関数  $f(x, y)$  の極値をすべて求めよ .

- (1)  $f(x, y) = x^2 + y^2$  (2)  $f(x, y) = x^4 + y^4$  (3)  $f(x, y) = x^2 - y^2$  (4)  $f(x, y) = x^2 + y^3$   
 (5)  $f(x, y) = x^2 + y^2 - 2x + 4y + 10$  (6)  $f(x, y) = x^3 + y^3 + 3xy + 2$   
 (7)  $f(x, y) = 1 - 2x^2 - xy - y^2 + 2x - 3y$  (8)  $f(x, y) = x^2 - 2xy + y^2 - x^4 - y^4$   
 (9)  $f(x, y) = x^2/2 + y^2$  (10)  $f(x, y) = x^2/2 - y^2$  (11)  $f(x, y) = x^2 + xy + y^2$   
 (12)  $f(x, y) = x^2 + 2xy + 2y^2$  (13)  $f(x, y) = x^2 + 2xy - 2y^2$  (14)  $f(x, y) = -x^2 - 2xy + y^2$   
 (15)  $f(x, y) = -x^2 + 2xy - 3y^2$  (16)  $f(x, y) = x^2/a^2 + y^2/b^2$   
 (17)  $f(x, y) = x^2 + xy + 2y^2 - 4y$  (18)  $f(x, y) = x^2 - xy + y^2 + 2x - y + 7$   
 (19)  $f(x, y) = x^2 + 2xy + 2y^2 - 2x - 2y + 1$  (20)  $f(x, y) = x^2 - 2xy - 2y^2 + 2x + 2y + 2$   
 (21)  $f(x, y) = -x^2 + 2xy - 3y^2 + 2x + 2y + 3$  (22)  $f(x, y) = x^2 - y^3$  (23)  $f(x, y) = x^2 + y^2 + y^3$   
 (24)  $f(x, y) = x^3 + y^3 - 3xy$  (25)  $f(x, y) = x^2 + y^2 + y^3$  (26)  $f(x, y) = x^3 - 9xy + y^3$   
 (27)  $f(x, y) = -x^3 + 3xy - y^3$  (28)  $f(x, y) = x^3 + 2xy - x - 2y$   
 (29)  $f(x, y) = x^3 + y^3 + x^2 + 2xy + y^2$  (30)  $f(x, y) = x^4 - y^4$   
 (31)  $f(x, y) = x^4 + y^2 + 2x^2 - 4xy + 1$  (32)  $f(x, y) = x^4 + y^4 - x^2 + 2xy - y^2$   
 (33)  $f(x, y) = \sinh(xy)$  (34)  $f(x, y) = e^{x+y}$  (35)  $f(x, y) = e^{-(2x^2+3y^2)}$  □

**問 2.232** 錕陰関数の極値録 次の条件で定められる陰関数  $y = f(x)$  の極値をすべて求めよ .

- (1)  $x^2 + xy + 2y^2 = 1$  (2)  $x^2 - xy + y^3 = 7$  □

**問 2.233** 錕条件付き極値録 次の条件  $g(x, y) = 0$ のもとでの関数  $f(x, y)$  の極値をすべて調べよ .

- (1)  $g(x, y) = x^2/9 + y^2/4 - 1 = 0, f(x, y) = x^2 - y^2$   
 (2)  $g(x, y) = x^2 - y^2/4 - 1 = 0, f(x, y) = x^3 + y$   
 (3)  $g(x, y) = x^2 + y^2 - a^2 = 0, f(x, y) = 2xy$   
 (4)  $g(x, y) = x^2 + y^2 - 2 = 0, f(x, y) = y - x$   
 (5)  $g(x, y) = x^2 + 2y^2 - 1 = 0, f(x, y) = xy$   
 (6)  $g(x, y) = xy - 1 = 0, f(x, y) = x^2 + y^2$   
 (7)  $g(x, y) = x^2 + y^2 - 1 = 0, f(x, y) = x + 2y$   
 (8)  $g(x, y) = x^2 + 2y^2 - 1 = 0, f(x, y) = xy$   
 (9)  $g(x, y) = xy - 1 = 0, f(x, y) = x^2 + y^2$   
 (10)  $g(x, y) = x^2 - \frac{1}{4}y^2 - 1 = 0, f(x, y) = x^3 + y$   
 (11)  $g(x, y) = x^2 + y^2 - 2 = 0, f(x, y) = y - x$   
 (12)  $g(x, y) = x^2 + y^2 - 1 = 0, f(x, y) = 2x + 3y$   
 (13)  $g(x, y) = x^2 + y^2 - 2 = 0, f(x, y) = xy$   
 (14)  $g(x, y) = x^2 + y^2 - 1 = 0, f(x, y) = 4x^2 + 4xy + y^2$   
 (15)  $g(x, y) = x^2 + y^2 - 1 = 0, f(x, y) = 2x^2 - 2\sqrt{2}xy + y^2$

$$(16) \quad g(x, y) = x^2 + y^2 - 1 = 0, \quad f(x, y) = 3x^2 + 2\sqrt{2}xy + 2y^2$$

$$(17) \quad g(x, y) = x^2 + y^2 - 1 = 0, \quad f(x, y) = 3x^2 + 2\sqrt{3}xy + y^2$$

□

**問 2.234** 錐領域内の最大値，最小値 錐 次関数  $f(x, y)$  の領域  $D = \{ (x, y) \mid x^2 + y^2 \leq 1 \}$  における最大値，最小値を求めよ．

$$(1) \quad f(x, y) = x^2 + xy + y^2 \quad (2) \quad f(x, y) = x^2 + y^2 - x - y$$

□

### 3 多重積分

#### § 3.1 多重積分

**注意 3.1** 定積分 1 変数関数  $f(x)$  を考える．区間  $[a, b]$  を

$$a = x_0 < x_1 < x_2 < \cdots < x_{N-1} < x_N = b$$

と  $N$  個に分割し，各小区間の幅を  $\Delta x_n = x_n - x_{n-1}$  とおく．このとき，各小区間の矩形の符合付き面積は  $\Delta S_n = f(\xi_n)\Delta x_n$  ( $x_{n-1} < \xi_n < x_n$ ) であるから，曲線  $y = f(x)$  と区間  $[a, b]$  における符合付きの面積は

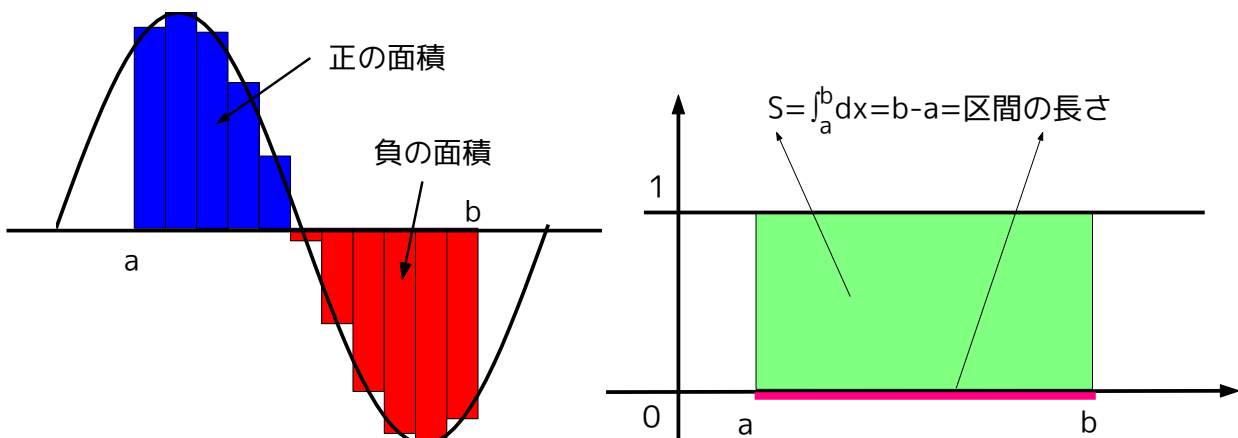
$$S = \lim_{N \rightarrow \infty} \sum_{n=1}^N \Delta S_n = \lim_{N \rightarrow \infty} \sum_{n=1}^N f(\xi_n)\Delta x_n = \int_a^b f(x) dx$$

で与えられ，これが  $f(x)$  の定積分である．また，定積分においては区間についても向きがあることに注意する． □

**注意 3.2** 定積分と区間の長さ 被積分関数が  $f(x) = 1$  のとき，定積分

$$\int_a^b dx = \left[ x \right]_a^b = b - a$$

は区間  $I = [a, b]$  の長さを表す． □



**定義 3.3** 2 重積分 長方形領域

$$D = \{ (x, y) \mid a \leq x \leq b, c \leq y \leq d \}$$

を  $x$  軸方向に  $N$  分割し,  $y$  軸方向に  $M$  分割し,

$$a = x_0 < x_1 < x_2 < \cdots < x_{N-1} < x_N = b, \quad c = y_0 < y_1 < y_2 < \cdots < y_{M-1} < y_M = d$$

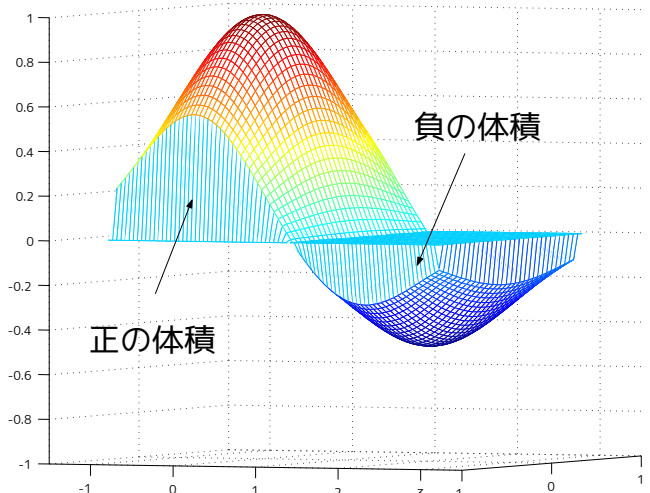
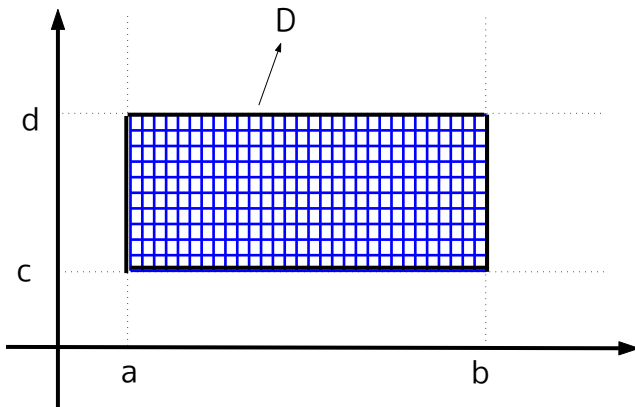
とする. 各小領域

$$D_{n,m} = \{ (x, y) \mid x_{n-1} < x < x_n, y_{m-1} < y < y_m \}$$

の  $x$  方向,  $y$  方向の幅を  $\Delta x_n = x_n - x_{n-1}$ ,  $\Delta y_m = y_m - y_{m-1}$  とおくと, 小領域  $D_{n,m}$  の面積は  $\Delta S_{n,m} = \Delta x_n \Delta y_m$  であり, 曲面  $z = f(x, y)$  と  $D_{n,m}$  ではさまれた領域の体積は  $\Delta V_{n,m} = f(\xi_n, \eta_m) \Delta S_{n,m} = f(\xi_n, \eta_m) \Delta x_n \Delta y_m$  である. ただし,  $x_{n-1} < \xi_n < x_n$ ,  $y_{m-1} < \eta_m < y_m$  とする. よって, 曲面  $z = f(x, y)$  と領域  $D$  とではさまれた領域の符合付き体積は

$$\begin{aligned} V &= \lim_{N, M \rightarrow \infty} \sum_{n=1}^N \sum_{m=1}^M \Delta V_{n,m} \\ &= \lim_{N, M \rightarrow \infty} \sum_{n=1}^N \sum_{m=1}^M f(\xi_n, \eta_m) \Delta x_n \Delta y_m = \iint_D f(x, y) dx dy \\ &= \lim_{N, M \rightarrow \infty} \sum_{n=1}^N \sum_{m=1}^M f(\xi_n, \eta_m) \Delta S_{n,m} = \iint_D f(x, y) dS \end{aligned}$$

で与えられる. これを 2 変数関数  $f(x, y)$  に対する 2 重積分または面積分という.



□

**注意 3.4** 罫領域の面積の向き 罫 定積分では積分区間に向きを導入し,  $\int_a^b dx = -\int_b^a dx$  となるが, 多重積分では, 微小領域の面積  $\Delta S_{n,m}$  は正のみである. 例えば  $a$  と  $b$  とを入れ替えて  $\Delta S_{n,m} < 0$  となることは許されない. □

**定義 3.5** 罫 2 重積分 罫 任意の領域  $D$  に対する 2 重積分は, 領域  $D$  を含む長方形領域  $\tilde{D}$  を考え, 関数

$$\tilde{f}(x, y) = \begin{cases} f(x, y) & (x, y) \in D \\ 0 & (x, y) \notin D \end{cases}$$

を導入し,

$$\iint_D f(x, y) dx dy = \iint_{\tilde{D}} \tilde{f}(x, y) dx dy$$

と定義する.

**注意 3.6** 総多重積分と領域の面積 被積分関数が  $f(x, y) = 1$  のとき,

$$S = \iint_D dx dy$$

は領域  $D$  の面積となる.

**定義 3.7** 総 3 重積分 3 変数関数  $f(x, y, z)$  に対する 3 重積分は

$$\begin{aligned} \tilde{V} &= \iiint_D f(x, y, z) dx dy dz = \lim_{N, M, L \rightarrow \infty} \sum_{n=1}^N \sum_{m=1}^M \sum_{l=1}^L f(\xi_n, \eta_m, \lambda_l) \Delta x_n \Delta y_m \Delta z_l \\ &= \iiint_D f(x, y, z) dV = \lim_{N, M, L \rightarrow \infty} \sum_{n=1}^N \sum_{m=1}^M \sum_{l=1}^L f(\xi_n, \eta_m, \lambda_l) V_{n, m, l} \end{aligned}$$

と定義される.

**注意 3.8** 総多重積分と領域の面積 総  $\tilde{V}$  は 4 次元の符合付き体積を表す,  
また, 被積分関数が  $f(x, y, z) = 1$  のとき,

$$V = \iiint_D dx dy dz$$

は領域  $D$  の体積を表す.

**定義 3.9** 総  $n$  重積分 同様にして定義される  $n$  変数関数  $f(x_1, x_2, \dots, x_n)$  に対する  $n$  重積分は

$$\tilde{V}_{n+1} = \iiint \cdots \int_D f(x_1, x_2, \dots, x_n) dx_1 dx_2 \cdots dx_n$$

と表記する.

**注意 3.10** 総多重積分と領域の面積 総  $\tilde{V}_{n+1}$  は  $n + 1$  次元の符合付き体積を表す,  
また,  $f(x_1, x_2, \dots, x_n) = 1$  のとき,

$$V_n = \iiint \cdots \int_D dx_1 dx_2 \cdots dx_n$$

は領域  $D$  の  $n$  次元の体積を表す.

**定義 3.11** 総多重積分 2 重積分, 3 重積分, ... のことを総称して, 多重積分または重積分という. □

## § 3.2 累次積分

**定義 3.12** 総簡単な領域 領域  $D$  が

$$D = \{ (x, y) \mid a \leq x \leq b, \varphi_1(x) \leq y \leq \varphi_2(x) \}$$

と表されるとき,  $D$  を  $x$  に関して簡単な領域という.

$$D = \{ (x, y) \mid c \leq y \leq d, \psi_1(y) \leq x \leq \psi_2(y) \}$$

と表されるとき,  $D$  を  $y$  に関して簡単な領域という. □

**定理 3.13** 総累次積分 領域  $D$  が  $x$  に関して単純なとき, 多重積分は定積分

$$\iint_D f(x, y) dx dy = \int_a^b \left\{ \int_{\varphi_1(x)}^{\varphi_2(x)} f(x, y) dy \right\} dx$$

により与えられる. 領域  $D$  が  $y$  に関して単純なとき, 多重積分は定積分

$$\iint_D f(x, y) dx dy = \int_c^d \left\{ \int_{\psi_1(y)}^{\psi_2(y)} f(x, y) dx \right\} dy$$

により与えられる. これらの積分を累次積分という. □

**注意 3.14** 総累次積分 累次積分は省略して次のように表記する:

$$\begin{aligned} \iint_D f(x, y) dx dy &= \int_a^b \left\{ \int_{\varphi_1(x)}^{\varphi_2(x)} f(x, y) dy \right\} dx = \int_a^b dx \int_{\varphi_1(x)}^{\varphi_2(x)} f(x, y) dy = \int_a^b dx \int_{\varphi_1(x)}^{\varphi_2(x)} dy f(x, y), \\ \iint_D f(x, y) dx dy &= \int_c^d \left\{ \int_{\psi_1(y)}^{\psi_2(y)} f(x, y) dx \right\} dy = \int_c^d dy \int_{\psi_1(y)}^{\psi_2(y)} f(x, y) dx = \int_c^d dy \int_{\psi_1(y)}^{\psi_2(y)} dx f(x, y). \end{aligned}$$

□

## § 3.3 2 重積分の計算

**例 3.15** 総  $x, y$  両方に単純な領域における多重積分 領域  $D$  を下図のような三角形の領域とする. このとき多重積分

$$I = \iint_D dx dy$$

を求める．被積分関数は 1 であるから，領域  $D$  の面積を  $S = \frac{1}{2}$  とすると， $I = 1 \times S = S = \frac{1}{2}$  となる．

領域  $D$  を  $x$  に関して単純な領域として表すと

$$D = \{ (x, y) \mid 0 \leq x \leq 1, 1 \leq y \leq x \}$$

となる．このとき累次積分で計算すると

$$I = \iint_D dx dy = \int_0^1 dx \int_0^x dy = \int_0^1 \left\{ \left[ y \right]_0^x \right\} dx = \int_0^1 (x - 0) dx = \int_0^1 x dx = \left[ \frac{x^2}{2} \right]_{x=0}^{x=1} = \frac{1}{2}$$

と得られる．

領域  $D$  を  $y$  に関して単純な領域として表すと

$$D = \{ (x, y) \mid 0 \leq y \leq 1, y \leq x \leq 1 \}$$

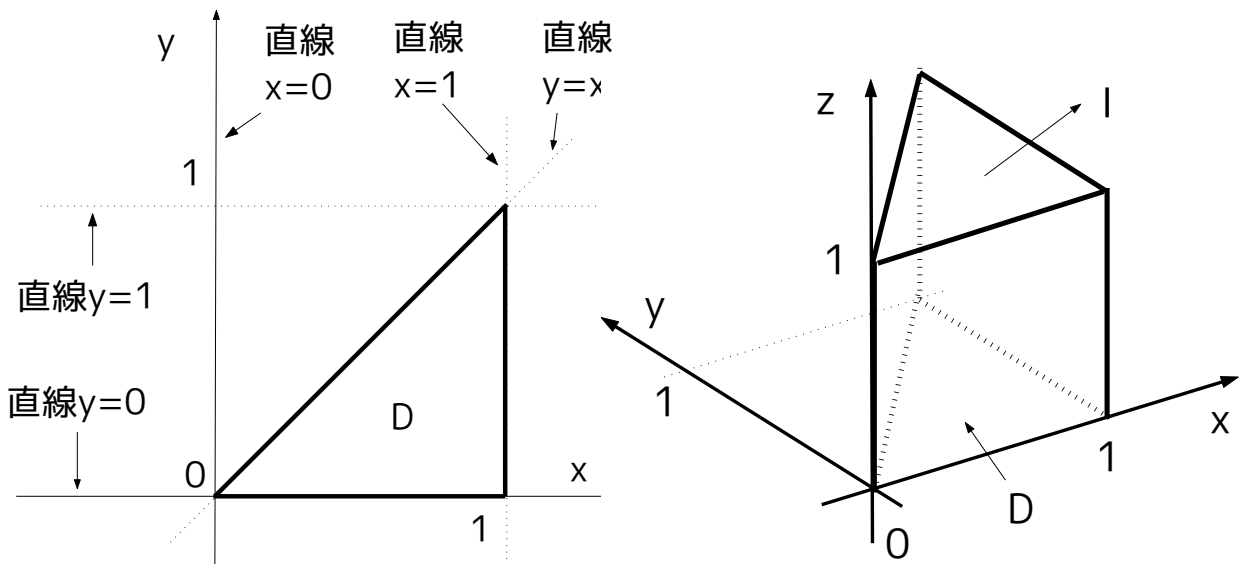
となる．このとき累次積分で計算すると

$$I = \iint_D dx dy = \int_0^1 dy \int_y^1 dx = \int_0^1 \left\{ \left[ x \right]_y^1 \right\} dy = \int_0^1 (1 - y) dy = \left[ y - \frac{y^2}{2} \right]_{y=0}^{y=1} = 1 - \frac{1}{2} = \frac{1}{2}$$

と得られる． □

**注意 3.16**

領域  $x, y$  両方に単純な領域における多重積分 領域  $x, y$  の両方に関して単純な領域であれば，どちらの領域で計算しても結果は同じ． □



**例 3.17**

累次積分による多重積分

$$I = \iint_D (x^2 + y^2 + 1) dx dy, \quad D = \{ (x, y) \mid 0 \leq x \leq 1, x \leq y \leq 2x \}$$

を求める． $D$  は  $x$  に関して単純な領域だから，累次積分を用いて計算して，

$$\begin{aligned}
 I &= \int_0^1 dx \int_x^{2x} (x^2 + y^2 + 1) dy = \int_0^1 \left\{ \left[ x^2 y + \frac{y^3}{3} + y \right]_{y=x}^{y=2x} \right\} dx \\
 &= \int_0^1 \left\{ \left( 2x^3 + \frac{8x^3}{3} + 2x \right) - \left( x^3 + \frac{x^3}{3} + x \right) \right\} dx = \int_0^1 \left( \frac{10x^3}{3} + x \right) dx = \left[ \frac{5x^4}{6} + \frac{x^2}{2} \right]_{x=0}^{x=1} = \frac{4}{3}
 \end{aligned}$$

と得られる．

□

**問 3.18** 総累次積分録 領域  $D$  を 2 つの  $y$  に関して単純な領域

$$D_1 = \left\{ (x, y) \mid 0 \leq y \leq 1, \frac{y}{2} \leq x \leq y \right\}, \quad D_2 = \left\{ (x, y) \mid 1 \leq y \leq 2, \frac{y}{2} \leq x \leq 1 \right\}$$

に  $D = D_1 + D_2$  と分ける．このとき，

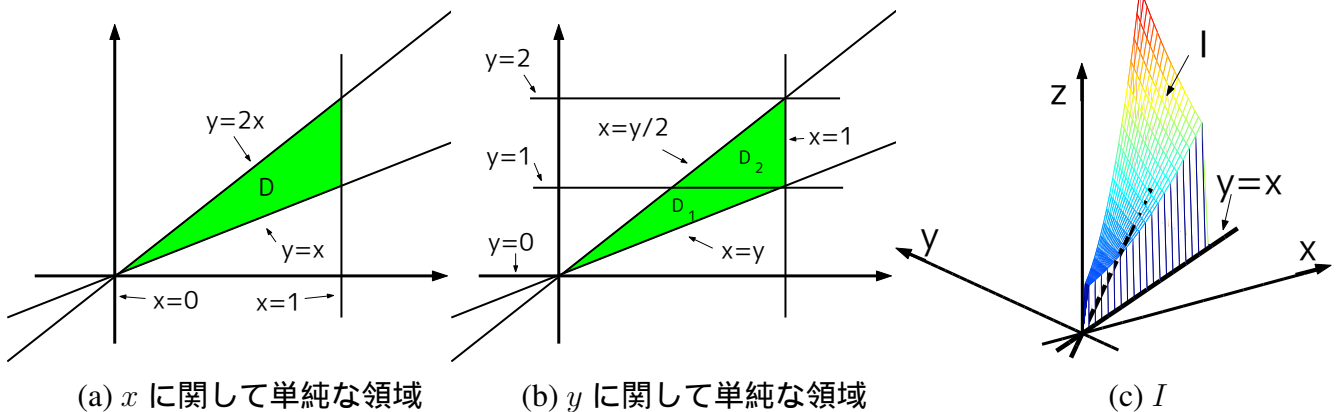
$$\iint_D (x^2 + y^2 + 1) dx dy = \iint_{D_1} (x^2 + y^2 + 1) dx dy + \iint_{D_2} (x^2 + y^2 + 1) dx dy$$

を計算せよ．

□

**問 3.19** 総領域の面積録 領域  $D$  の面積  $S = \iint_D dx dy$  を求めよ．

□



(a)  $x$  に関して単純な領域

(b)  $y$  に関して単純な領域

(c)  $I$

**例 3.20** 総累次積分録 多重積分

$$\iint_D \frac{x}{y} dx dy, \quad D = \left\{ (x, y) \mid 1 \leq y \leq 2, 0 \leq x \leq y^2 \right\}$$

を求める． $D$  は  $y$  に関して単純な領域だから，累次積分を用いて計算して，

$$I = \int_1^2 dy \int_0^{y^2} \frac{x}{y} dx = \int_1^2 \left\{ \left[ \frac{x^2}{2y} \right]_{x=0}^{x=y^2} \right\} dy = \int_1^2 \frac{y^3}{2} dy = \left[ \frac{y^4}{8} \right]_{y=1}^{y=2} = \frac{15}{8}$$

と得られる．

□



**問 3.21** 総累次積分 領域  $D$  を 2 つの  $x$  に関して単純な領域

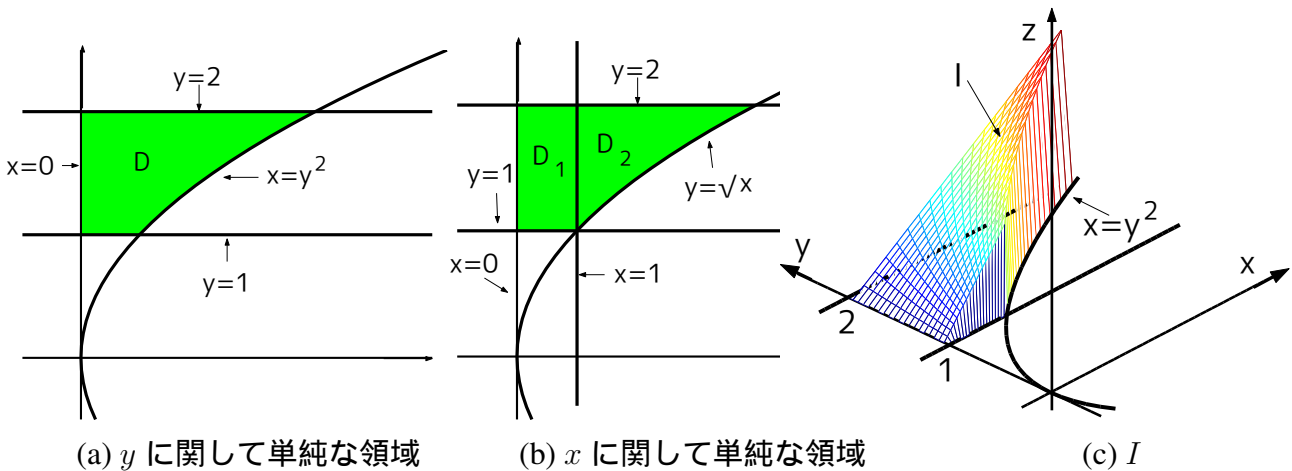
$$D_1 = \{ (x, y) \mid 0 \leq x \leq 1, 1 \leq y \leq 2 \}, \quad D_2 = \{ (x, y) \mid 1 \leq x \leq 4, \sqrt{x} \leq y \leq 2 \}$$

に  $D = D_1 + D_2$  と分ける . このとき ,

$$\iint_D (x^2 + y^2 + 1) dx dy = \iint_{D_1} (x^2 + y^2 + 1) dx dy + \iint_{D_2} (x^2 + y^2 + 1) dx dy$$

を計算せよ . □

**問 3.22** 総領域の面積 領域  $D$  の面積  $S = \iint_D dx dy$  を求めよ . □



**例 3.23** 総累次積分 多重積分

$$I = \iint_D x^2 y dx dy, \quad D = \{ (x, y) \mid x^2 + y^2 \leq 1, y \geq 0 \}$$

を求める . 領域  $D$  は半円の内部の領域であり ,

$$D = \{ (x, y) \mid -1 \leq x \leq 1, 0 \leq y \leq \sqrt{1-x^2} \}$$

と書き直すと ,  $x$  に関して単純な領域とする . 累次積分を用いて計算して ,

$$\begin{aligned} I &= \int_{-1}^1 dx \int_0^{\sqrt{1-x^2}} x^2 y dy = \int_{-1}^1 dx \left[ \frac{x^2 y^2}{2} \right]_{y=0}^{y=\sqrt{1-x^2}} = \int_{-1}^1 \frac{x^2(1-x^2)}{2} dx = \left[ \frac{x^3}{6} - \frac{x^5}{10} \right]_{x=-1}^{x=1} \\ &= 2 \left( \frac{1}{6} - \frac{1}{10} \right) = \frac{2}{15} \end{aligned}$$

と得られる . □

**問 3.24** 総累次積分 領域  $D$  を  $y$  に関して単純な領域として書けば

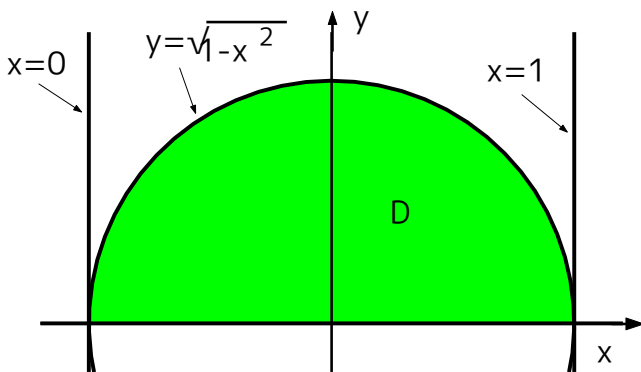
$$D = \{ (x, y) \mid 0 \leq y \leq 1, -\sqrt{1-y^2} \leq x \leq \sqrt{1-y^2} \}$$

と書ける . このとき  $I = \iint_D x^2 y dx dy$  を求めよ . □

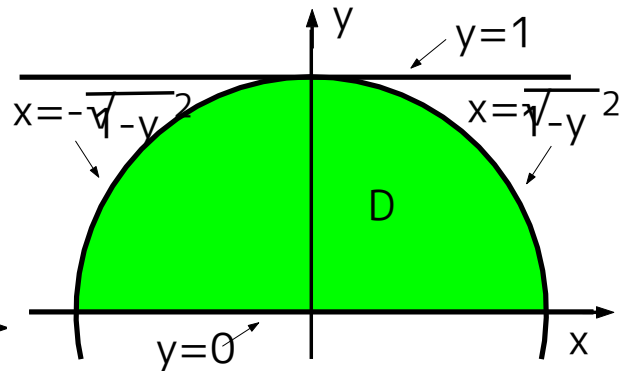
**問 3.25**

領域  $D$  の面積  $S = \iint_D dx dy$  を求めよ。

□



(a)  $x$  に関して単純な領域



(b)  $y$  に関して単純な領域

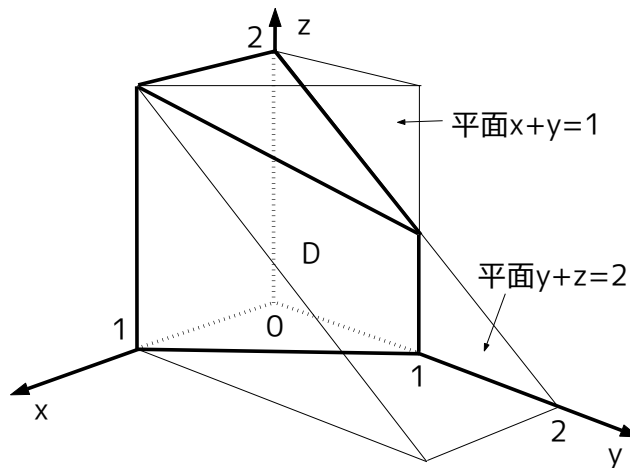
**§ 3.4 3重積分の計算**

**例 3.26**

累次積分 3重積分

$$I = \iiint_D xyz \, dx dy dz, \quad D = \{ (x, y, z) \mid 0 \leq x \leq 1, 0 \leq y \leq 1-x, 0 \leq z \leq 2-y \}$$

を求める。領域  $D$  は平面  $x=0, y=0, z=0, x+y=1, z+y=2$  で囲まれてできる領域である。



領域  $D$  は  $y$  は  $x$  に関して単純であり、 $z$  は  $x, y$  に関して単純な領域であるから、累次積分を用いて計算して、

$$\begin{aligned} I &= \int_0^1 dx \int_0^{1-x} dy \int_0^{2-y} dz xyz = \int_0^1 dx \int_0^{1-x} dy \left[ \frac{1}{2}xyz^2 \right]_{z=0}^{z=2-y} = \int_0^1 dx \int_0^{1-x} dy \frac{1}{2}xy(2-y)^2 \\ &= \int_0^1 dx \int_0^{1-x} dy \frac{1}{2}x(y^3 - 4y^2 + 4y) = \int_0^1 dx \left[ \frac{1}{2}x \left( \frac{y^4}{4} - \frac{4y^3}{3} + \frac{4y^2}{2} \right) \right]_{y=0}^{y=1-x} \end{aligned}$$

$$\begin{aligned}
&= \int_0^1 dx \frac{1}{2} x \left( \frac{(1-x)^4}{4} - \frac{4(1-x)^3}{3} + \frac{4(1-x)^2}{2} \right) = \int_0^1 dx \frac{1}{2} \left( \frac{x^5}{4} + \frac{x^4}{3} - \frac{x^3}{2} - x^2 + \frac{x}{12} \right) \\
&= \frac{1}{2} \left[ \frac{x^6}{24} + \frac{x^5}{15} - \frac{x^4}{8} - \frac{x^3}{3} + \frac{x^2}{24} \right]_{x=0}^{x=1} = \frac{13}{240}
\end{aligned}$$

と得られる .

□

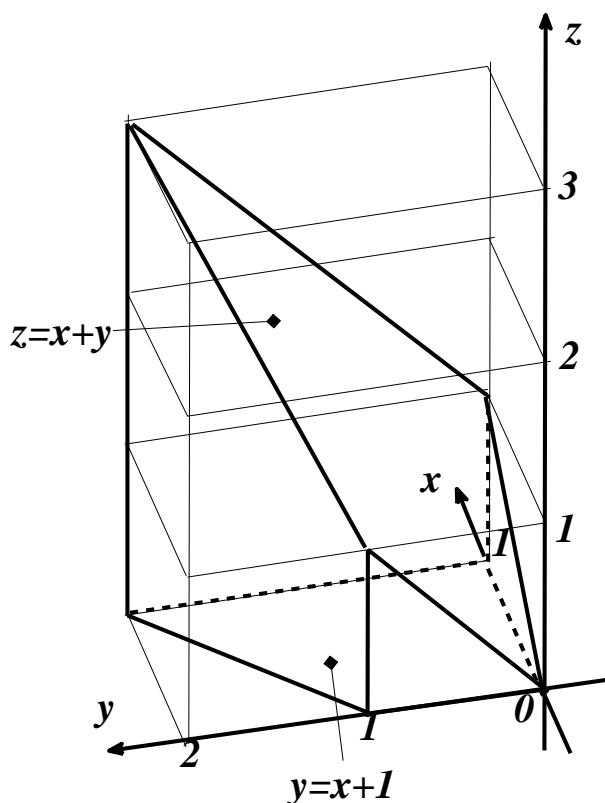
**問 3.27** 鑿領域の面積鑿 領域  $D$  の体積  $V = \iiint_D dx dy dz$  を求めよ .

□

**例 3.28** 鑿累次積分鑿 3重積分

$$I = \iiint_D z dx dy dz, \quad D = \{ (x, y, z) \mid 0 \leq x \leq 1, 0 \leq y \leq x+1, 0 \leq z \leq x+y \}$$

を求め . 領域  $D$  は平面  $x=0, x=1, y=0, z=0, y=x+1, z=x+y$  で囲まれてできる領域である .



また , 領域  $D$  は  $y$  は  $x$  に関して単純であり ,  $z$  は  $x, y$  に関して単純な領域であるから , 累次積分を用いて計算して ,

$$\begin{aligned}
I &= \int_0^1 dx \int_0^{x+1} dy \int_0^{x+y} z dz = \int_0^1 dx \int_0^{x+1} dy \left[ \frac{z^2}{2} \right]_{z=0}^{z=x+y} = \int_0^1 dx \int_0^{x+1} dy \frac{(x+y)^2}{2} \\
&= \int_0^1 dx \left[ \frac{(x+y)^3}{6} \right]_{y=0}^{y=x+1} = \int_0^1 dx \left( \frac{(2x+1)^3}{6} - \frac{x^3}{6} \right) = \left[ \frac{(2x+1)^4}{48} - \frac{x^4}{24} \right]_{x=0}^{x=1} = \frac{13}{8}
\end{aligned}$$

と得られる .

□

**問 3.29** 錐領域の面積錐 領域  $D$  を図示し, 領域  $D$  の体積  $V = \iiint_D dx dy dz$  を求めよ.  $\square$

**例 3.30** 錐累次積分錐 3重積分

$$I = \iiint_D x dx dy dz, \quad D = \{ (x, y, z) \mid x^2 + y^2 + z^2 \leq a^2, x \geq 0, y \geq 0, z \geq 0 \}$$

を求める. 領域  $D$  は原点を中心とする半径  $a$  の球の内部で  $x, y, z$  が正の領域である. 領域  $D$  は

$$D = \left\{ (x, y) \mid 0 \leq x \leq a, 0 \leq y \leq \sqrt{a^2 - x^2}, 0 \leq z \leq \sqrt{a^2 - x^2 - y^2} \right\}$$

と書き直すと, 多重積分は累次積分を用いて計算できて,

$$\begin{aligned} I &= \int_0^a x dx \int_0^{\sqrt{a^2-x^2}} dy \int_0^{\sqrt{a^2-x^2-y^2}} dz = \int_0^a x dx \int_0^{\sqrt{a^2-x^2}} dy \left[ z \right]_{z=0}^{z=\sqrt{a^2-x^2-y^2}} \\ &= \int_0^a x dx \int_0^{\sqrt{a^2-x^2}} \sqrt{a^2-x^2-y^2} dy = \int_0^a x \sqrt{a^2-x^2} dx \int_0^{\sqrt{a^2-x^2}} \sqrt{1 - \left( \frac{y}{\sqrt{a^2-x^2}} \right)^2} dy \end{aligned}$$

となる. ここで,  $y$  の定積分を  $y = \sqrt{a^2-x^2} \sin \theta$  と置換積分すると,  $\theta$  の積分区間は  $[0, \pi/2]$  であり,  $\frac{dy}{d\theta} = \sqrt{a^2-x^2} \cos \theta$  を用いると,

$$\begin{aligned} I &= \int_0^a x \sqrt{a^2-x^2} dx \int_0^{\pi/2} \sqrt{1-\sin^2 \theta} \sqrt{a^2-x^2} \cos \theta d\theta \\ &= \int_0^a x (\sqrt{a^2-x^2})^2 dx \int_0^{\pi/2} \cos^2 \theta d\theta = \frac{1}{2} \int_0^a x (a^2-x^2) dx \int_0^{\pi/2} (1+\cos 2\theta) d\theta \\ &= \frac{1}{2} \int_0^a (a^2x-x^3) dx \left[ \theta + \frac{1}{2} \sin 2\theta \right]_0^{\pi/2} = \frac{\pi}{4} \int_0^a (a^2x-x^3) dx = \frac{\pi}{4} \left[ \frac{a^2x^2}{2} - \frac{x^4}{4} \right]_0^a = \frac{\pi}{16} a^4 \end{aligned}$$

と求まる.  $\square$

## § 3.5 積分の順番の入れ替え

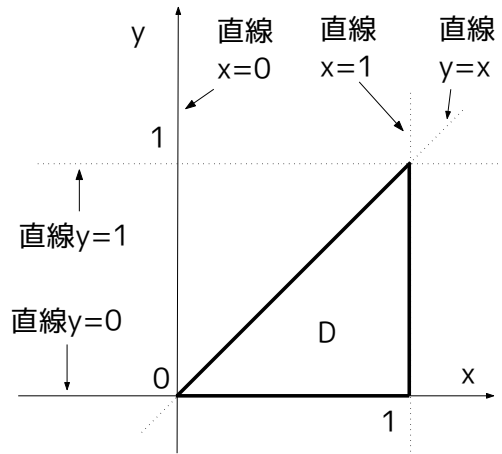
**例 3.31** 錐積分の順番の入れ替え錐 領域  $D$  は  $x$  と  $y$  の両方に関して単純な領域であり,

$$D = \{ (x, y) \mid 0 \leq x \leq 1, 0 \leq y \leq x \}, \quad D = \{ (x, y) \mid 0 \leq y \leq 1, 0 \leq x \leq y \}$$

で与えられるとする. このとき, 多重積分は

$$I = \iint_D f(x, y) dx dy = \int_0^1 dx \int_0^x dy f(x, y) = \int_0^1 dy \int_y^1 dx f(x, y)$$

と書ける.



□

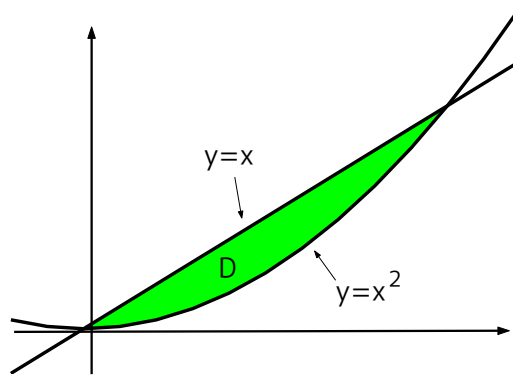
**例 3.32** 鑑積分の順番の入れ替え鑑 領域  $D$  が  $x$  と  $y$  の両方に関して単純な領域であり、

$$D = \{ (x, y) \mid 0 \leq x \leq 1, x^2 \leq y \leq x \}, \quad D = \{ (x, y) \mid 0 \leq y \leq 1, y \leq x \leq \sqrt{y} \}$$

で与えられるとする。このとき、多重積分は

$$I = \iint_D f(x, y) dx dy = \int_0^1 dx \int_{x^2}^x dy f(x, y) = \int_0^1 dy \int_y^{\sqrt{y}} dx f(x, y)$$

と書ける。



□

**例 3.33** 鑑積分の順番の入れ替え鑑 領域

$$D = \{ (x, y) \mid 0 \leq y \leq 4, y - 2 \leq x \leq \sqrt{y} \}$$

は  $y$  に関して単純な領域である。  $x$  に関して単純な領域に書き換えると

$$D = D_1 + D_2,$$

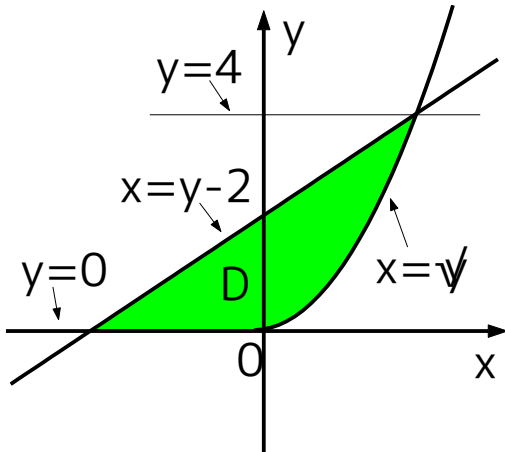
$$D_1 = \{ (x, y) \mid -2 \leq x \leq 0, 0 \leq y \leq x + 2 \},$$

$$D_2 = \{ (x, y) \mid 0 \leq x \leq 2, x^2 \leq y \leq x + 2 \}$$

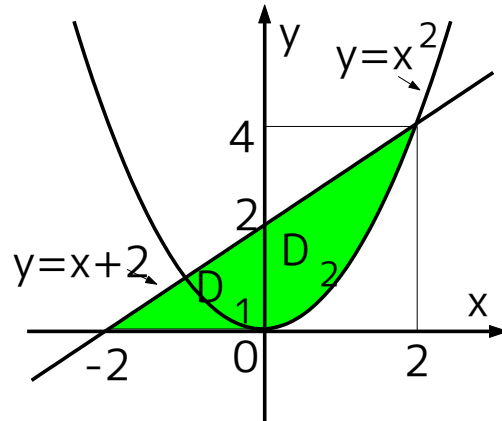
となる．このとき

$$\int_0^4 dy \int_{y-2}^{\sqrt{y}} f(x, y) dx = \int_{-2}^0 dx \int_0^{x+2} f(x, y) dy + \int_0^2 dx \int_{x^2}^{x+2} f(x, y) dy$$

が成り立つ．



(a)  $y$  に関して単純な領域



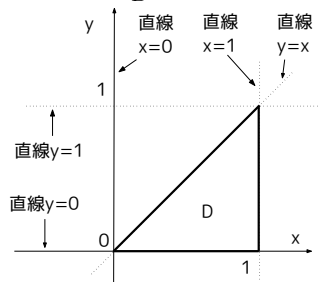
(b)  $x$  に関して単純な領域

□

## § 3.6 演習問題 ~ 多重積分, 累次積分, 積分の順序の交換

**問 3.34** 総累次積分 下図の領域  $D$  は (i)  $x$  に関する単純な領域, (ii)  $y$  に関する単純な領域とみることができる. (i), (ii) の場合それぞれにおいて次の多重積分を計算せよ.

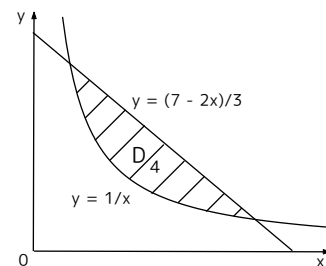
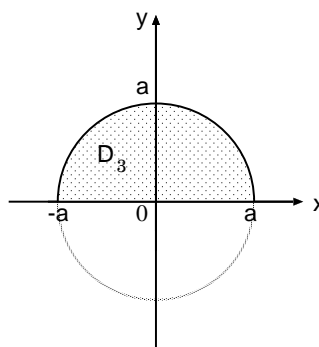
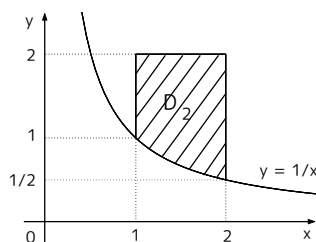
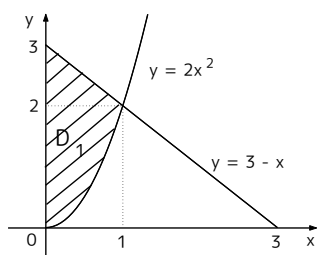
(1)  $\iint_D dx dy$     (2)  $\iint_D x^2 y dx dy$



□

**問 3.35** 総累次積分 次の多重積分を計算せよ.

(1)  $\iint_{D_1} (2 - x + y) dx dy$     (2)  $\iint_{D_2} ye^{xy} dx dy$     (3)  $\iint_{D_3} x^2 y dx dy$     (4)  $\iint_{D_4} (x^3 - 3xy) dx dy$



□

**問 3.36** 総累次積分 積分領域を図示し, 多重積分を計算せよ.

(1)  $\iint_D (x^2 + y^2 + 1) dx dy, D = \{ (x, y) \mid 0 \leq x \leq 1, x \leq y \leq 2x \}$

(2)  $\iint_D \frac{x}{y} dx dy, D = \{ (x, y) \mid 1 \leq y \leq 2, 0 \leq x \leq y^2 \}$

(3)  $\iint_D x^2 y dx dy, D = \{ (x, y) \mid x^2 + y^2 \leq 1, y \geq 0 \}$

(4)  $\iiint_D xyz dx dy dz, D = \{ (x, y, z) \mid 0 \leq x \leq 1, 0 \leq y \leq 1 - x, 0 \leq z \leq 2 - y \}$

(5)  $\iiint_D z dx dy dz, D = \{ (x, y, z) \mid 0 \leq x \leq 1, 0 \leq y \leq x + 1, 0 \leq z \leq x + y \}$

(6)  $\int_0^2 dx \int_{x^2}^{2x} xe^y dy$     (7)  $\int_0^1 dy \int_0^{\pi/2} y \sin xy dx$

(8)  $\iint_D (2x - y) dx dy, D = \{ (x, y) \mid 0 \leq x \leq 1, 1 \leq y \leq 2 \}$

- (9)  $\iint_D (3x - 2y) dx dy, D = \{ (x, y) \mid 0 \leq x \leq 1, 1 \leq y \leq 2 \}$
- (10)  $\iint_D (x^2 + y^2) dx dy, D = \{ (x, y) \mid 0 \leq x \leq 1, 0 \leq y \leq 1 \}$
- (11)  $\iint_D (x^2 y + y^2) dx dy, D = \{ (x, y) \mid 1 \leq x \leq 2, 2 \leq y \leq 3 \}$
- (12)  $\iint_D x e^{x+y} dx dy, D = \{ (x, y) \mid 0 \leq x \leq 3, 0 \leq y \leq 2 \}$
- (13)  $\iint_D \sin(2x + y) dx dy, D = \{ (x, y) \mid 0 \leq x \leq \pi/2, 0 \leq y \leq \pi/2 \}$
- (14)  $\iint_D x^2 \sin(xy) dx dy, D = \{ (x, y) \mid 0 \leq x \leq \pi/2, 0 \leq y \leq 1 \}$
- (15)  $\iint_D x \cos(x + y) dx dy, D = \{ (x, y) \mid 0 \leq x \leq \pi/2, 0 \leq y \leq 1 \}$
- (16)  $\iint_D x e^y dx dy, D = \{ (x, y) \mid 0 \leq x \leq 2, x^2 \leq y \leq 2x \}$
- (17)  $\iint_D x y^2 dx dy, D = \{ (x, y) \mid 0 \leq y \leq x \leq 1 \}$
- (18)  $\iint_D (2x - y) dx dy, D = \{ (x, y) \mid x \leq y \leq 2x, x + y \leq 3 \}$
- (19)  $\iint_D r dr d\theta, D = \{ (r, \theta) \mid 0 \leq r \leq a \sin \theta, 0 \leq \theta \leq \pi/2 \}$
- (20)  $\iint_D dx dy = \pi, D = \{ (x, y) \mid x^2 + y^2 \leq 1 \}$  となることを示せ .
- (21)  $\iint_D x dx dy, D = \{ (x, y) \mid x^2 + y^2 \leq 1, x \geq 0 \}$
- (22)  $\iint_D \sqrt{a^2 - y^2} dx dy, D = \{ (x, y) \mid x^2 + y^2 \leq a^2 \} (a > 0)$
- (23)  $\iint_D x^2 y dx dy, D = \{ (x, y) \mid x^2 + y^2 \leq a^2, y \geq 0 \} (a > 0)$
- (24)  $\iiint_D z dx dy dz, D = \{ (x, y, z) \mid 0 \leq x \leq 1, 0 \leq y \leq 1 - x, 0 \leq z \leq 1 - x - y \}$
- (25)  $\iiint_D y dx dy dz, D = \{ (x, y, z) \mid x \geq 0, y \geq 0, z \geq 0, x + 2y + 3z \leq 6 \}$
- (26)  $\iiint_D y \sin(x + z) dx dy dz, D = \{ (x, y, z) \mid 0 \leq x \leq \pi/2, 0 \leq y \leq \sqrt{x}, 0 \leq z \leq \pi/2 - x \}$
- (27)  $\iiint_D (xy + yz + zx) dx dy dz, D = \{ (x, y, z) \mid 0 \leq x \leq 1, 0 \leq y \leq x, 0 \leq z \leq y \}$
- (28)  $\iiint_D 2xz dx dy dz, D = \{ (x, y, z) \mid 0 \leq x \leq 1, 0 \leq y \leq x, 0 \leq z \leq \sqrt{2 - x^2 - y^2} \}$

□

**問 3.37** 二重積分の順序の交換 二重積分の順序の交換 □ を埋めて次の式を完成させよ . ただし  $D_4$  は上記の図の領域とする .

$$\iint_{D_4} f(x, y) dx dy = \int_{\square} dx \int_{\square} dy f(x, y) = \int_{\square} dy \int_{\square} dx f(x, y)$$

□



**問 3.38**

二重積分の順序の交換 次の積分の領域を図示し、積分の順序を変更せよ。

- (1)  $\int_0^1 dx \int_0^x dy f(x, y)$     (2)  $\int_0^1 dx \int_{x^2}^x dy f(x, y)$     (3)  $\int_0^4 dy \int_{y-2}^{\sqrt{y}} f(x, y) dx$   
(4)  $\int_0^1 dy \int_{y-1}^{-y+1} f(x, y) dx$     (5)  $\int_{-1}^1 dx \int_0^{2\sqrt{1-x^2}} f(x, y) dy$     (6)  $\int_{-2}^1 dx \int_{x^2}^{-x+2} f(x, y) dy$   
(7)  $\int_0^4 dy \int_y^{2\sqrt{y}} f(x, y) dx$

□

## § 3.7 長方形領域における積分

**定理 3.39** 鏹長方形領域における多重積分鏹 領域  $D$  が長方形領域

$$D = \{ (x, y) \mid a \leq x \leq b, c \leq y \leq d \}$$

のとき,

$$\iint_D f(x, y) dx dy = \int_a^b dx \int_c^d f(x, y) dy = \int_c^d dy \int_a^b f(x, y) dx$$

が成り立つ.

□

**注意 3.40** 鏹長方形領域における多重積分鏹 長方形領域であれば  $x$  と  $y$  の積分の順が交換可能である.

□

**例 3.41** 鏹長方形領域における多重積分鏹 多重積分

$$I = \iint_D (x + y) dx dy, \quad D = \{ (x, y) \mid 0 \leq x \leq 1, 1 \leq y \leq 2 \}$$

を求める.  $y, x$  の順で積分すると

$$I = \int_0^1 dx \int_1^2 (x + y) dy = \int_0^1 dx \left[ xy + \frac{y^2}{2} \right]_{y=1}^{y=2} = \int_0^1 dx \left( x + \frac{3}{2} \right) = \left[ \frac{x^2}{2} + \frac{3x}{2} \right]_{x=0}^{x=1} = 2$$

となる. 逆に  $x, y$  の順で積分すると

$$I = \int_1^2 dy \int_0^1 (x + y) dx = \int_1^2 dy \left[ \frac{x^2}{2} + xy \right]_{x=0}^{x=1} = \int_1^2 \left( \frac{1}{2} + y \right) dy = \left[ \frac{y}{2} + \frac{y^2}{2} \right]_{y=1}^{y=2} = 2$$

となる. 積分の順を入れ替えても結果は同じである.

□

**問 3.42** 鏹長方形領域における多重積分鏹 多重積分

$$I = \iint_D (2x - y) dx dy, \quad D = \{ (x, y) \mid 0 \leq y \leq 1, 1 \leq x \leq 2 \}$$

を求めよ.

□

**定理 3.43** 鏢長方形領域における多重積分鏢 領域  $D$  が長方形領域

$$D = \{ (x, y) \mid a \leq x \leq b, c \leq y \leq d \}$$

であり，被積分関数が変数分離型  $f(x)g(y)$  のとき，

$$\iint_D f(x)g(y) dx dy = \int_a^b f(x) dx \int_c^d g(y) dy = \left( \int_a^b f(x) dx \right) \left( \int_c^d g(y) dy \right)$$

が成り立つ．

□

**例 3.44** 鏢長方形領域における多重積分鏢 多重積分

$$I = \iint_D xy dx dy, \quad D = \{ (x, y) \mid 1 \leq x \leq 2, 3 \leq y \leq 4 \}$$

を求める．長方形領域で被積分関数は変数分離型であるから，

$$\begin{aligned} I &= \int_1^2 x dx \int_3^4 y dy = \left( \int_1^2 x dx \right) \left( \int_3^4 y dy \right) = \left[ \frac{x^2}{2} \right]_{x=1}^{x=2} \times \left[ \frac{y^2}{2} \right]_{y=3}^{y=4} \\ &= \frac{4-1}{2} \times \frac{16-9}{2} = \frac{21}{4} \end{aligned}$$

となる．

□

## § 3.8 多重積分の置換積分

**注意 3.45** 鏢定積分の置換積分鏢 定積分において積分変数を  $x = \phi(t)$  と置き換えると

$$\int_a^b f(x) dx = \int_\alpha^\beta f(x) \frac{dx}{dt} dt = \int_\alpha^\beta f(\phi(t)) \phi'(t) dt$$

となる．ただし， $\alpha = \phi^{-1}(a)$ ， $\beta = \phi^{-1}(b)$  である．

□

**定理 3.46** 鏢多重積分の置換積分鏢 多重積分

$$\iint_D f(x, y) dx dy$$

において積分変数を  $x = \phi(u, v)$ ， $y = \psi(u, v)$  と置き換える．このとき，

$$\iint_D f(x, y) dx dy = \iint_E f(\phi(u, v), \psi(u, v)) \left| \frac{\partial(x, y)}{\partial(u, v)} \right| du dv$$

となる．ただし， $\frac{\partial(x, y)}{\partial(u, v)}$  はヤコビアン

$$\frac{\partial(x, y)}{\partial(u, v)} = \det \begin{bmatrix} \frac{\partial x}{\partial u} & \frac{\partial x}{\partial v} \\ \frac{\partial y}{\partial u} & \frac{\partial y}{\partial v} \end{bmatrix} = \begin{vmatrix} \phi_u(u, v) & \phi_v(u, v) \\ \psi_u(u, v) & \psi_v(u, v) \end{vmatrix}$$

であり,  $E$  は  $(u, v)$  の領域

$$E = \{ (u, v) \mid x = \phi(u, v), y = \psi(u, v), \forall (u, v) \in D \}$$

である.

(証明)  $xy$  座標の点  $(x, y), (x + \Delta x, y + \Delta y)$  は標準基底  $e_x, e_y$  を用いて,

$$\begin{bmatrix} x \\ y \end{bmatrix} = xe_x + ye_y, \quad \begin{bmatrix} x + \Delta x \\ y + \Delta y \end{bmatrix} = (x + \Delta x)e_x + (y + \Delta y)e_y, \quad e_x = \begin{bmatrix} 1 \\ 0 \end{bmatrix}, \quad e_y = \begin{bmatrix} 0 \\ 1 \end{bmatrix}$$

と表される.  $uv$  座標に座標変換すると,

$$x = \phi(u, v), \quad y = \psi(u, v), \quad x + \Delta x = \phi(u + \Delta u, v + \Delta v), \quad y + \Delta y = \psi(u + \Delta u, v + \Delta v)$$

とおける. このとき,  $\Delta x, \Delta y$  は十分小さいとすると,  $\Delta u, \Delta v$  も十分小さいので, テイラー展開して

$$\begin{aligned} x + \Delta x &= \phi(u, v) + \phi_u(u, v)\Delta u + \phi_v(u, v)\Delta v + \dots, \\ y + \Delta y &= \psi(u, v) + \psi_u(u, v)\Delta u + \psi_v(u, v)\Delta v + \dots \end{aligned}$$

と書ける.  $x = \phi(u, v), y = \psi(u, v)$  であることに注意すると

$$\Delta xe_x + \Delta ye_y = \begin{bmatrix} \Delta x \\ \Delta y \end{bmatrix} = \Delta u \begin{bmatrix} \phi_u(u, v) \\ \psi_u(u, v) \end{bmatrix} + \Delta v \begin{bmatrix} \phi_v(u, v) \\ \psi_v(u, v) \end{bmatrix} + \dots = \Delta ue_u + \Delta ve_v + \dots$$

が成り立つ. ここで, ベクトル

$$e_u = \begin{bmatrix} \phi_u(u, v) \\ \psi_u(u, v) \end{bmatrix}, \quad e_v = \begin{bmatrix} \phi_v(u, v) \\ \psi_v(u, v) \end{bmatrix}$$

は点  $(u, v)$  における  $uv$  座標の基底となる.

頂点が  $A(x, y), B(x + \Delta x, y), C(x, y + \Delta y), D(x + \Delta x, y + \Delta y)$  からなる長方形の微小領域の面積は  $\Delta S = \Delta x \Delta y$  である. 一方,  $uv$  座標において頂点が  $A'(u, v), B'(u + \Delta u, v), C'(u, v + \Delta v), D'(u + \Delta u, v + \Delta v)$  からなる領域は平行四辺形である. 平行四辺形  $A'B'C'D'$  の面積は,  $\overrightarrow{A'B'} = \Delta ue_u, \overrightarrow{A'C'} = \Delta ve_v$  より,

$$\Delta S = \text{abs} \left( \det \begin{bmatrix} \Delta ue_u & \Delta ve_v \end{bmatrix} \right) = \text{abs} \left( \begin{vmatrix} \Delta u \phi_u & \Delta v \phi_v \\ \Delta u \psi_u & \Delta v \psi_v \end{vmatrix} \right) = \text{abs} \left( \frac{\partial(x, y)}{\partial(u, v)} \right) \Delta u \Delta v$$

となる. 極限  $\Delta x, \Delta y \rightarrow 0$  においてもこれが成り立つので,

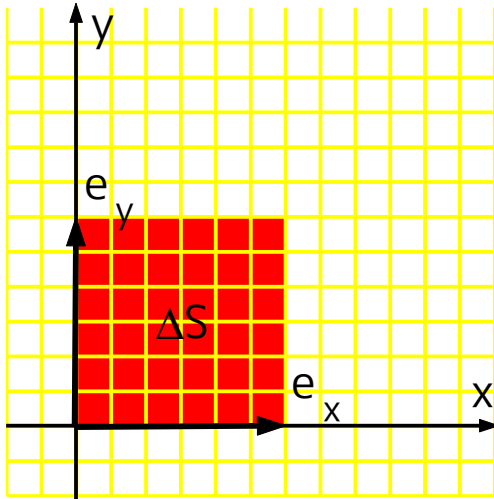
$$dS = dx dy = \text{abs} \left( \frac{\partial(x, y)}{\partial(u, v)} \right) du dv$$

を得る.

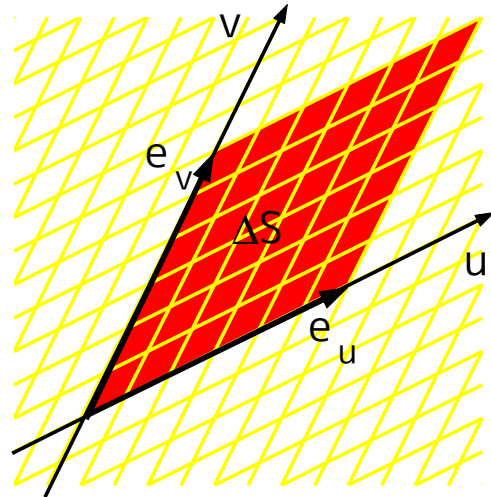
□

**注意 3.47**

鋸置換積分 1変数関数の定積分では  $dx = \phi'(t)dt$  に絶対値はつかない．これは積分区間  $[a, b]$  に向きを考えているためである．例えば， $a > b$  のとき定積分の値の符号は反転される．多重積分では， $dxdy = \left| \frac{\partial(x,y)}{\partial(u,v)} \right| dudv$  に絶対値がつく．これは面積要素に向きを考えないためである． □



(a)  $xy$  座標



(b)  $uv$  座標

### § 3.9 斜交座標への置換積分

**例 3.48**

鋸多重積分の変数変換 多重積分

$$\iint_D (x - y)^2 dxdy, \quad D = \{ (x, y) \mid |x + 2y| \leq 1, |x - y| \leq 1 \}$$

を求める．積分変数を

$$u = x + 2y, \quad v = x - y$$

とおく．この逆は

$$x = \frac{u + 2v}{3}, \quad y = \frac{u - v}{3}$$

である．このとき領域  $D$  を  $(u, v)$  で表すと

$$E = \{ (u, v) \mid |u| \leq 1, |v| \leq 1 \}$$

となる．座標変換  $(x, y) \mapsto (u, v)$  のヤコビアンは

$$\frac{\partial(x, y)}{\partial(u, v)} = \det \begin{bmatrix} x_u & x_v \\ y_u & y_v \end{bmatrix} = \begin{vmatrix} \frac{1}{3} & \frac{2}{3} \\ \frac{1}{3} & -\frac{1}{3} \end{vmatrix} = -\frac{1}{3}$$

である．これらより，

$$\begin{aligned} \iint_D (x-y)^2 dx dy &= \iint_E \left( \frac{u+2v}{3} - \frac{u-v}{3} \right)^2 \left| \frac{\partial(x,y)}{\partial(u,v)} \right| dudv = \iint_E v^2 \left| \frac{-1}{3} \right| dudv \\ &= \frac{1}{3} \iint_E v^2 dudv = \frac{1}{3} \int_{-1}^1 v^2 dv \int_{-1}^1 du = \frac{1}{3} \left( \int_{-1}^1 v^2 dv \right) \left( \int_{-1}^1 du \right) = \frac{4}{3} \left( \int_0^1 v^2 dv \right) \left( \int_0^1 du \right) \\ &= \frac{4}{3} \left[ \frac{v^3}{3} \right]_0^1 \times \left[ u \right]_0^1 = \frac{4}{9} \end{aligned}$$

を得る．

□

**注意 3.49**

錐面素錐 置換積分により面素は  $dS = dx dy = \frac{1}{3} dudv$  と変換される．直交座標  $xy$  では微小面積は，辺の長さが  $dx, dy$  の長方形の面積  $dS = dx dy$  である．これに対して斜交座標  $uv$  の微小面積は，辺の長さが  $du, dv$  の平行四辺形の面積  $dS = \frac{1}{3} dudv$  である．これを示す． $uv$  座標の基底は

$$\mathbf{e}_u = \begin{bmatrix} x_u \\ y_u \end{bmatrix} = \frac{1}{3} \begin{bmatrix} 1 \\ 1 \end{bmatrix}, \quad \mathbf{e}_v = \begin{bmatrix} x_v \\ y_v \end{bmatrix} = \frac{1}{3} \begin{bmatrix} 2 \\ -1 \end{bmatrix}$$

であり，点  $O, A(\mathbf{e}_u), B(\mathbf{e}_v), C(\mathbf{e}_u + \mathbf{e}_v)$  からなる平行四辺形の面積は

$$S_0 = \text{abs} \left( \det \begin{bmatrix} \mathbf{e}_u & \mathbf{e}_v \end{bmatrix} \right) = \text{abs} \left( \frac{\partial(x,y)}{\partial(u,v)} \right) = \text{abs} \left( \begin{vmatrix} \frac{1}{3} & \frac{2}{3} \\ \frac{1}{3} & \frac{-1}{3} \end{vmatrix} \right) = \text{abs} \left( -\frac{1}{3} \right) = \frac{1}{3}$$

である．ここで  $\text{abs}(x) = |x|$  とおいた．面素  $dudv$  は辺の長さが  $du, dv$  で平行四辺形  $OABC$  と相似な図形であるから，面素  $dudv$  の面積  $dS$  は

$$dS = S_0 dudv = \frac{1}{3} dudv$$

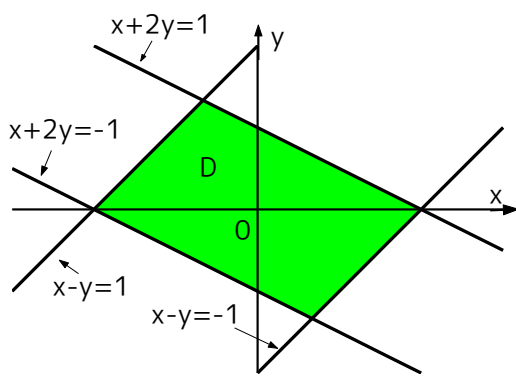
と得られる．

□

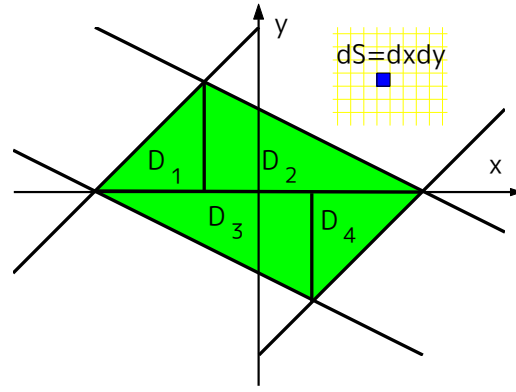
**問 3.50**

錐多重積分の変数変換錐 領域  $D$  を下図 (b) のように 4 つに分割し多重積分を求めよ．

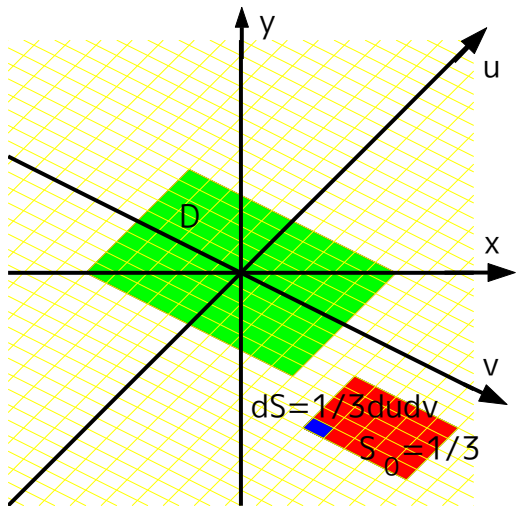
□



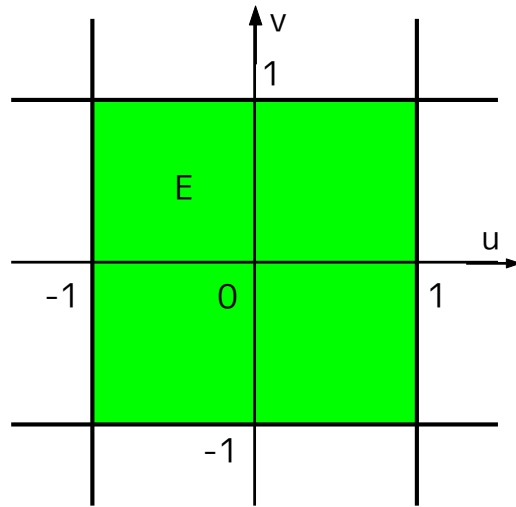
(a) 領域  $D$



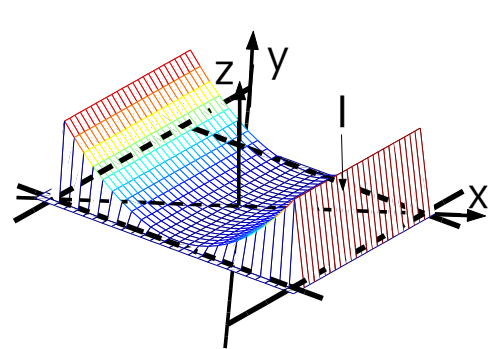
(b) 領域  $D$  の分割



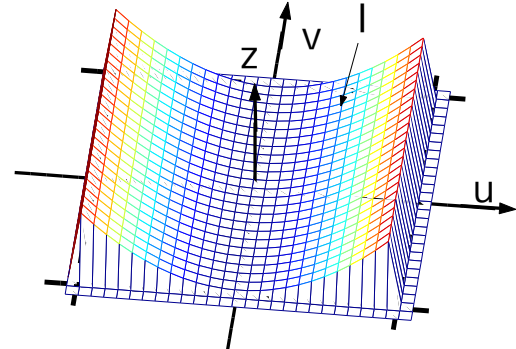
(c)  $uv$  座標



(d) 領域  $E$



(e)  $xy$  座標での  $I$



(f)  $uv$  座標での  $I$

### § 3.10 極座標への置換積分

例 3.51 二重積分の変数変換 二重積分

$$I = \iint_D (x^2 + y^2) dx dy, \quad D = \{ (x, y) \mid x^2 + y^2 \leq a^2 \} \quad (a > 0)$$

を求める．積分変数を

$$x = r \cos \theta, \quad y = r \sin \theta$$

とおく．このとき極座標への座標変換のヤコビアンは

$$\frac{\partial(x, y)}{\partial(r, \theta)} = \det \begin{bmatrix} x_r & x_\theta \\ y_r & y_\theta \end{bmatrix} = \begin{vmatrix} \cos \theta & -r \sin \theta \\ \sin \theta & r \cos \theta \end{vmatrix} = r$$

であり，領域  $D$  を  $(r, \theta)$  で表すと，

$$E = \{ (r, \theta) \mid 0 \leq r \leq a, 0 \leq \theta \leq 2\pi \}$$

となる．これらより，

$$\begin{aligned} \iint_D (x^2 + y^2) dx dy &= \iint_E ((r \cos \theta)^2 + (r \sin \theta)^2) \left| \frac{\partial(x, y)}{\partial(r, \theta)} \right| dr d\theta = \iint_E r^3 dr d\theta \\ &= \int_0^{2\pi} d\theta \int_0^a r^3 dr = \left( \int_0^{2\pi} d\theta \right) \left( \int_0^a r^3 dr \right) = \left[ \theta \right]_0^{2\pi} \times \left[ \frac{r^4}{4} \right]_0^a = \frac{\pi a^4}{2} \end{aligned}$$

を得る．

□

**注意 3.52**

極座標の面素 直交座標  $xy$  から極座標  $r\theta$  への変換で，面素は  $dS = dx dy = r dr d\theta$  と変換される． $xy$  座標では辺の長さが  $dx$  と  $dy$  の長方形の面積であり， $r\theta$  座標では辺の長さが  $dr$  と  $r d\theta$  (半径  $r$ ，角  $d\theta$  の円弧の長さ) の長方形の面積となる．

□

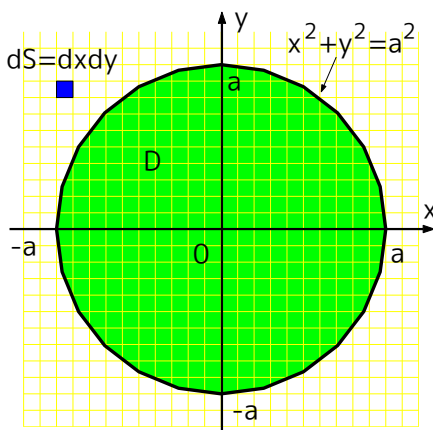
**問 3.53**

多重積分の変数変換 領域  $D$  を  $x$  に関して単純な領域とみなし，多重積分を

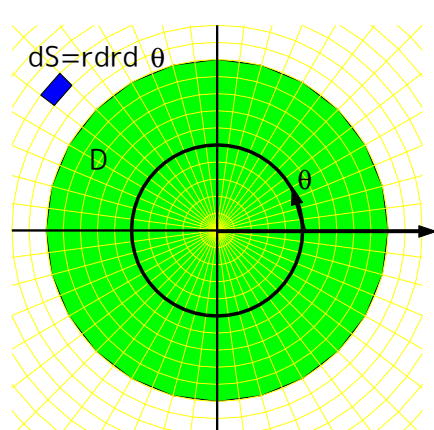
$$I = \int_{-1}^1 dx \int_{-\sqrt{1-x^2}}^{\sqrt{1-x^2}} dy (x^2 + y^2)$$

により求めよ．

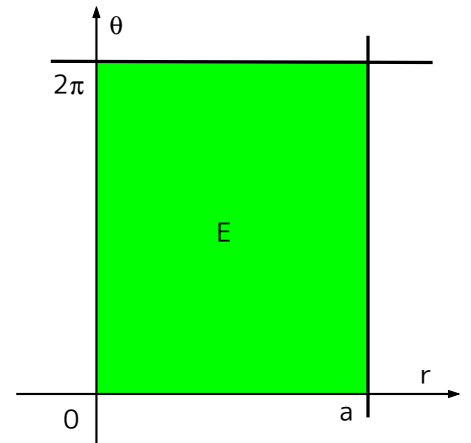
□



(a) 領域  $D$

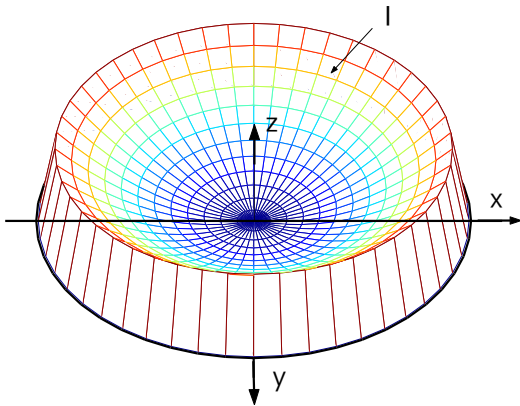


(b)  $r\theta$  座標

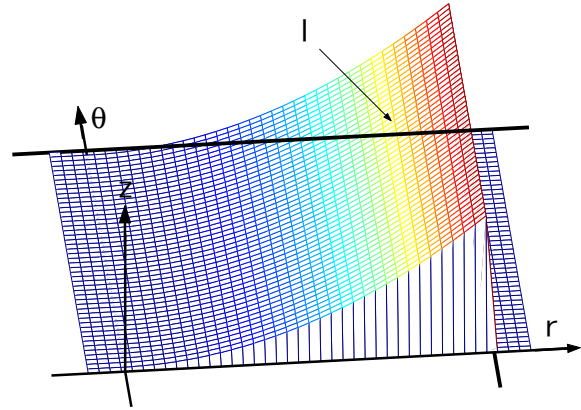


(c) 領域  $E$





(d)  $xy$  座標での  $I$



(e)  $r\theta$  座標での  $I$

**例 3.54** 総多重積分の変数変換総 多重積分

$$I = \iint_D x \, dx \, dy, \quad D = \{ (x, y, z) \mid x^2 + y^2 \leq ax \}$$

を計算する．ここで，2次元の極座標  $x = r \cos \theta, y = r \sin \theta$  を用いると，領域  $D$  は  $(r, \theta)$  座標では領域

$$E = \left\{ (r, \theta) \mid -\frac{\pi}{2} \leq \theta \leq \frac{\pi}{2}, 0 \leq r \leq a \cos \theta \right\}$$

となる．多重積分を置換積分し， $\theta$  に関して単純な領域であることに注意して計算すると，

$$\begin{aligned} I &= \iiint_E r \cos \theta \, r \, dr \, d\theta = \int_{-\pi/2}^{\pi/2} \cos \theta \, d\theta \int_0^{a \cos \theta} r^2 \, dr = \int_{-\pi/2}^{\pi/2} \cos \theta \, d\theta \left[ \frac{r^3}{3} \right]_{r=0}^{r=a \cos \theta} \\ &= \frac{a^3}{3} \int_{-\pi/2}^{\pi/2} \cos^4 \theta \, d\theta \end{aligned}$$

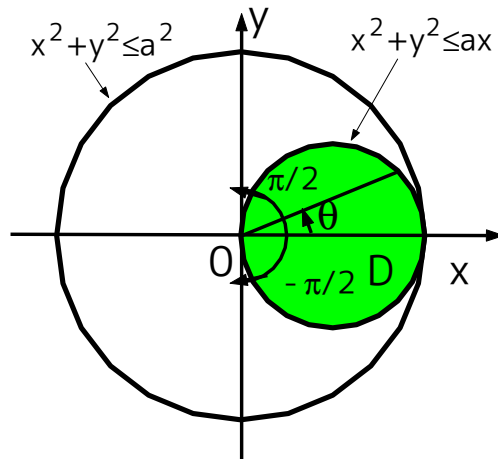
となる．ここで，

$$\begin{aligned} \cos^4 \theta &= \cos^2 \theta (1 - \sin^2 \theta) = \cos^2 \theta - (\sin \theta \cos \theta)^2 = \cos^2 \theta - \frac{1}{4} \sin^2 2\theta \\ &= \frac{1}{2} + \frac{1}{2} \cos 2\theta - \frac{1}{4} \left( \frac{1}{2} - \frac{1}{2} \cos 4\theta \right) = \frac{3}{8} + \frac{1}{2} \cos 2\theta + \frac{1}{8} \cos 4\theta \end{aligned}$$

を用いると，

$$I = \frac{a^3}{3} \left[ \frac{3}{8} \theta + \frac{1}{4} \sin 2\theta + \frac{1}{32} \sin 4\theta \right]_{-\pi/2}^{\pi/2} = \frac{\pi}{8} a^3$$

と求まる．



□

**例 3.55** 楕円多重積分の変数変換 楕円多重積分

$$I = \iint_D x \, dx \, dy, \quad D = \{ (x, y, z) \mid x^2 + y^2 \leq ax \}$$

を計算する．領域  $D$  は

$$D = \{ (x, y, z) \mid (x - a/2)^2 + y^2 \leq (a/2)^2 \}$$

と書けるので，中心  $(a/2, 0)$  で半径  $a/2$  の円の内部の領域である．ここで，座標変換  $x = a/2 + r \cos \theta$ ,  $y = r \sin \theta$  を考える．このとき，領域  $D$  は  $(r, \theta)$  座標で，

$$E = \{ (r, \theta) \mid 0 \leq \theta \leq 2\pi, 0 \leq r \leq a/2 \}$$

となる．ヤコビアンは

$$\frac{\partial(x, y)}{\partial(r, \theta)} = \det \begin{bmatrix} x_r & x_\theta \\ y_r & y_\theta \end{bmatrix} = \begin{vmatrix} \cos \theta & -r \sin \theta \\ \sin \theta & r \cos \theta \end{vmatrix} = r$$

となる．多重積分を置換積分すると，

$$\begin{aligned} I &= \iiint_E \left( \frac{a}{2} + r \cos \theta \right) r \, dr \, d\theta = \frac{a}{2} \int_0^{a/2} r \, dr \int_0^{2\pi} d\theta + \int_0^{a/2} r^2 \, dr \int_0^{2\pi} \cos \theta \, d\theta \\ &= \frac{a}{2} \left[ \frac{r^2}{2} \right]_0^{a/2} \times \left[ \theta \right]_0^{2\pi} + \left[ \frac{r^3}{3} \right]_0^{a/2} \times \left[ \sin \theta \right]_0^{2\pi} = \frac{\pi a^3}{8} + 0 = \frac{\pi}{8} a^3 \end{aligned}$$

を得る．

□

### § 3.11 3次元極座標への置換積分

**例 3.56** 錐多重積分の変数変換 錐 多重積分

$$I = \iiint_D (x^2 + y^2 + z^2) dx dy dz, \quad D = \{ (x, y, z) \mid x^2 + y^2 + z^2 \leq a^2 \} \quad (a > 0)$$

を求める．積分変数を

$$x = r \sin \theta \cos \varphi, \quad y = r \sin \theta \sin \varphi, \quad z = r \cos \theta$$

とおく．このとき極座標への座標変換のヤコビアンは

$$\frac{\partial(x, y, z)}{\partial(r, \theta, \varphi)} = \det \begin{bmatrix} x_r & x_\theta & x_\varphi \\ y_r & y_\theta & y_\varphi \\ z_r & z_\theta & z_\varphi \end{bmatrix} = \begin{vmatrix} \sin \theta \cos \varphi & r \cos \theta \cos \varphi & -r \sin \theta \sin \varphi \\ \sin \theta \sin \varphi & r \cos \theta \sin \varphi & r \sin \theta \cos \varphi \\ \cos \theta & -r \sin \theta & 0 \end{vmatrix} = r^2 \sin \theta$$

であるから，体積素は

$$dx dy dz = r^2 \sin \theta dr d\theta d\varphi$$

と表される．領域  $D$  を  $(r, \theta, \varphi)$  で表すと，

$$E = \{ (r, \theta, \varphi) \mid 0 \leq r \leq a, 0 \leq \theta \leq \pi, 0 \leq \varphi \leq 2\pi \}$$

となる．これらより，

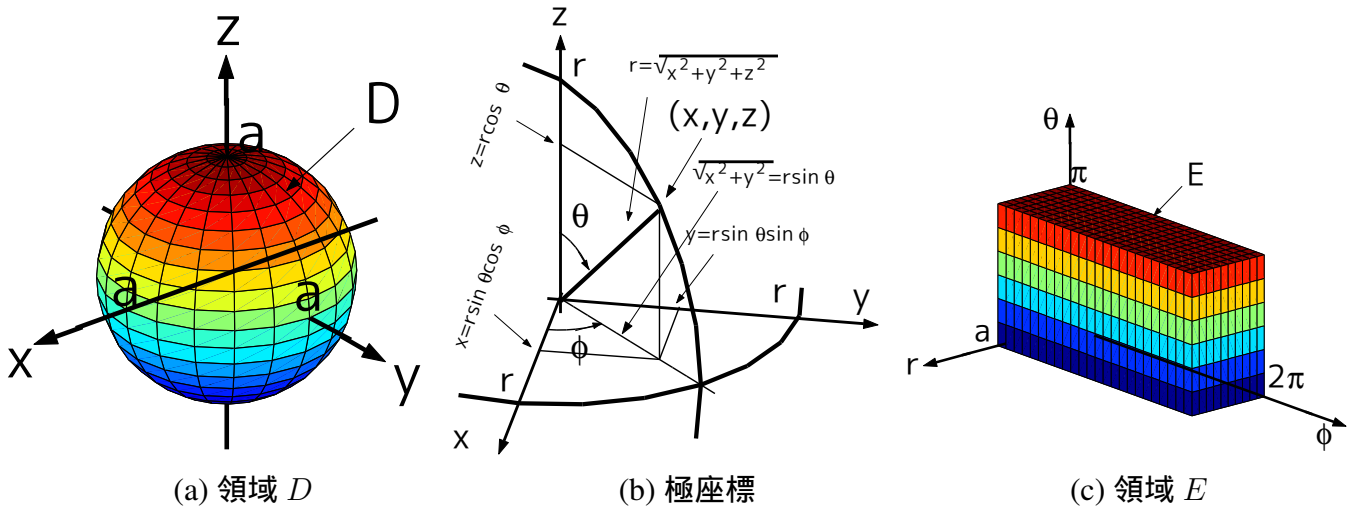
$$\begin{aligned} \iiint_D (x^2 + y^2 + z^2) dx dy dz &= \iiint_E ((r \sin \theta \cos \varphi)^2 + (r \sin \theta \sin \varphi)^2 + (r \cos \theta)^2) r^2 \sin \theta dr d\theta d\varphi \\ &= \iiint_E r^4 \sin \theta dr d\theta d\varphi = \int_0^{2\pi} d\varphi \int_0^\pi \sin \theta d\theta \int_0^a r^4 dr = \left( \int_0^{2\pi} d\varphi \right) \left( \int_0^\pi \sin \theta d\theta \right) \left( \int_0^a r^4 dr \right) \\ &= \left[ \varphi \right]_0^{2\pi} \times \left[ -\cos \theta \right]_0^\pi \times \left[ \frac{r^5}{5} \right]_0^a = \frac{4\pi a^5}{5} \end{aligned}$$

を得る． □

**問 3.57** 錐多重積分の変数変換 錐  $I$  を次の累次積分を計算して求めよ．

$$I = \iiint_D (x^2 + y^2 + z^2) dx dy dz = \int_{-a}^a dx \int_{-\sqrt{a^2-x^2}}^{\sqrt{a^2-x^2}} dy \int_{-\sqrt{a^2-x^2-y^2}}^{\sqrt{a^2-x^2-y^2}} dz (x^2 + y^2 + z^2)$$

□



**例 3.58** 球多重積分の変数変換 3重積分

$$I = \iiint_D x \, dx \, dy \, dz, \quad D = \{ (x, y, z) \mid x^2 + y^2 + z^2 \leq a^2, x \geq 0, y \geq 0, z \geq 0 \}$$

を求める．3次元の極座標に置き換えると領域  $D$  は

$$E = \left\{ (r, \theta, \varphi) \mid 0 \leq r \leq a, 0 \leq \theta \leq \frac{\pi}{2}, 0 \leq \varphi \leq \frac{\pi}{2} \right\}$$

となる．積分は

$$\begin{aligned} I &= \iiint_E (r \sin \theta \cos \varphi) r^2 \sin \theta \, dr \, d\theta \, d\varphi = \int_0^a r^3 \, dr \int_0^{\frac{\pi}{2}} \sin^2 \theta \, d\theta \int_0^{\frac{\pi}{2}} \cos \varphi \, d\varphi \\ &= \left[ \frac{r^4}{4} \right]_0^a \times \left[ \frac{\theta}{2} - \frac{\sin 2\theta}{4} \right]_0^{\frac{\pi}{2}} \times \left[ \sin \varphi \right]_0^{\frac{\pi}{2}} = \frac{\pi}{16} a^4 \end{aligned}$$

と求まる．

□

## § 3.12 演習問題 ~ 多重積分の積分変数の変換

**問 3.59** 二重積分変数の変換 次の多重積分を置換積分により求めよ .

- (1)  $\iint_D (x-y)^2 dx dy, D = \{ (x, y) \mid |x+2y| \leq 1, |x-y| \leq 1 \}$
- (2)  $\iint_D (2x+3y)^2 e^{4x-3y} dx dy, D = \{ (x, y) \mid |2x+3y| \leq 1, |2x-3y| \leq 1 \}$
- (3)  $\iint_D (x+y)^2 dx dy, D = \{ (x, y) \mid -1 \leq y+x \leq 3, -5 \leq y-x \leq 4 \}$
- (4)  $\iint_D (x-y)e^{x+y} dx dy, D = \{ (x, y) \mid 0 \leq x+y \leq 2, 0 \leq x-y \leq 2 \}$

□

**問 3.60** 二重積分変数の変換 次の多重積分を置換積分により求めよ .

- (1)  $\iint_D (x^2 + y^2) dx dy, D = \{ (x, y) \mid x^2 + y^2 \leq a^2 \} \quad (a > 0)$
- (2)  $\iint_D x dx dy, D = \{ (x, y) \mid x^2 + y^2 \leq x \}$
- (3)  $\iint_D \sqrt{1-x^2-y^2} dx dy, D = \{ (x, y) \mid x^2 + y^2 \leq 1 \}$
- (4)  $\iint_D (x+y)^2 dx dy, D = \{ (x, y) \mid x^2 + y^2 \leq 9 \}$
- (5)  $\iint_D x^2 dx dy, D = \{ (x, y) \mid x^2 + y^2 \leq x \}$
- (6)  $\iint_D \frac{dx dy}{(x^2 + y^2)^m}, D = \{ (x, y) \mid a^2 \leq x^2 + y^2 \leq 4a^2 \} \quad (a > 0)$

□

**問 3.61** 三重積分変数の変換 次の多重積分を置換積分により求めよ .

- (1)  $\iiint_D (x^2 + y^2 + z^2) dx dy dz, D = \{ (x, y, z) \mid x^2 + y^2 + z^2 \leq a^2 \} \quad (a > 0)$
- (2)  $\iiint_D x dx dy dz, D = \{ (x, y, z) \mid x^2 + y^2 + z^2 \leq a^2, x \geq 0, y \geq 0, z \geq 0 \}$
- (3)  $\iiint_D (yz + zx) dx dy dz, D = \{ (x, y, z) \mid x^2 + y^2 + z^2 \leq 4, y \geq 0, z \geq 0 \}$

□

**問 3.62** 二重積分変数の変換 次の多重積分を置換積分により求めよ .

- (1)  $\iint_D x^4(y-x^2) dx dy, D = \{ (x, y) \mid 0 \leq y-x^2 \leq 1, -1 \leq x \leq 1 \}$   
(ヒント :  $x = u, y = u^2 + v$ )
- (2)  $\iint_D x^2 dx dy, D = \{ (x, y) \mid x^2/a^2 + y^2/b^2 \leq 1 \} \quad (a > 0, b > 0)$   
(ヒント :  $x = ar \cos \theta, y = br \sin \theta$ )
- (3)  $\iint_D (x+y)^4 dx dy, D = \{ (x, y) \mid x^2 + 2xy + 2y^2 \leq 1 \}$   
(ヒント :  $x+y = u, y = v$ )

□

### § 3.13 体積の計算

**例 3.63** 鋸球の体積 半径  $a$  の球の体積は  $V = 4\pi a^3/3$  である．これを多重積分で求める．  
 (その1) 球を8等分し底面が

$$D = \{ (x, y) \mid x^2 + y^2 \leq a^2, x \geq 0, y \geq 0 \}$$

であり，上面が

$$z = f(x, y) = \sqrt{a^2 - x^2 - y^2}$$

の体積

$$V = 8 \iint_D f(x, y) dx dy = \iint_D \sqrt{a^2 - x^2 - y^2} dx dy$$

として求める．2次元の極座標  $x = r \cos \theta, y = r \sin \theta$  とおくと，領域  $D$  と等価な領域は

$$E = \left\{ (r, \theta) \mid 0 \leq r \leq a, 0 \leq \theta \leq \frac{\pi}{2} \right\}$$

であり，面積素は  $dx dy = r dr d\theta$  となるので，

$$\begin{aligned} V &= 8 \iint_E \sqrt{a^2 - r^2 \cos^2 \theta - r^2 \sin^2 \theta} r dr d\theta = 8 \int_0^a r \sqrt{a^2 - r^2} dr \int_0^{\frac{\pi}{2}} d\theta \\ &= 8 \left[ \frac{2}{3(-2)} (a^2 - r^2)^{\frac{3}{2}} \right]_0^a \times \left[ \theta \right]_0^{\frac{\pi}{2}} = \frac{8a^3}{3} \frac{\pi}{2} = \frac{4\pi}{3} a^3 \end{aligned}$$

と得られる．

(その2) 球を8等分し，領域

$$D = \{ (x, y, z) \mid x^2 + y^2 + z^2 \leq a^2, x \geq 0, y \geq 0, z \geq 0 \}$$

の体積

$$V = 8 \iiint_D dx dy dz$$

として求める．3次元の極座標  $x = r \sin \theta \cos \varphi, y = r \sin \theta \sin \varphi, z = r \cos \theta$  とおくと，領域  $D$  と等価な領域は

$$E = \left\{ (r, \theta, \varphi) \mid 0 \leq r \leq a, 0 \leq \theta \leq \frac{\pi}{2}, 0 \leq \varphi \leq \frac{\pi}{2} \right\}$$

であり，体積素は

$$dx dy dz = r^2 \sin \theta dr d\theta d\varphi$$

となるので，

$$\begin{aligned} V &= 8 \iiint_E r^2 \sin \theta dr d\theta d\varphi = 8 \int_0^a r^2 dr \int_0^{\frac{\pi}{2}} \sin \theta d\theta \int_0^{\frac{\pi}{2}} d\varphi = 8 \left[ \frac{r^3}{3} \right]_0^a \times \left[ -\cos \theta \right]_0^{\frac{\pi}{2}} \times \left[ \varphi \right]_0^{\frac{\pi}{2}} \\ &= 8 \times \frac{a^3}{3} \times 1 \times \frac{\pi}{2} = \frac{4\pi a^3}{3} \end{aligned}$$

と得られる．

□

**例 3.64**

鏢円柱の体積 底面の半径  $a$  , 高さ  $h$  の円柱の体積は  $V = \pi a^2 h$  である . これを多重積分で求める .

(その 1) 円柱の底面が  $xy$  平面にあるとし ,

$$D = \{ (x, y) \mid x^2 + y^2 \leq a^2 \}$$

とおく . 円柱の上面は平面  $z = f(x, y) = h$  である . 円柱の体積は

$$\begin{aligned} V &= \iint_D f(x, y) \, dx dy = \iint_D h \, dx dy = h \iint_D dx dy = h \iint_E r \, dr d\theta = h \int_0^a r \, dr \int_0^{2\pi} d\theta \\ &= h \left[ \frac{r^2}{2} \right]_0^a \times \left[ \theta \right]_0^{2\pi} = \pi a^2 h \end{aligned}$$

と求まる . ただし ,

$$E = \{ (r, \theta) \mid 0 \leq r \leq a, 0 \leq \theta \leq 2\pi \}$$

とする .

(その 2) 円柱の領域は

$$D = \{ (x, y, z) \mid x^2 + y^2 \leq a^2, 0 \leq z \leq h \}$$

と表される . この領域を円筒座標  $x = r \cos \theta, y = r \sin \theta, z = z$  で置き換えると ,  $(r, \theta, z)$  の領域は

$$E = \{ (r, \theta, z) \mid 0 \leq r \leq a, 0 \leq \theta \leq 2\pi, 0 \leq z \leq h \}$$

であり , ヤコビアンは

$$\frac{\partial(x, y, z)}{\partial(r, \theta, z)} = \begin{vmatrix} x_r & y_r & z_r \\ x_\theta & y_\theta & z_\theta \\ x_z & y_z & z_z \end{vmatrix} = \begin{vmatrix} \cos \theta & \sin \theta & 0 \\ -r \sin \theta & r \cos \theta & 0 \\ 0 & 0 & 1 \end{vmatrix} = r$$

であるので ,

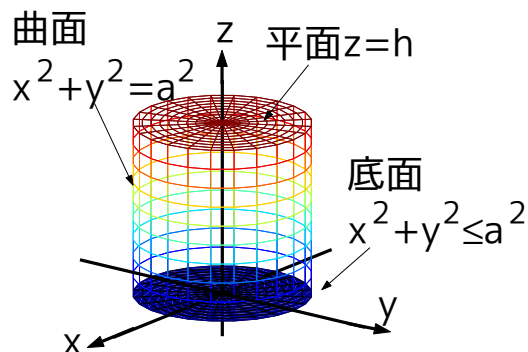
$$dx dy dz = r dr d\theta dz$$

が成り立つ . 円柱の体積は

$$V = \iiint_D dx dy dz = \iiint_E r dr d\theta dz = \int_0^a r \, dr \int_0^{2\pi} d\theta \int_0^h dz = \left[ \frac{r^2}{2} \right]_0^a \times \left[ \theta \right]_0^{2\pi} \times \left[ z \right]_0^h = \pi a^2 h$$

と求まる .

□



**例 3.65**

錐円錐の体積 底面の半径  $a$  , 高さ  $h$  の円錐の体積は  $V = \frac{1}{3}\pi a^2 h$  である . これを多重積分で求める . 円錐の底面は  $xy$  平面にあるとし , その領域を

$$D = \{ (x, y) \mid x^2 + y^2 \leq a^2 \}$$

とおく .  $z$  軸と点  $(x, y, z)$  との距離を  $r = \sqrt{x^2 + y^2}$  とおくと , 円錐の斜面では図 (b) より ,

$$\frac{z}{h} + \frac{r}{a} = 1$$

が成り立つ . よって , 斜面は

$$z = f(x, y) = h - \frac{h\sqrt{x^2 + y^2}}{a}$$

と表される . よって円錐の体積は

$$\begin{aligned} V &= \iint_D f(x, y) \, dx dy = h \iint_D \left( 1 - \frac{\sqrt{x^2 + y^2}}{a} \right) \, dx dy = h \iint_E \left( 1 - \frac{r}{a} \right) r \, dr d\theta \\ &= h \int_0^a \left( r - \frac{r^2}{a} \right) \, dr \int_0^{2\pi} d\theta = h \left[ \frac{r^2}{2} - \frac{r^3}{3a} \right]_0^a \times \left[ \theta \right]_0^{2\pi} = \frac{1}{3}\pi a^2 h \end{aligned}$$

と求まる . ただし , 極座標変換を用いて

$$E = \{ (r, \theta) \mid 0 \leq r \leq a, 0 \leq \theta \leq 2\pi \}$$

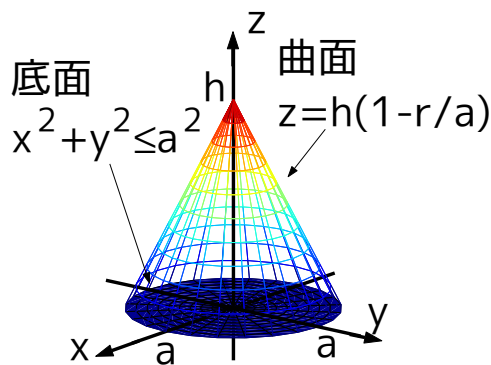
とした . □

**問 3.66**

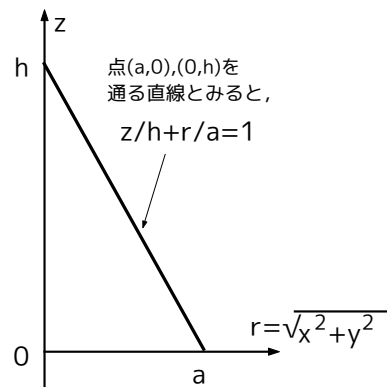
錐円錐の体積 円錐の体積を

$$V = \iiint_D dx dy dz, \quad D = \left\{ (x, y, z) \mid x^2 + y^2 \leq a^2, 0 \leq z \leq h \left( 1 - \frac{\sqrt{x^2 + y^2}}{a} \right) \right\}$$

により求めよ . □



(a) 円錐



(b)  $z = f(x, y)$



**例 3.67** 鑿体積の計算 半球

$$S = \{ (x, y, z) \mid x^2 + y^2 + z^2 \leq a^2, z \geq 0 \}$$

と無限にのびる円柱

$$C = \{ (x, y, z) \mid x^2 + y^2 \leq ax \}$$

の共通部分  $A = S \cap C$  の体積  $V$  を求める．領域  $A$  は

$$A = \{ (x, y, z) \mid z \geq 0, x^2 + y^2 + z^2 \leq a^2, x^2 + y^2 \leq ax \}$$

と表される．領域  $A$  は底面の領域を

$$D = \{ (x, y) \mid x^2 + y^2 \leq ax \}$$

とする曲面  $z = \sqrt{a^2 - x^2 - y^2}$  の体積であるから， $A$  の体積  $V$  は

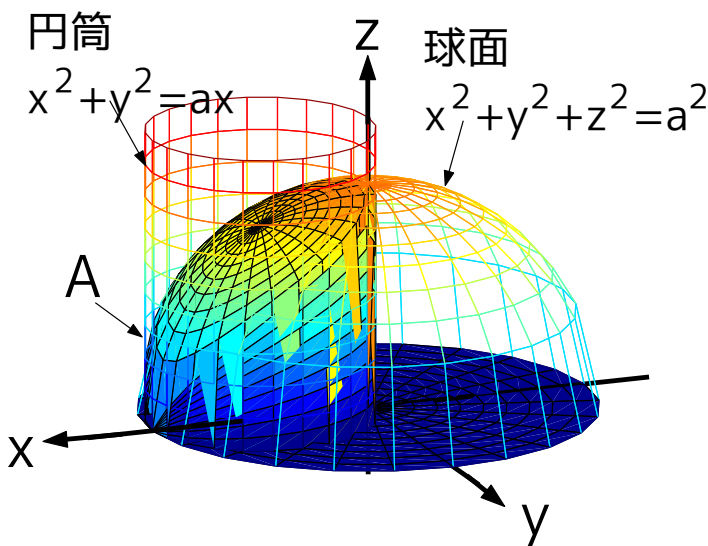
$$\begin{aligned} V &= \iint_D \sqrt{a^2 - x^2 - y^2} \, dx dy = \iint_E r \sqrt{a^2 - r^2} \, dr d\theta = \int_{-\pi/2}^{\pi/2} d\theta \int_0^{a \cos \theta} r \sqrt{a^2 - r^2} \, dr \\ &= \int_{-\pi/2}^{\pi/2} d\theta \left[ \frac{-1}{3} (a^2 - r^2)^{3/2} \right]_0^{a \cos \theta} = \frac{a^3}{3} \int_{-\pi/2}^{\pi/2} (1 - |\sin \theta|^3) \, d\theta = \frac{2a^3}{3} \int_0^{\pi/2} (1 - \sin^3 \theta) \, d\theta \\ &= \frac{2a^3}{3} \int_0^{\pi/2} (1 - \sin \theta + \sin \theta \cos^2 \theta) \, d\theta = \frac{2a^3}{3} \left[ \theta + \cos \theta - \frac{1}{3} \cos^3 \theta \right]_0^{\pi/2} = \left( \frac{\pi}{3} - \frac{4}{9} \right) a^3 \end{aligned}$$

と求まる．ここで 2 次元の極座標  $x = r \cos \theta, y = r \sin \theta$  を用いた．領域は  $E$  は領域  $D$  と等価な領域で

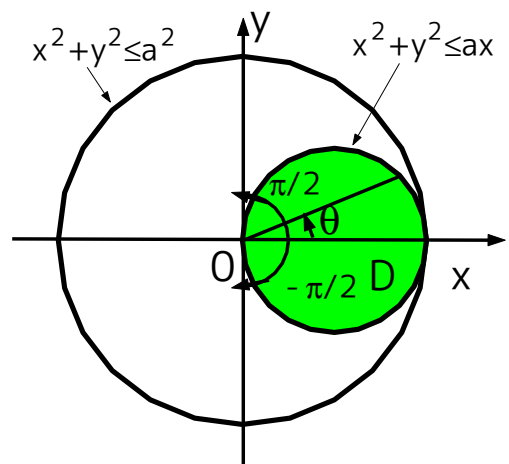
$$E = \left\{ (r, \theta) \mid -\frac{\pi}{2} \leq \theta \leq \frac{\pi}{2}, 0 \leq r \leq a \cos \theta \right\}$$

である．

□



(a)  $A = S \cap C$



(b) 領域  $D$

**例 3.68** 錐体積の計算 球

$$S = \{ (x, y, z) \mid x^2 + y^2 + z^2 \leq 4a^2 \}$$

と円柱

$$C = \{ (x, y, z) \mid x^2 + y^2 \leq a^2 \}$$

の共通部分  $S \cap C$  を球  $S$  から取り除いた領域  $A = S - S \cap C$  の体積  $V$  を求める．領域  $A$  を 8 等分して体積を

$$V = 8 \iint_D \sqrt{4a^2 - x^2 - y^2} \, dx dy, \quad D = \{ (x, y) \mid a^2 \leq x^2 + y^2 \leq 4a^2, x \geq 0, y \geq 0 \}$$

により求める．2次元の極座標変換をすると底面の領域  $D$  は

$$E = \left\{ (x, y) \mid a \leq r \leq 2a, 0 \leq \theta \leq \frac{\pi}{2} \right\}$$

であり，体積は

$$\begin{aligned} V &= 8 \iint_E r \sqrt{4a^2 - r^2} \, dr d\theta = 8 \int_0^{\frac{\pi}{2}} d\theta \int_a^{2a} r \sqrt{4a^2 - r^2} \, dr \\ &= 8 \left[ \theta \right]_0^{\frac{\pi}{2}} \times \left[ \frac{-1}{3} (4a^2 - r^2)^{\frac{3}{2}} \right]_a^{2a} = 8 \frac{\pi}{2} \frac{(\sqrt{3}a)^3}{3} = 4\sqrt{3}\pi a^3 \end{aligned}$$

と求まる．

□

**例 3.69** 錐体積の計算 領域

$$C = \{ (x, y, z) \mid x \geq 0, x^2 + y^2 \leq a^2, 0 \leq z \leq x \}$$

の体積を求める．この領域は円柱  $x^2 + y^2 \leq a^2$  の  $0 \leq z \leq x$  の領域である． $xy$  平面の底面の領域は

$$D = \{ (x, y) \mid x \geq 0, x^2 + y^2 \leq a^2 \}$$

であり，上面は平面となり， $z = f(x, y) = x$  で表される．よって，体積は

$$\begin{aligned} V &= \iint_D x \, dx dy = \iint_E r \cos \theta \, r dr d\theta = \int_0^a r^2 dr \int_{-\frac{\pi}{2}}^{\frac{\pi}{2}} \cos \theta d\theta \\ &= \left[ \frac{r^3}{3} \right]_0^a \times \left[ \sin \theta \right]_{-\frac{\pi}{2}}^{\frac{\pi}{2}} = \frac{2a^3}{3} \end{aligned}$$

と得られる．

□

**問 3.70** 錐体積の計算 錐 2つの円柱

$$C_1 = \{ (x, y, z) \mid x^2 + z^2 \leq a^2 \}, \quad C_2 = \{ (x, y, z) \mid y^2 + z^2 \leq a^2 \}$$

の共通部分  $A = C_1 \cap C_2$  の体積  $V$  を求めよ .

□

### § 3.14 曲面積

**定理 3.71** 錐曲面積 関数  $z = f(x, y)$  による曲面

$$B = \{ (x, y, z) \mid z = f(x, y), (x, y) \in D \}$$

の曲面積は

$$S = \iint_D \sqrt{1 + f_x(x, y)^2 + f_y(x, y)^2} dx dy$$

で与えられる .

□

**例 3.72** 錐球面の表面積 半径  $a$  の球面は

$$B = \{ (x, y, z) \mid x^2 + y^2 + z^2 = a^2 \}$$

である . 表面積  $S$  は 8 等分して

$$\begin{aligned} S &= 8 \iint_D \sqrt{1 + (z_x)^2 + (z_y)^2} dx dy, \\ z &= \sqrt{a^2 - x^2 - y^2}, \\ D &= \{ (x, y) \mid x^2 + y^2 \leq a^2, x \geq 0, y \geq 0 \} \end{aligned}$$

により求まる .  $z$  は  $x^2 + y^2 = a^2$  により定まる陰関数であるから ,

$$z_x = -\frac{x}{z}, \quad z_y = -\frac{y}{z}$$

となる . 被積分関数は

$$\sqrt{1 + (z_x)^2 + (z_y)^2} = \sqrt{1 + \frac{x^2}{z^2} + \frac{y^2}{z^2}} = \sqrt{\frac{x^2 + y^2 + z^2}{z^2}} = \frac{a}{z} = \frac{a}{\sqrt{a^2 - x^2 - y^2}}$$

であらから , 表面積は

$$\begin{aligned} S &= 8a \iint_D \frac{1}{\sqrt{a^2 - x^2 - y^2}} dx dy = 8a \iint_E \frac{r}{\sqrt{a^2 - r^2}} dr d\theta = 8a \int_0^{\frac{\pi}{2}} d\theta \int_0^a \frac{r}{\sqrt{a^2 - r^2}} dr \\ &= 8a \left[ \theta \right]_0^{\frac{\pi}{2}} \times \left[ -\sqrt{a^2 - r^2} \right]_0^a = 4\pi a^2 \end{aligned}$$

と得られる .

□

**例 3.73** 錐曲面積 錐 曲面

$$B = \{ (x, y, z) \mid x^2 + y^2 + z^2 = a^2, x^2 + y^2 \leq ax, z \geq 0 \} \quad (a > 0)$$

の曲面積

$$S = \iint_D \sqrt{1 + (z_x)^2 + (z_y)^2} dx dy, \quad z = \sqrt{a^2 - x^2 - y^2}, \quad D = \{ (x, y) \mid x^2 + y^2 \leq ax \}$$

を求める． $z$  は  $x^2 + y^2 + z^2 = a^2$  により定まる陰関数であるから，

$$z_x = -\frac{x}{z}, \quad z_y = -\frac{y}{z}$$

となり，

$$\sqrt{1 + (z_x)^2 + (z_y)^2} = \sqrt{1 + \frac{x^2}{z^2} + \frac{y^2}{z^2}} = \sqrt{\frac{x^2 + y^2 + z^2}{z^2}} = \sqrt{\frac{a^2}{a^2 - x^2 - y^2}} = \frac{a}{\sqrt{a^2 - x^2 - y^2}}$$

を得る．これを用いると曲面積は

$$\begin{aligned} S &= a \iint_D \frac{1}{\sqrt{a^2 - x^2 - y^2}} dx dy = a \iint_E \frac{r}{\sqrt{a^2 - r^2}} dr d\theta = a \int_{-\frac{\pi}{2}}^{\frac{\pi}{2}} d\theta \int_0^{a \cos \theta} \frac{r}{\sqrt{a^2 - r^2}} dr \\ &= a \int_{-\frac{\pi}{2}}^{\frac{\pi}{2}} d\theta \left[ -\sqrt{a^2 - r^2} \right]_{r=0}^{r=a \cos \theta} = a^2 \int_{-\frac{\pi}{2}}^{\frac{\pi}{2}} (1 - |\sin \theta|) d\theta = 2a^2 \int_0^{\frac{\pi}{2}} (1 - \sin \theta) d\theta \\ &= 2a^2 \left[ \theta + \cos \theta \right]_0^{\frac{\pi}{2}} = (\pi - 2)a^2 \end{aligned}$$

と求まる．

□

### § 3.15 多重積分の広義積分への応用

**例 3.74** 錐多重積分の広義積分への応用 錐 広義積分

$$\int_{-\infty}^{\infty} e^{-x^2} dx = \sqrt{\pi}$$

を求める．関数  $f(x) = \frac{1}{\sqrt{\pi}} e^{-x^2}$  を誤差関数またはガウシアン (Gaussian) といい，正規分布関数に用いられる．

まず，円の内部の領域  $D$  と正方形の領域  $\tilde{D}$  を

$$D(a) = \{ (x, y) \mid x^2 + y^2 \leq a \}, \quad \tilde{D}(a) = \{ (x, y) \mid -a \leq x \leq a, -a \leq y \leq a \}$$

とおき，多重積分

$$I = \iint_{D(a)} e^{-(x^2+y^2)} dx dy, \quad \tilde{I} = \iint_{\tilde{D}(a)} e^{-(x^2+y^2)} dx dy$$

を考える． $I$  を計算すると

$$\begin{aligned} I &= \iint_{D(a)} e^{-(x^2+y^2)} dx dy = \iint_{E(a)} e^{-(r^2 \cos^2 \theta + r^2 \sin^2 \theta)} r dr d\theta = \int_0^{2\pi} d\theta \int_0^a r e^{-r^2} dr \\ &= \left( \int_0^{2\pi} d\theta \right) \left( \int_0^a r e^{-r^2} dr \right) = \left[ \theta \right]_0^{2\pi} \times \left[ -\frac{1}{2} e^{-r^2} \right]_0^a = \pi(1 - e^{-a^2}) \end{aligned}$$

となる．ここで，

$$E(a) = \{ (r, \theta) \mid 0 \leq r \leq a, 0 \leq \theta \leq 2\pi \}$$

である． $\tilde{I}$  を計算すると

$$\begin{aligned} \tilde{I} &= \iint_{\tilde{D}(a)} e^{-(x^2+y^2)} dx dy = \int_{-a}^a e^{-x^2} dx \int_{-a}^a e^{-y^2} dy = \left( \int_{-a}^a e^{-x^2} dx \right) \left( \int_{-a}^a e^{-y^2} dy \right) \\ &= \left( \int_{-a}^a e^{-x^2} dx \right)^2 \end{aligned}$$

となる．

次に，領域  $D(a)$ ,  $\tilde{D}(a)$ ,  $D(\sqrt{2}a)$  を考える．これらは下図 (b) のように包含関係

$$D(a) \subset \tilde{D}(a) \subset D(\sqrt{2}a)$$

があり，領域の面積には

$$S(D(a)) < S(\tilde{D}(a)) < S(D(\sqrt{2}a))$$

と大小関係がある．同じ正の関数に対する異なる領域での多重積分は，領域の面積が大きい方が多重積分の値は大きくなる．よって，

$$\iint_{D(a)} e^{-(x^2+y^2)} dx dy < \iint_{\tilde{D}(a)} e^{-(x^2+y^2)} dx dy < \iint_{D(\sqrt{2}a)} e^{-(x^2+y^2)} dx dy$$

が成り立つ．これは先ほどの計算結果より

$$\pi(1 - e^{-a^2}) < \left( \int_{-a}^a e^{-x^2} dx \right)^2 < \pi(1 - e^{-2a^2})$$

となる． $a \rightarrow \infty$  の極限をとるとはさみうちの定理より，

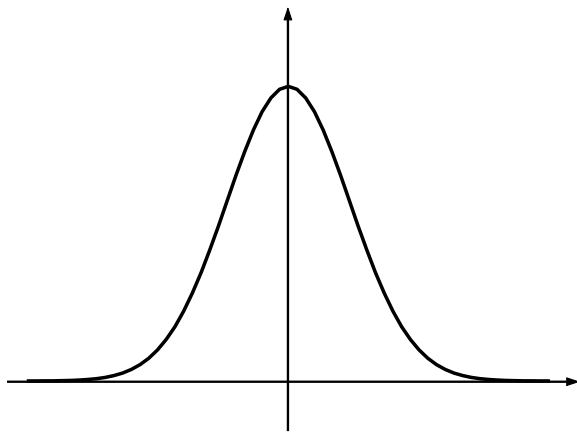
$$\left( \int_{-\infty}^{\infty} e^{-x^2} dx \right)^2 = \pi$$

を得る．よって，

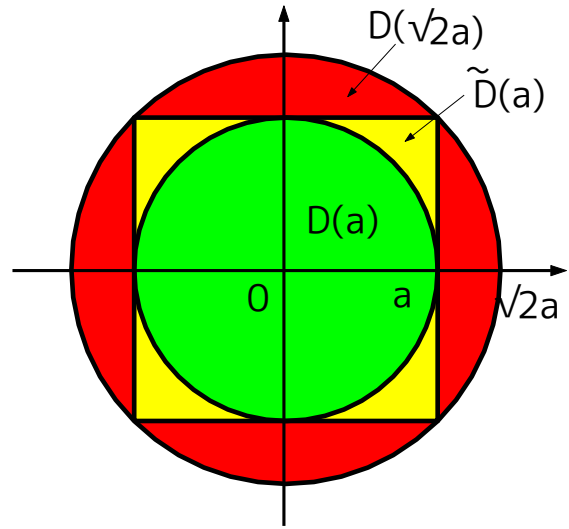
$$\int_{-\infty}^{\infty} e^{-x^2} dx = \sqrt{\pi}$$

が成り立つ．

□



(a)  $e^{-x^2}$



(b) 領域  $D(a), \tilde{D}(a), D(\sqrt{2}a)$

### § 3.16 演習問題 ~ 体積, 曲面積

**問 3.75** 鋸体積鋸 次の立体の体積を多重積分を用いて求めよ.

- (1) 半径  $a$  の球. (2) 底面の半径  $a$ , 高さ  $h$  の円柱. (3) 底面の半径  $a$ , 高さ  $h$  の円錐.
- (4) 半球  $\{(x, y, z) \mid x^2 + y^2 + z^2 \leq a^2, z \geq 0\}$  と円柱  $\{(x, y, z) \mid x^2 + y^2 \leq ax\}$  の共通部分.
- (5) 球  $\{(x, y, z) \mid x^2 + y^2 + z^2 \leq 4a^2\}$  から円柱  $\{(x, y, z) \mid x^2 + y^2 \leq a^2\}$  を除いた領域.
- (6) 円柱  $x^2 + y^2 \leq a^2$  の  $0 \leq z \leq x$  の領域.
- (7) 2つの円柱  $\{(x, y, z) \mid x^2 + z^2 \leq a^2\}, \{(x, y, z) \mid y^2 + z^2 \leq a^2\}$  の共通部分.
- (8) 曲面  $\frac{x^2}{a^2} + \frac{y^2}{b^2} + \frac{z^2}{c^2} = 1$  ( $a, b, c > 0$ ) に囲まれた領域.
- (9) 曲面  $z = x^2 + y^2$  と平面  $x + y + z = 1$  に囲まれた領域.
- (10) 円柱  $x^2 + y^2 = a^2$  ( $a > 0$ ) と2平面  $x + z = a, z = 0$  に囲まれた領域.
- (11) 曲面  $z = x^2 + y^2$ , 円柱  $x^2 + y^2 = 4$  および平面  $z = 0$  に囲まれた領域.
- (12) 曲面  $z = x^2 + y^2$  と平面  $z = 2x$  に囲まれた領域.
- (13) 曲面  $(x^2 + y^2 + z^2)^2 = z$  で囲まれた領域.
- (14) 曲面  $x^2 + y^2 + z^2 = 4, x^2 + y^2 = 3z$  に囲まれた領域.

□

**問 3.76** 鋸曲面積鋸 次の曲面の曲面積を求めよ. ただし  $a > 0$  とする.

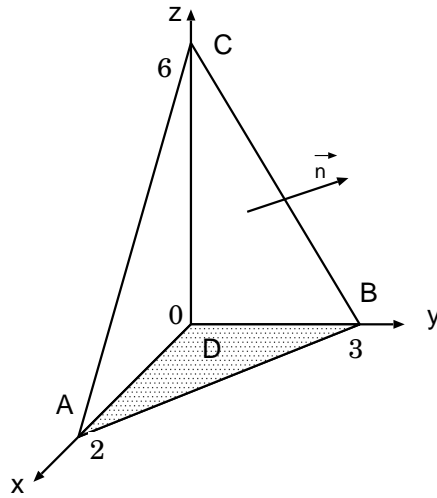
- (1) 半径  $a$  の球の表面. (2) 球面  $x^2 + y^2 + z^2 = a^2$  の  $x^2 + y^2 \leq ax, z \geq 0$  の部分.
- (3)  $\{(x, y, z) \mid x + y + z = a, x \geq 0, y \geq 0, z \geq 0\}$  (4)  $\{(x, y, z) \mid z = xy, x^2 + y^2 \leq a^2\}$
- (5)  $\left\{ (x, y, z) \mid z = \tan^{-1} \frac{y}{x}, x^2 + y^2 \leq a^2, x \geq 0, y \geq 0, z \geq 0 \right\}$
- (6)  $\{(x, y, z) \mid y^2 + z^2 = a^2, x^2 + y^2 \leq a^2\}$  (7)  $\{(x, y, z) \mid y^2 + z^2 = a^2, x^2 + y^2 + z^2 \leq 2a^2\}$
- (8)  $\{(x, y, z) \mid z = x^2 + y^2, z \leq a\}$  (9) 曲面  $z = x^2 + y^2$  と平面  $z = 1$  で囲まれる図形.
- (10) 球面  $x^2 + y^2 + z^2 = 4z$  のうち曲面  $z = x^2 + y^2$  の内部にある部分.
- (11) 曲面  $2z = x^2 + y^2$  のうち円柱  $x^2 + y^2 = 1$  の内部にある部分.
- (12) 球面  $x^2 + y^2 + z^2 = a^2$  の  $z \geq b$  の部分 ( $0 < b < a$ ).

□

**問 3.77** 鋸体積鋸 下図の三角錐について, 次の問に答えよ.

- (1) 3点  $A, B, C$  を通る平面  $H$  の方程式を (i)–(iii) の方法で求めよ.
  - (i) 平面  $H$  を一般形  $ax + by + cz + d = 0$  で表し  $a, b, c, d$  に関して解いて求めよ.
  - (ii) 平面  $H$  を  $\frac{x}{a} + \frac{y}{b} + \frac{z}{c} = 1$  とおいて  $a, b, c$  に関して解いて求めよ.
  - (iii) 平面  $H$  の法線ベクトルを  $\vec{n} = \overrightarrow{AB} \times \overrightarrow{AC}$  により求めて  $H$  の方程式を求めよ.
- (2) 底面の領域  $D$  を  $x$  に関して単純な式で表せ.
- (3) 底面の領域  $D$  の面積  $S(D) = \iint_D dx dy$  を計算せよ.
- (4) 平面  $H$  の方程式を  $z = f(x, y)$  の形で表せ.
- (5) 三角錐の体積を  $V = \iint_D f(x, y) dx dy$  で計算せよ.

(6) 三角形  $ABC$  の面積を  $S(\triangle ABC) = \iint_D \sqrt{1 + (f_x)^2 + (f_y)^2} dx dy$  により求めよ .



□

問 3.78

総多重積分の広義積分への応用 次を示せ .

$$\int_{-\infty}^{\infty} e^{-x^2} dx = \sqrt{\pi}$$

□



## § 3.17 有向曲線

**定義 3.79** 鏢有向曲線鏢 向き付きの曲線

$$C = \{ (x, y) \mid x = \varphi(t), y = \psi(t), t : a \rightarrow b \}$$

を有向曲線 (oriented curve) という .

□

**注意 3.80** 鏢有向曲線鏢 始点と終点が同じであり , 有向曲線が一周してもよい .

□

**例 3.81** 鏢有向曲線鏢 始点  $(1, 1)$  から終点  $(2, 3)$  まで直線的に進む有向曲線は ,

$$C = \{ (x, y) \mid x = t + 1, y = 2t + 1, t : 0 \rightarrow 1 \}$$

と書ける .

□

**例 3.82** 鏢有向曲線鏢 単位円上を始点を  $(1, 0)$  で反時計回りに一周するとき ,  $x, y$  をパラメータ表示すると

$$x = \cos t, \quad y = \sin t, \quad t : 0 \rightarrow 2\pi$$

となる . この有向曲線は

$$C = \{ (x, y) \mid x = \cos t, y = \sin t, t : 0 \rightarrow 2\pi \}$$

と書ける . 時計回りに一周するときは , 有向曲線は

$$C = \{ (x, y) \mid x = \cos t, y = \sin t, t : 2\pi \rightarrow 0 \}$$

と書ける .

□

**定義 3.83** 鏢有向曲線鏢  $a < c < b$  において ,

$$\begin{aligned} C &= \{ (x, y) \mid x = \varphi(t), y = \psi(t), t : a \rightarrow b \}, \\ C_1 &= \{ (x, y) \mid x = \varphi(t), y = \psi(t), t : a \rightarrow c \}, \\ C_2 &= \{ (x, y) \mid x = \varphi(t), y = \psi(t), t : c \rightarrow b \} \end{aligned}$$

であるとき ,

$$C = C_1 + C_2$$

と表記する .

□

**定義 3.84** 鋸有向曲線 鋸 有向曲線

$$C = \{ (x, y) \mid x = \varphi(t), y = \psi(t), t : a \rightarrow b \},$$
$$\tilde{C} = \{ (x, y) \mid x = \varphi(t), y = \psi(t), t : b \rightarrow a \}$$

に対して,

$$\tilde{C} = -C$$

と表記する.

□

### § 3.18 線積分

**定義 3.85** 鋸線積分 関数  $f(x) = \begin{bmatrix} f(x, y) \\ g(x, y) \end{bmatrix}$  に対する有向曲線

$$C = \{ (x, y) \mid x = \varphi(t), y = \psi(t), t : a \rightarrow b \}$$

に関する線積分 (line integral) を

$$\begin{aligned} \int_C \mathbf{f}(x) \cdot d\mathbf{x} &= \int_C f(x, y) dx + g(x, y) dy \\ &= \int_a^b \left( f(x, y) \frac{dx}{dt} + g(x, y) \frac{dy}{dt} \right) dt \\ &= \int_a^b (f(\varphi(t), \psi(t))\varphi'(t) + g(\varphi(t), \psi(t))\psi'(t)) dt \end{aligned}$$

と定義する. 曲線  $C$  を積分路 (integral path) という.

□

**注意 3.86** 鋸線積分 定義より  $g = 0$  のとき  $\int_C f(x, y) dx$  と表記し,  $f = 0$  のとき  $\int_C g(x, y) dy$  と表記する. それぞれは,

$$\begin{aligned} \int_C f(x, y) dx &= \int_a^b f(x, y) \frac{dx}{dt} dt = \int_a^b f(\varphi(t), \psi(t))\varphi'(t) dt, \\ \int_C g(x, y) dy &= \int_a^b g(x, y) \frac{dy}{dt} dt = \int_a^b g(\varphi(t), \psi(t))\psi'(t) dt. \end{aligned}$$

となるので,

$$\int_C f(x, y) dx + g(x, y) dy = \int_C f(x, y) dx + \int_C g(x, y) dy$$

と表記される.

□

**注意 3.87**

鋸線積分 線積分は力学の仕事 (work) である。力  $F$  を加えて距離  $\Delta x$  移動したときの仕事は  $\Delta W = F \cdot \Delta x$  である。経路  $C$  に沿って移動させたときの仕事の総和は

$$W = \sum \Delta W = \sum F \cdot \Delta x = \int_C \mathbf{F}(\mathbf{x}) \cdot d\mathbf{x} = \int_{t=a}^{t=b} \mathbf{F}(\mathbf{x}(t)) \cdot \frac{d\mathbf{x}(t)}{dt} dt$$

となる。

□

**定理 3.88**

鋸線積分 次の関係が成り立つ：

$$(i) \int_{C_1+C_2} \mathbf{f}(\mathbf{x}) \cdot d\mathbf{x} = \int_{C_1} \mathbf{f}(\mathbf{x}) \cdot d\mathbf{x} + \int_{C_2} \mathbf{f}(\mathbf{x}) \cdot d\mathbf{x} \quad (ii) \int_{-C} \mathbf{f}(\mathbf{x}) \cdot d\mathbf{x} = - \int_C \mathbf{f}(\mathbf{x}) \cdot d\mathbf{x}$$

□

**例 3.89**

鋸線積分 線積分

$$I = \int_C (x+y) dx + xy dy, \quad C = \{ (x,y) \mid x=t, y=t^2, t:0 \rightarrow a \}$$

を求める。  $\frac{dx}{dt} = 1, \frac{dy}{dt} = 2t$  を用いて、線積分は

$$I = \int_0^a \left( (t+t^2) \frac{dx}{dt} + t \cdot t^2 \frac{dy}{dt} \right) dt = \int_0^a (t+t^2+2t^4) dt = \left[ \frac{t^2}{2} + \frac{t^3}{3} + \frac{2t^5}{5} \right]_0^a = \frac{a^2}{2} + \frac{a^3}{3} + \frac{2a^5}{5}$$

と求まる。

□

### § 3.19 経路の異なる積分路における線積分

**例 3.90**

鋸線積分 点  $P(1,0)$  から点  $Q(2,1)$  への経路を  $C_1$  と  $C_2$  の 2 通りを考える。

(i) 積分路  $C_1$  は  $P$  から  $Q$  へ直線的に進むとして、

$$C_1 = \{ (x,y) \mid x=t+1, y=t, t:0 \rightarrow 1 \}$$

とする。このとき線積分は

$$\begin{aligned} I &= \int_{C_1} (x-y) dx + y dy = \int_0^1 ((t+1-t) \cdot (t+1)' + t \cdot (t)') dt = \int_0^1 (t+1) dt \\ &= \left[ \frac{t^2}{2} + t \right]_0^1 = \frac{3}{2} \end{aligned}$$

となる。

(ii) 積分路  $C_2$  は  $P$  から点  $(2,0)$  を経由し  $Q$  へ直線的に進むとして、

$$C_2 = C_{21} + C_{22},$$

$$C_{21} = \{ (x,y) \mid x=t+1, y=0, t:0 \rightarrow 1 \},$$

$$C_{22} = \{ (x,y) \mid x=2, y=t, t:0 \rightarrow 1 \}$$

とおく．線積分は

$$\begin{aligned} I &= \int_{C_2} (x-y)dx + y dy = \int_{C_{21}} (x-y)dx + y dy + \int_{C_{22}} (x-y)dx + y dy \\ &= \int_0^1 ((t+1-0) \cdot (t+1)' + 0 \cdot (0)') dt + \int_0^1 ((2-t) \cdot (2)' + t \cdot (t)') dt \\ &= \int_0^1 (t+1) dt + \int_0^1 t dt = \int_0^1 (2t+1) dt = \left[ t^2 + t \right]_0^1 = 2 \end{aligned}$$

となる．

**注意 3.91** 線積分 線積分  $P \rightarrow Q$  への積分路が異なれば積分値も異なる．

**定義 3.92** 線積分 点  $P$  から点  $Q$  への経路によらず線積分が同じとき，その線積分を

$$\int_P^Q f(x) \cdot dx$$

と書く．

## § 3.20 周回積分

**注意 3.93** 周回積分 積分路  $C$  が一周しているとき，線積分  $\int_C f(x) \cdot dx$  を

$$\oint_C f(x) \cdot dx$$

と表記することがある．これを周回積分とも呼ぶ．

**定義 3.94** 領域の境界 領域  $D$  の境界を  $\partial D$  と表記する．このとき内部が進行方向の左手になるように向きを定める（注意）ここで  $\partial$  は偏微分の記号とは全く関係ない．単に記号の形が「ぐるっとまわる」の見えるため．

**例 3.95** 周回積分 線積分

$$I = \oint_C \frac{dx}{y} + \frac{dy}{x}$$

を計算する．ただし，積分路  $C$  は  $x=1, y=4, y=x^2 (x \geq 0)$  で囲まれる領域の境界を正の向きに回るとする．積分路を分割すると，

$$\begin{aligned} C &= C_1 + C_2 + C_3, \\ C_1 &= \{ (x, y) \mid x=t, y=t^2, t: 1 \rightarrow 2 \}, \\ C_2 &= \{ (x, y) \mid x=t, y=4, t: 2 \rightarrow 1 \}, \\ C_3 &= \{ (x, y) \mid x=1, y=t, t: 4 \rightarrow 1 \} \end{aligned}$$

と書ける．線積分は

$$\begin{aligned}
 I &= \int_{C_1} \frac{dx}{y} + \frac{dy}{x} + \int_{C_2} \frac{dx}{y} + \frac{dy}{x} + \int_{C_3} \frac{dx}{y} + \frac{dy}{x} \\
 &= \int_1^2 \left( \frac{1}{t^2} + \frac{2t}{t} \right) dt + \int_2^1 \left( \frac{1}{4} + \frac{0}{t} \right) dt + \int_4^1 \left( \frac{0}{t} + \frac{1}{1} \right) dt \\
 &= \int_1^2 \frac{dt}{t^2} + 2 \int_1^2 dt + \frac{1}{4} \int_2^1 dt + \int_4^1 dt = \left[ -\frac{1}{t} \right]_1^2 + 2(2-1) + \frac{1-2}{4} + (1-4) \\
 &= -\frac{3}{4}
 \end{aligned}$$

となる．

□

**例 3.96** 鏢周回積分鏢 周回積分

$$I = \frac{1}{2} \oint_C xdy - ydx$$

を求める．ただし，積分路は  $C = C_1 + C_2$ ， $C_1$ : 中心は原点，半径  $2a$  の円を正の向きに一周， $C_2$ : 中心は原点，半径  $a$  の円を負の向きに一周とする．積分路は

$$C_1 = \{ (x, y) \mid x = 2a \cos t, y = 2a \sin t, t : 0 \rightarrow 2\pi \},$$

$$C_2 = \{ (x, y) \mid x = a \cos t, y = a \sin t, t : 2\pi \rightarrow 0 \}$$

と書けるので，線積分は

$$\begin{aligned}
 I &= \frac{1}{2} \oint_{C_1} xdy - ydx + \frac{1}{2} \oint_{C_2} xdy - ydx \\
 &= \frac{1}{2} \int_0^{2\pi} ((2a \cos t)(2a \cos t) - (2a \sin t)(-2a \sin t)) dt + \frac{1}{2} \int_{2\pi}^0 ((a \cos t)(a \cos t) - (a \sin t)(-a \sin t)) dt \\
 &= \frac{4a^2}{2} \int_0^{2\pi} dt + \frac{a^2}{2} \int_{2\pi}^0 dt = \frac{4a^2}{2} \int_0^{2\pi} dt - \frac{a^2}{2} \int_0^{2\pi} dt = \frac{3a^2}{2} \int_0^{2\pi} dt = 3\pi a^2
 \end{aligned}$$

と求まる．

□

## § 3.21 線積分と多重積分

**定理 3.97** 鏢グリーンの定理鏢 領域  $D$  内で関数  $f(x)$  が連続なとき，

$$\oint_{\partial D} f(x) \cdot dx = \oint_{\partial D} f(x, y) dx + g(x, y) dy = \iint_D \left( \frac{\partial g(x, y)}{\partial x} - \frac{\partial f(x, y)}{\partial y} \right) dx dy$$

が成り立つ．

(証明)  $D$  が  $x$  に関して単純な領域

$$\begin{aligned}\partial D &= C_1 + C_2 + C_3 + C_4, \\ C_1 &= \{ (x, y) \mid x = t, y = \varphi_1(t), t : a \rightarrow b \}, \\ C_2 &= \{ (x, y) \mid x = b, y = t\varphi_2(b) + (1-t)\varphi_1(b), t : 0 \rightarrow 1 \}, \\ C_3 &= \{ (x, y) \mid x = t, y = \varphi_2(t), t : b \rightarrow a \}, \\ C_4 &= \{ (x, y) \mid x = a, y = t\varphi_2(a) + (1-t)\varphi_1(a), t : 1 \rightarrow 0 \}\end{aligned}$$

であるとき,

$$\oint_{\partial D} f(x, y)dx + g(x, y)dy = \oint_{\partial D} f(x, y)dx + \oint_{\partial D} g(x, y)dy$$

より,

$$\begin{aligned}\oint_{\partial D} f(x, y) dx &= \int_{C_1} f(x, y) dx + \int_{C_2} f(x, y) dx + \int_{C_3} f(x, y) dx + \int_{C_4} f(x, y) dx \\ &= \int_a^b f(t, \varphi_1(t)) dt + 0 + \int_b^a f(t, \varphi_2(t)) dt + 0 \\ &= - \int_a^b (f(t, \varphi_2(t)) - f(t, \varphi_1(t))) dt = - \int_a^b (f(x, \varphi_2(x)) - f(x, \varphi_1(x))) dx \\ &= - \int_a^b dx \left[ f(x, y) \right]_{y=\varphi_1(x)}^{y=\varphi_2(x)} = - \int_a^b dx \int_{\varphi_1(x)}^{\varphi_2(x)} \frac{\partial f(x, y)}{\partial y} dy \\ &= - \int_a^b \int_{\varphi_1(x)}^{\varphi_2(x)} \frac{\partial f(x, y)}{\partial y} dx dy = - \iint_D \frac{\partial f(x, y)}{\partial y} dx dy\end{aligned}$$

が成り立つ. 任意に与えられた領域を  $x$  に関して単純な領域として分割し, 積分を求める. このとき重なり合う境界は向きが異なるので, 積分値は符号が反転し相殺しあう. よって, 任意の領域に対しても上式が成立する. 同様にして  $D$  が  $y$  に関して単純な領域であるとする

$$\oint_{\partial D} g(x, y) dy = \iint_D \frac{\partial g(x, y)}{\partial x} dx dy$$

が成り立つ. これらを合わせてグリーンの定理を得る. □

**注意 3.98** 鋸グリーンの定理 鋸 グリーンの定理は線積分と多重積分の移り合いを表す. □

**例 3.99** 鋸グリーンの定理の使用例 鋸  $C$  を半径  $a$  の円上を 1 周する有向曲線

$$C = \{ (x, y) \mid x = a \cos t, y = a \sin t, t : 0 \rightarrow 2\pi \}$$

とする. このとき  $C$  の内部の領域は

$$D = \{ (x, y) \mid x^2 + y^2 \leq a^2 \}$$

である．領域  $D$  において関数  $f(x, y) = y, g(x, y) = -x$  は連続であるから，線積分

$$I = \oint_C y dx - x dy$$

はグリーンの定理が適用でき，

$$I = \iint_D (g_x - f_y) dx dy = \iint_D (-1 - 1) dx dy = -2 \iint_D dx dy = -2 \int_0^a r dr \int_0^{2\pi} d\theta = -2\pi a^2$$

と計算される．

□

**例 3.100** 緑グリーンの定理 線積分

$$I = \oint_C \frac{dx}{y} + \frac{dy}{x}$$

を計算する．ただし，積分路  $C$  は  $x = 1, y = 4, y = x^2 (x \geq 0)$  で囲まれる領域の境界を正の向きに回るとする．積分路  $C$  内の領域を

$$D = \{ (x, y) \mid 1 \leq x \leq 2, x^2 \leq y \leq 4 \}$$

とおく．領域  $D$  内で  $f(x, y) = \frac{1}{y}, g(x, y) = \frac{1}{x}$  は連続であるから，グリーンの定理が適用可能である．これを用いると，

$$\begin{aligned} I &= \iint_D (g_x - f_y) dx dy = \iint_D \left( -\frac{1}{x^2} + \frac{1}{y^2} \right) dx dy = \int_1^2 dx \int_{x^2}^4 \left( -\frac{1}{x^2} + \frac{1}{y^2} \right) dy \\ &= \int_1^2 dx \left[ -\frac{y}{x^2} - \frac{1}{y} \right]_{y=x^2}^{y=4} = \int_1^2 dx \left( -\frac{3}{x^2} + \frac{3}{4} \right) = \left[ \frac{3}{x} + \frac{3}{4}x \right]_{x=1}^{x=2} = -\frac{3}{4} \end{aligned}$$

と求まる．

□

**例 3.101** 緑グリーンの定理 周回積分

$$I = \frac{1}{2} \oint_C x dy - y dx$$

を求める．ただし，積分路は  $C = C_1 + C_2$ ,  $C_1$ : 中心は原点，半径  $2a$  の円を正の向きに一周， $C_2$ : 中心は原点，半径  $a$  の円を負の向きに一周とする． $C$  の内部の領域は

$$D = \{ (x, y) \mid a^2 \leq x^2 + y^2 \leq 4a^2 \}$$

である．領域  $D$  内で関数  $f(x, y) = -y, g(x, y) = x$  は連続であるから，グリーンの定理が適用可能である．線積分は

$$I = \frac{1}{2} \iint_D (g_x - f_y) dx dy = \iint_D dx dy$$

と多重積分に変わる．極座標に置換積分すると， $(r, \theta)$  座標では

$$E = \{ (r, \theta) \mid a \leq r \leq 2a, 0 \leq \theta \leq 2\pi \}$$

であるから，

$$I = \iint_E r \, dr d\theta = \int_a^{2a} r \, dr \int_0^{2\pi} d\theta = \left[ \frac{r^2}{2} \right]_{r=a}^{r=2a} \times \left[ \theta \right]_0^{2\pi} = 3\pi a^2$$

となる．

□

**例 3.102** 緑グリーンの定理が使用不可な例 緑 線積分

$$I = \oint_C \frac{-y}{x^2 + y^2} dx + \frac{x}{x^2 + y^2} dy, \quad C = \{ (x, y) \mid x = \cos t, y = \sin t, t : 0 \rightarrow 2\pi \}$$

を考える． $C$  は単位円上を 1 周する有向曲線であり， $C$  の内部の領域は

$$D = \{ (x, y) \mid x^2 + y^2 \leq 1 \}$$

である．関数

$$f(x, y) = \frac{-y}{x^2 + y^2}, \quad g(x, y) = \frac{x}{x^2 + y^2}$$

は原点で連続ではないので，領域  $D$  のすべての点において関数  $f, g$  は連続ではないからグリーンの定理は適用できない．

誤りではあるが，グリーンの定理を適用して計算すると，

$$f_y = \frac{-x^2 + y^2}{(x^2 + y^2)^2}, \quad g_x = \frac{-x^2 + y^2}{(x^2 + y^2)^2}, \quad g_x - f_y = 0$$

より，

$$I = \oint_C \frac{-y}{x^2 + y^2} dx + \frac{x}{x^2 + y^2} dy = \iint_D (g_x - f_y) dx dy = \iint_D 0 \, dx dy = 0$$

となる．正しくは，

$$\begin{aligned} I &= \oint_C \frac{-y}{x^2 + y^2} dx + \frac{x}{x^2 + y^2} dy = \int_0^{2\pi} \left( \frac{-\sin t}{\cos^2 t + \sin^2 t} (-\sin t) + \frac{\cos t}{\cos^2 t + \sin^2 t} \cos t \right) dt \\ &= \int_0^{2\pi} dt = 2\pi \end{aligned}$$

と得られる．

□

## § 3.22 経路に依存しない線積分

**定理 3.103** 緑グリーンの定理の使用例 緑  $f(x)$  が  $D$  で連続でかつ  $g_x = f_y$  のとき，

$$\oint_{\partial D} f(x) \cdot dx = \iint_D (g_x - f_y) dx dy = 0$$

が成り立つ．

□



**例 3.104** 鋸グリーンの定理の使用例 鋸 任意の周回積分路  $C$  に対して,

$$I = \oint_C xy^2 dx + x^2y dy = 0$$

$$I = \oint_C \sin(x^2 + 3x + e^{x^2}) dx + (y + y^5)e^{y^2-y} dy = 0$$

が成り立つ.

□

**注意 3.105** 鋸経路によらない線積分 鋸 任意の周回積分路  $C$  に対して,

$$I = \oint_C f(x, y) dx + g(x, y) dy = 0$$

のとき, 点  $P$  から点  $Q$  への任意の積分路  $C_1$  に対する線積分は一定となる. なぜなら, 2つの異なる点  $P$  から点  $Q$  への積分路を  $C_1, C_2$  とする. このとき  $C_1 - C_2 = C$  は周回する積分路となる. よって

$$I = \oint_C \mathbf{f}(\mathbf{x}) \cdot d\mathbf{x} = \int_{C_1-C_2} \mathbf{f}(\mathbf{x}) \cdot d\mathbf{x} = \int_{C_1} \mathbf{f}(\mathbf{x}) \cdot d\mathbf{x} - \int_{C_2} \mathbf{f}(\mathbf{x}) \cdot d\mathbf{x} = 0$$

より,

$$\int_{C_1} \mathbf{f}(\mathbf{x}) \cdot d\mathbf{x} = \int_{C_2} \mathbf{f}(\mathbf{x}) \cdot d\mathbf{x} = \int_P^Q \mathbf{f}(\mathbf{x}) \cdot d\mathbf{x}$$

を得る.

□

**例 3.106** 鋸経路に依存しない線積分 鋸 任意の周回積分路に関して,

$$\oint_C xy^2 dx + x^2y dy = 0$$

が成り立つ. よって, 任意の点  $P, Q$  に対して線積分

$$I = \int_P^Q xy^2 dx + x^2y dy$$

は積分の経路に依存しない. 例えば  $P(1, 0), Q(2, 1)$  とする.  $P$  から  $Q$  を直線的に進む経路を

$$C_1 = \{ (x, y) \mid x = t + 1, y = t, t : 0 \rightarrow 1 \}$$

とする. このとき線積分は

$$I = \int_{C_1} xy^2 dx + x^2y dy = \int_0^1 ((t+1)t^2 + (t+1)^2t) dt = \int_0^1 (2t^3 + 3t^2 + t) dt$$

$$= \left[ \frac{t^4}{2} + t^3 + \frac{t^2}{2} \right]_0^1 = 2$$

となる．また， $P$  から点  $(2, 0)$  を経由し  $Q$  へ進む経路を

$$\begin{aligned} C_2 &= C_{21} + C_{22}, \\ C_{21} &= \{ (x, y) \mid x = t + 1, y = 0, t : 0 \rightarrow 1 \}, \\ C_{22} &= \{ (x, y) \mid x = 2, y = t, t : 0 \rightarrow 1 \} \end{aligned}$$

とする．このとき線積分は

$$I = \int_{C_2} xy^2 dx + x^2y dy = \int_0^1 (0 + 0)dt + \int_0^1 (0 + 2^2t)dt = \int_0^1 4t dt = \left[ 2t^2 \right]_0^1 = 2$$

となる．異なる積分路  $C_1, C_2$  に対して積分の値は等しい．他の経路に対しても同じ値をもつので，

$$I = \int_{(1,0)}^{(2,1)} xy^2 dx + x^2y dy = 2$$

と書ける．

□

### § 3.23 線積分による面積の計算

**注意 3.107** 鋸線積分による面積の計算 領域  $D$  とのその周回  $\partial D$  に対して周回積分

$$I = \oint_{\partial D} x dy - y dx$$

を考える． $f = -y, g = x$  は  $\mathbb{R}^2$  全体で連続であるから，領域  $D \subset \mathbb{R}^2$  でも連続であり，グリーンの定理が適用可能である．よって

$$I = \iint_D (g_x - f_y) dx dy = \iint_D (1 - (-1)) dx dy = 2 \iint_D dx dy = 2S(D)$$

が成り立つ．よって  $I$  は領域  $D$  の面積  $S(D)$  の 2 倍となる．

□

**例 3.108** 鋸線積分による面積の計算 領域

$$D = \{ (x, y) \mid x \leq \cos t, y \leq \sin^5 t, 0 \leq t \leq 2\pi \}$$

の面積を求める．面積は

$$S(D) = \frac{I}{2} = \frac{1}{2} \oint_{\partial D} x dy - y dx$$

と表される．ただし，境界線は

$$\partial D = \{ (x, y) \mid x = \cos t, y = \sin^5 t, t : 0 \rightarrow 2\pi \}$$

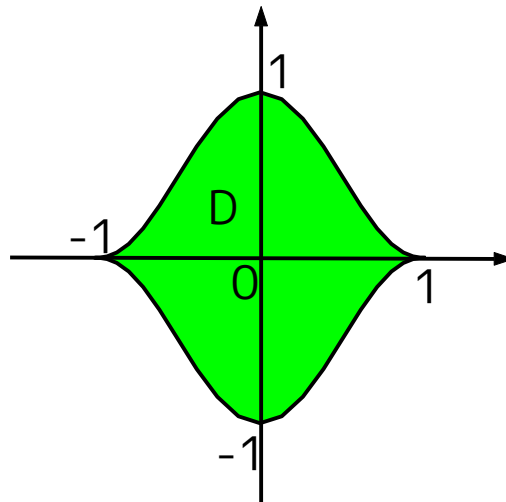
である．線積分を計算すると

$$\begin{aligned} I &= \oint_{\partial D} x dy - y dx = \int_0^{2\pi} (\cos t \times 5 \sin^4 t \cos t - \sin^5 t \times (-\sin t)) dt \\ &= \int_0^{2\pi} (5 \sin^4 t \cos^2 t + \sin^6 t) dt = \int_0^{2\pi} (1 + 2 \cos^2 t - 7 \cos^4 t + 4 \cos^6 t) dt \\ &= \int_0^{2\pi} \left( \frac{3}{4} - \cos 2t - \frac{1}{4} \cos^2 2t + \frac{1}{2} \cos^3 2t \right) dt = \int_0^{2\pi} \left( \frac{5}{8} - \frac{1}{2} \cos 2t - \frac{1}{8} \cos 4t - \frac{1}{2} \cos 2t \sin^2 2t \right) dt \\ &= \left[ \frac{5t}{8} - \frac{\sin 2t}{4} - \frac{\sin 4t}{32} - \frac{\sin^3 2t}{12} \right]_0^{2\pi} = \frac{5\pi}{4} \end{aligned}$$

となる．よって面積は

$$S(D) = \frac{I}{2} = \frac{1}{2} \frac{5\pi}{4} = \frac{5\pi}{8}$$

と求まる．



□

### § 3.24 演習問題 ~ 線積分

**問 3.109** 線積分 積分路  $C$  を図示しパラメータ表示し, 線積分  $I$  を求めよ.

- (1)  $\int_C (x+y) dx + xy dy, C = \{ (x,y) \mid x=t, y=t^2, t:0 \rightarrow a \}$
- (2)  $\int_C (x+y) dx + (x+y) dy, C$ : 曲線  $y=x^2$  上で点  $(0,0)$  から  $(2,4)$  へ移動.
- (3)  $\int_C x^2 y dx + e^{x^2} dy, C$ : 曲線  $y=x^2$  上で点  $(-1,1)$  から  $(3,9)$  へ移動.
- (4)  $\int_C (x-y) dx + y dy, C$ : 点  $(1,0)$  から  $(2,1)$  へ直線的に移動.
- (5)  $\int_C (x-y) dx + y dy, C$ : 点  $(1,0)$  から  $(2,0)$  へ直線的に移動, さらに  $(2,0)$  から  $(2,1)$  へ直線的に移動.
- (6)  $\int_C (x^2+y^2) dx + 2xy dy, C$ : 点  $(2,1)$  から 点  $(5,-3)$  へ直線的に移動.
- (7)  $\int_C x^2 dx + 2xy dy, C$ :  $(1,1)$  から 点  $(-1,3)$  へ直線的に移動.
- (8)  $\oint_C \frac{-y}{x^2+y^2} dx + \frac{x}{x^2+y^2} dy, C = \{ (x,y) \mid x=\cos t, y=\sin t, t:0 \rightarrow 2\pi \}$
- (9)  $\oint_C y^2 dx + x^2 dy, C$ :  $x^2+y^2=1$  上を正方向に一周.
- (10)  $\oint_C y dx + x dy, C$ :  $\frac{x^2}{a^2} + \frac{y^2}{b^2} = 1$  上を正方向に一周.
- (11)  $\oint_C xy dx + x^2 dy, C$ : 単位円を点  $(1,0)$  から 点  $(0,1)$  へ正方向に移動.
- (12)  $\oint_C (x^2+y) dx + (x-y^2) dy, C$ :  $y=x$  と  $y=x^2$  で囲まれる領域の境界を正の向きに一周.
- (13)  $\oint_C \frac{dx}{y} + \frac{dy}{x}, C$ :  $x=1, y=4, y=x^2 (x \geq 0)$  で囲まれる領域の境界を正の向きに回る曲線.
- (14)  $\frac{1}{2} \oint_C x dy - y dx, C = C_1 + C_2, C_1$ : 中心は原点, 半径  $2a$  の円を正の向きに一周,  $C_2$ : 中心は原点, 半径  $a$  の円を負の向きに一周. □

**問 3.110** 線積分 グリーン の定理 次の線積分をグリーン の定理を用いて計算せよ.

- (1)  $\oint_C y dx - x dy, C = \{ (x,y) \mid x=a \cos t, y=a \sin t, t:0 \rightarrow 2\pi \}$
- (2)  $\oint_C xy^2 dx + x^2 y dy, C$ : 単位円上を正方向に一周.
- (3)  $\oint_C \sin(x^2+3x+e^{x^2}) dx + (y+y^5)e^{y^2-y} dy, C$ : 単位円上を正方向に一周.
- (4)  $\oint_C (e^{x^2}+y) dx + (y^5+x^2) dy, C$ : 単位円上を正方向に一周.
- (5)  $\oint_C (y^2-y) dx + (3y^2x-x) dy, C$ : 単位円上を正方向に一周.

(6)  $\oint_C (xy^2 + 2x - y) dx + (x^2y - x + 3y^2) dy$ ,  $C$ : 単位円上を正方向に一周 .

(7)  $\oint_C (x^2 + 2x^2y - y^3) dx + (x^3 - 2x^2 - 2xy^2) dy$ ,  $C$ : 単位円上を正方向に一周 .

(8)  $\oint_C 2xy dx + (x + x^2) dy$ ,  $C$ : 単位円上を正方向に一周 .

(9)  $\oint_C \frac{dx}{y} + \frac{dy}{x}$ ,  $C$ :  $x = 1, y = 4, y = x^2 (x \geq 0)$  で囲まれる領域の境界を正の向きに回る曲線 .

(10)  $\frac{1}{2} \oint_C xdy - ydx$ ,  $C = C_1 + C_2$ ,  $C_1$ : 中心は原点, 半径  $2a$  の円を正の向きに一周,  $C_2$ : 中心は原点, 半径  $a$  の円を負の向きに一周 . □

**問 3.111** 鋸線積分による面積の計算 単一曲線内  $C$  で囲まれる領域  $D$  の面積  $S$  は

$$S = \oint_C xdy = - \oint_C ydx = \frac{1}{2} \oint_C xdy - ydx$$

で与えられることをグリーンの定理を用いて示せ . ただし,  $C$  は正の向きにまわる曲線とする .

□

**問 3.112** 鋸線積分による面積の計算 次の曲線  $C$  で囲まれてできる領域  $D$  の面積  $S$  を

$S(D) = \frac{1}{2} \oint_{\partial D} x dy - y dx$  により求めよ .

(1) アステロイド  $C = \{ (x, y) \mid x = a \cos^3 t, y = a \sin^3 t, 0 \leq t \leq 2\pi \}$

(2) カーディオイド  $D = \{ (x, y) \mid x = r \cos t, y = r \sin t, r = a(1 + \cos t), 0 \leq t \leq 2\pi \}$

(3)  $C = \{ (x, y) \mid x = \cos t, y = \sin^5 t, 0 \leq t \leq 2\pi \}$  □

**問 3.113** 鋸経路に依存しない線積分 次の線積分  $I$  の値を求めよ .

(1)  $\int_{(1,0)}^{(2,1)} xy^2 dx + x^2y dy$

(2)  $\int_{(0,0)}^{(1,2)} (3x^2y - y^2 + 2x) dx + (x^3 - 2xy + y^3) dy$

(3)  $\int_{(0,0)}^{(1,2)} (2xe^y + 2ye^{2x} - x) dx + (x^2e^y + e^{2x} + y^2) dy$  □